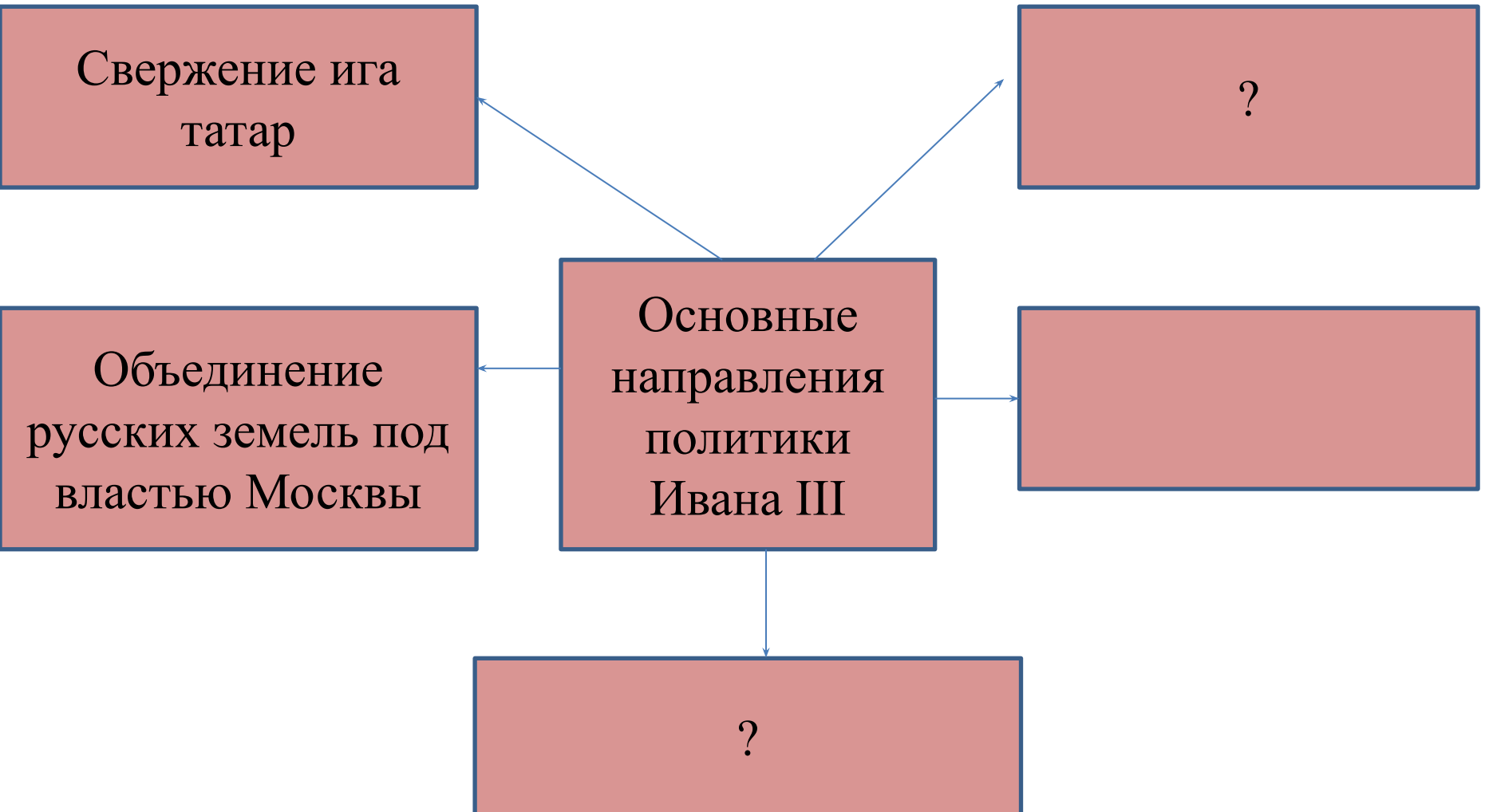


Тематическое тестирование по теме «Создание единого Русского государства»

- Содействовать закреплению знаний учащихся об основных направлениях внутренней и внешней политики Ивана III и Василия III, основных этапах объединения русских земель.
- Содействовать формированию навыков работы с источниками, умению анализировать факты, события, давать им оценку, сравнивать обобщать, формулировать выводы.
- Содействовать формированию критического мышления, самостоятельности суждений.

А-2. Заполните пропуски в схеме
«Основные направления политики Ивана III»



А-4.

Ниже приведён перечень исторических персоналий. Все, кроме двух, относятся к периоду правления Ивана III:

- 1. Марфа Борецкая
- 2. Казимир IV Ягайлович
- 3. Тверской князь Михаил
- 4. Василий I
- 5. Ахмат
- 6. Дмитрий Шемяка
- Ответ:-----

А-5.

Выберите правильный ответ

- Кто из правителей русских земель первым принял титул «Государь всея Руси»:
- А) Иван III
- Б) Дмитрий Донской
- В) Василий III
- Г) Иван Калита
- Д) Василий II
- Ответ:-----

А-6.

Выберите правильный ответ

- Время перехода крестьян от одного владельца к другому, закрепленное Судебником 1497 года, носило название:
- А) заповедные лета
- Б) Юрьев день
- В) отходничество
- Г) урочные лета
- Д) отработка
- Ответ:-----

А-7.

Прочитайте отрывок из сочинения историка Карамзина и назовите имя государя, о котором идет речь

- «... Рожденный и воспитанный данником Золотой Орды, сделался одним из знаменитейших государей в Европе: без учения, без наставлений, руководствуемый только природным умом, силой и хитростью восстанавливая свободу и целостность России, губя царство Батыево, тесня Литву, сокрушая вольность новгородскую, захватывая уделы, расширяя владения московские... Он как человек не имел любезных свойств ни Мономаха, ни Донского, но стоит как государь на высшей ступени величия ».
- Ответ:-----

А-8.

Расставьте в хронологической последовательности территории, присоединенные в период правления Ивана III и Василия III.

- А) Новгород;
- Б) Смоленск
- В) Рязань
- Г) Тверь
- Д) Псков

• Ответ:

1	2	3	4	5

А-9.

Проанализируйте фрагмент Никоновской летописи и ответьте на вопросы:


- “В лето 1480. того же лета безбожный царь Ахмат Большой Орды пошел на православное христианство, на Русь...похваляясь разорить святые церкви и все православие пленить... Князь же великий Иван Васильевич, слышав то, начал отпускать к Оке на берег своих воевод с силою... и повелел там идти сыну своему князю Ивану Ивановичу и брату своему князю Андрею Васильевичу меньшему к Калуге к Угре на берег.
- И придя заняли они броды и перевозы... царь Ахмат со своими татарами пошел по Литовской земле... пришел к угре и стал на другом берегу противу великого князя... И начяша стрелять наших, а наши начяша их стрелять из луков и пищалей...Когда же река стала, тогда князь великий велел сыну своему и брату и всем воеводам со всеми силами отступить от берега и прити к себе на Кременец, боясь татарского перехода. Когда же отступили сыновья русские от берега, тогда татары, страхом одержимые, побежали, думая, что берег отдает им Русь и хочет с ними биться.”
- **Вопросы :**
- 1.Где произошла встреча противников?
- 2.Почему монголо-татары отступили?
- 3.Почему это событие назвали не битвой, а стоянием?
- 4.Какие значения имела для русских земля, стоявшая на реке Угре?

А-10. Какую информацию вы можете извлечь из содержания иллюстраций?

1



2



**Василий III на фоне
Герба Московии.**


A-11.

Какую информацию вы можете извлечь из содержания иллюстраций?

1



2



A-12.

Внесите пропуски в схему « Управление Российским государством при Иване III»

- Органы центральной власти

