

ДРЕВНИЙ ВОСТОК

УРОК ОБОБЩЕНИЯ
(история древнего мира, 6 класс)

МАТЕРИАЛ ПОДГОТОВЛЕН
учителем истории
КГУ ОШ № 155 города Алматы
ОКУНЕВОЙ ТАТЬЯНОЙ ЮРЬЕВНОЙ

Цели урока:

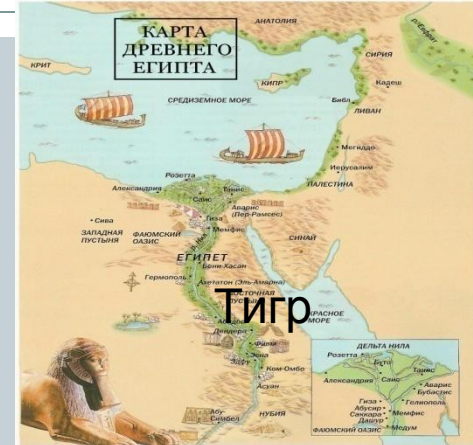


- **закрепление, систематизация знаний по главе, устранение пробелов, максимально использовать повторение пройденного материала**
- **развитие ЗУН : анализа, логического мышления, переноса имеющихся знаний в новой ситуации**
- **воспитание добросовестного отношения к труду; мотивов учения, положительного отношения к знаниям**

1 задание: «ИСТОРИЧЕСКАЯ КАРТА»

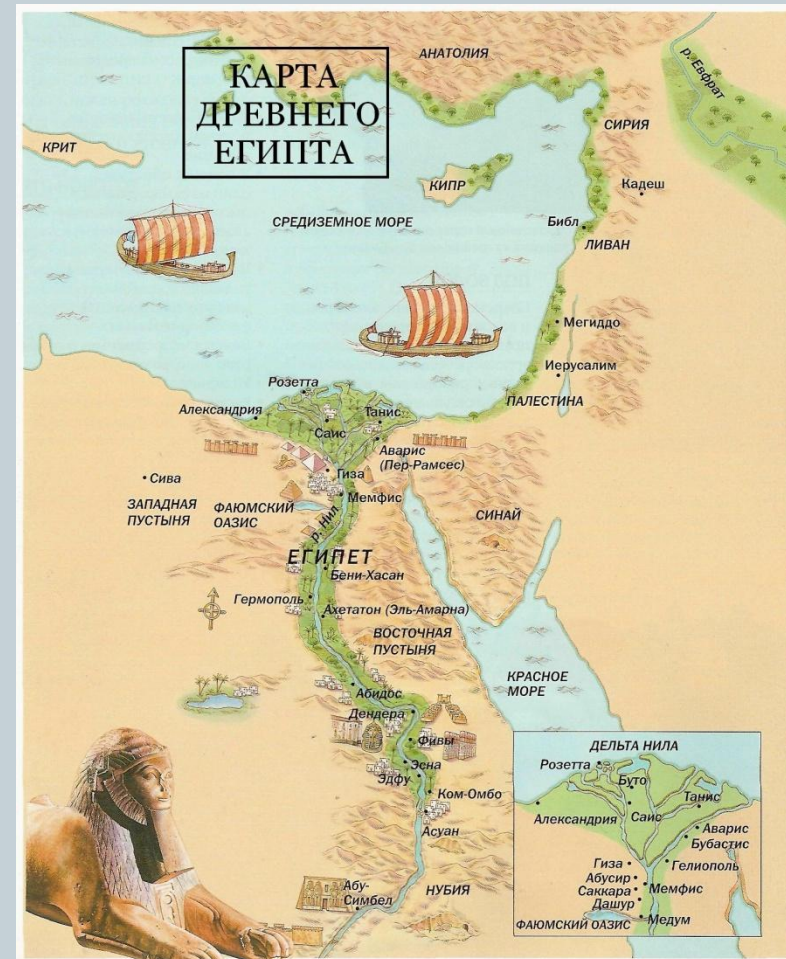


Найдите ошибки на картах стран Древнего Востока



ПРАВИЛЬНЫЕ ОТВЕТЫ

Египет расположен на северо-востоке Африки. По этой земле протекает самая большая и длинная река в мире – **Нил**



ШУМЕР И АККАД

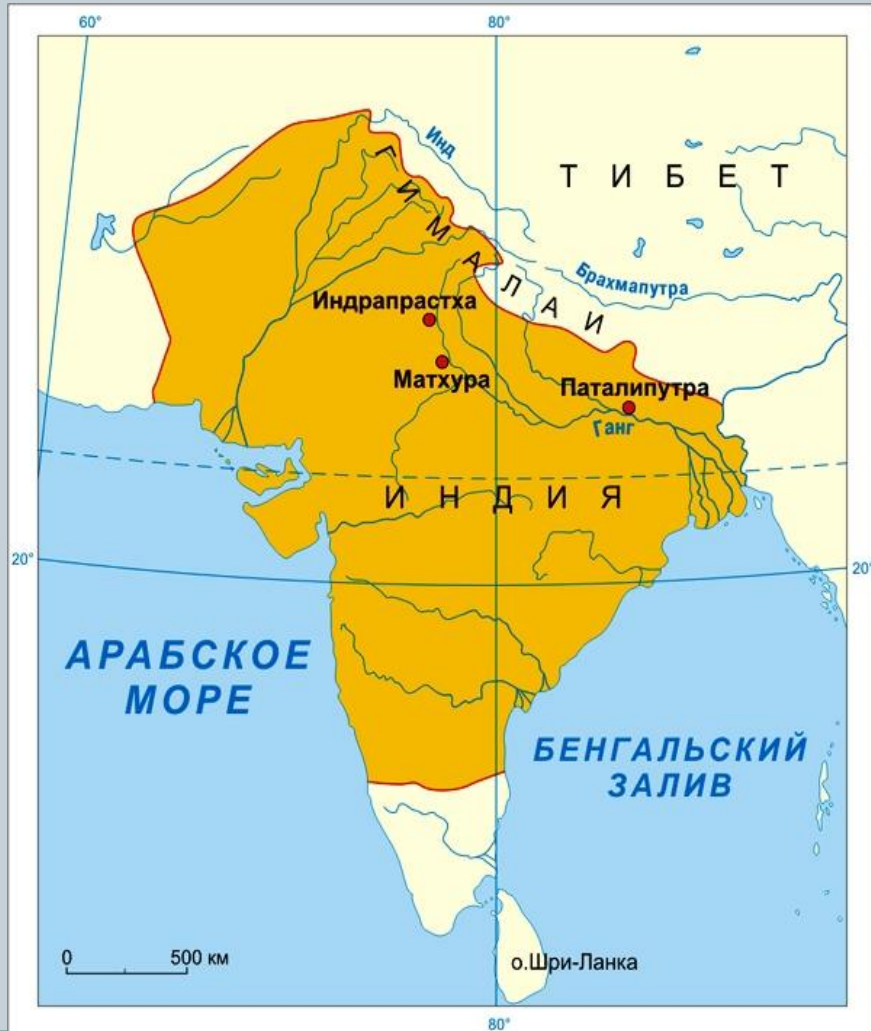


ДВУРЕЧЬЕ –
МЕСОПОТАМИЯ

ЮГО-ВОСТОК
АЗИИ

реки Тигр и
Евфрат

ДРЕВНЯЯ ИНДИЯ



Расположена на
полуострове **Индостан**
реки Инд и Ганг

ДРЕВНИЙ КИТАЙ



Расположен на территории **восточной**
части

Азиатского
континента

Реки Хуанхэ и
Янцзы



2 задание: «В МИРЕ ТЕРМИНОВ»



Словарная работа: дайте определение терминам

- **Фараон**
- **Дарики**
- **Брахманы**
- **«черная земля»**
- **«сакхари»**
- **«фенеху»**

ВИДЕОПРЕЗЕНТАЦИЯ

ЗАДАНИЕ:
определить страну по
иллюстрациям





Эта страна - КИТАЙ

3 задание: «СОБЫТИЯ В ИСТОРИИ»



РАБОТА ПО ХРОНОЛОГИИ:

1296 год до н.э. - ...

1792-1750 гг. до н.э. - ...

конец VI века до н.э. - ...

221 год до н.э. - ...


523 год до н.э. - ...

II тысячелетие до н.э. - ...

ВИДЕОПРЕЗЕНТАЦИЯ



**ЗАДАНИЕ:
определить страну по
иллюстрациям**





ШАДУФ



Эта страна - ЕГИПЕТ



4 задание: «ЗВЁЗДЫ ДРЕВНЕГО ВОСТОКА»



РАСКРОЙТЕ ДЕЯТЕЛЬНОСТЬ ЛИЧНОСТЕЙ:

- Царь Ашок
- Царь Хаммурапи
- Мудрец Конфуций
- Фараон Тутмос III
 - Царь Кир
 - Царь Канышке

ВИДЕОПРЕЗЕНТАЦИЯ



ЗАДАНИЕ:
определить страну по
иллюстрациям





БРАХМАН



БУДДА



СБОР ...

Эта страна - ИНДИЯ

5 задание: «СУНДУК СОКРОВИЩ»



Определите страну, которой принадлежат предметы



ЕГИПЕТ



КИТАЙ



ИНДИЯ




БАВИЛОН

ВИДЕОПРЕЗЕНТАЦИЯ

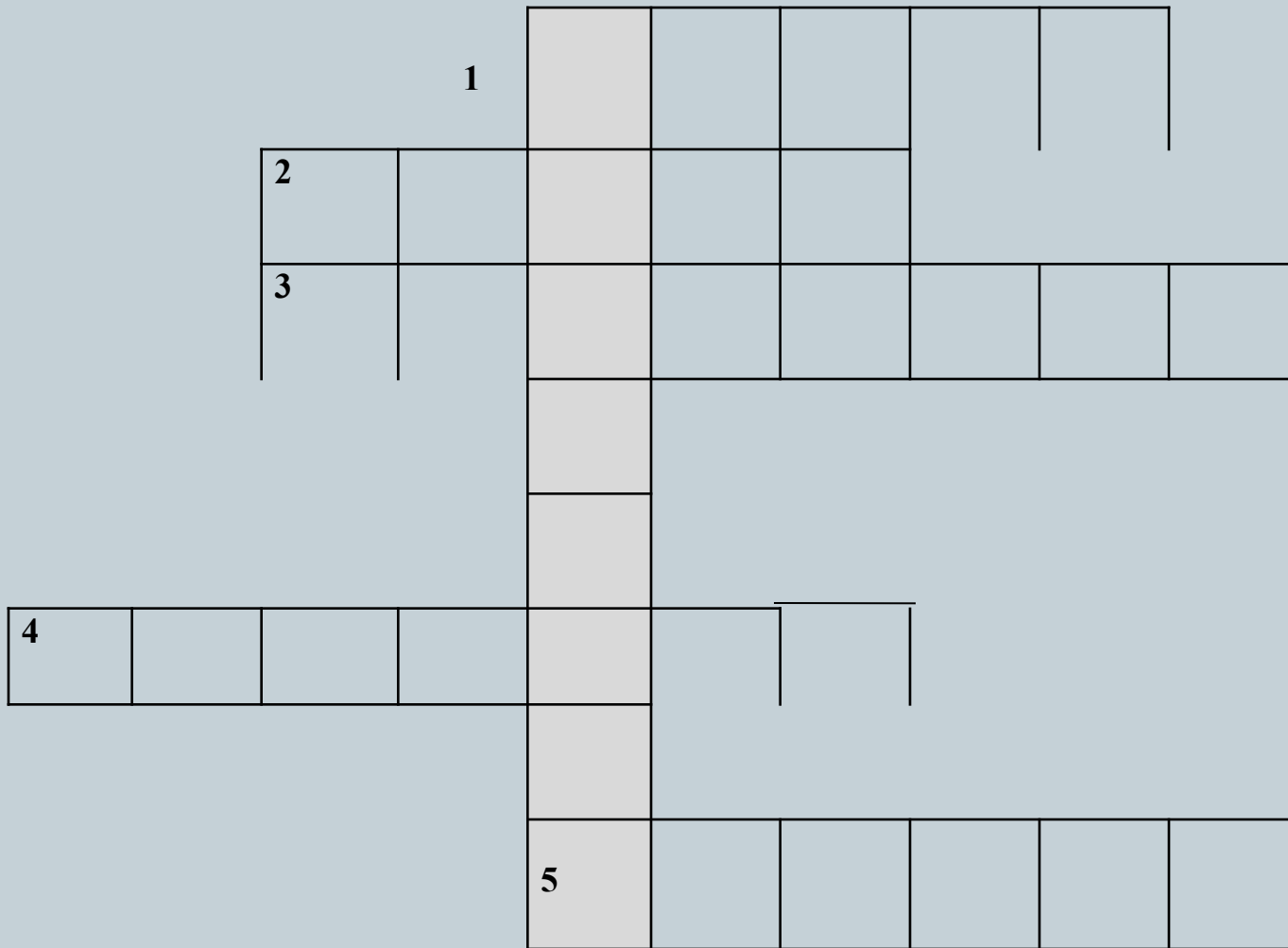


ЗАДАНИЕ:
определить страну по
иллюстрациям



Эта страна - ВАВИЛОН

«СТРАНЫ ДРЕВНЕГО ВОСТОКА»






- 1. Страна Древнего Востока, климат которой зависит от гор ...**
- 2. Её зовут «Великой» по протяженности, она защищала страну от набегов гуннов ...**
- 3. Усыпальница фараона находится в ...**
- 4. «Висячие сады» Семирамиды украшали город ...**
- 5. Титул правителя Египта - ...**
- 6. Вид письменности - ...**

КУЛЬТУРНОЕ НАСЛЕДИЕ



- **Какому государству принадлежит ...**













РЕФЛЕКСИЯ



- **Чем занимались на уроке?**
- **Каково моё участие в уроке? (оценить смайликом)**
- **Что понравилось в ходе урока?**
- **Что не понравилось в проведении урока?**

СПАСИБО ЗА ВНИМАНИЕ

