


Тема урока

СЧЁТ ЛЕТ В ИСТОРИИ

5 класс



ЧТО ТАКОЕ ИСТОРИЧЕСКИЙ ИСТОЧНИК?



КАКУЮ ИНФОРМАЦИЮ УЧЕНЫЕ ПОЛУЧАЮТ ИЗ ИСТОРИЧЕСКИХ ИСТОЧНИКОВ?



**Без знания дат
нет знания
истории!**



ЧТО ТАКОЕ ХРОНОЛОГИЯ?

**Хронология (наука о времени) –
это последовательность
исторических событий
во времени.**

1999 г.

2003 г.

2009 г.

2015 г.



ЧТО ТАКОЕ ХРОНОЛОГИЯ?



Первобытность

Древний мир

Средние века

Новое время

Новейшее время



ЧТО ТАКОЕ ЛЕНТА ВРЕМЕНИ?

**Лента времени -
это дорога из прошлого в будущее через
настоящее**



до нашей эры

The diagram consists of a horizontal line with an arrow pointing to the right. A vertical line intersects this horizontal line. Below the horizontal line, there are two brackets. The left bracket is labeled 'до нашей эры' and the right bracket is labeled 'наша эра'. A solid orange circle is positioned at the right end of the horizontal line, below the arrowhead.

наша эра

ЛЕТОИСЧИСЛЕНИЕ

Исторические эпохи – делятся на более короткие отрезки, которые называются «века» или «столетия».

I – 1 век

VI – 6 век

II – 2 век

VII – 7 век

III – 3 век

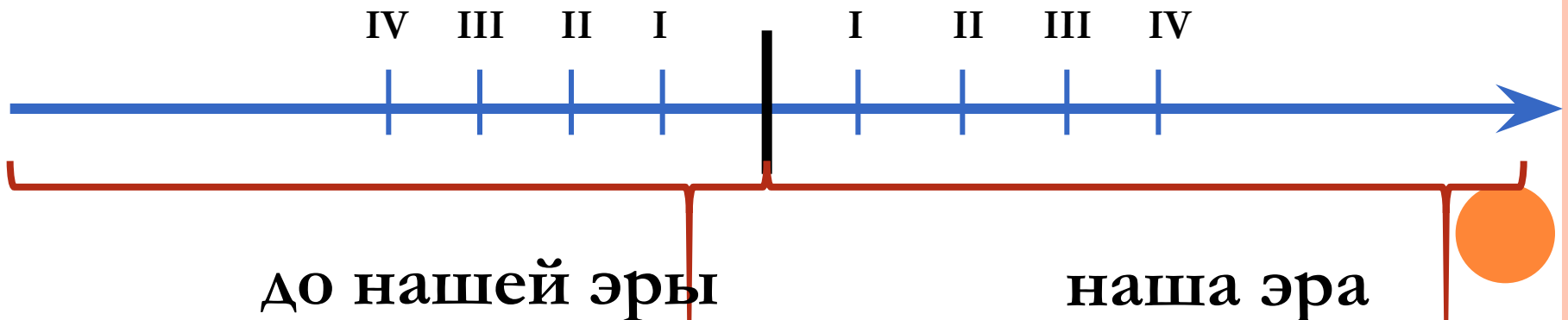
VIII – 8 век

IV – 4 век

IX – 9 век

V – 5 век

X – 10 век



ЛЕТОИСЧИСЛЕНИЕ

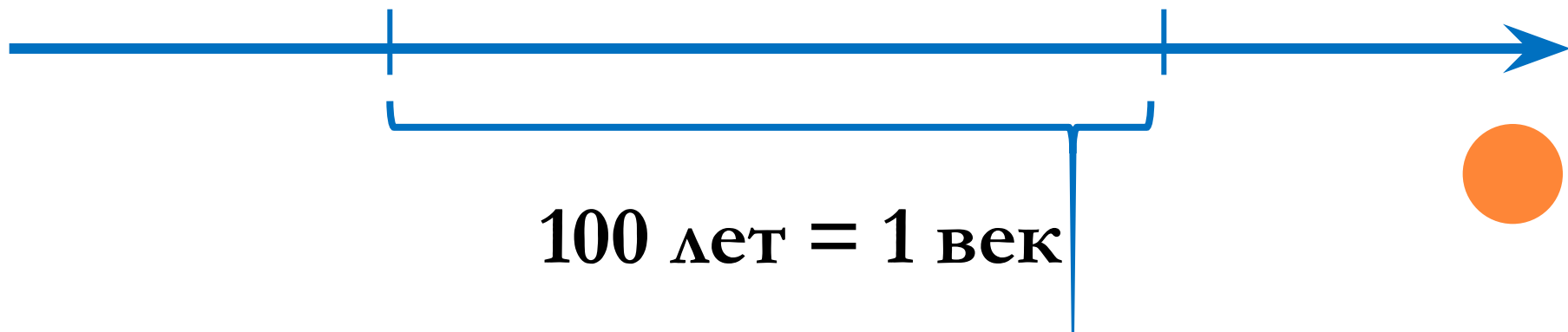
Века делятся на «года». Один век равен **100** годам.

Каждый век начинается в 1-й день 1-го года столетия и заканчивается последним днем года с двумя нулями на конце .

Эра **Эпоха** **Век** **Год** **Месяц** **День**

1 января 1901г.

31 декабря 2000г.



100 лет = 1 век

КАК ОПРЕДЕЛИТЬ ВЕК?

1200 год = ? $1200 = 12 + 0 = 12$ **600 год = ?** $6 = 6 + 0 = 6$

1613 год = ? $1613 = 16 + 1 = 17$ **1843 год = ?** $1843 = 18 + 1 = 19$

751 год = ? $751 = 7 + 1 = 8$ **104 год = ?** $104 = 1 + 1 = 2$

2 год = ? $2 = 1$ **23 год = ?** $23 = 1$ **74 год = ?** $74 = 1$

113 год = ? *202 год = ?* *6 год = ?*

1380 год = ? *1494 год = ?* *988 год = ?*

53 год = ? *1700 год = ?* *2017 год = ?*



ИСТОРИЧЕСКИЕ ЗАДАЧИ

1. *Сколько лет прожил Октавиан Август, если он родился в 63 году до н.э. и умер в 14 году н.э.?*

Решение: **$14 + 63 = 76$ лет**

Ответ: 76 лет

2. *Когда будет 2000-ая годовщина сражения при мысе Акции? (31 год до н.э.)*

Решение: **$2000 - 31 = 1969$ год**

Ответ: в 1969 году



ПОВТОРИМ...

Хронология –

ЭТО

исторических событий во

История делится на

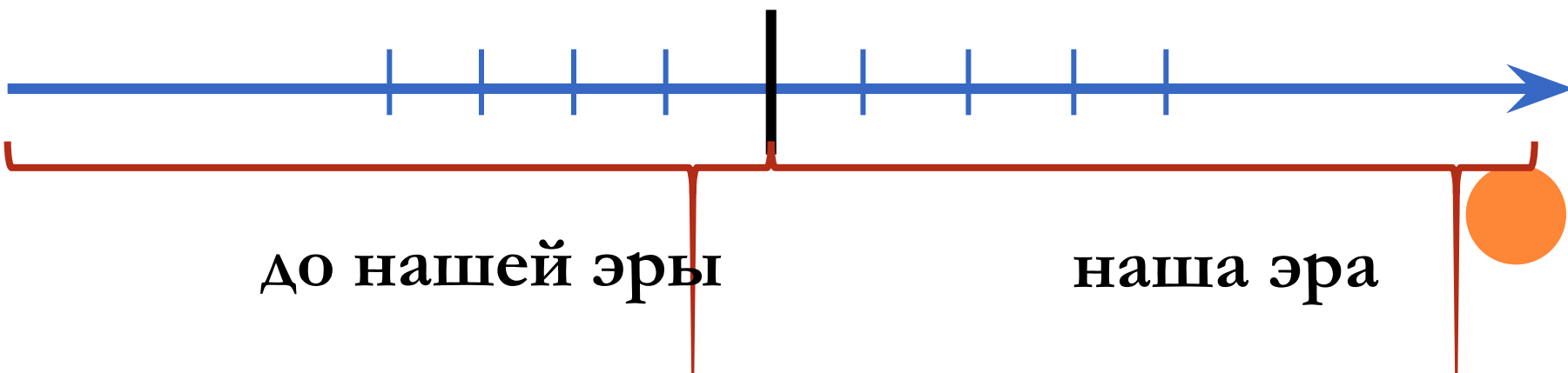
эры, Э....., в....., г....., м....., дни.



ПОВТОРИМ...

Отметьте на ленте времени года и века

55 год до н. э., 882 год н. э.,
236 год до н. э., 789 год до н. э.,
1000 год н. э., 1613 год н. э.
1700 год до н. э., 2017 год до н. э.



ДОМАШНЕЕ ЗАДАНИЕ

Читать с. 29 – 32

Вопросы - устно

