


Имя в истории



А



Б



В

?

?

?

**1. Назовите имена указанных на изображениях лиц.
Имена запишите под соответствующей буквой.**

Достопримечательности



А

Б

В

?

?

?

?

?

?

- Назовите указанные на изображениях достопримечательности.
2. Названия запишите под соответствующей буквой..
3. В нижней строке укажите страну, где они созданы.

ВЗАИМОПРОВЕРКА

1 задание:

А – Конфуций

Б – Будда

В – Тутанхамон

2 задание:

А- Пирамиды – Египет

Б – Великая китайская стена – Китай

В – Большой сфинкс - Египет

▪ Оценка:

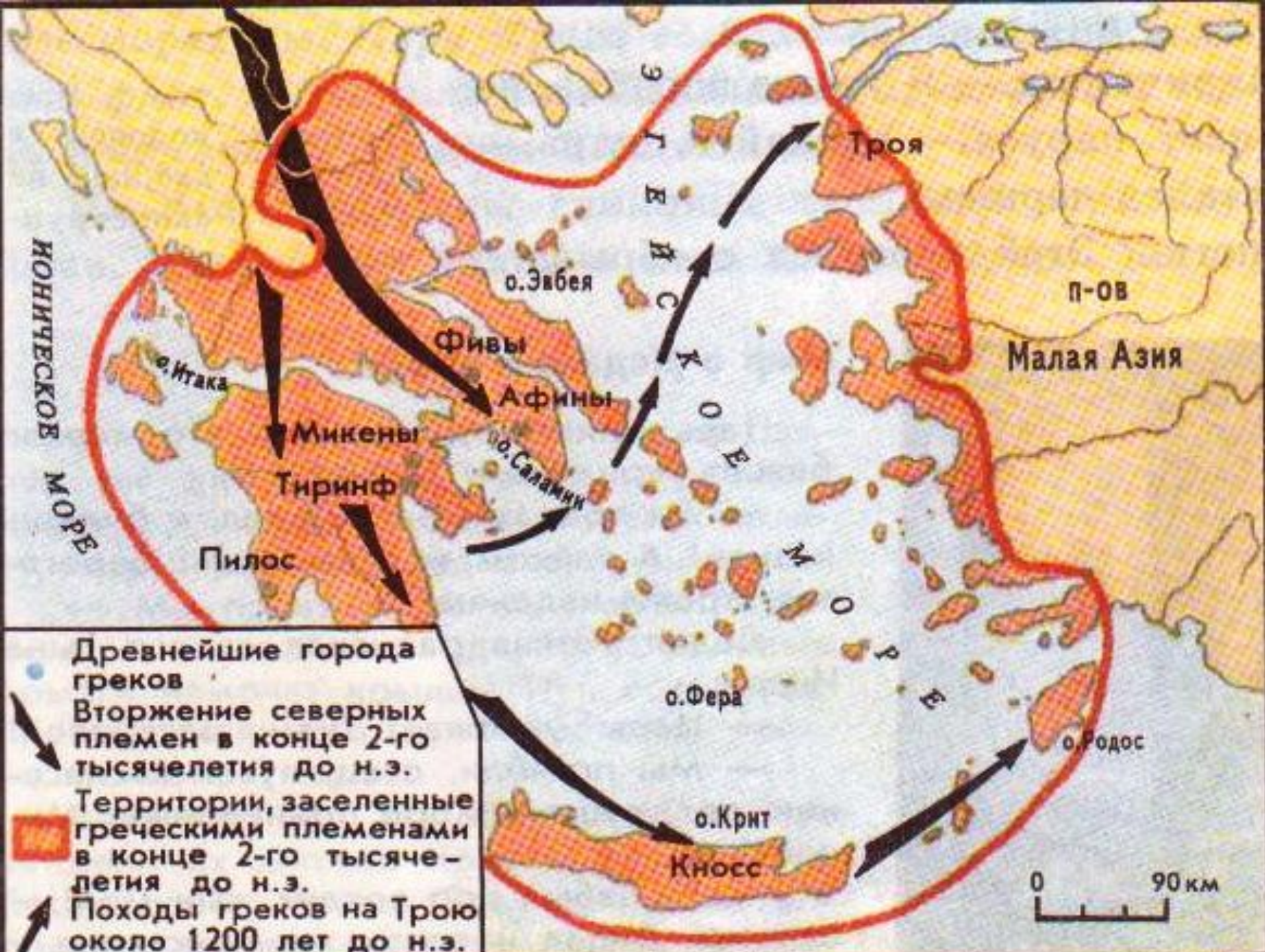
▪ 9- правильных ответов – «5»

▪ 8-7 правильных ответов – «4»

▪ 6-4 правильных ответов-» 3»

- Страна, которую мы сегодня начнем изучать стала родиной Олимпийских игр, как она называется?
- Более **3,5** тысяч лет назад в Европе, в южной части Балканского полуострова жили греческие племена, но называли они себя и страну иначе, кто знает как?
- Греки называли свою страну –Элладой, а себя –эллинами.

ГРЕКИ и КРИТЯНЕ



Балканский полуостров



Природа Греции.



Берега полуострова гористые, сильно изрезанные; много крупных и мелких островов, удобных бухт.



Земли, пригодной под пашню, в Греции мало. В море водится рыба и съедобные моллюски.

Климат Греции.



Лето здесь жаркое и засушливое, а зима прохладная, без снега, но с частыми бурями. Крупных рек нет (а в каких странах, которые мы изучили есть?)

Почти все греческие города стоят у моря.

Занятия греков.



Разводили оливки и виноград, выращивали пшеницу.



Занимались морской торговлей и рыболовством.

Критское царство.




Крит находился на пересечении морских путей. Критяне славились как отважные мореходы. Цари Крита создали сильнейший военный флот, подчинили себе близлежащие острова и стали властвовать на Эгейском море. На Крите найдены глиняные таблички с письменами. Однако эти надписи пока не разгаданы.

Кносский дворец



Сто с лишним лет назад археологи раскопали на острове огромный многоэтажный дворец, который имел сотни помещений, коридоров и лестниц.

Световой колодец.



Окон же было мало: солнечный свет и воздух поступали через световые колодцы –отверстия в крыше. Это спасало от изнуряющей жары летом и холодных ветров зимой.

Фреска.



Стены дворца
художники
украсили
фресками.

Фреска – картина
написанная на
сырой
штукатурке.



Гибель Критского царства.



В XV в. до н. э. на о. Фера возле берегов Крита произошло землетрясение и извержение вулкана. Ветер, волны и тучи пепла обрушились на Крит. Постройки были разрушены, население спасалось бегством. После катастрофы на Крит стали переселяться греки.

Гибель критского царства.

**Взрыв вулкана
на о.Фера.**



Существуют 2 версии

1. В результате взрыва вулкана о.Фера

2. В результате вторжения греков-ахейцев

Сейчас ряд ученых считает что на Крите располагалась легендарная Атлантида.

Миф о Тесее и Минотавре.



Задание: прочитать миф на с.114-117 и ответить на вопросы.

- Что сказочного в мифе?
- Что соответствует действительности?

- Каким знаком на карте обозначены границы Древней Греции?
- Какими морями омывается Греция?
- Каким знаком обозначены города Греции? Назовите их.
- Назовите самый большой остров.
- Какой город является современной столицей Греции?