

Древний Египет

Проверим домашнее задание

- Рабочая тетрадь с. 43 задание 2


Сравните первобытный период (каменный век) и цивилизации Древнего Востока и заполните таблицу.

Вопрос	Первобытный период (каменный век)	Цивилизации Древнего Востока
Какими поселениями жили?		

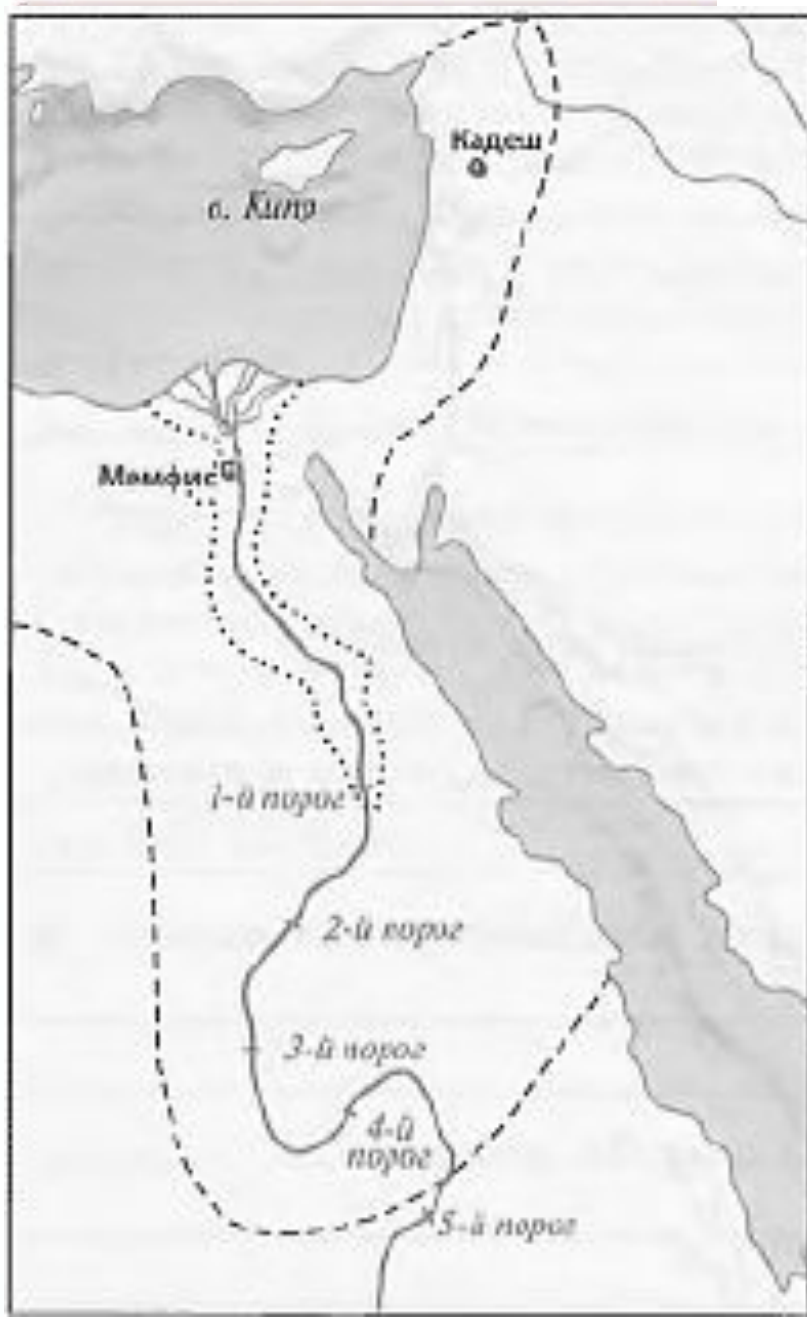
Вопрос	Первобытный период (каменный век)	Цивилизации Древнего Востока
Какими поселениями жили?		
Чем занимались?		
Как было устроено общество и было ли неравенство?		

<p>Кто и как управлял обществом?</p>		
<p>Как передавались важнейшие знания?</p>		


Египет по древнеегипетски



Древний Египет



«Привет тебе, Хапи,
Выходящий из этой земли,
Приходящий, чтобы наплатить Египет...
Создающий ячмень,
Взрачивающий пшеницу...
Когда он восходит — земля ликует,
Все люди в радости,
Все спины трясутся от смеха,
Все зубы рвут пищу...»



Хапи

Земледельческий год Древнего Египта

Половодье

середина июля – середина ноября

Всходы

середина ноября – середина мая


Сухость

середина мая – середина июля

Ном — область в Древнем Египте. До образования единого государства в Египте существовало около 40 номов. Позже номом стал называться административный округ в Древнем Египте. Каждый ном имел политический и религиозный центр, войско, своё символическое изображение (гербы) и богов-покровителей.

Фараон — титул правителей Древнего Египта.

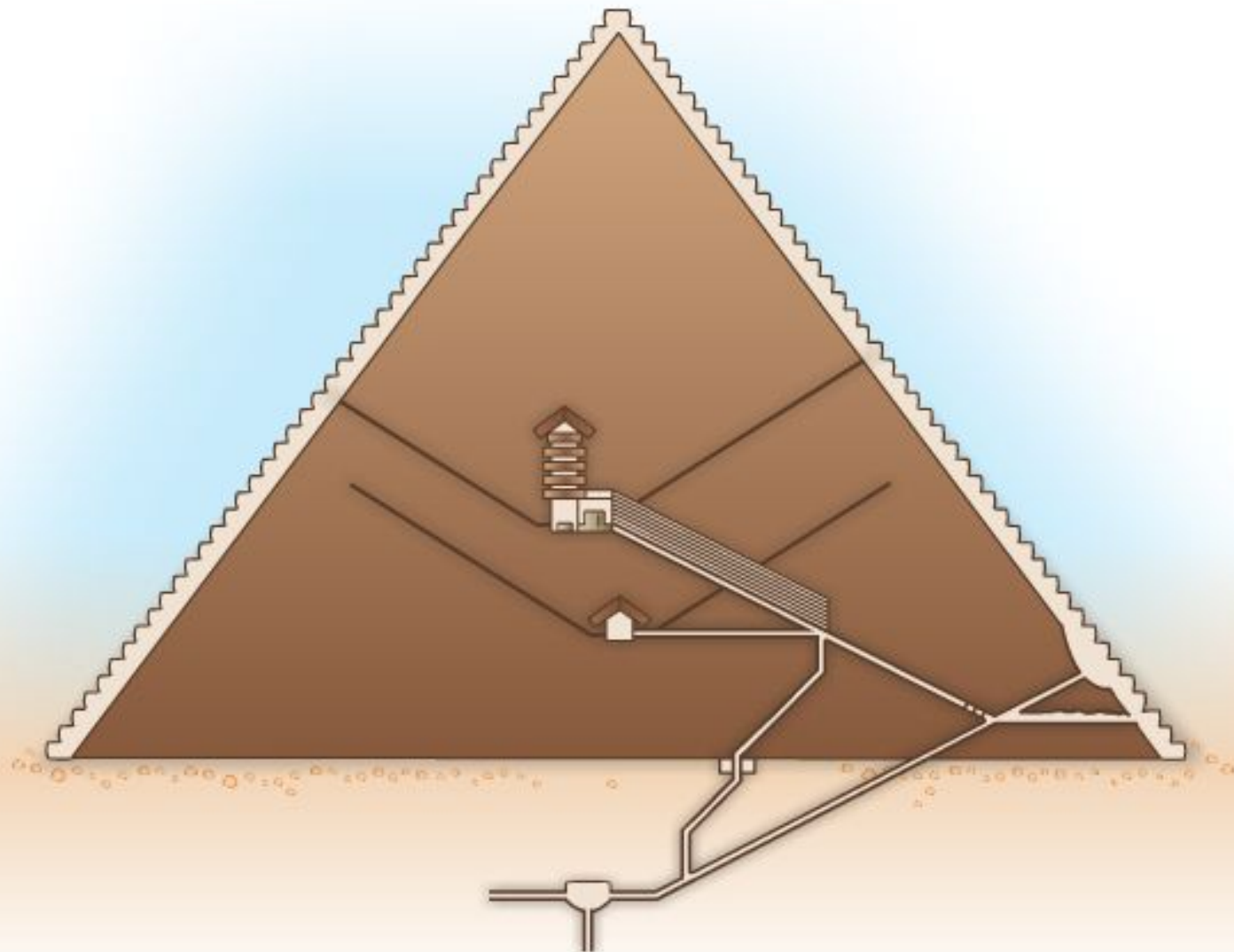
Строительство пирамид по мнению Геродота, гравюра



Пирамида Хеопса



Пирамида Хеопса



Жрец в маске бога Анубиса (покровителя бальзамирования) бальзамирует умершего



Мумия — сохранённое бальзамированием тело. Мумией называется тело (не только человека, но и любого другого живого существа), подвергнутое специальной химической обработке, в результате которой прекращается или замедляется процесс разложения тканей.


Следует различать искусственно и естественно мумифицированные тела.

Саркофаг — гроб, повторяющий форму человеческого тела.

Саркофаг фараона Мернептаха




Маска с третьего саркофага Тутанхамона



Вход в гробницу древнеегипетского вельможи



Гробница Нахта



Гробница древнеегипетского книжника



Схема общественного устройства Древнего Египта

фараон

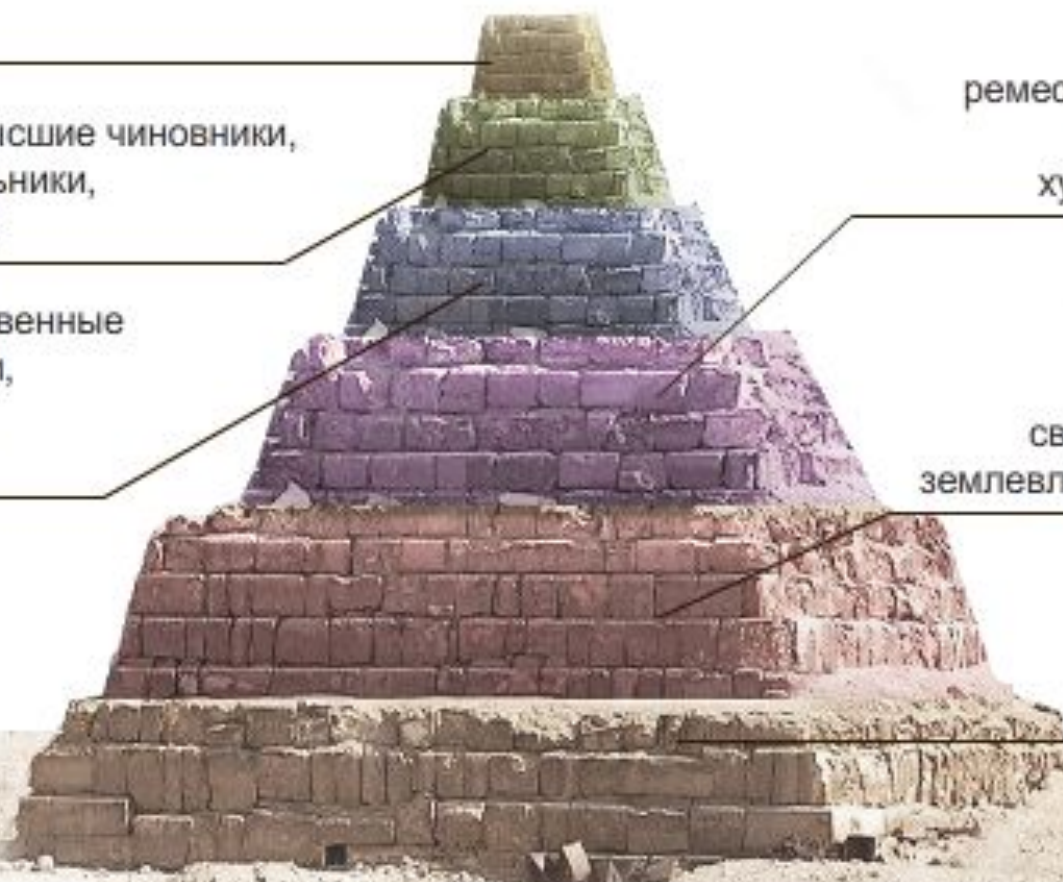
жрецы, высшие чиновники,
военачальники,
вельможи

государственные
чиновники,
писцы,
офицеры

ремесленники,
купцы,
художники

свободные
землевладельцы

рабы



Итоги урока

- Покажи на карте, где находился Древний Египет. Какая река протекает через всю страну?
- Кто находился у власти? Как называют такую форму правления?
- Охарактеризуй социальную структуру общества Египта.
- Зачем строили пирамиды?

Домашнее задание

- Рабочая тетрадь с. 28 задание 5

