

**Учимся
заполнять
контурную
карту**

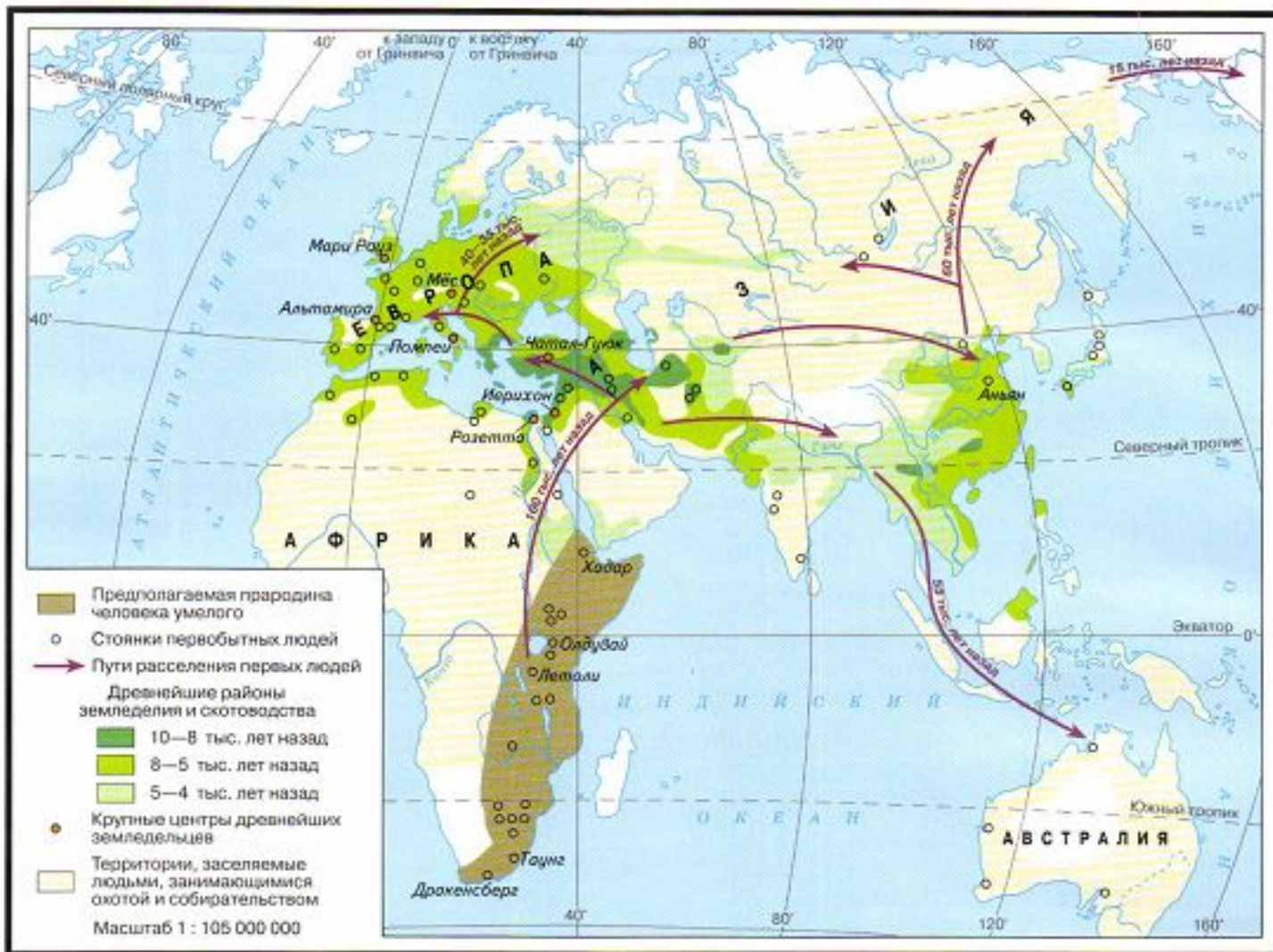
Задания

1. Подпишите названия континентов. Выделите территорию предполагаемой прародины человека и отметьте на карте стрелками пути расселения древних людей.
2. Отметьте на карте древнейшие районы земледелия и скотоводства и объясните, почему древние люди выбрали именно эти территории для их развития.
3. Обозначьте места начала обработки кости, металлов, а также начало использования глины. Как по-вашему, почему это произошло именно в отмеченных вами регионах?

- УСЛОВНЫЕ ОБОЗНАЧЕНИЯ**
- Территория предполагаемой прародины человека
 - Древнейшие районы земледелия и скотоводства
 - 10—8 тыс. лет назад
 - 8—5 тыс. лет назад
 - 5—4 тыс. лет назад
 - ← Пути расселения древних людей
 - Стоянки первобытных людей
 - Культурные достижения на пути к цивилизации
 - К** Начало обработки кости
 - Г** Начало использования глины
 - М** Начало обработки металлов



МЕСТА ОБИТАНИЯ И РАССЕЛЕНИЯ ДРЕВНЕЙШИХ ЛЮДЕЙ



В процессе длительного развития жизни на земле появились ближай-
 шие предки человека — обезьяны. Превращение обезьяны в человека
 заняло десятки миллионов лет. В этот период у наших далёких пред-
 ков человеческие черты стали преобладать над животными; они на-
 учились прямо ходить, делать орудия труда и оружие, добывать
 огонь, охотиться на крупных хищников и шить одежду.

Первобытные люди постепенно обживали не только тёплые степи
 и саванны, но и более холодные территории Европы и Азии.



Задания

1. Подпишите названия континентов. Выделите территорию предполагаемой прародины человека и отметьте на карте стрелками пути расселения древних людей.
2. Отметьте на карте древнейшие районы земледелия и скотоводства и объясните, почему древние люди выбрали именно эти территории для их развития.
3. Обозначьте места начала обработки кости, металлов, а также начало использования глины. Как по-вашему, почему это произошло именно в отмеченных вами регионах?

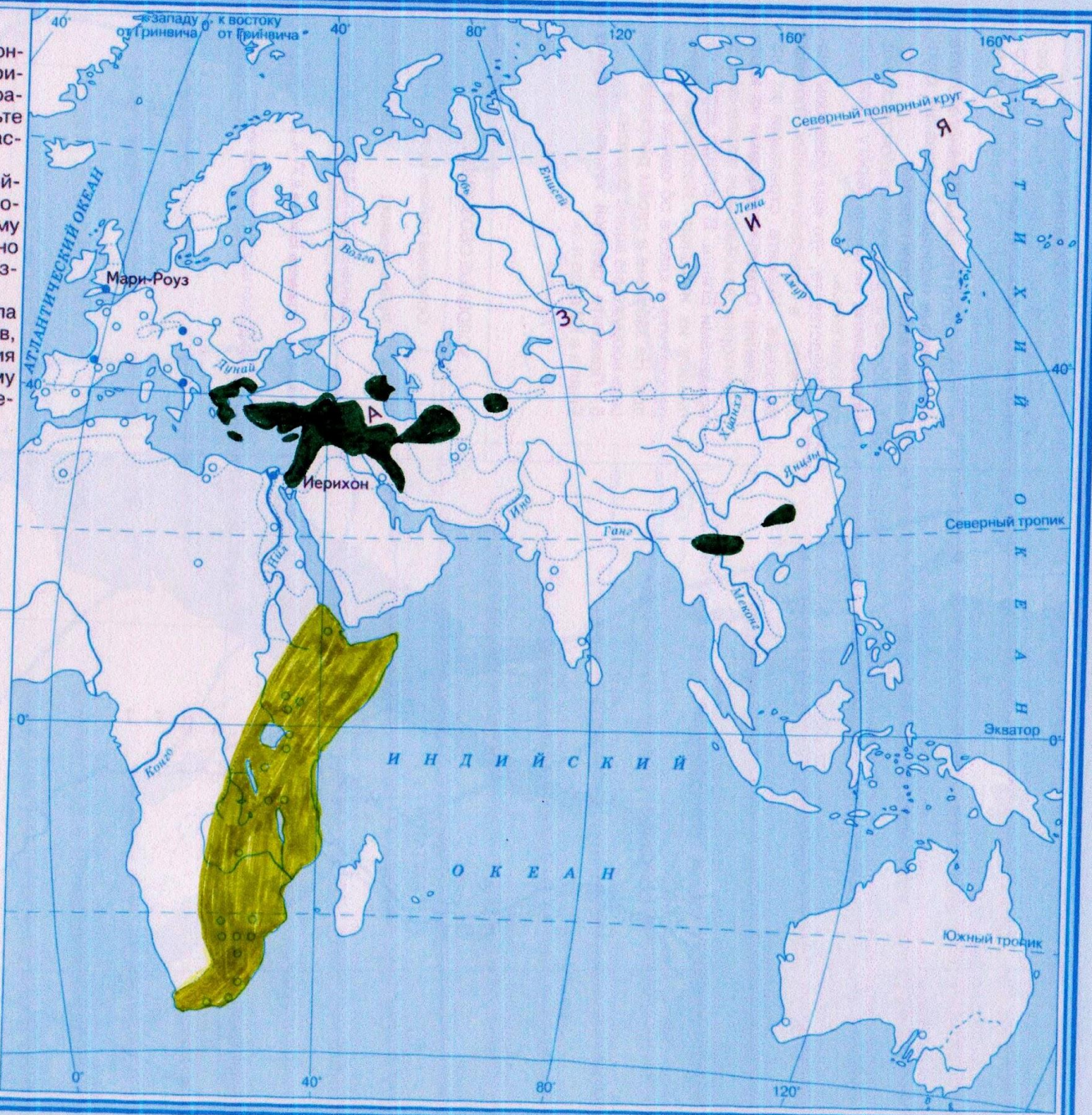


- УСЛОВНЫЕ ОБОЗНАЧЕНИЯ**
- Территория предполагаемой прародины человека
 - Древнейшие районы земледелия и скотоводства
 - 10—8 тыс. лет назад
 - 8—5 тыс. лет назад
 - 5—4 тыс. лет назад
 - Пути расселения древних людей
 - Стоянки первобытных людей
 - Культурные достижения на пути к цивилизации
 - К** Начало обработки кости
 - Г** Начало использования глины
 - М** Начало обработки металлов

Задания

1. Подпишите названия континентов. Выделите территорию предполагаемой прародины человека и отметьте на карте стрелками пути расселения древних людей.
2. Отметьте на карте древнейшие районы земледелия и скотоводства и объясните, почему древние люди выбрали именно эти территории для их развития.
3. Обозначьте места начала обработки кости, металлов, а также начало использования глины. Как по-вашему, почему это произошло именно в отмеченных вами регионах?

- УСЛОВНЫЕ ОБОЗНАЧЕНИЯ**
- Территория предполагаемой прародины человека
 - Древнейшие районы земледелия и скотоводства**
 - 10—8 тыс. лет назад
 - 8—5 тыс. лет назад
 - 5—4 тыс. лет назад
 - Пути расселения древних людей
 - Стоянки первобытных людей
 - Культурные достижения на пути к цивилизации**
 - К** Начало обработки кости
 - Г** Начало использования глины
 - М** Начало обработки металлов

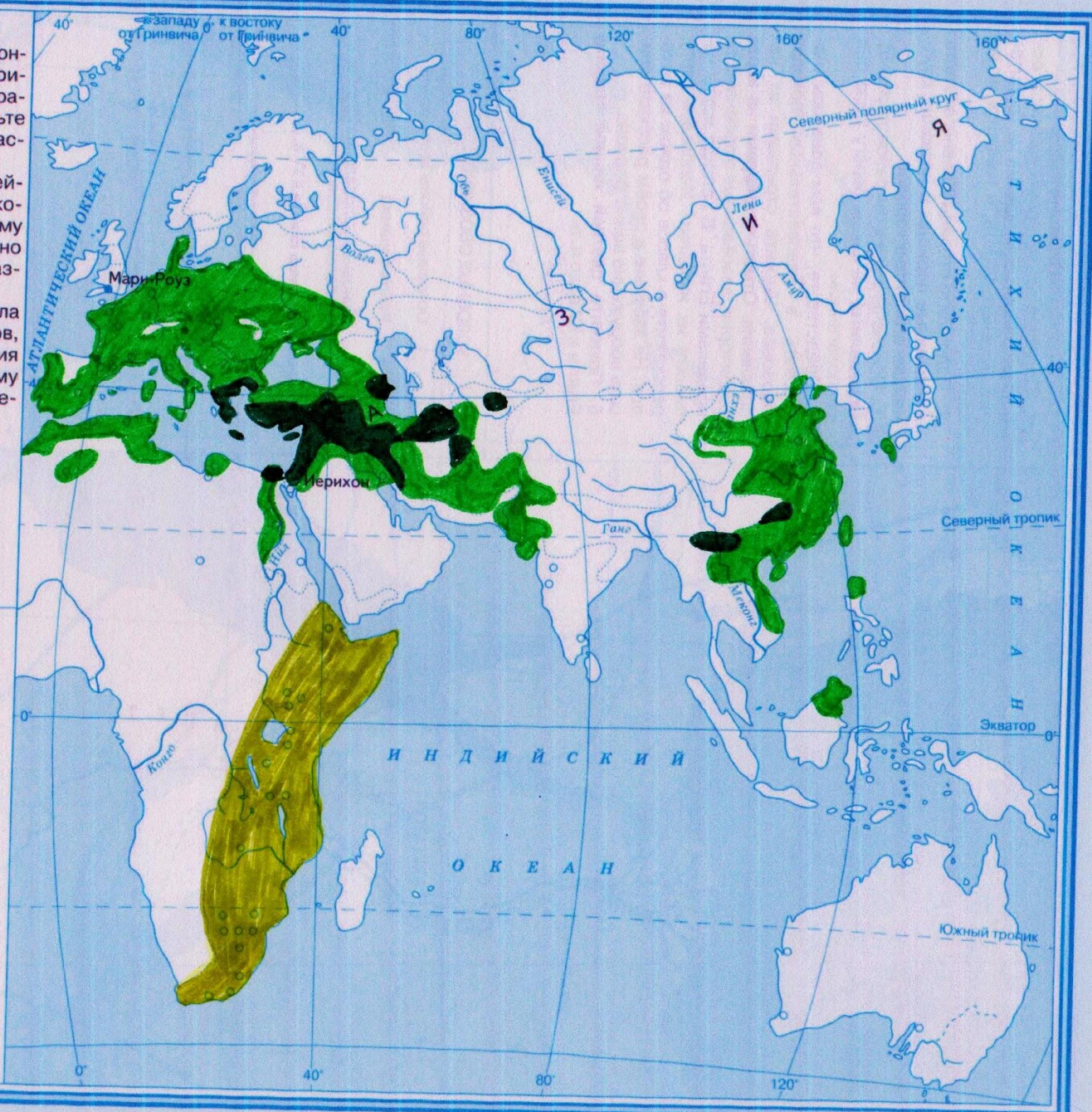


Задания

1. Подпишите названия континентов. Выделите территорию предполагаемой прародины человека и отметьте на карте стрелками пути расселения древних людей.
2. Отметьте на карте древнейшие районы земледелия и скотоводства и объясните, почему древние люди выбрали именно эти территории для их развития.
3. Обозначьте места начала обработки кости, металлов, а также начало использования глины. Как по-вашему, почему это произошло именно в отмеченных вами регионах?

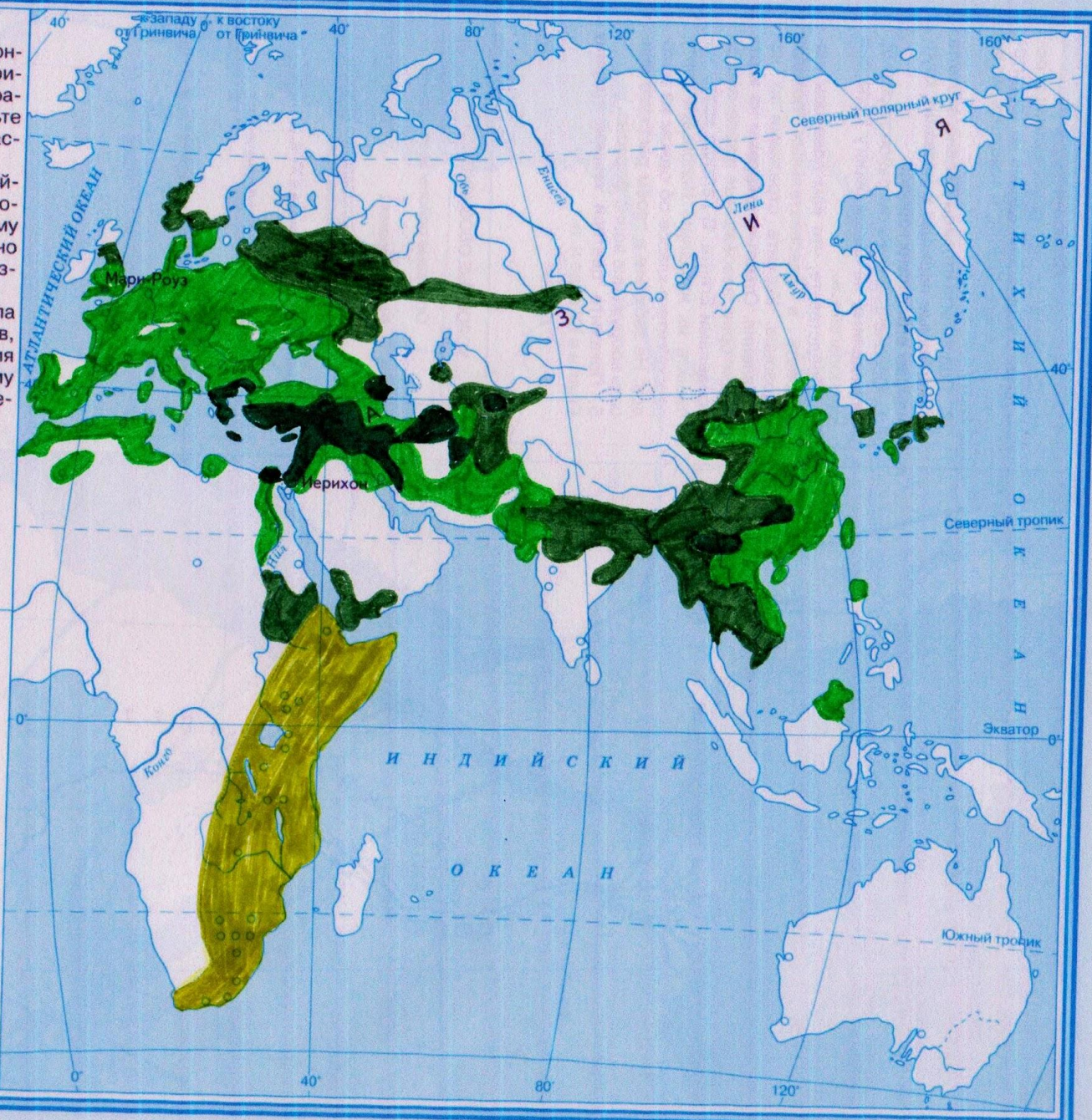
УСЛОВНЫЕ ОБОЗНАЧЕНИЯ

- Территория предполагаемой прародины человека
- Древнейшие районы земледелия и скотоводства**
- 10—8 тыс. лет назад
- 8—5 тыс. лет назад
- 5—4 тыс. лет назад
- Пути расселения древних людей
- Стоянки первобытных людей
- Культурные достижения на пути к цивилизации**
- К** Начало обработки кости
- Г** Начало использования глины
- М** Начало обработки металлов



Задания

1. Подпишите названия континентов. Выделите территорию предполагаемой прародины человека и отметьте на карте стрелками пути расселения древних людей.
- М 2. Отметьте на карте древнейшие районы земледелия и скотоводства и объясните, почему древние люди выбрали именно эти территории для их развития.
- МЛ 3. Обозначьте места начала обработки кости, металлов, а также начало использования глины. Как по-вашему, почему это произошло именно в отмеченных вами регионах?



УСЛОВНЫЕ ОБОЗНАЧЕНИЯ

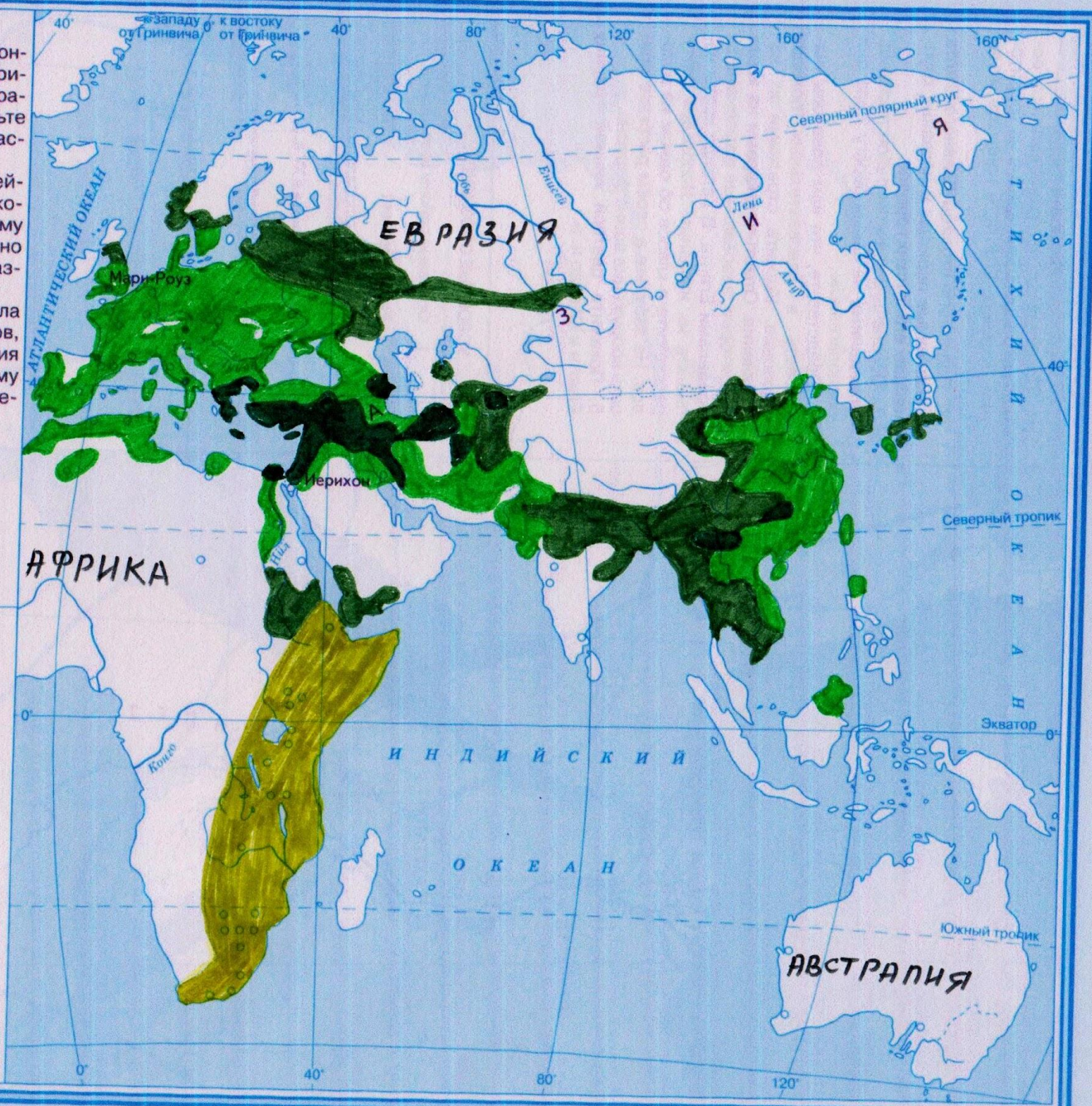
- Территория предполагаемой прародины человека
- Древнейшие районы земледелия и скотоводства
 - 10—8 тыс. лет назад
 - 8—5 тыс. лет назад
 - 5—4 тыс. лет назад
- Пути расселения древних людей
- Стоянки первобытных людей
- Культурные достижения на пути к цивилизации
 - К** Начало обработки кости
 - Г** Начало использования глины
 - М** Начало обработки металлов

Задания

1. Подпишите названия континентов. Выделите территорию предполагаемой прародины человека и отметьте на карте стрелками пути расселения древних людей.
2. Отметьте на карте древнейшие районы земледелия и скотоводства и объясните, почему древние люди выбрали именно эти территории для их развития.
3. Обозначьте места начала обработки кости, металлов, а также начало использования глины. Как по-вашему, почему это произошло именно в отмеченных вами регионах?

АФРИКА — названии континентов

- УСЛОВНЫЕ ОБОЗНАЧЕНИЯ**
- Территория предполагаемой прародины человека
 - Древнейшие районы земледелия и скотоводства
 - 10—8 тыс. лет назад
 - 8—5 тыс. лет назад
 - 5—4 тыс. лет назад
 - Пути расселения древних людей
 - Стоянки первобытных людей
 - Культурные достижения на пути к цивилизации
 - К Начало обработки кости
 - Г Начало использования глины
 - М Начало обработки металлов

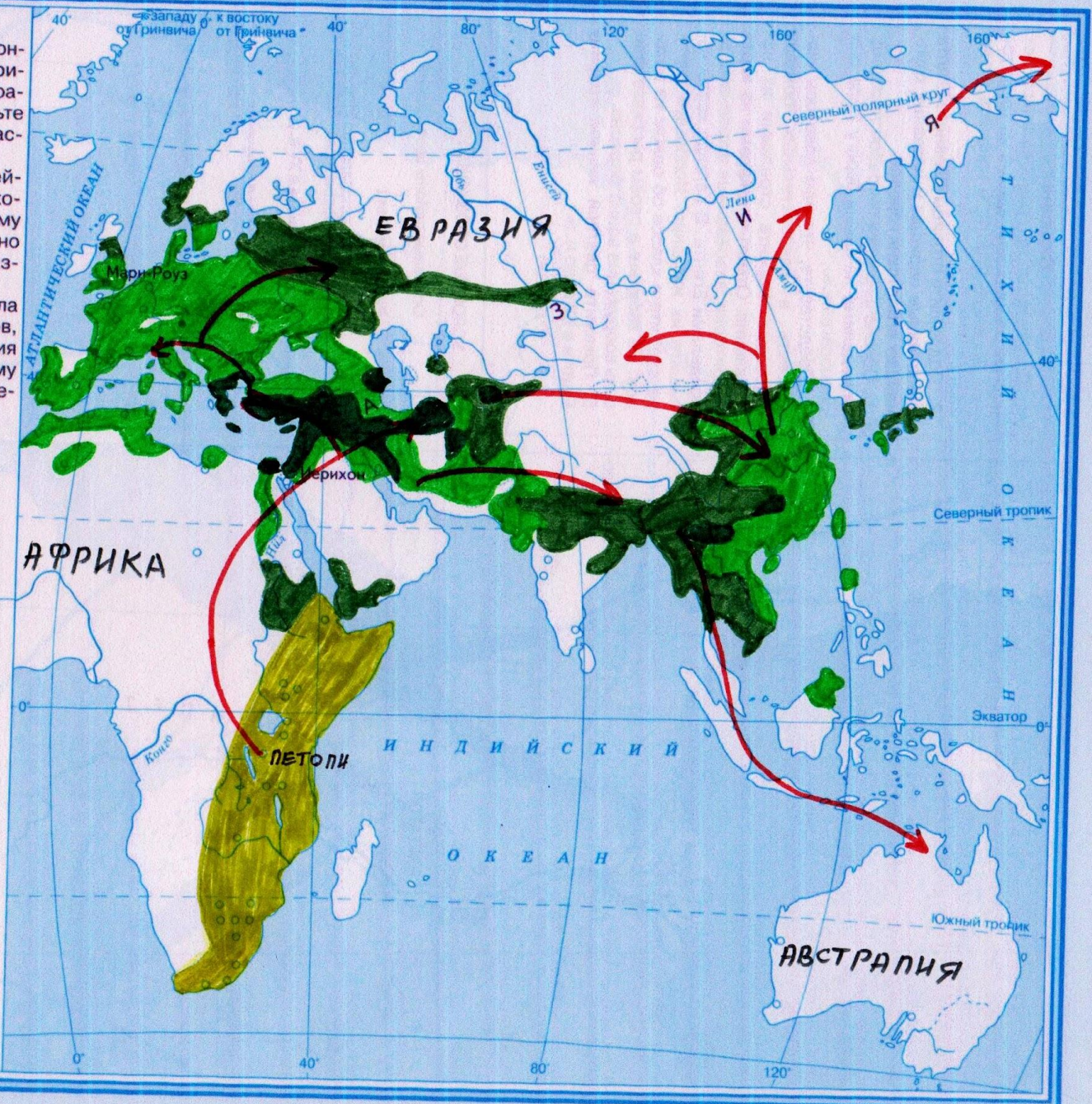


Задания

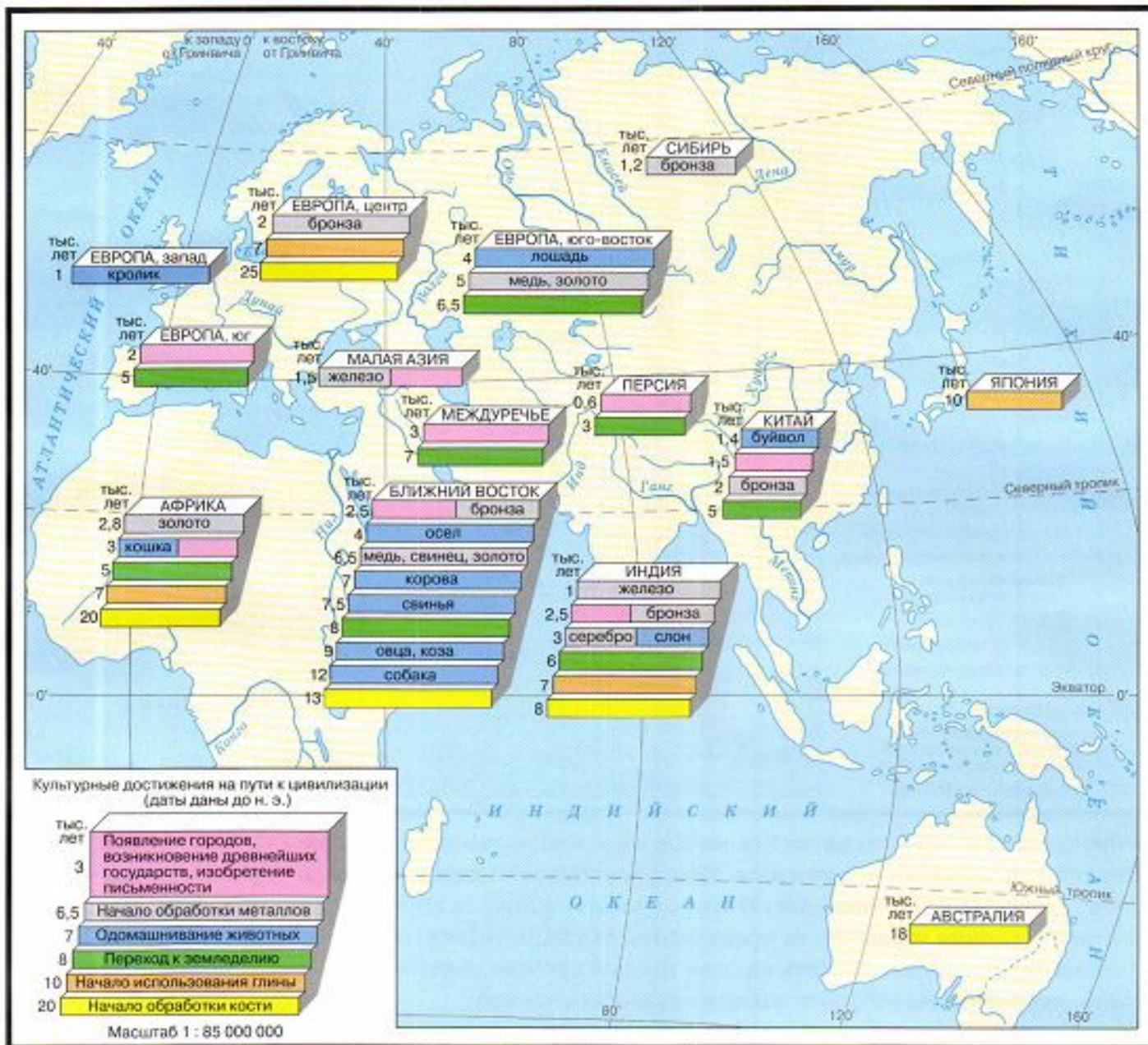
1. Подпишите названия континентов. Выделите территорию предполагаемой прародины человека и отметьте на карте стрелками пути расселения древних людей.
2. Отметьте на карте древнейшие районы земледелия и скотоводства и объясните, почему древние люди выбрали именно эти территории для их развития.
3. Обозначьте места начала обработки кости, металлов, а также начало использования глины. Как по-вашему, почему это произошло именно в отмеченных вами регионах?

АФРИКА — название континентов

- УСЛОВНЫЕ ОБОЗНАЧЕНИЯ**
- Территория предполагаемой прародины человека
 - Древнейшие районы земледелия и скотоводства
 - 10—8 тыс. лет назад
 - 8—5 тыс. лет назад
 - 5—4 тыс. лет назад
 - ← Пути расселения древних людей
 - Стоянки первобытных людей
 - Культурные достижения на пути к цивилизации
 - К** Начало обработки кости
 - Г** Начало использования глины
 - М** Начало обработки металлов



ЧЕЛОВЕЧЕСТВО НА ПУТИ К ЦИВИЛИЗАЦИИ



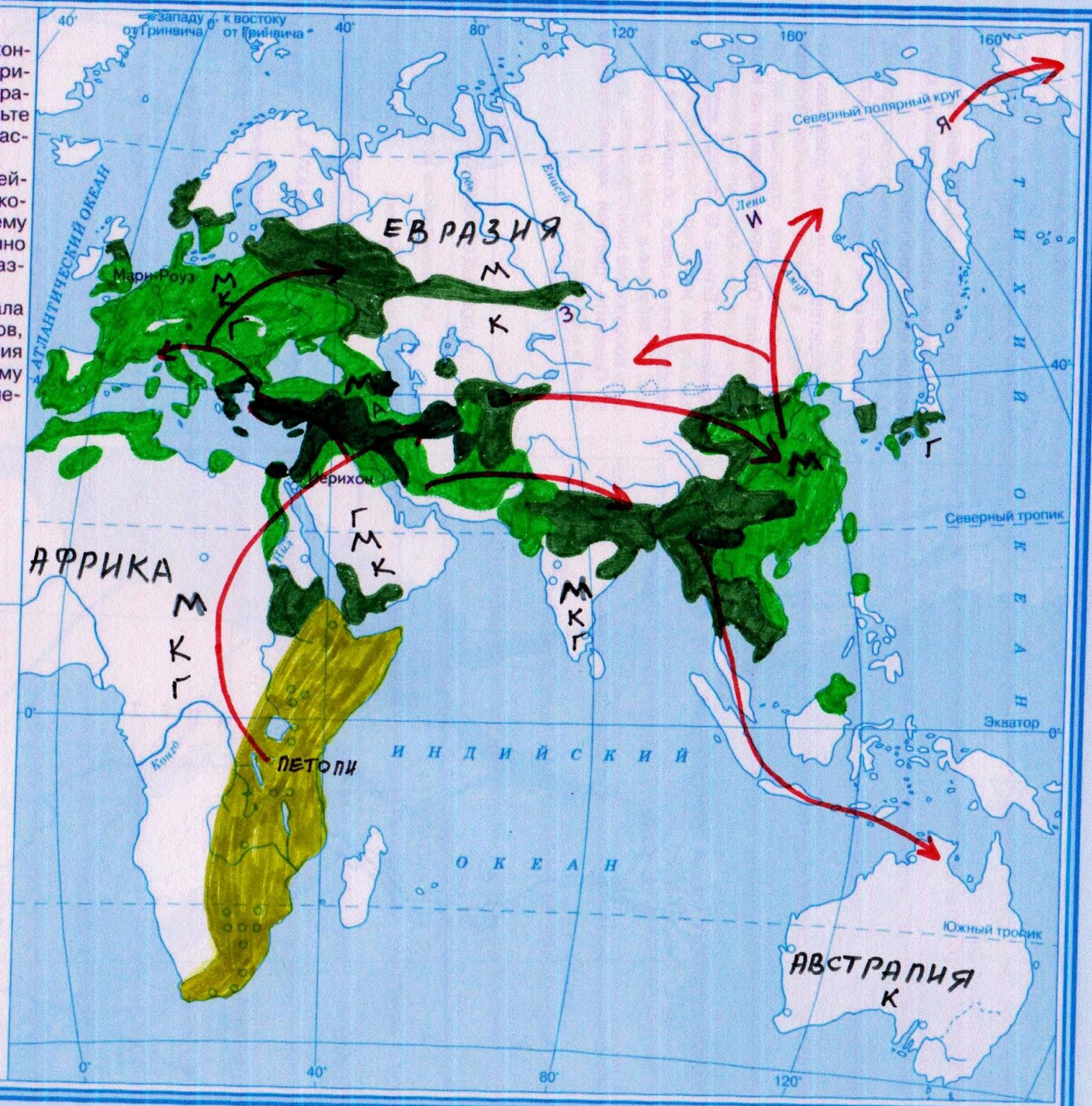
Задания

1. Подпишите названия континентов. Выделите территорию предполагаемой прародины человека и отметьте на карте стрелками пути расселения древних людей.
2. Отметьте на карте древнейшие районы земледелия и скотоводства и объясните, почему древние люди выбрали именно эти территории для их развития.
3. Обозначьте места начала обработки кости, металлов, а также начало использования глины. Как по-вашему, почему это произошло именно в отмеченных вами регионах?

АФРИКА — название континента

УСЛОВНЫЕ ОБОЗНАЧЕНИЯ

- Территория предполагаемой прародины человека
- Древнейшие районы земледелия и скотоводства
 - 10—8 тыс. лет назад
 - 8—5 тыс. лет назад
 - 5—4 тыс. лет назад
- Пути расселения древних людей
- Стоянки первобытных людей
- Культурные достижения на пути к цивилизации
 - К** Начало обработки кости
 - Г** Начало использования глины
 - М** Начало обработки металлов

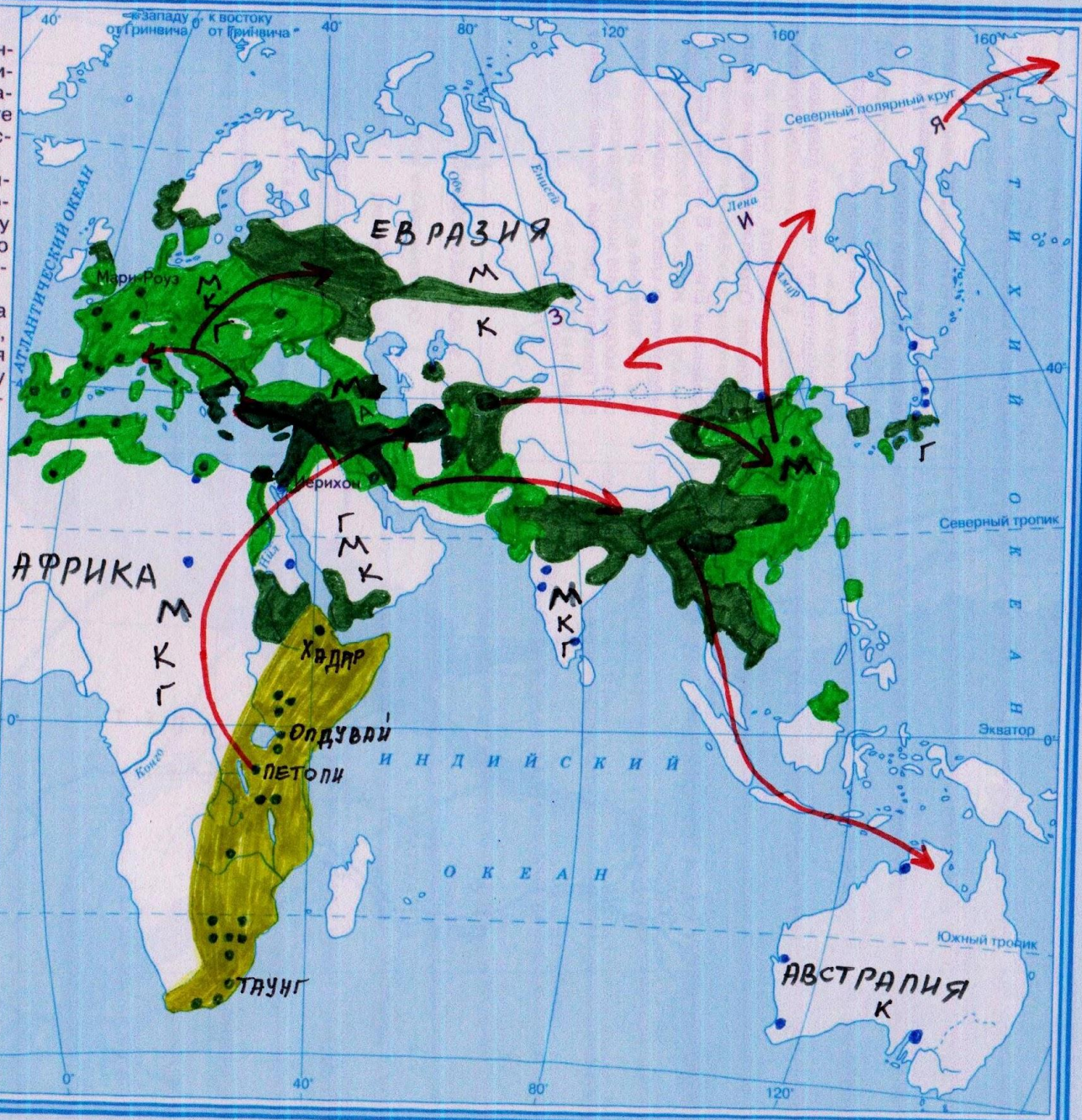


Задания

1. Подпишите названия континентов. Выделите территорию предполагаемой прародины человека и отметьте на карте стрелками пути расселения древних людей.
2. Отметьте на карте древнейшие районы земледелия и скотоводства и объясните, почему древние люди выбрали именно эти территории для их развития.
3. Обозначьте места начала обработки кости, металлов, а также начало использования глины. Как по-вашему, почему это произошло именно в отмеченных вами регионах?

АФРИКА — название континентов

- УСЛОВНЫЕ ОБОЗНАЧЕНИЯ**
- Территория предполагаемой прародины человека
 - Древнейшие районы земледелия и скотоводства
 - 10—8 тыс. лет назад
 - 8—5 тыс. лет назад
 - 5—4 тыс. лет назад
 - ← Пути расселения древних людей
 - Стоянки первобытных людей
 - Культурные достижения на пути к цивилизации
 - К** Начало обработки кости
 - Г** Начало использования глины
 - М** Начало обработки металлов



Молодцы!)))