


На дом:

§ 44;

С.269-272 ПЕРЕСКАЗЫВАТЬ.

Вспоминаем то, что знаем



Почему, на твой взгляд, жизнь Христа стала нравственным примером для многих людей? Свой ответ запиши.


Я считаю, что _____

потому что _____





Вспоминаем то, что знаем




Запиши объяснение всех выражений.

«Вифлиемская звезда»	
«Предательство Иуды»	
«Я умываю руки» (слова Понтия Пилата)	
«Каждый несёт свой крест»	




ВСПОМИНАЕМ ТО, ЧТО ЗНАЕМ




Выдели признаки цивилизации (в значении «общность»). С. 287.

Как правило, общность народов и стран	
Организация управления обществом	
Службы защиты законного порядка	
Единые для всей общности религиозные представления	
Сбор налогов	
Единый порядок организации хозяйственной жизни	
Аппарат управления	
Общие культурные ценности	
Армия для защиты границ	




ВСПОМИНАЕМ ТО, ЧТО ЗНАЕМ



К какому историческому понятию относятся оставшиеся признаки?

Как правило, общность народов и стран	
Организация управления обществом	
Службы защиты законного порядка	
Единые для всей общности религиозные представления	
Сбор налогов	
Единый порядок организации хозяйственной жизни	
Аппарат управления	
Общие культурные ценности	
Армия для защиты границ	



Расставьте рассуждения в хронологическом порядке



- А. Сосредоточение власти в руках богатых землевладельцев.
- Б. Большая империя не может управляться через Народное собрание.
- В. Утверждение принципата государственной власти.
- Г. Рост популярности полководцев.
- Д. Сельские граждане, разоряясь, идут служить в армию за землю в надежде получить её от своего полководца.
- Е. Предоставление гражданских прав жителям Италии.
- Ж. Борьба полководцев за власть.
- З. Наделение сенатом Октавиана титулом Август.



III тыс. до н.э. II тыс. до н.э.

I тыс. до н.э.

Новая эра

X IX VIII VII VI V IV III II I I II III IV V

Тема:


«Заря христианского мира» § 44



План



1. Новые черты Римского государства.

2. Император Константин.



Используя текст учебника (пункт 1, § 44), определи, какие важные изменения произошли в III веке во всех сферах античной цивилизации. С.267

Хозяйство	
Общественное деление	Колоны и ...
Государственная власть	«Доминус» в IV-V вв.
Культура	



Легионы



Император «доминус»

законы



Вселенский церковный собор



Канцелярии



С помощью схемы в учебнике (с. 245) и на слайде сравни управление Римской империей I–II и IV–V веков. В чём сходство и отличия?

I-II



Варвары



Колоны и рабы





Римские граждане



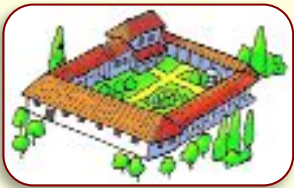
Священники





На основе схемы в учебнике на с. 268 предположи, почему стало выгодно использовать труд колонов.

Позиция



Я считаю, что _____

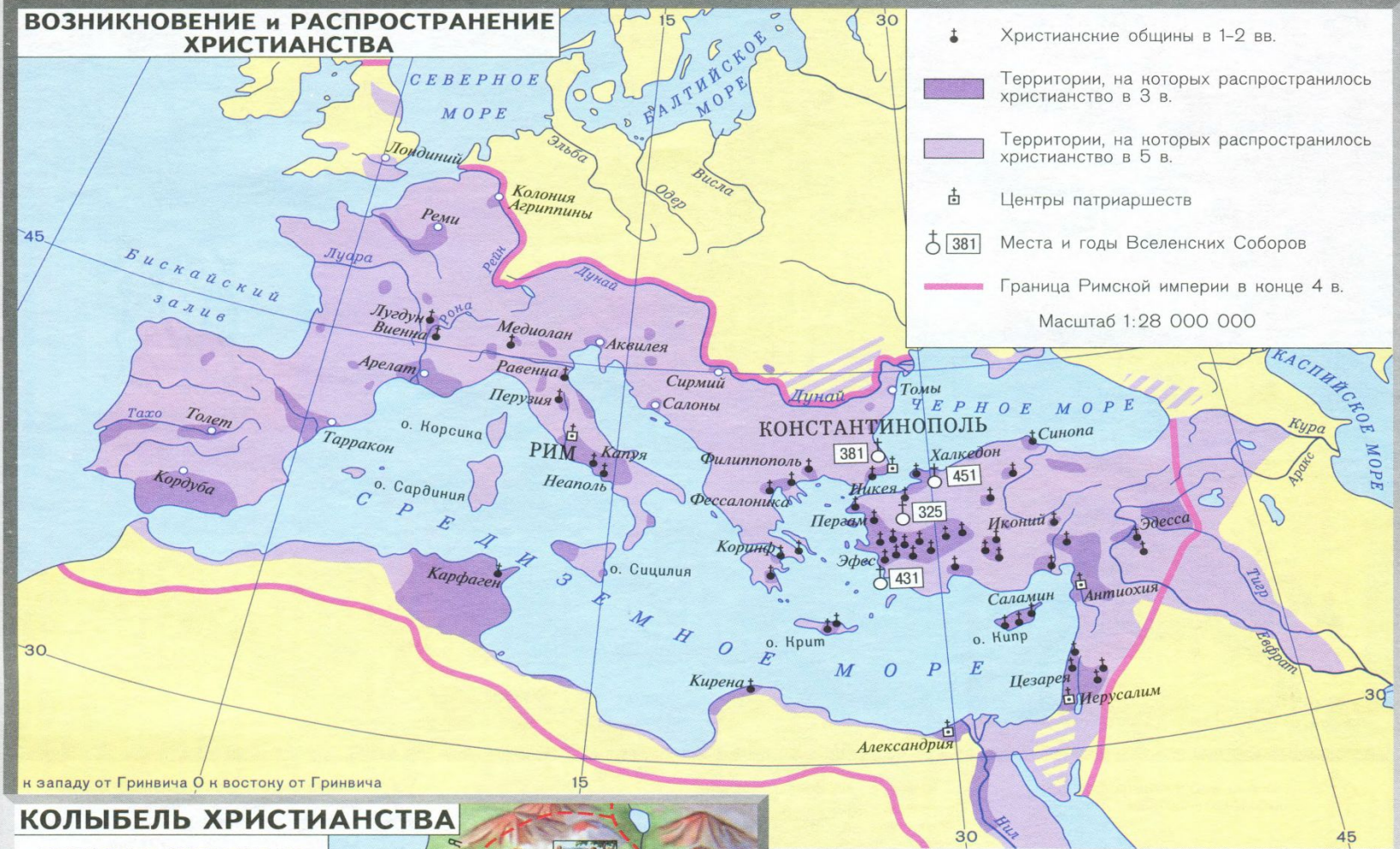
Аргумент(ы)



потому что _____

ДРЕВНИЙ РИМ

ВОЗНИКНОВЕНИЕ и РАСПРОСТРАНЕНИЕ ХРИСТИАНСТВА



КОЛЫБЕЛЬ ХРИСТИАНСТВА

ОСНОВНЫЕ СОБЫТИЯ ИЗ ЖИЗНИ ИИСУСА ХРИСТА




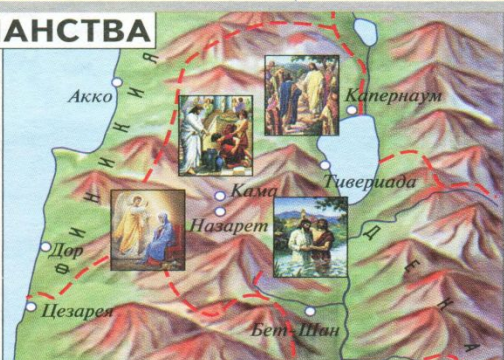
Благовещение



Рождение Христа




Крещение Христа





С.269-272




Попробуй объяснить принятие Константином христианства с двух разных позиций: искренне верующего христианина и расчётливого римского чиновника. Каждую позицию объясни, опираясь на факты.

Я считаю, что Константин был искренне верующим христианином,	Но, с другой стороны, как расчётливый римский чиновник, Константин принял христианство,
потому что _____ _____ _____	потому что _____ _____ _____







Вывод



**ПОЗДНЯЯ РИМСКАЯ
ИМПЕРИЯ ИЗМЕНИЛА
МНОГИЕ ПОРЯДКИ И
СТАЛА ХРИСТИАНСКОЙ
СТРАНОЙ**



ПРИМЕНЯЕМ НОВЫЕ ЗНАНИЯ



Отметь соответствующими цифрами на ленте времени следующие даты: **1** – 30-е гг. н.э., **2** – 313 год н.э., **3** – 44 год до н.э. Обведи ту из них, которой соответствует закон Константина о свободе вероисповедания.

I тысячелетие до н.э.					Наша эра				
V	IV	III	II	I	I	II	III	IV	V

Христианство возникло в I веке. Подсчитай, сколько веков назад это было.