




Встреча миров.

***Великие географические открытия
и их последствия***

1. Плавание Колумба и открытие Америки



Христофор Колумб

Испанцы, как и португальцы искали пути в Индию. Многие считали, что Земля - шар и поэтому надеялись отыскать Индию, плывя на Запад. В 1484 г выходец из Генуи – **Христофор Колумб**, обратился с таким предложением к Фердинанду и Изабелле.

В **1492** г. на 3 кораблях он отправился на запад. Через 70 дней один из матросов заметил Землю.

1. Плавания Колумба и открытие Америки

Теодор де Бри .
Радушие туземцев.



Колумб не сомневался, что открытые им острова – это **Индия**. Местные жители легко отдавали испанцам драгоценности. Колумб вернулся на одном корабле, но привез столько сокровищ, что Фердинанд и Изабелла согласились снарядить новые экспедиции (еще 3), но золота он не нашел.

Открытие Америки



Всего Колумб совершил 4 путешествия к Америке:

Первое путешествие (3 августа 1492 — 15 марта 1493).

Второе путешествие (25 сентября 1493 — 11 июня 1496).

Третье путешествие (30 мая 1498 — 25 ноября 1500).

Четвёртое путешествие (9 мая 1502 — ноябрь 1504).

2. Америго Веспуччи

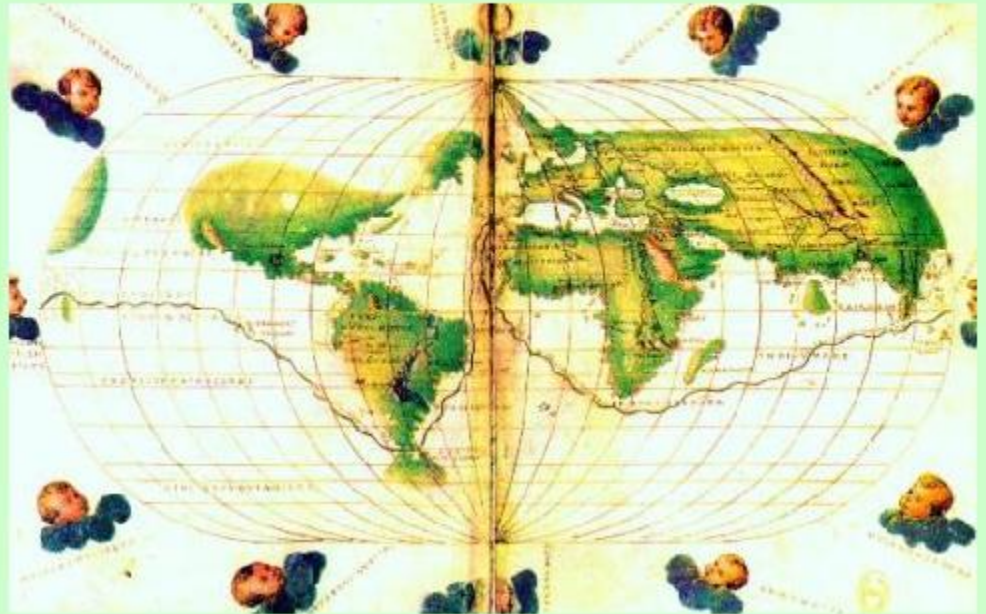
Теодор де Бри.
Америго Веспуччи.
Миниатюра 16 в.



Колумб был уверен, что открыл путь в Индию. Только экспедиция **Америго Веспуччи**, доказала, что это - новый неизвестный материк. Позднее он получил имя - **Америка**. Испанцы и португальцы задались вопросом - а что дальше на Западе ?

3. Плавание Магеллана

Планисфера Агнеса
с маршрутом
Магеллана.



В 1519-1522 гг. Фернандо Магеллан на 5 кораблях пересек Атлантику, обогнул Южную Америку, открыв пролив названный его именем и вышел в Тихий океан. Плавание по нему продолжалось 4 месяца, пока путешественники не добрались до Филиппин. Здесь Магеллан погиб, но 1 корабль все же сумел добраться до Испании.

Сферичность Земли была доказана на практике.

4. Колонизация «новых» земель



Конкистадоры
в Америке

После открытия новых земель испанцами и португальцами началось их завоевание Конкиста. Через океан устремились обедневшие рыцари, миссионеры, авантюристы. Их девиз: **«Бог, слава и золото»**. Завоеванные территории превратились в колонии Испании и Португалии.

5. Испанцы и португальцы в Новом свете

Благодаря превосходству в вооружении, хитрости, противоречиям среди правителей инков и начавшейся эпидемии отряд Писарро овладел огромными территориями. Новая колония получила название Перу.



Воины инков

Правитель инков –
«Великий инка»



5. Испанцы и португальцы в Новом свете

В 1532 г. отряд испанских конкистадоров под командованием Франсиско Писарро начал завоевание огромной империи инков.



Франсиско Писарро

Империя инков



6. Владения португальцев в Азии



Португальские
корабли в
Каликуте

Португалия не могла завоевывать большие страны, поэтому захватывала только важные опорные пункты на побережье Индии, Вост.Африки, Аравии и островов в Индийском океане. Португальцы взяли под контроль торговлю ценными азиатскими пряностями. Установив торговые связи с Японией и Китаем, португальцы завозили в Европу шелк и фарфор.

7. Значение Великих географических открытий



Планисфера
Кантино 1503 г.

Благодаря Великим географическим открытиям изменились представления европейцев о мире. Получила подтверждение идея о шарообразности Земли, открывались и исследовались новые земли. Толчок к развитию получили география, астрономия, история.


7. Значение Великих географических открытий



Амстердам 16
век

Благодаря развитию морской торговли, быстро росли и процветали новые океанские порты – Севилья, Лондон, Лиссабон, Антверпен, Амстердам.

7. Значение Великих географических открытий



Экономические потрясения в Европе вели к упадку феодальную систему хозяйства. Начиналось зарождение **КАПИТАЛИСТИЧЕСКИХ** отношений.

Пр Европе. Это привело к росту цен на все товары. «Старая» аристократия оказалась на грани разорения, выиграли те, кто занимался операциями с деньгами (купцы, ростовщики), выиграли и крестьяне, продававшие на местных рынках излишки продуктов своего хозяйства.

Домашнее задание

1. Изучить параграф 2
2. Ответить на вопросы на стр. 26 (устно)
3. Задание
№ 4 стр. 25

