

Самостоятельная работа № 3




1



2



3



**1. В каких странах
расположены эти сооружения?**

1



2



3



**2. В каких странах
стоят эти ворота?**

1



2



3



**3. В каких странах
были найдены эти изображения?**

4. В каких странах можно встретить эти сооружения?

1



2



3



4




1




2



3




4




**5. Какое изображение здесь лишнее?
Объясните свой ответ.**

1




2




3



4



**6. Какое изображение лишнее?
Объясните свой ответ.**



1



2

**7. В чем
принципиальное
различие этих
изображений?**

8. Продолжите следующие предложения:

- a. «Дорога восхождения» в Древнем Египте сооружалась от ... к**
- b. Ступа в Индии предназначалась для**
- c. Обелиски в египетских храмах чаще всего ставили перед**
- d. Конструкция из стоек и балки, помещенной на них, называется ...**
- e. Чаще всего для пещерных рисунков древние люди применяли глиняную краску, которую сегодня называют**
- f. В Китае роль индийской ступы выполняет**
- g. Кромлех – это**

**9. Как вы
думаете,
почему**



**Эти сооружения мы
относим к
произведениям
архитектуры?**

