



**Какому событию
посвящены фотографии?**

**● Великая
Отечественная
война**

● 1941 – 1945 гг.



22 июня 1941 года

- Казалось, было холодно цветам,
- И от росы они слегка поблекли.
- Зарю, что шла по травам и кустам,
- Обшарили немецкие бинокли.
- Цветок, в росинках весь, к цветку приник,
- и пограничник протянул к ним руки.
- А немцы, кончив кофе пить, в тот миг
- влезали в танки, закрывали люки.
- Такою всё дышало тишиной,
- что вся земля ещё спала, казалось.
- Кто знал, что между миром и войной
- всего каких-то пять минут осталось!

Задача №1.

Уже в первый день немецкая авиация разбомбила ___ аэродромов и уничтожила на земле и в воздухе _____ советских самолетов.

Выполните вычисления и заполните пропуски в тексте.

$$\text{Аэродромов: } - 125 * 8 : (-25) + 26$$

$$\text{Самолетов: } (600 * 0,15 + 60) * 8$$



21	-16	-32	21	-16	-32	-12	-34	-34	-16

Задача №2

План нападения на СССР был утвержден Гитлером 18 декабря 1940 года. Он был рассчитан на молниеносную войну и предполагал разгром вооруженных сил СССР.

Какое название имел план Гитлера?

Выполните задания и запишите в таблицу буквы, соответствующие найденным ответам.



Задания:

С: Вычисли $-17 - 17 =$

О: Вычисли $11 - 23 =$

Р: Вычисли $-7 - 25 =$

А: Вычисли $-37 + 21 =$

Б: Вычисли $12 - (-9) =$

Ответ : План Гитлера молниеносной войны назывался _____.

Великая Отечественная война прошла в своем развитии 3 крупных периода:

- 1) начальный период (22 июня 1941 года-18 ноября 1942 года);
- 2) период коренного перелома (19 ноября 1942 года-конец 1943 года);
- 3) период освобождения от агрессора и разгрома фашисткой Германии (1944 год – 9 мая 1945 года).

- Первой и единственной победой на начальном этапе войны стала Московская битва (30 сентября 1941 – январь 1942 гг.), с которой наметился коренной поворот войны в пользу СССР и противник перешел к стратегии затяжной войны.



С Красной площади танки направляются на фронт





Дневник Тани Савичевой






«ВЕЛИКАЯ ПОВЕДА ОДЕРЖАНА СОВЕТСКИМИ ВОЙСКАМИ ПОД ЛЕНИНГРАДОМ:

- **Задача №3**
- **Построить систему координат и отметить точки.**
- **M (0; 4)**
- **L (- 1; 10)**
- **C (-1: 6)**



Основными событиями второго периода войны стали разгром немецких войск под Сталинградом (19 ноября 1942 года – 2 февраля 1943 года), Курская битва (5 июля -23 августа 1943 года), битва за Днепр, освобождение Кавказа.



● Задача № 4

- Во время боя командир отправил $0,4$ всех своих солдат на переднюю линию боя, а остальных солдат разделил на два отряда для обороны левого и правого флангов. На левом фланге отряде было в 5 раз больше солдат, чем на правом. Сколько солдат было на правом и сколько на левом фланге, если всего у командира в подчинении было 800 солдат?

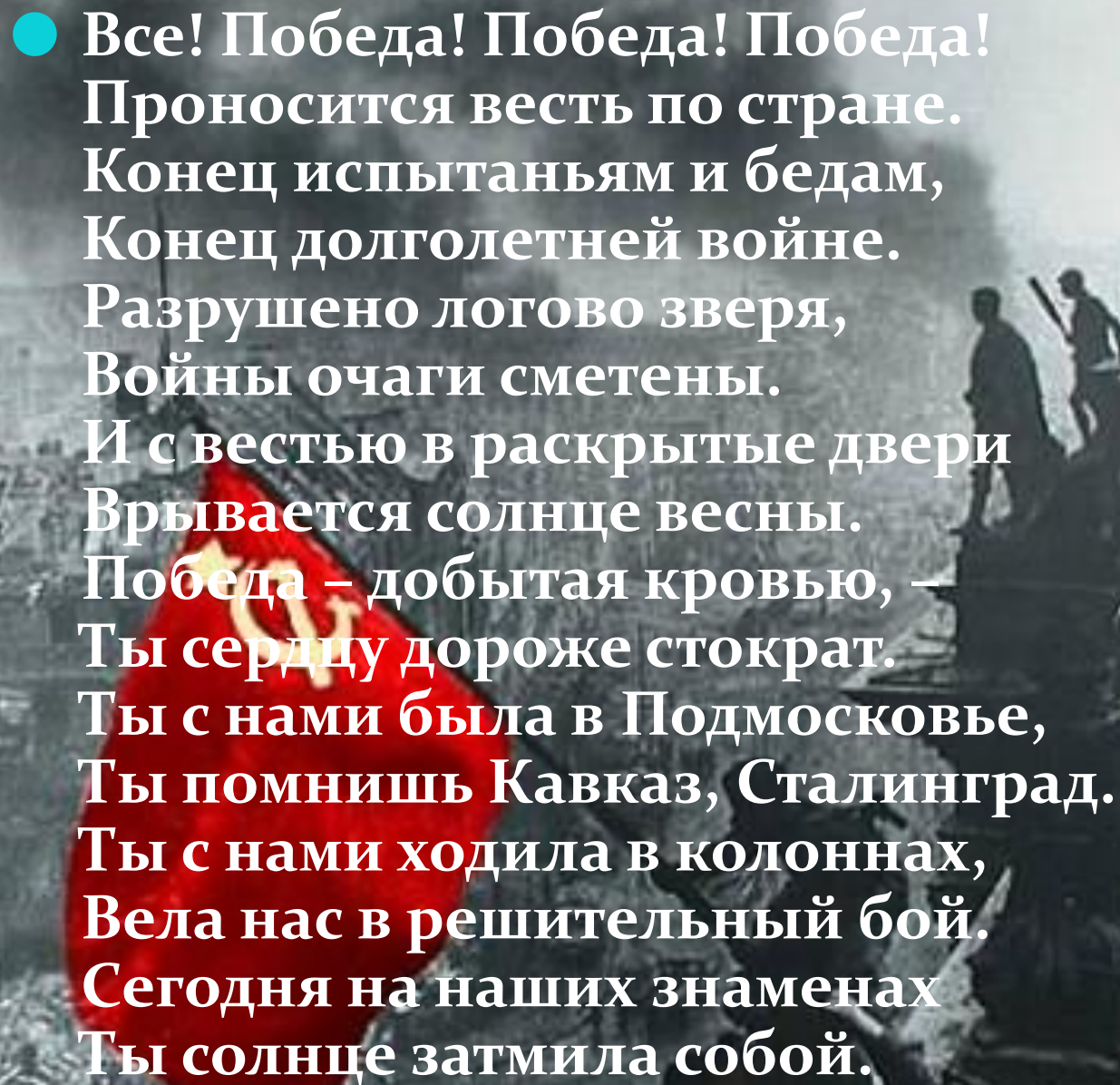



9 мая 1945 г. Москва салютовала
победителям. 24 июня 1945 г.
состоялся **Парад Победы.**



*Начальник генерального штаба Верховного
главнокомандования вермахта В. Кейтель подписывает
Акт о безоговорочной капитуляции Германии*



- 
- A black and white photograph of a war-torn city. In the foreground, a large red flag with a yellow hammer and sickle emblem is partially visible. The background shows a city in ruins, with smoke rising from the ground. Two figures are visible on a rooftop in the distance. The overall scene is one of devastation and the aftermath of a battle.
- Все! Победа! Победа! Победа!
Проносится весть по стране.
Конец испытаньям и бедам,
Конец долголетней войне.
Разрушено логово зверя,
Войны очаги сметены.
И с вестью в раскрытые двери
Врывается солнце весны.
Победа – добытая кровью, –
Ты сердцу дороже стократ.
Ты с нами была в Подмосковье,
Ты помнишь Кавказ, Сталинград.
Ты с нами ходила в колоннах,
Вела нас в решительный бой.
Сегодня на наших знаменах
Ты солнце затмила собой.



**Спасибо,
вы хорошо
поработали!**