

Города Древнего мира



- Вавилон
- Кносс
- Мемфис
- Ниневия
- Афины
- Тир
- Иерусалим

- ❖ Вавилон
- ❖ Мемфис
- ❖ Ниневия
- ❖ Тир
- ❖ Иерусалим
- ❖ Афины
- ❖ Кносс

Древнейшая Греция. Греки и критяне.



План:

1. Географическое положение.
2. Миф о Тесее и Минотавре.
3. На Древнем Крите.
4. Гибель Критского царства.

Алгоритм чтения исторической карты:

1. Прочитай название карты (в нём содержится информация о территории, изображённой на карте и времени, к которому относится изображение);
2. Ознакомься с легендой карты (это условные знаки, которые позволят тебе прочитать информацию, изображённую на карте);
3. Чтение информации на карте начинай с самых крупных объектов и постепенно двигайся к более мелким:
 - а) Определи природно-климатические признаки территории (в какой части света находится, какими морями омывается);
 - б) Определи признаки государства (граница, столица, государства-соседи.);
 - в) Определи деятельность человека, отображённую на карте (это могут быть военные походы, торговые пути). Помни, что движение на карте всегда обозначается стрелкой.

Задание!




- В группах внимательно изучите карту и ее легенду на странице 115 учебника, кратко запишите ответы на вопросы карточки

Древняя Греция



" Миф о Тесее и Минотавре "




Вопросы:	Ответы:
1. Кто такой Минотавр?	чудовище Лабиринта
2. Кто такой Эгей?	царь Афин
3. А как звали сына царя Эгея?	Тесей
4. Какой подвиг совершил Тесей?	убил Минотавра
5. Что такое лабиринт?	здание с сотнями коридоров
6. Кто такой Минос?	царь Крита
7. Кто помог Тесею выбраться из лабиринта?	Ариадна, дочь Миноса
8. К кому за помощью обратилась девушка?	к Дедалу, строителю Лабиринта

Дворец на острове Крит



Дворец на острове Крит




Световой колодец



Роспись «Игры с быком»



Извержение вулкана на острове Фера XV в. до н.э. Гибель минойской цивилизации



Закрепление:

№1. Впишите недостающие слова.

Греция расположена в Европе, в южной части _____ полуострова. На морях, омывающих Грецию много островов, самый большой из них _____ . Более трех с половиной тысяч лет назад в Греции существовали города: _____ .

№2. Зачеркни неправильный ответ:

Главными занятиями жителей Греции были: морская торговля, земледелие, рыболовство, скотоводство.

№3. Впишите недостающие буквы в имена героев мифов.

1. М _ _ _ с – царь Крита 3. А _ _ _ _ _ а – дочь критского царя.
2. Э _ _ _ й – царь Афин. 4. М _ _ _ _ _ _ р – чудовище, жившее в лабиринте.

Домашнее задание:



- Базовый: §24,пересказ, р.т. стр. 6 № 6.
- Повышенный: Объяснить значение выражения «Нить Ариадны».
- Творческий: Рисунок к мифу о Тесее и Минотавре.