

---

# ИСТОРИЧЕСКАЯ ИГРА

## «Итоги правления Екатерины II»



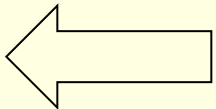
Личность Екатерины II	Внутренняя политика	Внешняя политика
<u>100</u>	<u>100</u>	<u>1100</u>
<u>300</u>	<u>300</u>	<u>3300</u>
<u>500</u>	<u>5500</u>	<u>500</u>

# Личность

---

**Назовите французских просветителей, труды которых оказали влияние на проведение внутренней политики Екатерины II?**

**100 баллов**

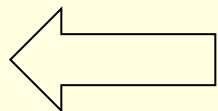


# Личность

---

Ответ: Вольтер, Дидро

**100 баллов**



# Личность

---

Кот в мешке

**Назовите настоящее имя  
Екатерины II**

**300 баллов**

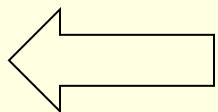


# Императрица: эпоха и личность

---

Ответ: София  
Фредерика Августа  
Анхальт-Цербстская

300 баллов



# Личность

---

Назовите фаворита Екатерины II,  
главнокомандующего штурмом крепости  
Очаков?

500 баллов

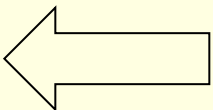


# Личность

---

Ответ: Г.А. Потемкин

500 баллов





# Внутренняя политика

---

Назовите идею, которой руководствовалась Екатерина II при проведении внутренней политики?

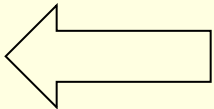
**100 баллов**

# Внутренняя политика

---

**Ответ: Просвещенный  
абсолютизм**

**100 баллов**



# Внутренняя политика

---

Перечислите три основных преобразования в сфере центрального и местного самоуправления

**300 баллов**

# Внутренняя политика

---

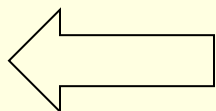
**Ответ:**

**1763 г. – реформа Сената**

**1775 г.- Губернская реформа**

**1785 г. – «Жалованная грамота  
городам»**

**300 баллов**



# Внутренняя политика

---

Кем представлялся Емельян Пугачев,  
когда призывал идти за собою  
восставших?

**500 баллов**

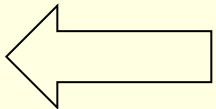
# Внутренняя политика

---

**Ответ:**

**Петром III**

**500 баллов**



# Внешняя политика

---

**Назовите три основных события внешней политики второй половины XVIII вв.**

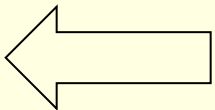
**100 баллов**

# Внешняя политика

---

**Ответ: Русско-турецкая война  
1767-1774 гг., Русско-турецкая  
война 1787-1791 гг., Раздел  
Речи Посполитой**

**100 баллов**





# Внешняя политика

---

**В чем состоит значение Кючук-Кайнарджийского мира России и Османской империи?**

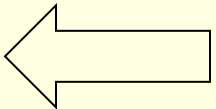
**300 баллов**

# Внешняя политика

---


**Ответ:** Россия получила выход в  
Чёрное море

**300 баллов**



# Внешняя политика

Рассмотрите картину и скажите, какое событие и какой войны на ней изображено?



**500 баллов**

# Внешняя политика

---

**Ответ:**

**И. Айвазовский «Чесменский бой»**

**500 баллов**