

**Фурманов
орта
мектебінің
Тарих пәнінің
мұғалімі:
Болғанбаева
Лаззат
Муратбековна**



§36. Қазақ хандығының құрылуы





Сабақтың мақсаты:

Білімділік: Қазақ хандығының құрылу тарихымен таныстыру, Жәнібек пен Керей хандардың халқына, жеріне, еліне сіңірген қызметімен таныстыру.

Дамытушылық.: Картамен жұмыс жасауға, өз бетінше қорытынды жасауға, ізденіске дағдыландыру. Ойлау қабілеттерін дамыту.


Тәрбиелік: Өз елінің тарихына, адал ұлдарына деген құрмет сезімін қалыптастыру..

Сабақтың түрі: Ойын сабақ

Сабақтың әдісі: тест, топтық жұмыс, сұрақ-жауап, талдау.

Сабақтың құрал-жабдықтары: Слайдтар, карталар, Керей мен Жәнібектің портреттері, т.б.

Күтілетін нәтиже: сабақты толық меңгерту.



Қазақ хандығын құрған Керей-Жәнібек



Жәнібек пен Керей хандары





1-топ
«Хандар»

2-топ
«Батырлар»

3-топ
«Билер»

**ТОПТЫҚ
ЖҰМЫС:**

Рөлдік ойын



Венн

диаграммасы

Керей мен
Жәнібек

Нұрсұлтан
Әбішұлы
Назарбаев





Венн диаграммасы



**Қазақ
хандығының
аумағы,
халқы**

**Қазақстан
Республикасы
Аумағы мен
халқы**



**Қазақ
хандығы**

**Қазақстан
Республикасы**

Венн

диаграммасы



Деңгейлік

тапсырма

Кім?

1

2

3

Қайда?

1

2


3

Қашан?

1

2


3





KIM?


***1. Әбілхайыр ханға бас имей
қарсылық білдіріп, көшіп
кеткен, тұңғыш қазақ
хандығын құрған қай
сұлтандар? Не себепті?***





KIM?


***2. Кімдер дербес қазақ хандығын
құруға ұмтылыс жасап Керей мен
Жәнібек сұлтандарды паналады?
Неліктен?***





KIM?

***3. Керей мен Жәнібек сұлтанды
құшақ жая қарсы алған қай хан?
Оның түпкі ойы неде?***






ҚАЙДА

?

Картамен жұмыс

*1. Қазақ хандығының
территориясы*






ҚАЙДА

?


*2. Қазақ хандығының
астанасы, картадан көрсет*





ҚАЙДА?

***3. Қазақ хандығының
байланыс жасаған елдері.
Картадан көрсет***






ҚАШАН

?

1. М.Х.Дулати еңбегінде Керей мен Жәнібектің Батыс Жетісуға көшіп келген уақыты.






ҚАШАН

?

***2. Керей мен Жәнібектің
Шу бойына келіп
орналасқан уақыты.***






ҚАШАН

?

*3. Керей сұлтан хан
сайланған уақыт.*



I. Қазақ хандығының іргесін қалаған кім?

- | | |
|------------------|--------------------------|
| 1. Қасым хан | 3. Орыс хан |
| 2. Әбілхайыр хан | 4. Жәнібек пен Керей хан |

II. Қай жылы Жәнібек пен Керей Әбілхайыр хандығынан көшіп кетті?

- | | |
|---------|-----------------|
| 1. 1457 | 3. ХҮг. 50-60ж. |
| 2. 1458 | 4. 1461 |

III. Қандай екі негізгі дамыған аудандар Қазақ мемлекетінің құрылуы және күшеюінде маңызды рол атқарды?

1. Түркістан мен Мауераннахр
2. Түркістан мен жетісу
3. Шығыс Дешті Қыпшақ пен жетісу
4. Мауераннахр мен Жетісу

IV. Жәнібек пен Керей қай хандықтан көшіп шықты?

- | | |
|----------------------|---------------|
| 1. Әбілхайыр хандығы | 3. Ақ Орда |
| 2. Моғолстан | 4. Ноғай Орда |

V. Қазақ хандығында халықаралық даулы мәселелерді шешуге қатысуға кімнің құқы болмады?

- | | | |
|--------------|----------------|----------|
| 1. елші | 2. арнайы өкіл | 3. жаушы |
| 4. тәржімеші | 5. төленгіт | |

VI. Дипломатиялық іс-қағаздар жүргізетін тілдер тізіміндегі қатені көрсет:

- | | | |
|--------------|--------------|---------------|
| 1. орыс тілі | 2. араб тілі | 3. түркі тілі |
|--------------|--------------|---------------|

VII. Сыртқы саясатта қолданылатын әдістердегі қатені көрсет:

- | | | |
|-----------------------|------------------|----------|
| 1. аманатқа адам беру | 3. әулеттік неке | 5. соғыс |
| 2. жер бөліп беру | 4. тыңшылық | |

VIII. М.Х.Дулати дерегіне қарағанда қазақтар мен Моғолстан арасындағы бейбітқатынастар қанша жылға созылды?

- | | | |
|-------|-------|--------|
| 1. 20 | 3. 50 | 5. 100 |
| 2. 30 | 4. 70 | |

IX. Билік басында болғанда жеке басының мүддесін ел мүддесінен жоғары қойып қателікке ұрынған қазақ ханы?

- | | | |
|------------|-------------|----------|
| 1. Жәнібек | 2. Бұрындық | 3. Керей |
|------------|-------------|----------|

X. Керей хан қайда жерленген?

- | | |
|----------------|--------------------------------------|
| 1. Түркістанда | 2. Оңтүстікте «Хан тауы» деген жерде |
| 3. Сарайшықта | |

ТЕСТ



Математикалық ойын

$$4000/2-532=$$

$$400 \times 3 + 148 =$$

$$2800 + 105 - 1500 =$$

$$728 \times 2 + 0 =$$

$$4000 + 221 - 3000 =$$

$$500 \times 2 + 395 =$$

$$3800/2 - 91 =$$

(Әбілқайыр ханның қайтыс болған жылы)

(Моғолстанның құрылған жылы)

(Әмір Темірдің қайтыс болған жылы)

(Қазақ хандығының құрылған жылы)

(Шыңғысханның Орта Азияны жаулауды аяқтауы)

(Тоқтамыс пен Темірдің шешуші шайқасы)

(ҚР-ның Тәуелсіздік алған жылы)







Сабақты қорытындылау:

Мен не үйрендім? (сызбаны толтыру).

Білемін V

Мен үшін түсініксіз +

Мен үшін жаңа ақпарат?

Білемін	Толық түсінбедім	Мен үшін жаңа ақпарат

Үйге тапсырма: «Егер мен хан болсам.....» деген тақырыпта ой толғау жазу. Білімгерлерді бағалау.

