

# Проверочная работа «Европа в Раннее Средневековье»

6 класс



MOSCVA  
al Archiepiscopus Federi Borissowis

Thomas, Medicus, in sua Lithuanica Tabula, hanc per se vidit. 50 gr. in  
Circulo ad 40 per gradus et octo minutis in latitudine versus Moscoviam a Cyprius  
Abulca. Tabula vero quae vidit, ad latitudinem hanc sui non vidit.  
Mordvianus, Agor, non non a. A. in latitud. a. 6. grad. collectis. cum vero  
m. et octo. pariter. Septentrionalis non nisi per hanc collectis. itaq. in  
hanc partem. ad latitudinem hanc in hanc latitud. in hanc non fin. non fin. non fin.  
in hanc partem. ad latitudinem hanc in hanc latitud. in hanc non fin. non fin. non fin.  
Mordvianus, pallidus. declinans. inferioris. in declinans. pariter.  
ad hanc partem. quod Angli. in hanc partem. in latitud. 48. grad. non  
fin. non fin. non fin. non fin.

TABVLA  
RVSSIAE  
ex antiquo, quod delineandum  
curavit Federi filius Eari Boris domi-  
ta et ad hanc Dvian, Zachanum, aliisque  
locis, quoniam. ex vidit et vidit. ad hanc  
loci. fieri prout, ampliat: ac  
Magno Domino, Izari et Magno  
Duci Michaeli foedrovit omnium  
Rusorum, Autoritati Velsimerie, Mel-  
covit et Novogardie, Tzar Cerantie Tzar  
Alitancie, Tzar Siberie, Domino Flacovis  
Magno Duci Smolenovis, Ovetrie, Ingozie, Per-  
mie, Wiatkic, Bulgaria etc. Item Domino  
et Magno Duci Novogardie Inferioris etc.  
Domino regionum Iverie Kartaline  
et Geonine Izari etc.  
delinita a  
Hessle Gerardo  
M. DC. XIII



# 1. Где проживали древние германцы?

а) в Африке

б) в Европе и на Скандинавском полуострове

в) в Америке

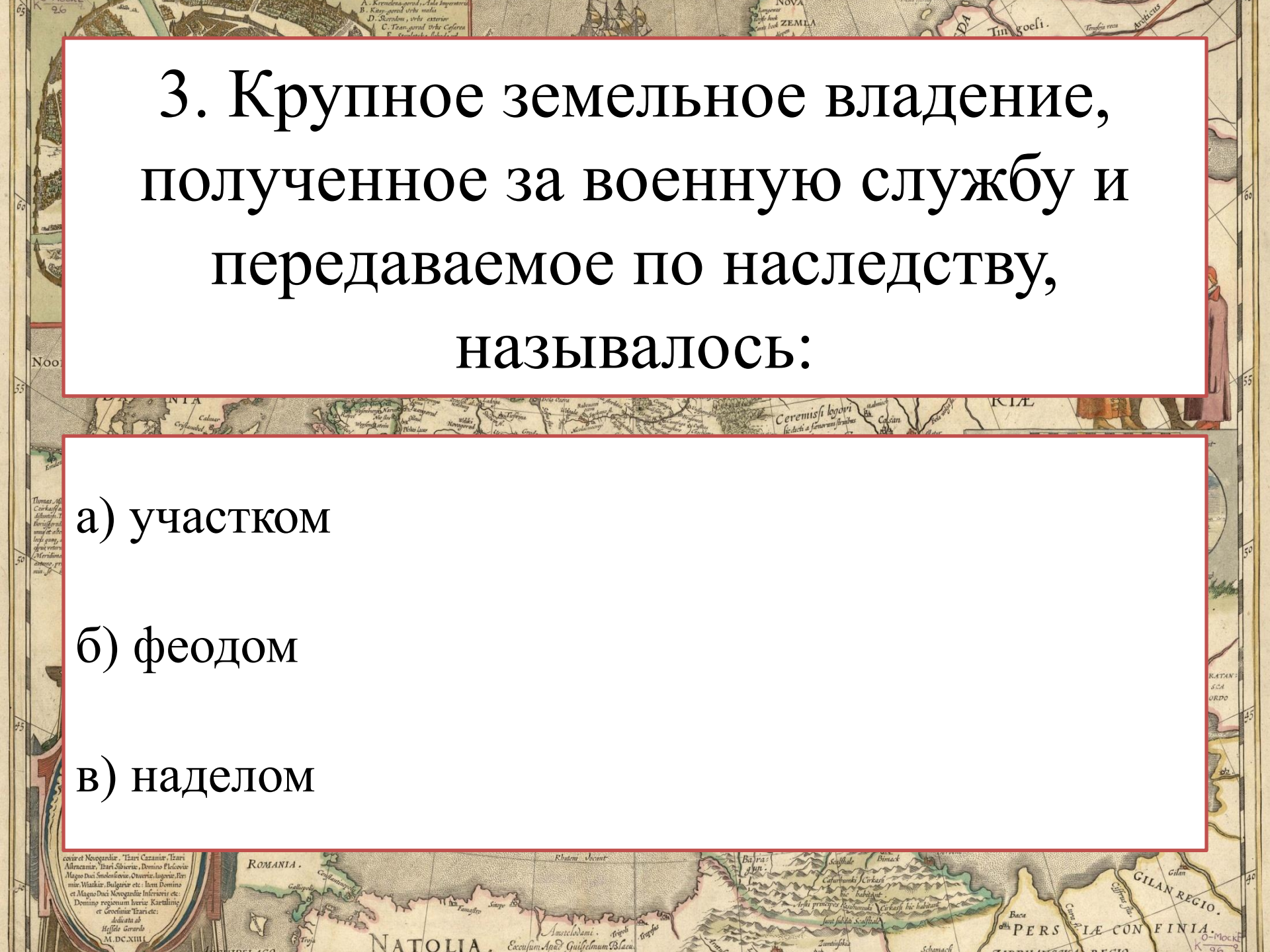


## 2. Как называлась династия королей, начало которой положил Хлодвиг?

а) Капетинги

б) Меровинги

в) Каролинги

The background is a historical map with various geographical labels and text boxes. The top box contains the main question, and the bottom box contains three multiple-choice options. The map shows regions like Romania, Natolia, and Persia.

3. Крупное земельное владение,  
полученное за военную службу и  
передаваемое по наследству,  
называлось:

а) участком

б) феодом

в) наделом

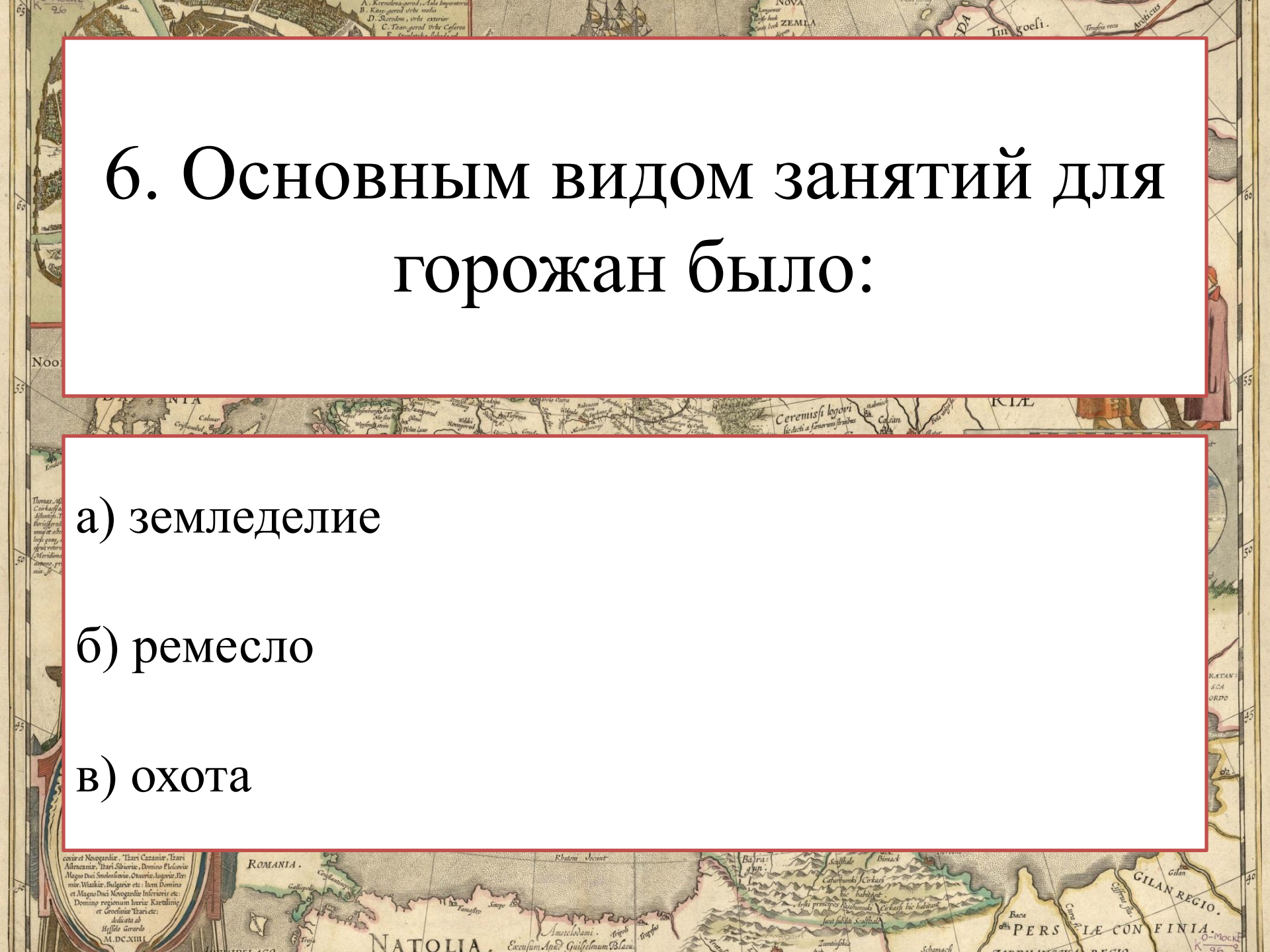
4. Дополните ряд.

После раздела империи Карла  
Великого образовались государства:  
Франция, Италия, \_\_\_\_\_ :

5. Дополните ряд.

Славянские племена делились на три  
ветви : западную, южную и

\_\_\_\_\_ :

A historical map of Eastern Europe and the Middle East, showing regions like Romania, Natolia, and Persia. The map is detailed with geographical features, cities, and Latin text. A red rectangular box is overlaid on the top half of the map, containing the main title. Another red rectangular box is overlaid on the bottom half, containing a list of options.

# 6. Основным видом занятий для горожан было:

а) земледелие

б) ремесло

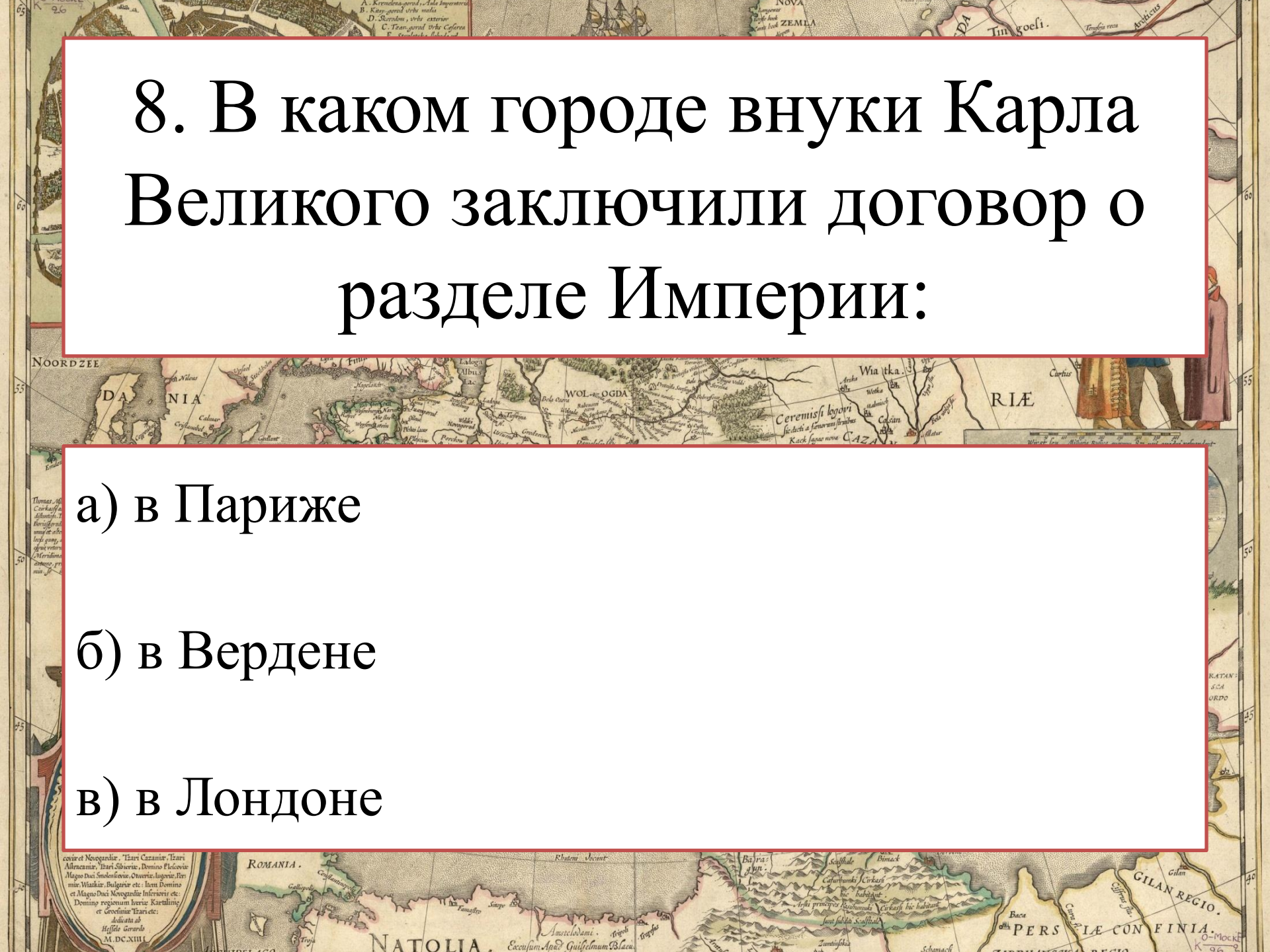
в) охота

# 7. Карл Великий стал Римским императором:

а) в 768 г.

б) в 800 г.

в) в 1011г.

The background is a historical map, likely from a 17th-century travelogue or atlas, showing parts of Eastern Europe and the Middle East. The map includes labels for 'NOVA ZEMLA', 'DANIA', 'WOL-OGDA', 'RIÆ', 'ROMANIA', 'NATOLIA', and 'GILAN REGIO'. There are also some decorative elements like a figure in a purple robe on the right side. A large red-bordered box is superimposed on the map, containing the main text.

# 8. В каком городе внуки Карла Великого заключили договор о разделе Империи:

а) в Париже

б) в Вердене

в) в Лондоне



# 9. Специальным поселением монахов считались:

а) города

б) деревни

в) монастыри

# 10. Соотнесите понятия:

А) Хлодвиг

Б) Артур

В) Гуго Капета

1) основатель  
династии

Капетингов

2) король франков

3) рыцарь Круглого  
стола

# Проверь себя

1-б

2-б

3-б

4-Германия

5-восточную

6-б

7-б

8-б

9-в

10: а2 б3 в1



$$10-9 = 5$$

$$8-7 = 4$$

$$6-5 = 3$$

$$4-0 = 2$$