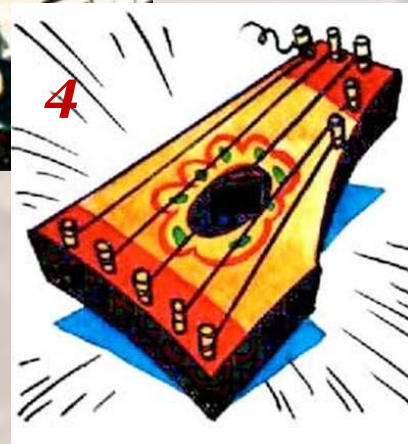

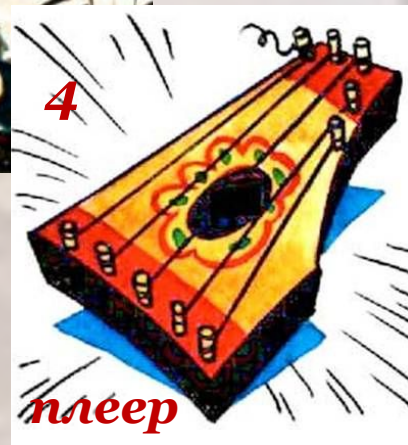



# ОПРЕДЕЛИТЕ, КАКИЕ ИЗОБРЕТЕНИЯ ПРЕДВОСХИТИЛИ ДАННЫЕ ОБРАЗЫ



# ОПРЕДЕЛИТЕ, КАКИЕ ИЗОБРЕТЕНИЯ ПРЕДВОСХИТИЛИ ДАННЫЕ ОБРАЗЫ





Дар созидания:  
окружающая среда

архитектура

# Первобытная архитектура:



*шалаш*

*чум, юрта,  
яранга, кибитка  
вигвам,  
(переносная  
хижина)*



# Первобытная архитектура:



*пещера*



*хижина -  
землянка*



# Первобытные поселения:



- Рассмотрите рисунок и определите, почему именно это место выбрали люди для строительства поселения?

холм

излучина  
реки

безлесная  
местность

земля, пригодная  
для земледелия

отсутствии  
других  
поселений


# Чудеса древнего мира:

*Зиккураты –  
мегалиты из  
необожженногo  
кирпича*



# Чудеса древнего мира:

*Каменные пирамиды древнего Египта*



*- Какие научные знания использовались при строительстве пирамид?*



# Чудеса древнего мира:

*Колонны –  
изобретение  
древних греков*



*дорическая*



*ионическая*



*коринфская*



# Чудеса древнего мира:

## Акрополь в Афинах




*- Какие научные знания использовались при строительстве?*

# Чудеса древнего мира:


## Римский арочный акведук



еае адеаеё деінеор адео аеаааае.мп4



**- Какие научные знания использовались при строительстве?**



# Домашнее задание :

- *Стр. 124 – 125*
- *Найдите схему создания и примеры применения свода и купола*

