

Древняя Греция. Греки и критяне.

Имя в истории

Угадайте о какой
выдающейся
личности идет речь?

1. Он был самым могущественным и знаменитым царем Вавилона, правил с 1792 по 1750 гг. до н.э. Сам бог солнца Шамаш вручил ему жезл – символ власти над людьми. Именно ему принадлежит создание сборника законов, за нарушение которых постигнет суровое наказание.



2. Духовный учитель, основатель буддизма. В раннем возрасте, задумавшись о смерти, стал отшельником; обрел мудрость, предаваясь глубокому размышлению о жизни.



3. Древний мыслитель и философ Китая. Его учение оказало глубокое влияние на жизнь Китая и Восточной Азии, пользовался большим уважением среди китайцев.



Достопримечательности

Назовите указанные на
изображениях
достопримечательности и
страну, где они созданы.







ПРОВЕРЬ СЕБЯ!

1 задание:

1. Хаммурапи
2. Будда
3. Конфуций

2 задание:

1. Пирамиды – Египет
2. Великая китайская стена – Китай
3. Большой сфинкс - Египет

Оценка:

- 9 правильных ответов – «5»
- 7-8 правильных ответов – «4»
- 5-6 правильных ответов – «3»

Как вы думаете, зачем нам нужно изучать историю разных стран?

Чем знаменита эта
страна?

О какой стране идет
речь?

1. Знаю



**2. Хочу
знать**

3. Узнал

Blank area for notes under '1. Знаю'

Blank area for notes under '2. Хочу знать'


Blank area for notes under '3. Узнал'



ДРЕВНЯЯ ГРЕЦИЯ. ГРЕКИ И КРИТЯНЕ.

ЦЕЛЬ УРОКА

**изучить местоположение,
природные условия Древней
Греции, их влияние на занятия
древних греков.**



ПЛАН УРОКА

1. географическое положение
2. климатические и природные условия
3. население и культура

РАССКАЖИТЕ И ПОКАЖИТЕ, ГДЕ НАХОДИТСЯ ГРЕЦИЯ



РАБОТА С КАРТОЙ

- В какой части света находится Греция?
- В какой части Европы расположена?
- На каком п-ове находится Греция?
- Какими морями омывается?
- На какие части делится Греция?

Какой же климат в Древней Греции?



«ВЕРЮ – НЕ ВЕРЮ»

-	Климат в Греции холодный, так как с трех сторон омывается морями
-	В Греции, как и в Египте и Междуречье есть полноводные реки
-	Два месяца в году в Греции льют дожди и реки выходят из берегов
+	В Греции жаркое и засушливое лето и мягкая дождливая зима
+	В Греции нет полноводных рек
+	Земли, пригодной под пашню, в Греции немного
+	Почти все греческие города стоят у моря

ПРАВИЛА РАБОТЫ В ГРУППАХ

- Уважай мнение товарища
- Терпеливо выслушай товарища
- Любое мнение ценно
- В каждой мысли есть доля истины.

1 ГРУППА «МУДРЫЕ СОВЫ»



Самостоятельно прочитайте в учебнике миф «О Тесее и Минотавре» с. 116, найдите мудрые мысли и выполните задание:

- Дайте краткую характеристику героев мифа о Тесее и Минотавре:
- Напишите основные занятия древних греков;
- Объясните почему море названо Эгейским?

2 ГРУППА «ЗНАТОКИ»

Самостоятельно прочитайте в учебнике миф «О Тесее и Минотавре» с. 116, найдите мудрые мысли и выполните задание.

— Восстановите последовательность событий и пронумеруйте их.

- Что сказочного в мифе о Тесее?

-Что могло соответствовать исторической действительности?

3 ГРУППА «АРХЕОЛОГИ»

Работа с историческим источником.

- Выпишите основные занятия жителей острова Крит
- По фрагментам древнегреческой посуды сделайте вывод об уровне развития гончарного ремесла.

4 ГРУППА «ПУТЕШЕСТВЕННИКИ»

Прочитайте миф о Дедале и Икаре с.119 уч.

- Дайте характеристику героям мифа?

□ Какие знания о далеком прошлом можно почерпнуть из этого мифа?

□ - Сделайте вывод: чему нас учит этот миф?

ВОТ ТАК ПРАВИЛЬНО!

1-а, 2-а, 3 А-2,Б-1, В-3; 4-в, 5-б

Оценка:

- ▣ 5 правильных ответов – «5»
- ▣ 4 правильных ответа – «4»
- ▣ 3 правильных ответа- «3»

ДОМАШНЕЕ ЗАДАНИЕ

§24,

- 1) Нарисовать рисунок к мифам «О Тесее и Минотавре» или «Дедале и Икар» (на выбор)
- 2)? из рубрики «Подумайте» стр. 120 письменно