

ИСТОРИЧЕСКАЯ КАРТА

- 1 Германия (с колониями)
- 2 Голландия
- 3 Сальвадор
- 4 Никарагуа
- 5 Коста-Рика
- 6 Панама
- 7 Гаити
- 8 Доминиканская Республика
- 9 Парагвай
- 10 Уругвай
- 11 Португалия
- 12 Испания
- 13 Бельгия
- 14 Италия
- 15 Сербия
- 16 Греция
- 17 Румыния
- 18 Болгария
- 19 Либерия
- 20 Того (Герм.)



ПЛАН УРОКА

- 1. Прошлое на карте.**
- 2. История на плане.**
- 3. Контурные карты.**

Домашнее задание

Рабочая тетрадь:
с. 16-23 задания 1-8.



| | | |
|---|--------------------------------------|--------------------------------------|
| Государства Антанты (с колониями) и их союзники | Германия (с колониями) и ее союзники | Государства, сохранявшие нейтралитет |
| Театры военных действий на суше | | |
| | | главные второстепенные |
| Районы военных действий на море | | |
| Германские колонии, захваченные во время войны | | |
| | | Японией Англией и Францией |

Цифрами на карте обозначены:

| | | | |
|----|--------------------------|----|--------------|
| 1 | Гватемала | 11 | Португалия |
| 2 | Гондурас | 12 | Испания |
| 3 | Сальвадор | 13 | Бельгия |
| 4 | Никарагуа | 14 | Италия |
| 5 | Коста-Рика | 15 | Сербия |
| 6 | Панама | 16 | Греция |
| 7 | Гаити | 17 | Румыния |
| 8 | Доминиканская Республика | 18 | Болгария |
| 9 | Парагвай | 19 | Либерия |
| 10 | Уругвай | 20 | Того (Герм.) |

Историческая карта

- изображение Земли или большей части земной поверхности в различные времена истории человечества

Какие бывают карты?

Государства Антанты (с колониями) и их союзники
Германия (с колониями) и ее союзники
Государства, сохранявшие нейтралитет

Театры военных действий на суше
главные // второстепенные
Районы военных действий на море

Германские колонии, захваченные во время войны
Японией Англией и Францией

Цифрами на карте обозначены:

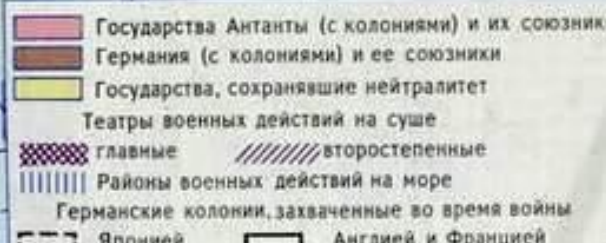
| | | | |
|----|--------------------------|----|--------------|
| 1 | Гватемала | 11 | Португалия |
| 2 | Гондурас | 12 | Испания |
| 3 | Сальвадор | 13 | Бельгия |
| 4 | Никарагуа | 14 | Италия |
| 5 | Коста-Рика | 15 | Сербия |
| 6 | Панама | 16 | Греция |
| 7 | Гаити | 17 | Румыния |
| 8 | Доминиканская Республика | 18 | Болгария |
| 9 | Парагвай | 19 | Либерия |
| 10 | Уругвай | 20 | Того (Герм.) |

Выполните задание № 1 в
рабочей тетради (с. 16)

Историческая карта

отвечает на вопрос,
где произошло событие

помогает увидеть,
какие изменения
произошли на
какой-либо
территории



На
исторической
карте
обозначаются

Места сражений

Старинные крепости

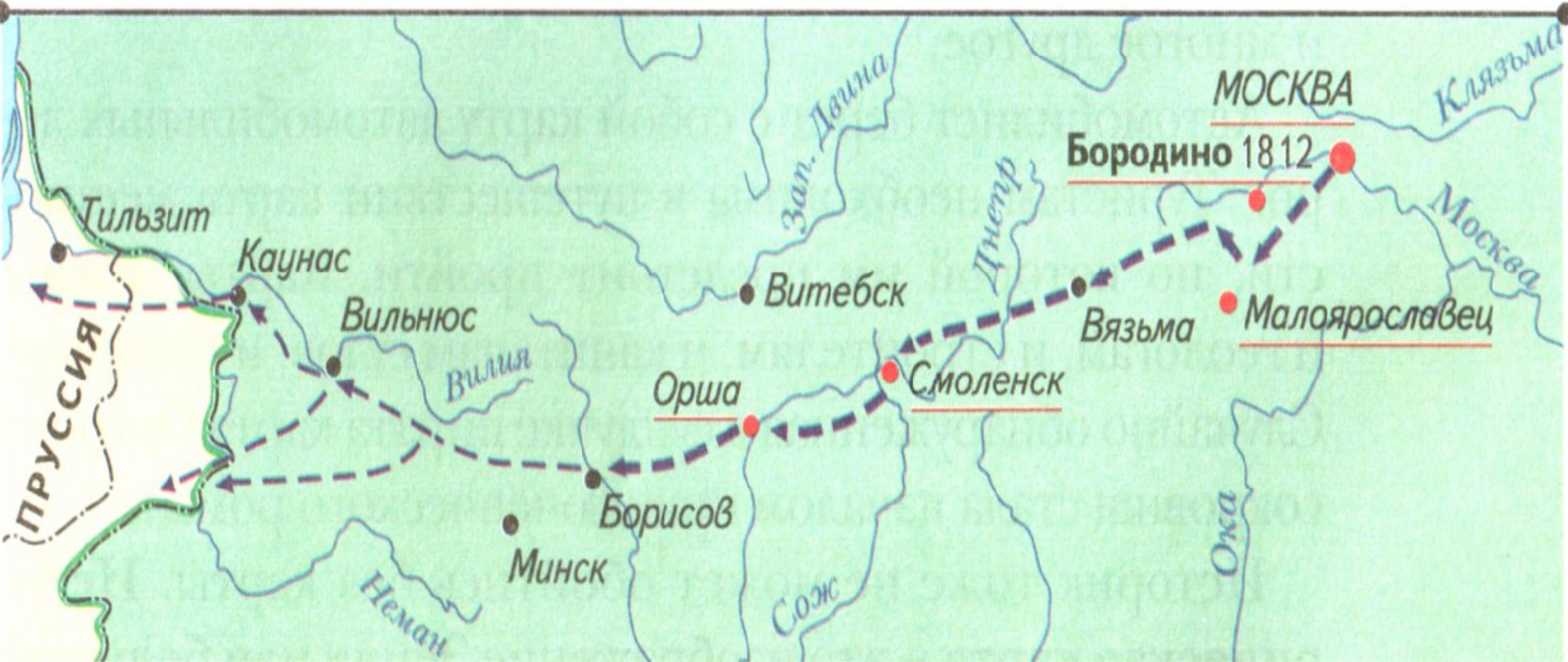
Линии фронтов

Торговые пути

Города

Памятники культуры

Отступление французской армии в 1812 году



← - - - Отступление французской армии ● Бородино 1812 Места и даты крупных сражений



- Как карта отвечает на три важных вопроса: «Что произошло?», «Где произошло?», «Когда произошло?»



Карта Шелкового пути

Караванный путь, по которому купцы перевозили шелк и другие товары из Китая в Западную Азию, пролегал через труднопроходимые горные территории и пустынные местности. Проникаешь с уважением к людям, осилившим этот путь. Они не только занимались торговлей, но и помогали народам разных стран знакомиться друг с другом.

1. Составители карт должны во много раз уменьшать изображение Земли и ее больших частей, чтобы они уместились на листе бумаги.
2. Многие объекты на карте обозначены условными знаками (фигурками, стрелками, линиями).
3. Карта раскрашена различными цветами и содержит много надписей.

Условные
обозначения
(легенда
карты)



перечень (свод)
используемых
на карте условных
знаков и
объяснений

| Цифрами на карте обозначены: | | | |
|------------------------------|--------------------------|----|--------------|
| 1 | Гватемала | 11 | Португалия |
| 2 | Гондурас | 12 | Испания |
| 3 | Сальвадор | 13 | Бельгия |
| 4 | Никарагуа | 14 | Италия |
| 5 | Коста-Рика | 15 | Сербия |
| 6 | Панама | 16 | Греция |
| 7 | Гаити | 17 | Румыния |
| 8 | Доминиканская Республика | 18 | Болгария |
| 9 | Парагвай | 19 | Либерия |
| 10 | Уругвай | 20 | Того (Герм.) |

Государства Антанты (с колониями) и их союзники
Германия (с колониями) и ее союзники
Государства, сохранявшие нейтралитет

Театры военных действий на суше
главные // второстепенные

Районы военных действий на море

Германские колонии, захваченные во время войны
Японией // Англией и Францией

Московская Русь в XIV-XVI веках

Изучите легенду
карты
«Московская Русь
в XIV—XVI веках».



■ Московское княжество в 1300 г.

■ Земли, присоединенные к Москве:

■ к середине XV в. ■ к концу XVI в.

■ к середине XVI в.



■ Столица Московской Руси



■ Города — центры ремесел и торговли

— Граница государства в конце XVI в.

ПРАВИЛА РАБОТЫ С НАСТЕННОЙ КАРТОЙ

Рост территории России в XVII веке



Россия в начале XVII в.

Территории, вошедшие в состав России в XVII в.

• Томск

Поселения, основанные в XVII в.

На исторической карте крупные объекты — города, поля сражений, инженерные сооружения, места раскопок — обозначаются условными знаками. Однако часто необходимо рассмотреть те или иные объекты в деталях. Для этого вычерчивается план.


ПЛАН

изображение на плоскости небольшой части территории (задание № 4 на с. 20).

По плану можно определить, какие исторические объекты находятся на данной территории.



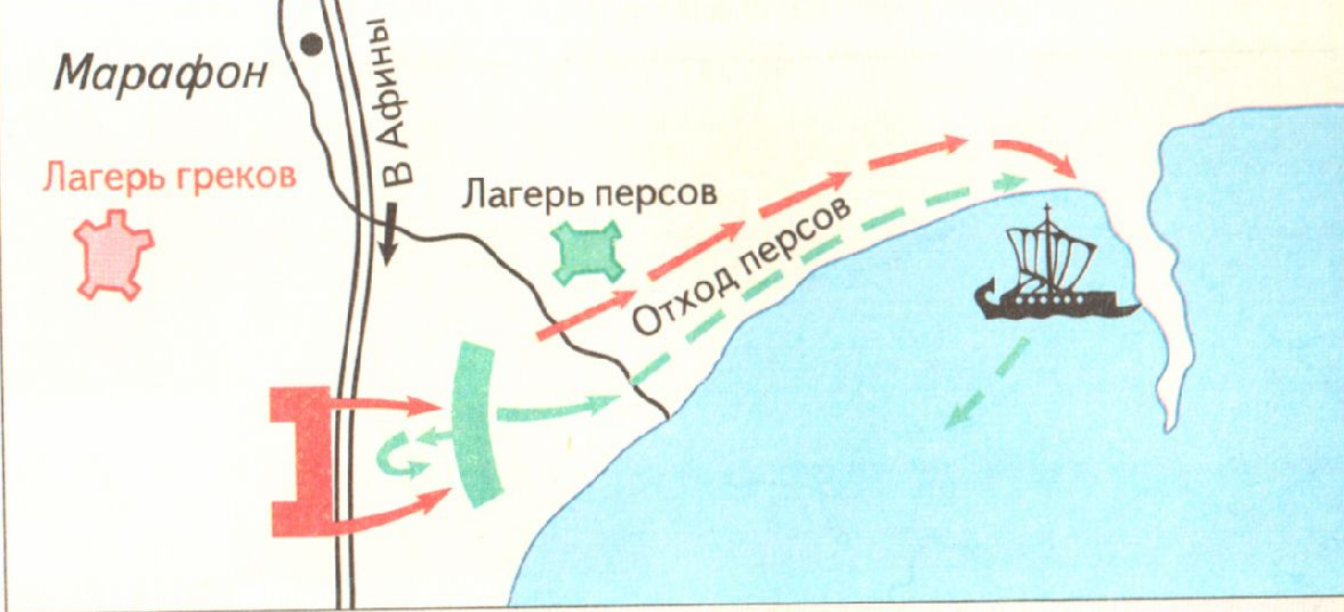
Санкт-Петербург. План 1744 г.



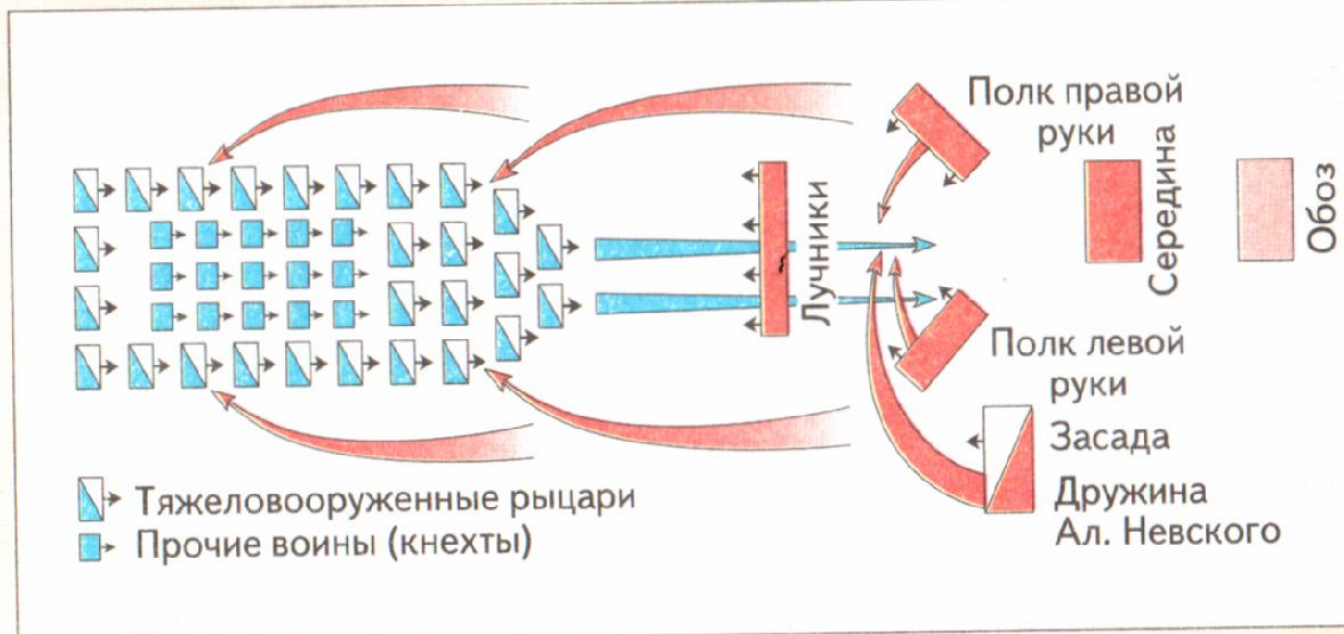
План города
Олонца.
XVII в.

На плане старинного города видны главные городские здания — собор, ратуша, где заседало городское управление, рыночная площадь, улицы. По старым планам города можно проследить, как разрастался он в разные времена.

План сражения
показывает,
как располагались войска
в ходе сражения,
в каком направлении
были нанесены удары.



План Марафонского сражения. 490 г. до н. э.



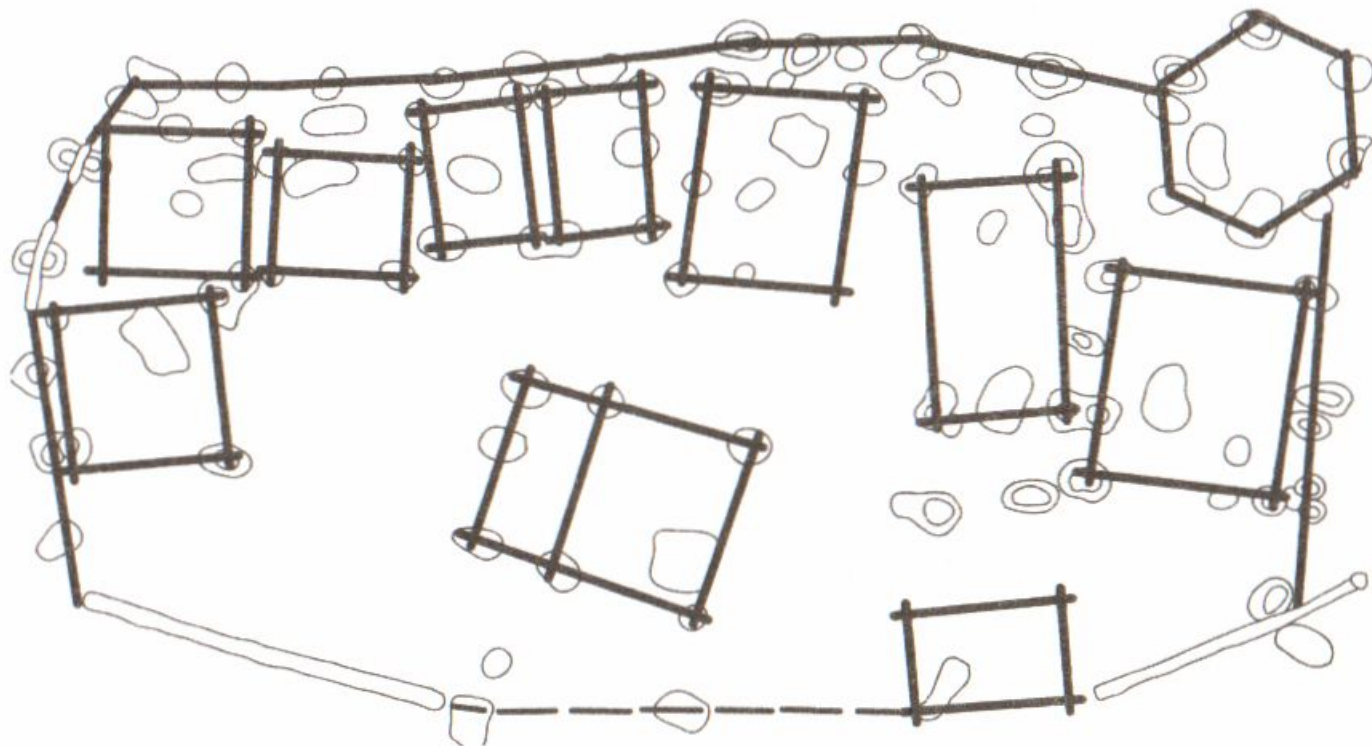
План Ледового побоища. 1242 г.

Госмотрите
планы
Ледового
побоища и
Марафонского
сражения.

Как
расположились
войска
накануне
битвы?

Возможно ли
по планам
определить,
на чьей стороне
была победа
в ЭТИХ

План, составленный археологами
во время раскопок фундаментов зданий,
помогает воссоздать облик древнего города.



План раскопок древнерусского города Воищина (Смоленская область),
составленный по материалам раскопок

Что общего и каковы различия между картой и планом?

Рост территории России в XVII веке



Санкт-Петербург. План 1744 г.

КАРТА

Изображение большей части земной поверхности

Крупные объекты изображаются с условными обозначениями

ПЛАН

Изображение на плоскости небольшой части территории

Подробное изображение крупных объектов

Контурная карта



На контурные карты по истории нанесены только очертания территорий в то или иное время. На них отмечены линии, обозначающие реки, моря, местоположение городов, отмеченных точками. Это — основа. На нее нужно наносить названия объектов в процессе изучения исторических событий.

**Выполните задание № 8 в
рабочей тетради (с. 22-23)**

**Что могут узнать историки,
изучая планы местности, города,
объекта, составленного в прошлом?**

Домашнее задание

Рабочая тетрадь:
с. 16-23 задания 1-8.



- Государства Антанты (с колониями) и их союзники
 - Германия (с колониями) и ее союзники
 - Государства, сохранявшие нейтралитет
- Театры военных действий на суше
- главные
 - второстепенные
- Районы военных действий на море
- Германские колонии, захваченные во время войны
- Японией
 - Англией и Францией

Цифрами на карте обозначены:

- | | | | |
|----|--------------------------|----|--------------|
| 1 | Гватемала | 11 | Португалия |
| 2 | Гондурас | 12 | Испания |
| 3 | Сальвадор | 13 | Бельгия |
| 4 | Никарагуа | 14 | Италия |
| 5 | Коста-Рика | 15 | Сербия |
| 6 | Панама | 16 | Греция |
| 7 | Гаити | 17 | Румыния |
| 8 | Доминиканская Республика | 18 | Болгария |
| 9 | Парагвай | 19 | Либерия |
| 10 | Уругвай | 20 | Того (Герм.) |