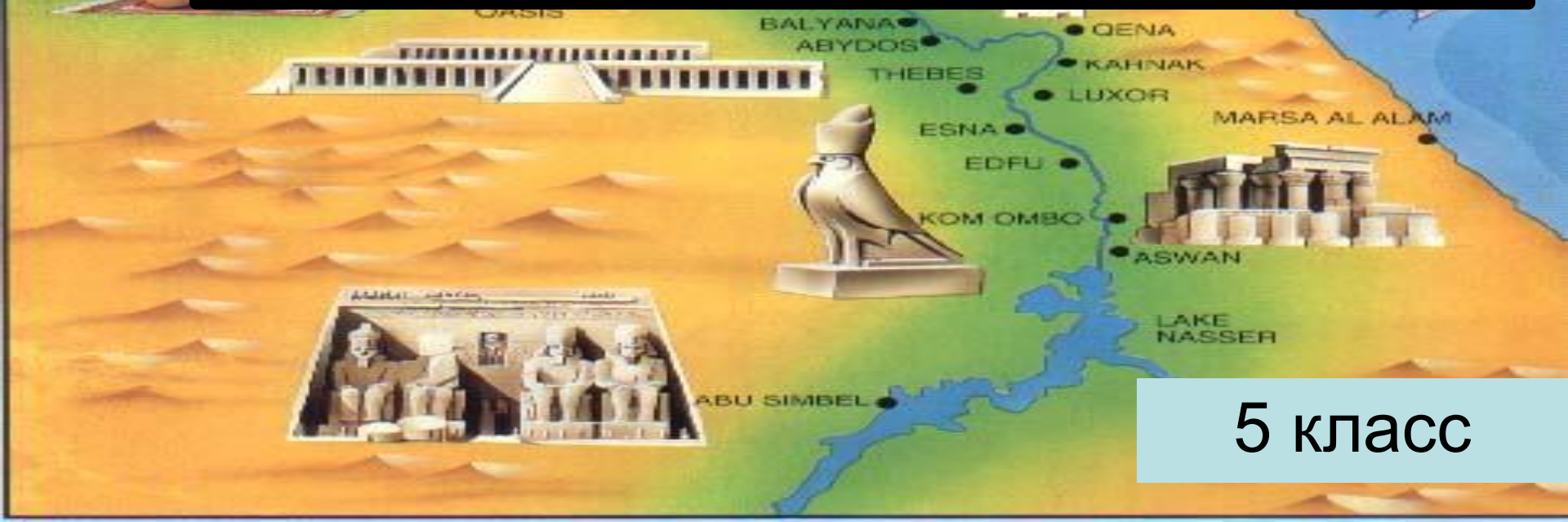





# Историческая карта




5 класс

# Что такое карта?



- **Карта** – это уменьшенное обобщенное изображение поверхности Земли (или ее части) на плоскости

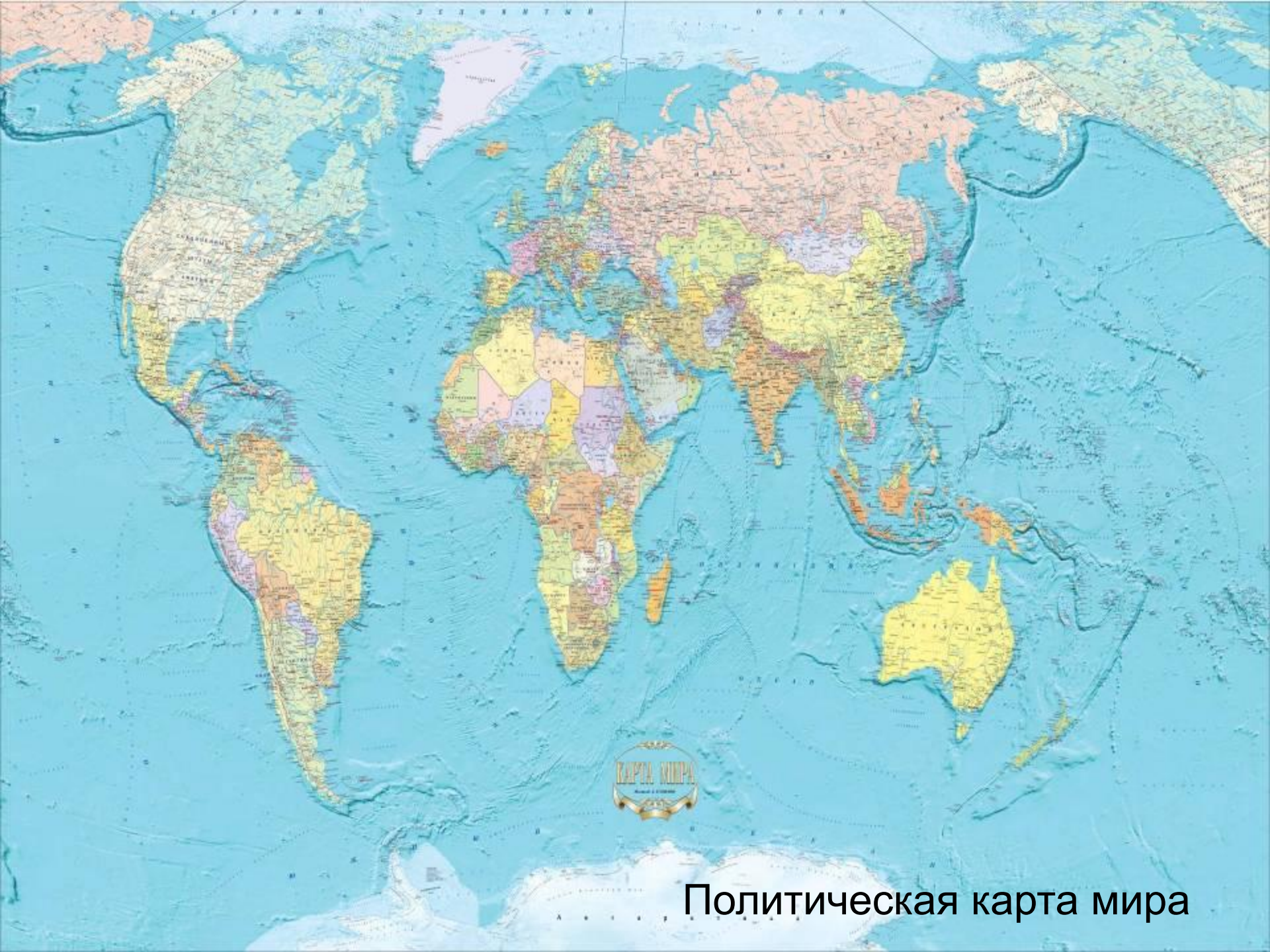
- **Атлас** – собрание карт, переплетенных вместе



# Виды карт

- Карта мира
- Дорожные карты
- Морские карты (портоланы)
- Политические карты
- Физические карты
- Исторические карты
- Контурные карты





Политическая карта мира





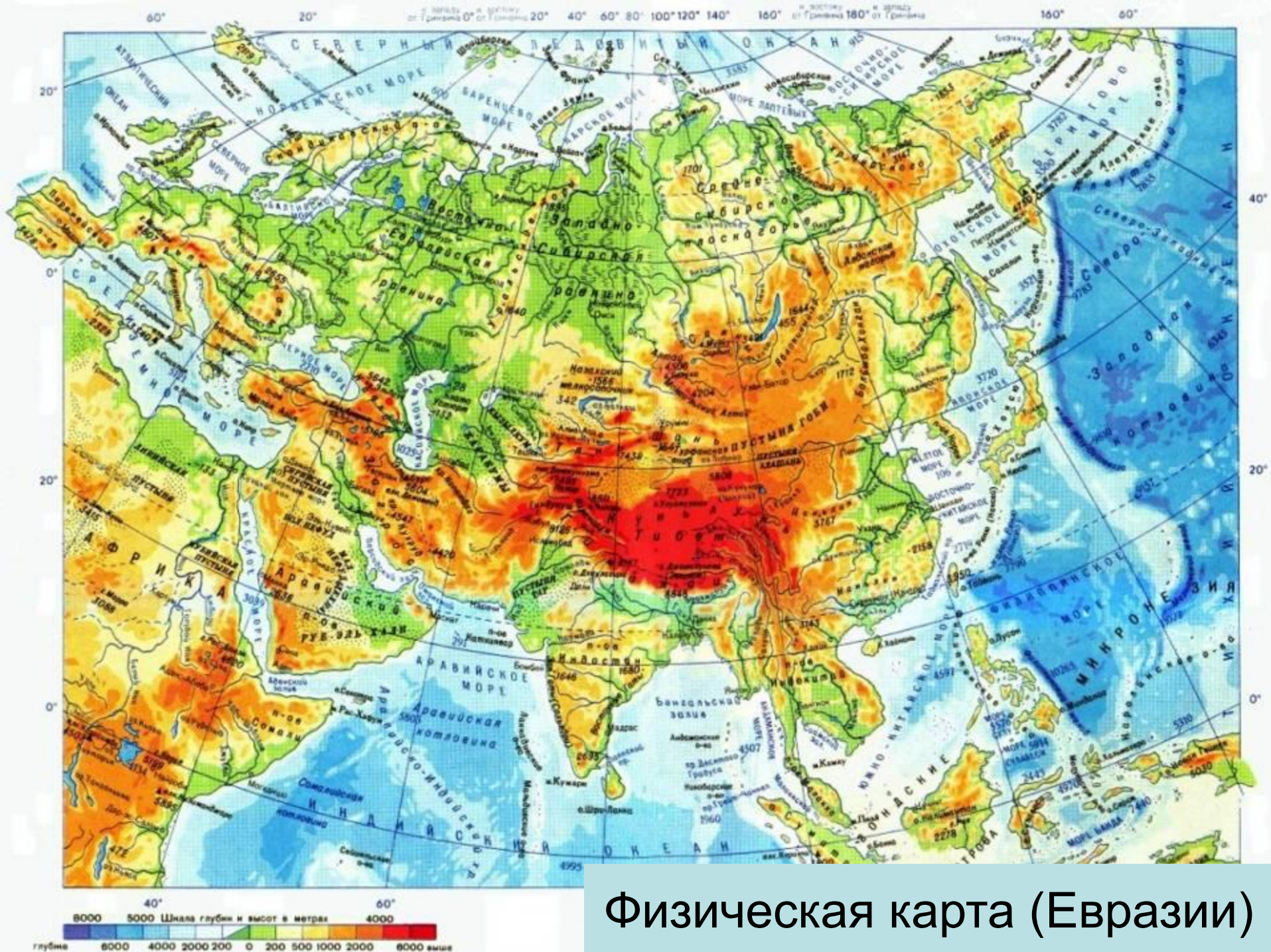
Дорожная карта  
(автомобильных дорог)





Морская карта (Черное море)







# Историческая карта






# Контурная карта





# Особенности карт



- **Масштаб** – численное соотношение реальности и изображения (1: 100.000, 1 см=1 км)
- **Элементы основы карты** (береговая линия, водопады, политические границы и т.д.)
- **Условные знаки - обозначения – Легенда карты** – табличка у края карты с условными обозначениями
- **Надписи и географические названия**



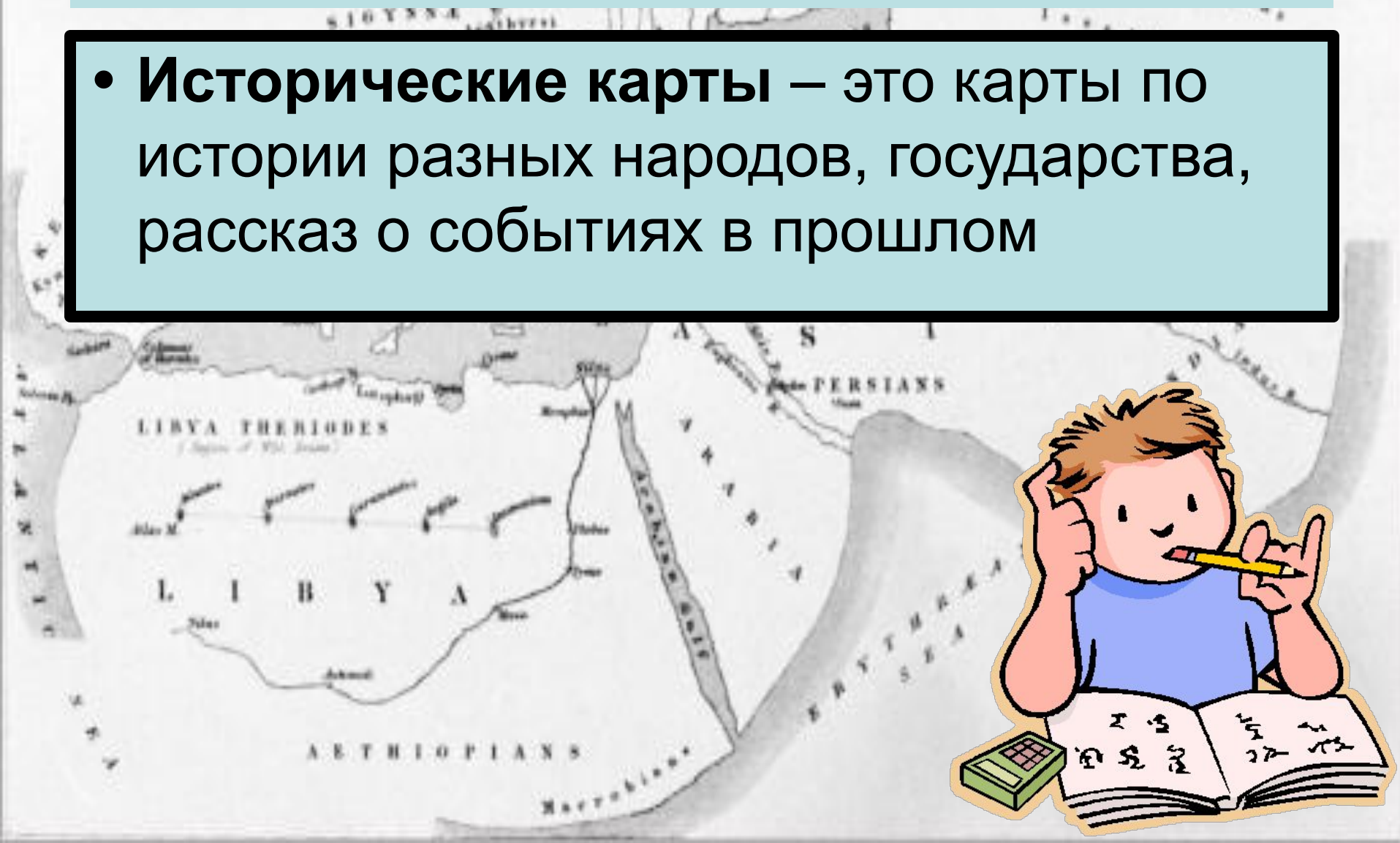


- Территория Греции к VIII в. до н. э.
- Направления греческой колонизации
- Важнейшие колонии греков
- Берега, колонизованные греками
- Милет Города, основавшие значительное число колоний



# Историческая карта

- **Исторические карты** – это карты по истории разных народов, государства, рассказ о событиях в прошлом

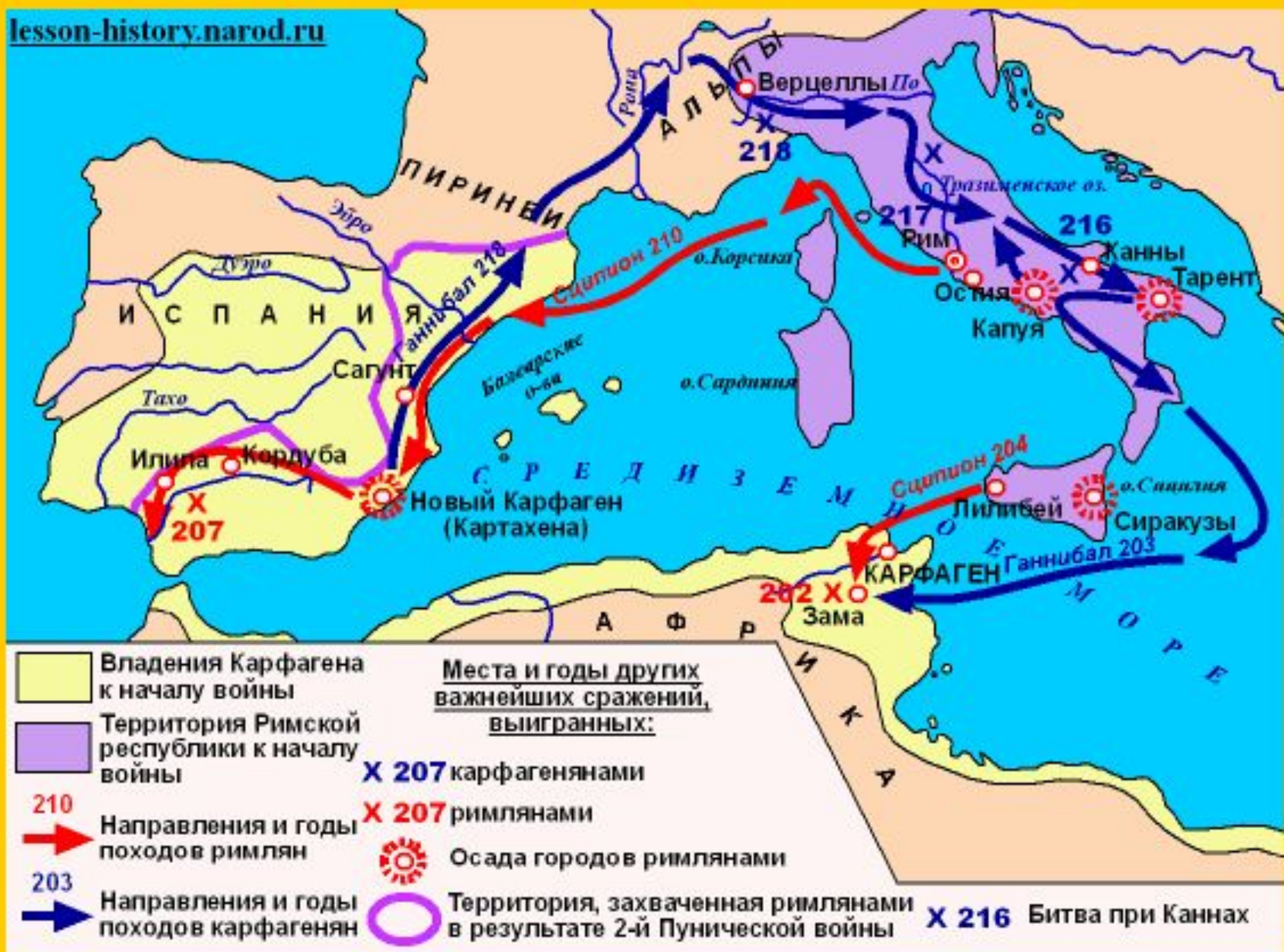




# Особенности исторической карты

- Черный шрифт – города
- Голубой шрифт – все водоемы
- Кружочек – город
- Границы государства определенным цветом
- Штрихи или цвет определенный - завоеванные территории
- Скращенные мечи – места сражений
- Стрелки – направления походов
- Скопление точек – места восстаний





Владения Карфагена к началу войны

Территория Римской республики к началу войны

210  
Направления и годы походов римлян

203  
Направления и годы походов карфагенян

Места и годы других важнейших сражений, выигранных:

X 207 карфагенянами

X 207 римлянами

Осада городов римлянами

Территория, захваченная римлянами в результате 2-й Пунической войны

X 216 Битва при Каннах



# Выполним задание

- С.13
- С.42
- С.59
- С.73
- С.137
- С.199
- С. 205

- Определите о чем рассказывают нам эти исторические карты



# Домашнее задание

- Выучить записи в тетради

