

# *История Древнего мира*

# Имя в истории




А

?



Б

?



В

?

**Назовите имена указанных на изображениях лиц.  
Имена запишите под соответствующей буквой.**

# Достопримечательности



А

?

?



Б

?

?



В

?

?

**Назовите указанные на изображениях достопримечательности.**

**Названия запишите под соответствующей буквой..**

**В нижней строке укажите страну, где они созданы.**

# Проверь себя!

## 1 задание:

**А – Конфуций**

**Б – Будда**

**В – Тутанхамон**

## 2 задание:

**А- Пирамиды – Египет**

**Б – Великая китайская  
стена – Китай**

**В – Большой сфинкс -  
Египет**


## • Оценка:



- **9 правильных ответов – «5»**
- **7-8 правильных ответов – «4»**
- **5-6 правильных ответов-»3»**











**Древняя  
Греция.**

**Греки и  
критяне**



*Сегодня на уроке я  
хочу узнать...  
выяснить...*



# Древнейшая Греция





г. Олимп

СЕВЕРНАЯ ГРЕЦИЯ

СРЕДНЯЯ ГРЕЦИЯ

Коринф  
Микены

Афины

Спарта

ПЕЛОПОННЕС

И  
О  
Н  
И  
Ч  
Е  
С  
К  
О  
Е  
М  
О  
Р  
Е

Э  
Г  
Е  
Й  
С  
К  
О  
Е  
М  
О  
Р  
Е

о. Крит

• Города греков



# Древнейшая Греция





A map of Greece and the Aegean Sea region. The map shows the Balkan Peninsula to the north, the Aegean Sea to the east, and the island of Crete to the south. The Greek mainland is divided into three regions: Northern Greece, Central Greece, and Southern Greece. The city of Athens is marked with a red star. The island of Crete is shown at the bottom. The map is framed by a blue border with decorative spiral patterns in the corners.

**Балканский полуостров**

**Северная Греция**

**Эгейское море**

**Средняя Греция**

**Афины**

**Южная Греция**

**о. Крит**




# Природные условия Древней Греции



<b>Природные условия</b>	<b>Древняя Греция</b>
<b>Реки</b>	<b>Мелкие пересыхающие речки</b>
<b>Почва</b>	<b>Плохая, горная почва</b>
<b>Море</b>	<b>Омывает всю Грецию</b>
<b>Горы</b>	<b>Много, непроходимые</b>
<b>Климат</b>	<b>Теплый</b>



# Занятия населения



**виноградарство**

**мореплавание**

**строительство**

**скотоводство**



**В долинах – сеяли пшеницу, выращивали  
виноград и оливки**




**На склонах гор – пасли овец и коз**





**На побережье занимались рыболовством,  
ремеслом и торговлей**

# Мифы Древней Греции





# Какой остров описывает Гомер?

**«Остров есть \_\_\_?\_\_\_ посреди виноцветного моря,  
прекрасный,  
Тучный, отовсюду объятый водами, людьми  
изобильный;  
Там девяносто они городов населяют великих.  
Разные слышатся там языки...»**

Древнегреческий поэт Гомер, «Одиссея»

# Минойская цивилизация







**Артур Эванс -  
британский археолог,  
открыватель Мinoйской  
цивилизации.**

# Критский дворец





# Египет



# Греция



## Египет

1. Есть крупная река
2. Выход в море небольшой
3. Очень плодородные почвы
4. Территория равнинная

## Греция


1. Нет крупных рек
2. С трёх сторон омывается морями
3. Почвы малопродуктивные
4. Территорию покрывают крутые и обрывистые горы



# Критское царство




# Миф о Тесее и минотавре



# Мифы Древней Греции







ARTGALLERY.RU





1. Сегодня я узнал...
2. Было интересно...
3. Было трудно...
4. Я выполнял задания...
5. Я понял, что...
6. Теперь я могу...
7. Я приобрел...
8. Я научился...
9. У меня получилось ...
10. Я смог...
11. Меня удивило...
12. Мне захотелось...