

ИГРА: «ЧУДЕСНЫЙ ГОРОД».



Петропавловская крепость.

В каком году был основан город. Впишите дату в прямоугольнике
Назовите количество бастионов.

Что такое кронверг?


Что сейчас находится в нём?

Кто автор проекта Петропавловской крепости?

Как называется собор в центре крепости? Кто архитектор собора



Адмиралтейство.

1. Для чего построено адмиралтейство?
2. Кто архитектор Адмиралтейства 
3. Знаешь ли ты, из чего во времена царя Петра строили корабли?

Задание: посмотри на список. Здесь перечислены типы кораблей . но в списке закрались ошибки. Назовите их.

<i>Фрегат</i>	<i>яхта</i>
<i>бушлат</i>	<i>грейпфрут</i>
<i>линкор</i>	<i>бадминтон</i>
<i>крейсер</i>	<i>трактор</i>
<i>баркас</i>	<i>галеон</i>
<i>линолеум</i>	<i>галера</i>

Дворцы.

1. Этот дворец был построен архитектором Ф.Б. Растрелли «только для единой славы» [REDACTED]
2. По приказу императрицы Екатерины Второй архитектор А. Ринальди строил этот дворец для графа [REDACTED]
3. Этот дворец, построенный архитектором И. Старовым. Принадлежал [REDACTED] князю [REDACTED]



4. Этот дворец, построенный архитектором А. Штакеншнейдером, император Николай Первый подарил своей дочери Марии Нико [REDACTED]
5. По поручению императора Павла Первого архитектора В. Баженов и В. Бренн [REDACTED] построили дворец, похожий на замок.
6. Архитектор К. Росси построил это величественное здание для бр [REDACTED] графа Александра Первого,

Мосты.

Знаешь ли ты, через какие реки переброшены эти мосты? Впишите номера в квадратики рядом с названиями рек.

Нева –

Фонтанка –

Мойка –

1. Литейный мост
2. Пантелеймоновский мост
3. Певческий мост
4. Аничков мост
5. Благовещенский мост

Мосты.

■ Знаешь ли ты. Что это за мост?

■ Впишите его название в клеточки.

--	--	--	--	--	--	--	--	--	--

■ А какие мосты ты ещё знаешь?

Памятники.

1. Подпишите силуэты памятников.
2. Какой из этих памятников находится в Летнем саду? Впишите номер рисунка в квадратик.


Посмотрите на конный памятник царю Петру Первому, установленный у Михайловского замка. Найдите среди силуэтов ещё один памятник Петру Первому и впишите номер рисунка в квадратик.

Ограды садов и парков.

1. Впишите в квадратик номер рисунка ограды, которая украшает Летний сад.
2. Впишите в квадратик номер рисунка ограды, которая расположена у Казанского собора.



Львы, сфинксы, грифоны.

1. Знаешь ли ты, где установлены эти изваяния? Впишите названия мостов, зданий и набережных, которые охраняются этими животными и фантастическими существами  квадратики.
2. Посмотри на рисунки 3 и 4. Это украшения Египетского и Львиного мостов. Как ты думаешь, почему мосты так названы?

А	М								Х									
Б											М							
Е											М							
Л								М										
А																		
Н																		
М														Д				

Украшения Я городских домов.

По горизонтали: 1. Скульптурное украшение в виде маски.

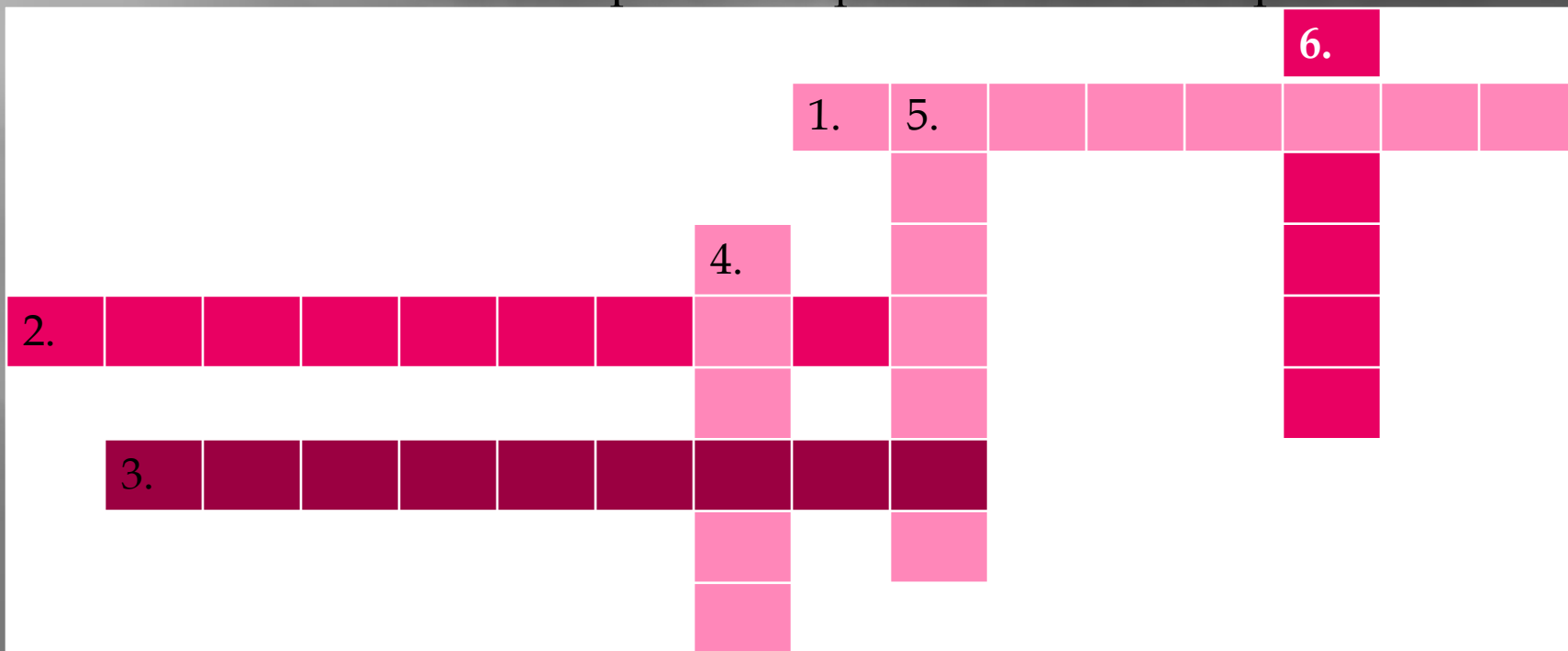
2. Опора в виде женской фигуры.

3. Узор из повторяющихся элементов.

По вертикали: 4. Изображение фантастического чудовища, чаще всего с львиной головой и крыльями.

5. Опора в виде мужской фигуры.

6. Изображение фантастического крылатого



Украшения городских домов.

Посмотрите на рисунок. Эта архитектурная композиция украшает один из домов Санкт-Петербурга. Мраморные мужчина и женщина поддерживают балкон.



Как называются эти
изваяния?
Выбери.

1. Грифон и маскарон
2. Орнамент и химера
3. Атлант и кариатида



Впишите в
квадратик номер

Символы города.

1. Подпишите рисунки.
2. Что изображено на флаге и гербе города?
3. Чего не хватает на рисунке 3?
4. Дорисуйте недостающую деталь.

