

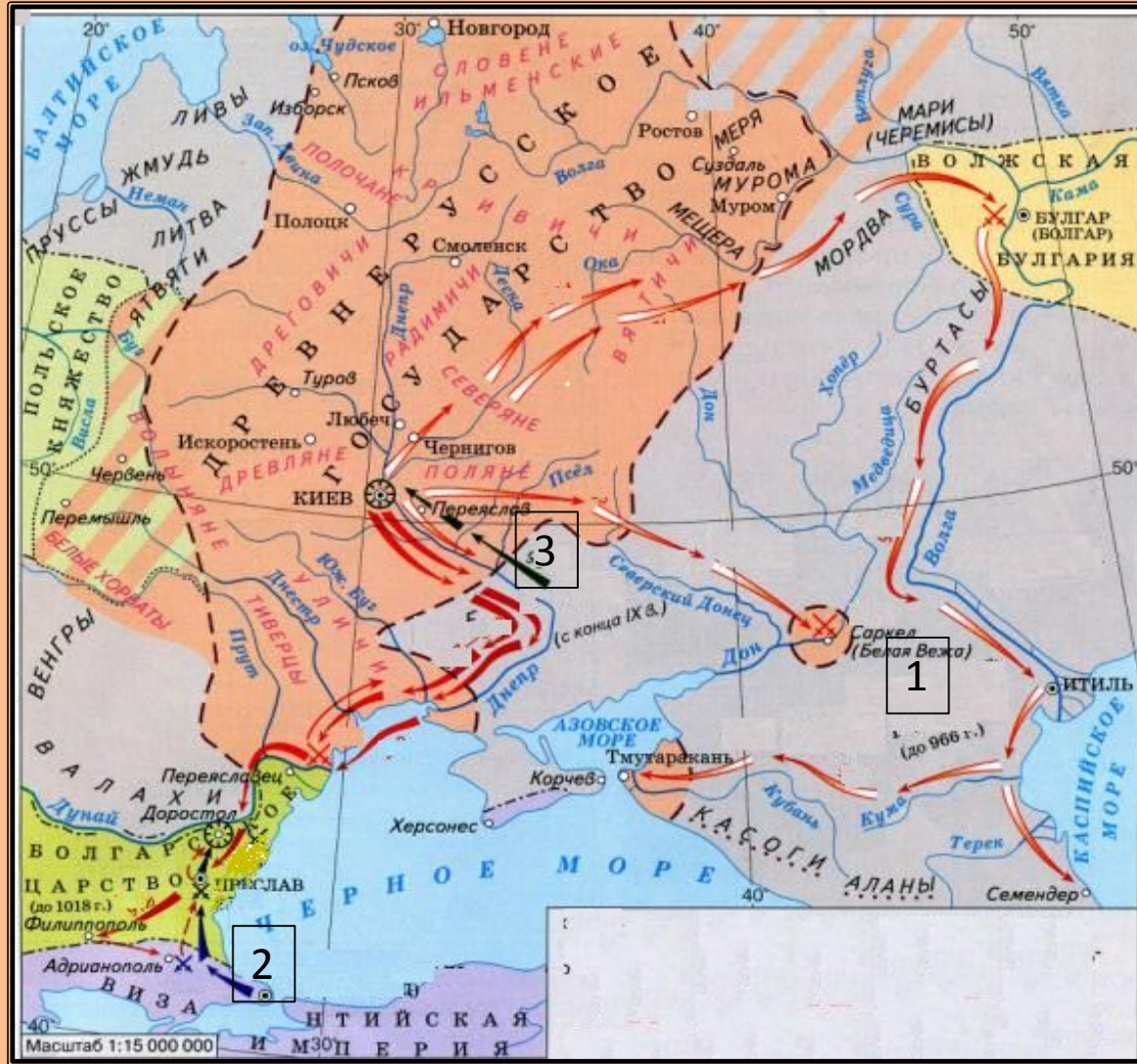
Задание 1

Рассмотрите карту и выполните задания В8-В11

В8. Напишите название государства, территория которого обозначена на карте цифрой 1, прекратившего свое существование в результате данных военных походов

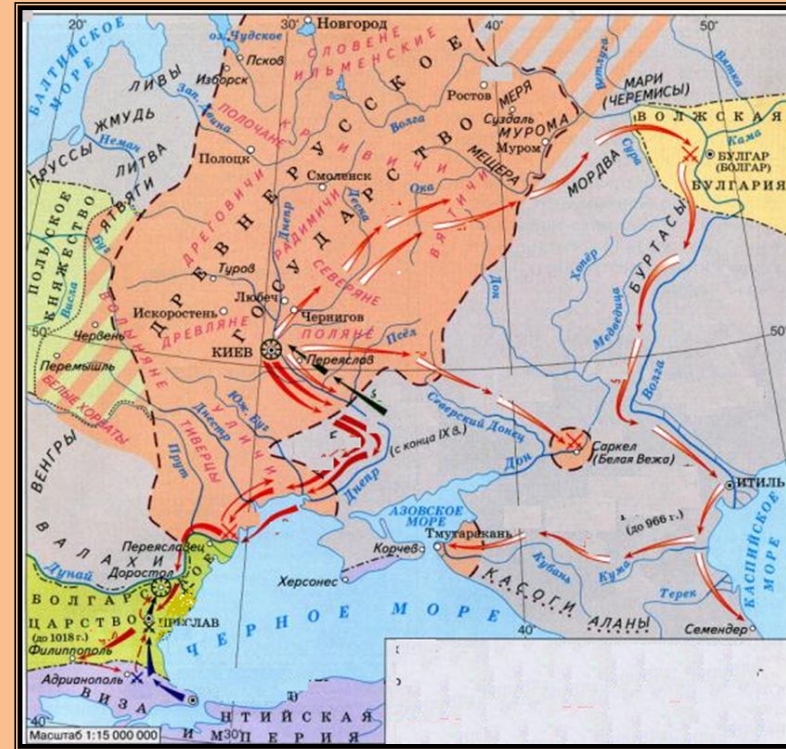
В9. Напишите русское название города, обозначенного на карте цифрой 2

В10. Напишите название кочевников, поход которых на Киев обозначен черной стрелкой под цифрой 3



Задание 1

В11. Какие суждения, относящиеся к данной карте, являются верными? Укажите три суждения из шести предложенных.



1. На карте показаны военные походы князя Олега и князя Игоря
2. В результате военных походов, обозначенных на карте, Русь подписала с Волжской Булгарией мирный договор
3. Военные походы, обозначенные на карте, способствовали расширению границ Древнерусского государства
4. На карте даны военные походы князя Святослава
5. На карте показано монголо-татарское нашествие на русские земли
6. В результате военных походов удалось реализовать одну из целей: расширить границу государства до Дуная

Задание 2

Рассмотрите карту и выполните задания В8-В11

В8. Назовите территорию, обозначенную на карте под 1, которая была присоединена к русским землям.

В9. Напишите русское название города, обозначенного на карте цифрой 2

В10. Напишите имя хана, поход которого обозначен цифрой 3



Задание 2

В11. Какие суждения, относящиеся к данной карте, являются верными? Укажите три суждения из шести предложенных.



1. События, обозначенные на карте, связаны со Смутным

временем

2. В результате событий, показанных на карте, произошло продвижение России на Восток

3. На карте показана борьба Руси против монголо-татарского нашествия

4. В результате походов, обозначенных на карте, Волга стала с истоков до устья русской рекой

5. События, обозначенные на карте, связаны с временем Избранной

рады

6. На карте обозначены основные направления внешней политики Ивана III

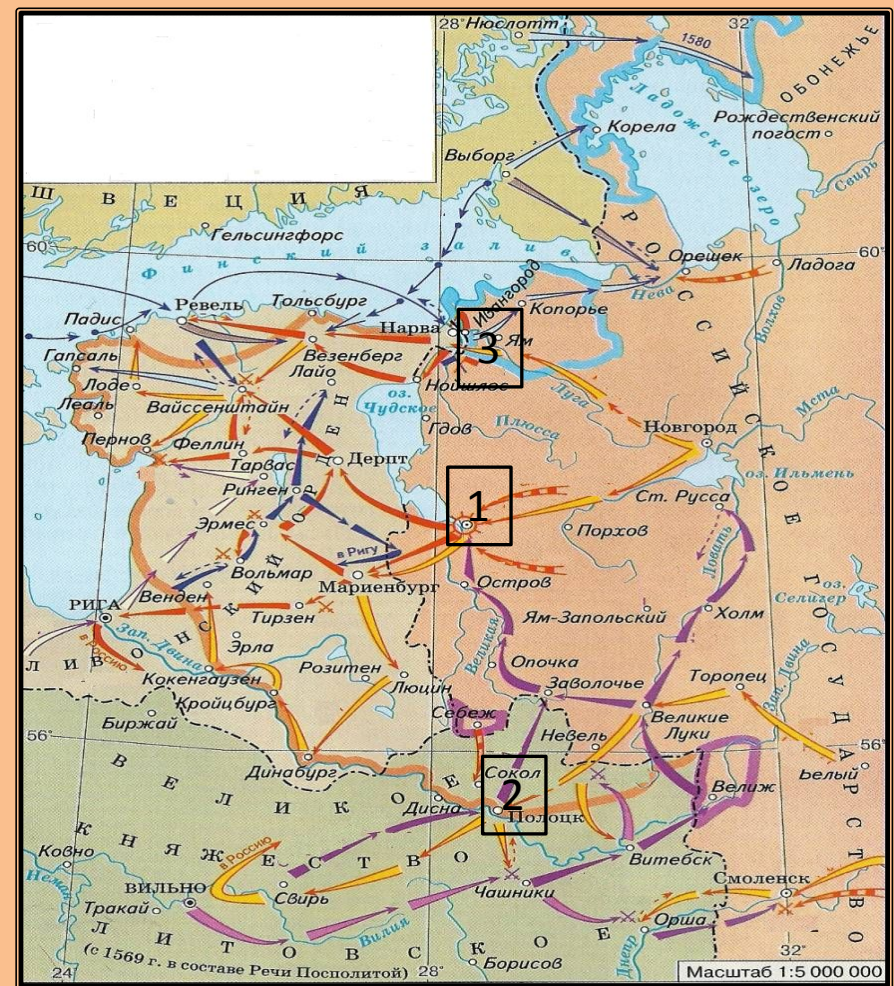
Задание 3

Рассмотрите карту и выполните задания В8-В11

В8. Укажите название города, обозначенного на карте цифрой 1, в ходе обороны которого русские войска отражали превосходящие силы противника

В9. Напишите имя одного из соратников правителя, бежавшего из страны в результате неудач русской армии у города, обозначенного на карте цифрой 2

В10. Укажите, с каким государством было заключено перемирие на 10 лет в месте, обозначенном на карте цифрой 3



Задание 3

В11. Какие суждения, относящиеся к данной карте, являются верными? Укажите три суждения из шести предложенных.



1. Положительным результатом военных событий, обозначенных на карте, стала ликвидация Ливонского ордена

2. Противниками России в войне были, кроме Речи Посполитой, Пруссия, Англия

3. Одним из итогов войны была потеря Россией исконно русских земель в

Прибалтике

4. Военные действия были начаты Россией в ответ на вторжения противника на её территорию

5. В ходе войны Россия сумела сохранить за собой Нарву, Копорье,

Ивангород

6. Против России в военных операциях участвовали Швеция, Дания, Речь

Посполитая

Задание 4

Рассмотрите карту и выполните задания В8-В11

В8. Укажите название земель, обозначенных на карте под цифрой 2

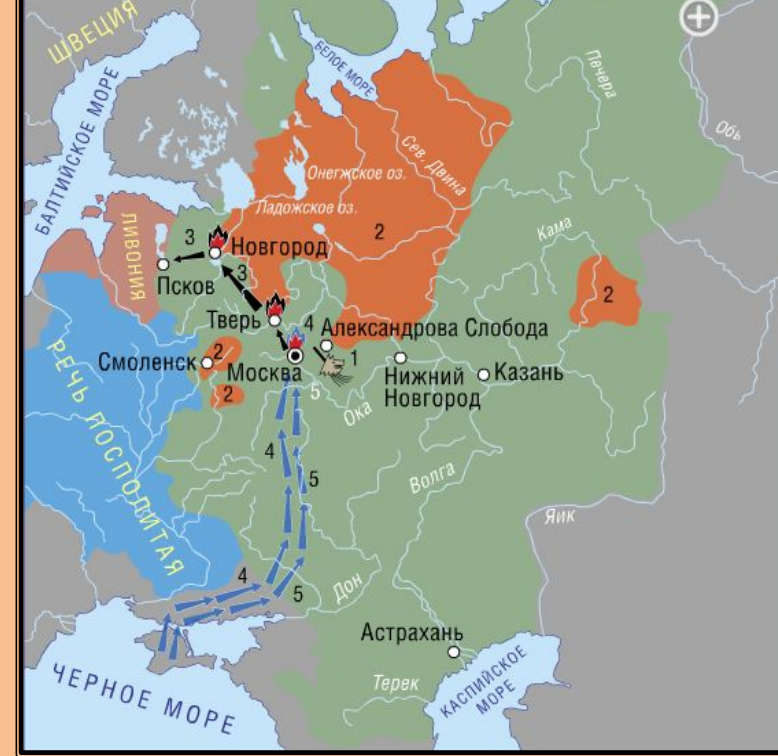
В9. Укажите, чьи отряды совершили походы, обозначенные стрелками под цифрами 4 и 5

В10. Укажите даты события, связанного с походом, обозначенного на карте цифрой № 3



Задание 4

В11. Какие суждения, относящиеся к данной карте, являются верными? Укажите три суждения из шести предложенных.



1. Одной из причин событий, обозначенных на карте, стал процесс государственного закрепощения крестьян

2. Одним из итогов событий, обозначенных на карте, стала ликвидация пережитков удельной системы

3. События по карте связаны с правлением Ивана III

4. На карте показано время, получившее в истории название «Бунташный век»

5. События, обозначенные на карте, оказали негативное влияние на ход Ливонской войны

6. В результате событий, обозначенных на карте, установился режим личной, неограниченной власти

Задание 5

Рассмотрите карту и выполните задания В8-В11

В8. Напишите название города, обозначенного на карте под цифрой 1, сдавшегося восставшим без сопротивления

В9. Напишите название места, обозначенного на карте под цифрой 2, связанного с восстанием против реформ патриарха Никона

В10. Укажите год события, обозначенного на карте под цифрой 3, положившего конец восстанию



Задание 5

В11. Какие суждения, относящиеся к данной карте, являются верными? Укажите три суждения из шести предложенных.



1. На карте показано крестьянская война под предводительством Е. Пугачёва
2. Особенностью восстания было существование самозванчества
3. Основной район восставших – это Поволжье
4. Восстание было направлено против привилегированных слоев общества
5. Одну из главных сил составляло казачество
6. Территория, охваченная восстанием, включала район реки Яик, Урал и Поволжье

Задание 6

Рассмотрите карту и выполните задания В8-В11

В8. Как назывался поход, обозначенный под цифрой 1

В9. В каком году произошло событие, обозначенное под цифрой 2

В10. Напишите название города, обозначенного под цифрой 3



Задание 6

В11. Какие суждения, относящиеся к данной карте, являются верными? Укажите три суждения из шести предложенных.



1. Карта посвящена событиям внешней политики Елизаветы Петровны

2. В результате событий, показанных на карте, Россия подтвердила завоеванные территории в ходе Ливонской войны

3. Карта посвящена внешней политике Петра I

4. Южное направление внешней политики России первой четверти XVIII в. было достаточно успешным

5. В результате событий, показанных на карте, Россия получила Прибалтийские земли

6. Поход в южном направлении завершился окружением русской армии турками

Задание 7

Рассмотрите карту и выполните задания В8-В11



В8. Укажите название крепости, обозначенной на карте под цифрой 1, взятие которой во многом решило исход войны

В9. Укажите фамилию флотоводца, одержавшего победу у мыса, обозначенного на карте под цифрой 2

В10. Укажите год заключения мирного договора в месте, обозначенном на карте под цифрой 3

Задание 7

В11. Какие суждения, относящиеся к данной карте, являются верными? Укажите три суждения из шести предложенных.



1. В результате военных действий, обозначенных на карте, Османская империя подтвердила присоединение Крыма к России
2. Поддержку Османской империи в военных действиях против России оказывала Франция
3. В итоге войны Россия получила право строительства военно-морского флота на Черном море
4. Одной из причин войны была защита интересов православного населения Османской империи
5. В изгнании России с берегов Черного моря, наряду с Османской империей, была заинтересована Англия
6. Инициатором военного конфликта выступила Османская империя

Задание 8

Рассмотрите карту и выполните задания В8-В11

В8. Назовите имя полководца одержавшего победу в сражении, обозначенном цифрой 1

В9. Укажите годы войны, с которой связаны сражения, обозначенные на карте цифрами 2, 3

В10. Напишите год присоединения к Российской империи территории, обозначенной на карте цифрой 4



Задание 8

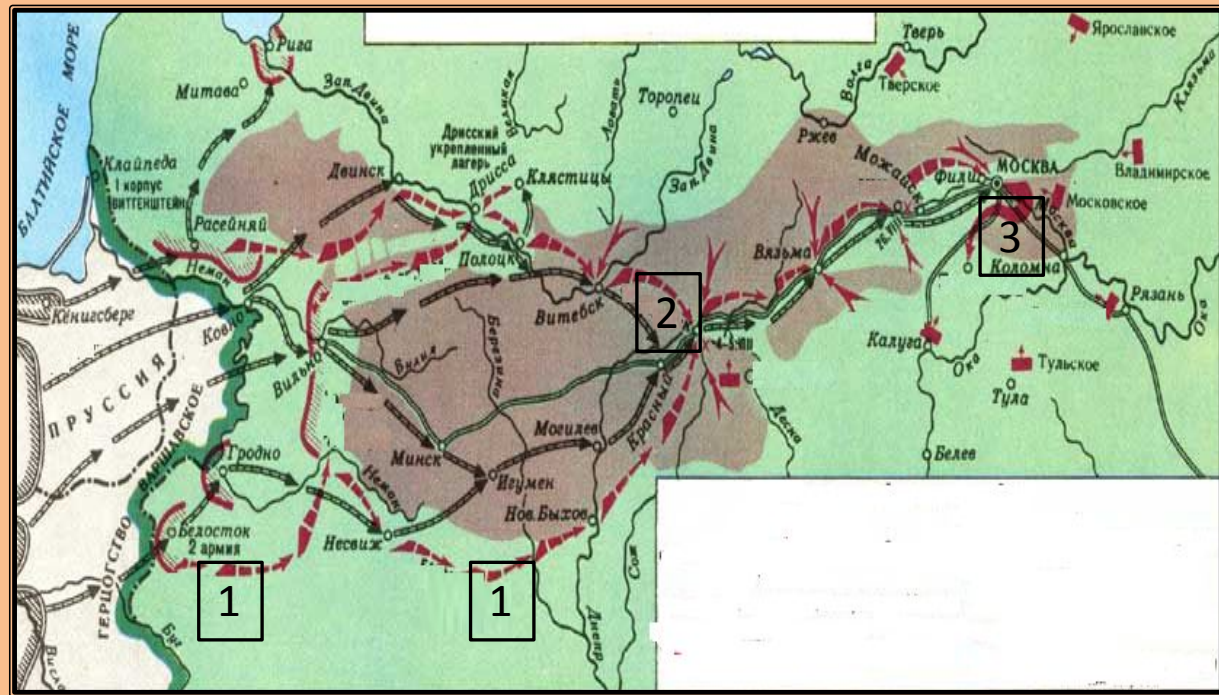
В11. Какие суждения, относящиеся к данной карте, являются верными? Укажите три суждения из шести предложенных.



1. Военные события, показанные на карте, продемонстрировали преимущество России на море и суше
2. Военные события, обозначенные на карте, были связаны с решением Восточного вопроса в пользу России
3. Одним из последствий событий, обозначенных на карте, стало открытие черноморских проливов для русских судов
4. Основные события указанных военных действий проходили на территории Российской империи
5. В результате военных событий, обозначенных на карте, обострились отношения между Россией и Англией
6. Одной из задач, которые решились в ходе военных событий, была борьба за выход в Черное море

Задание 9

Рассмотрите карту и выполните задания В8-В11



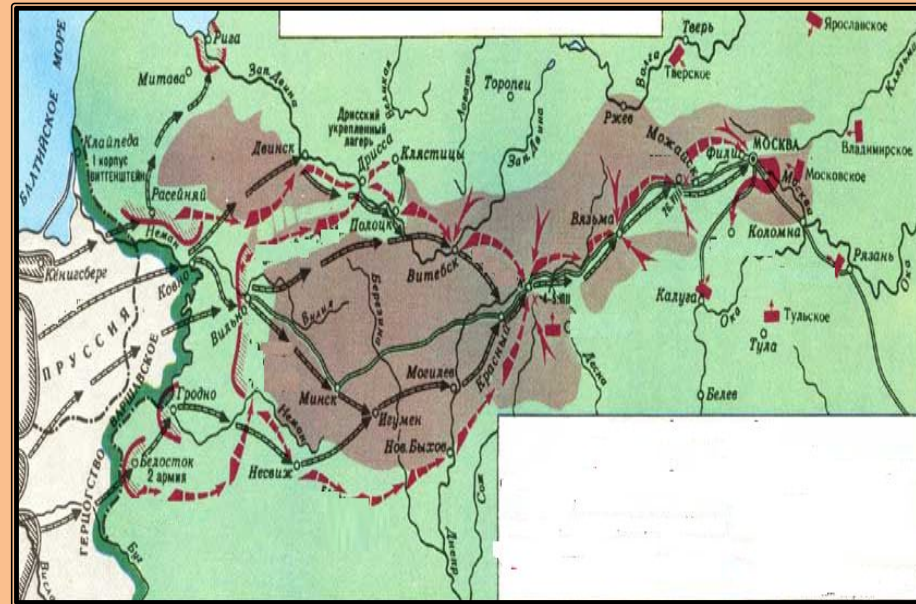
В8. Укажите имя полководца, командующего войсками, движение которых обозначено на карте под цифрой 1

В9. Напишите название города, где произошло сражение, обозначенное на карте под цифрой 2

В10. Укажите название маневра, совершенного в ходе военных действий, обозначенных на карте под цифрой 3

Задание 9

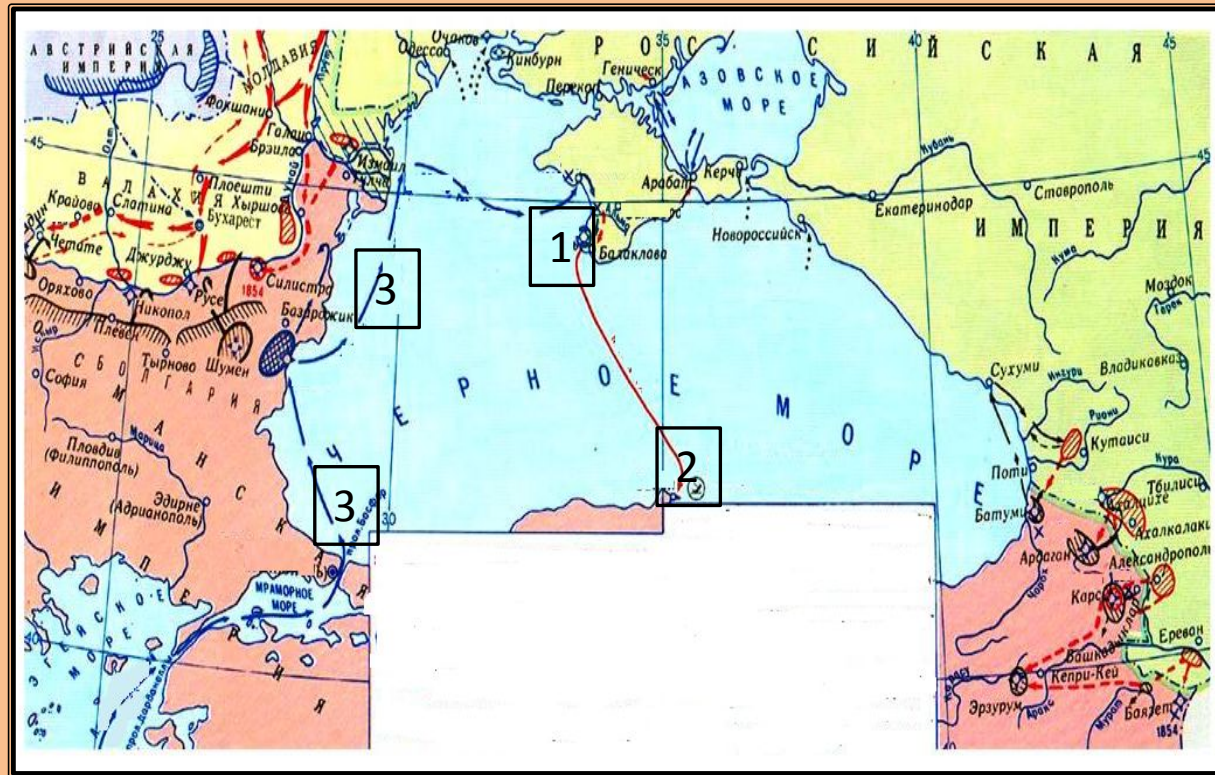
В11. Какие суждения, относящиеся к данной карте, являются верными? Укажите три суждения из шести предложенных.



1. Карта показывает отступление наполеоновских войск из России
2. Военная компания Наполеона была направлена на захват российской территории с последующим присоединением к французским владениям
3. Несмотря на отступление, Наполеону удалось разгромить русские армии
4. Карта посвящена нашествию Наполеона на Россию
5. В ходе военной компании Наполеон хотел разгромить русскую армию и заставить Александра I подписать выгодный для Франции мир
6. При отступлении по территории России французской армии было нанесено еще одно поражение при Малоярославце

Задание 10

Рассмотрите карту и выполните задания В8-В11



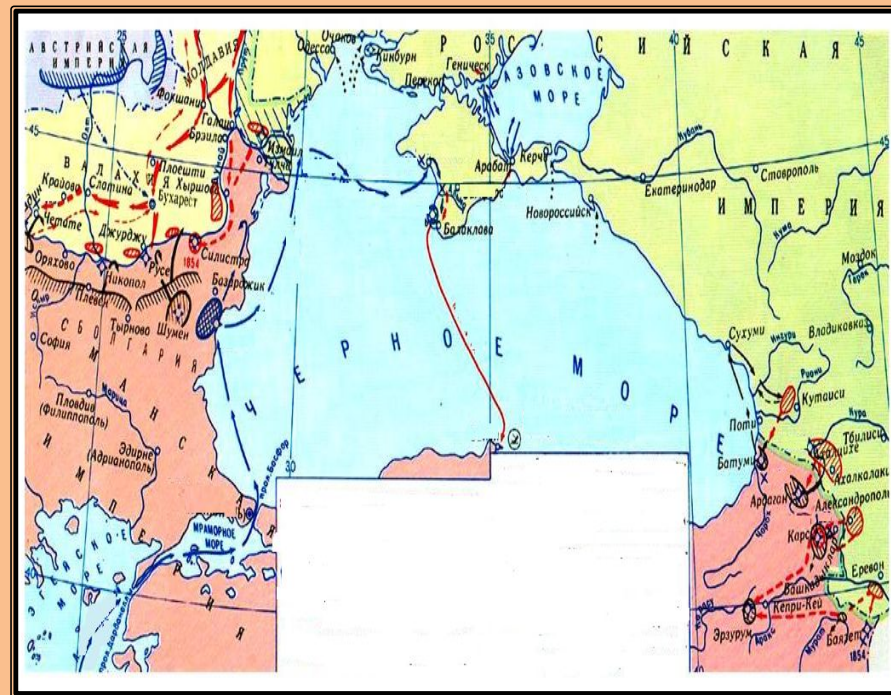
В8. Укажите на карте название города, обозначенного цифрой 1

В9. Назовите фамилию командующего русским флотом в сражении, обозначенном под цифрой 2

В10. Назовите страны-участники военного похода, обозначенного стрелками под цифрой 3

Задание 10

В11. Какие суждения, относящиеся к данной карте, являются верными? Укажите три суждения из шести предложенных.



1. На карте показаны события Крымской войны
2. В ходе этой войны успешно осуществлялись военные действия в Закавказье
3. В результате войны Россия получила крепость Карс
4. На карте показаны события, связанные с борьбой России за выход к Черному морю
5. В ходе военных действий России удалось оккупировать Молдавию и Валахию
6. Одним из итогов войны было объявление Черного моря нейтральным

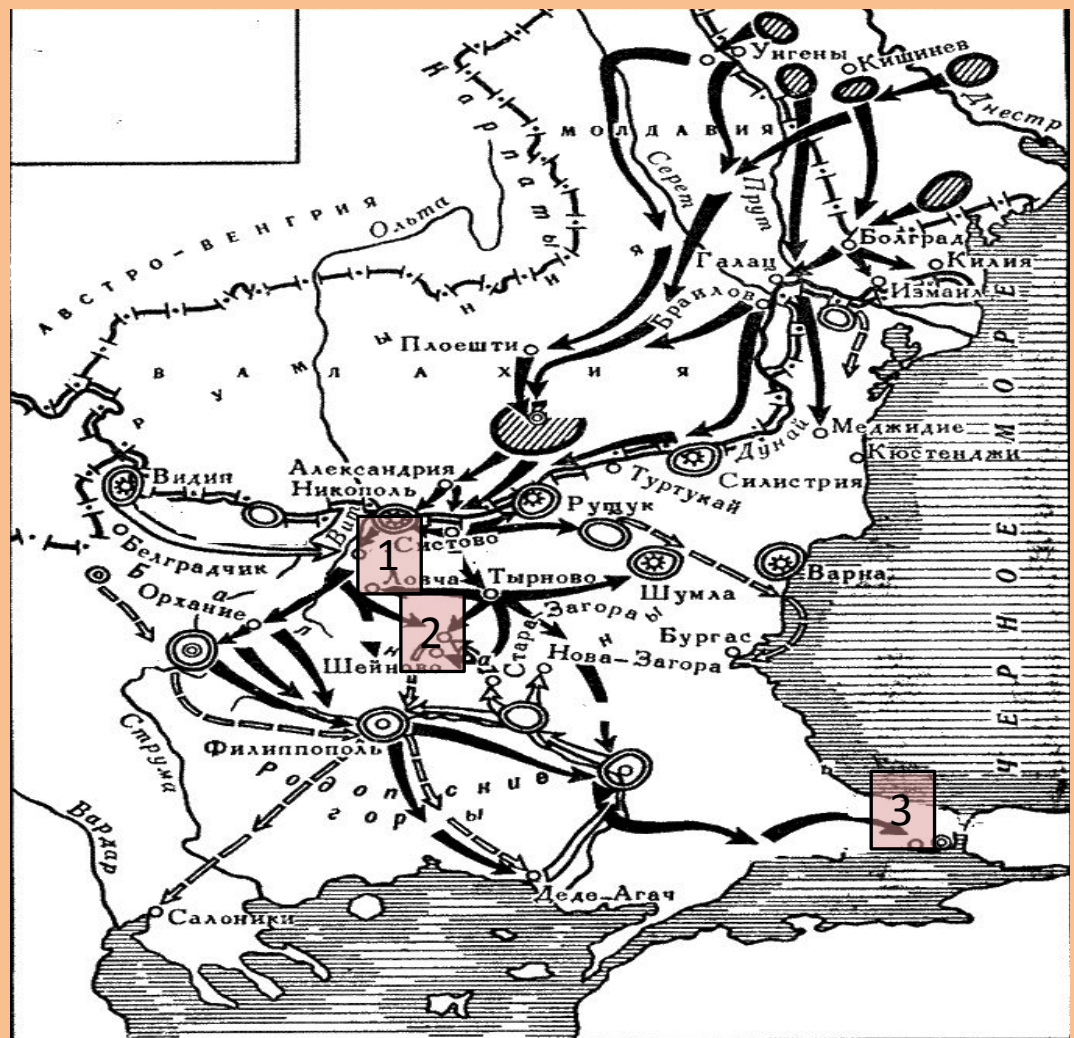
Задание 11

Рассмотрите карту и выполните задания В8-В11

В8. Назовите полководца, руководившего осадой крепости, обозначенной на карте цифрой 1

В9. Назовите место героической обороны русских войск от превосходящих сил противника, обозначенное на карте цифрой 2

В10. Укажите название места, обозначенного на карте цифрой 3, где был заключен мирный договор



Задание 11

В11. Какие суждения, относящиеся к данной карте, являются верными? Укажите три суждения из шести предложенных.



1. На карте обозначены события русско-турецкой войны 70-х г. XIX в.
2. В результате успешных действий русских войск было признана независимость Сербии, Черногории, Румынии и расширены их территории
3. На карте обозначены события русско-турецких войн второй половины XVIII в.
4. Одним из итогов военных событий, обозначенных на карте, стало открытие черноморских проливов для русских судов
5. Пересмотр итогов войны, показанной на карте, был связан с позицией Великобритании и Австро-Венгрии
6. Военные события, обозначенные на карте, связаны с именами таких полководцев, как В.А. Корнилов, В.И. Истомин

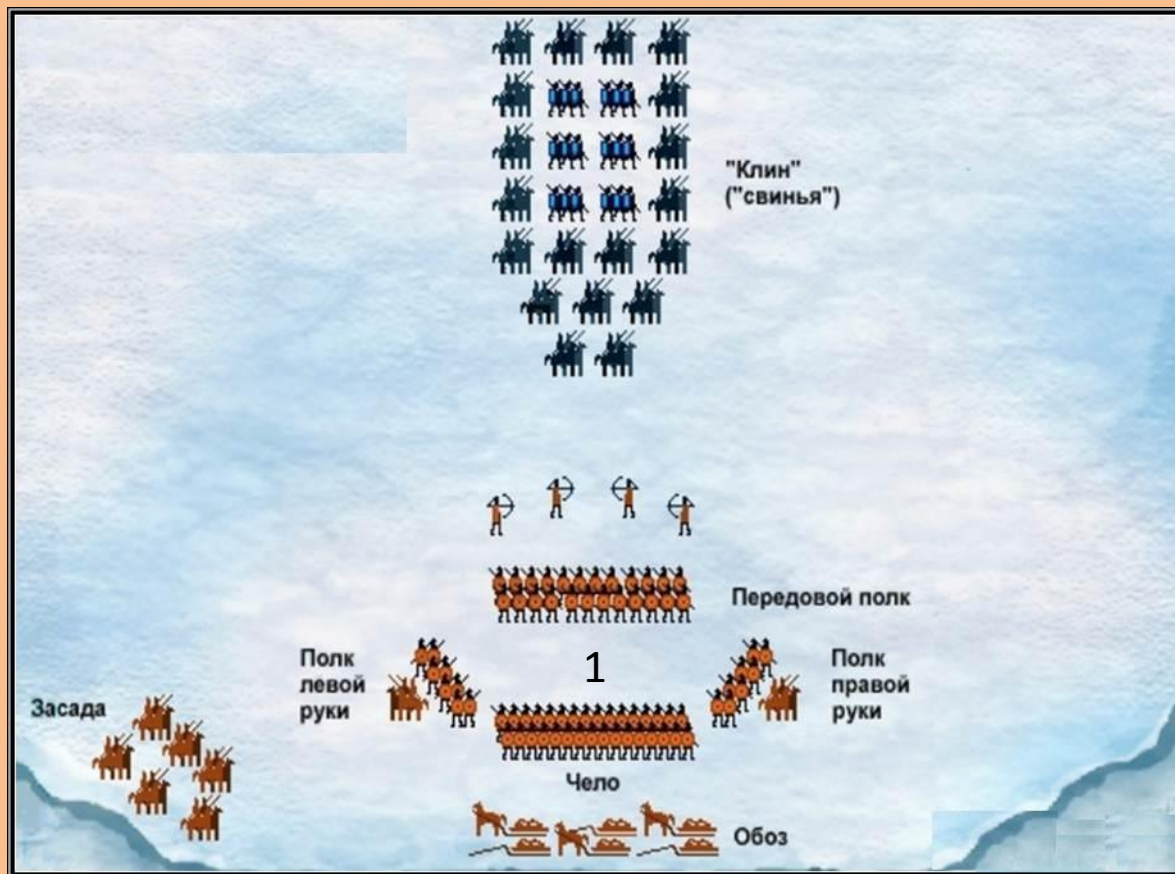
Задание 12

Рассмотрите карту и выполните задания В8-В11

В8. Для какого сражения характерно данное расположение войск?

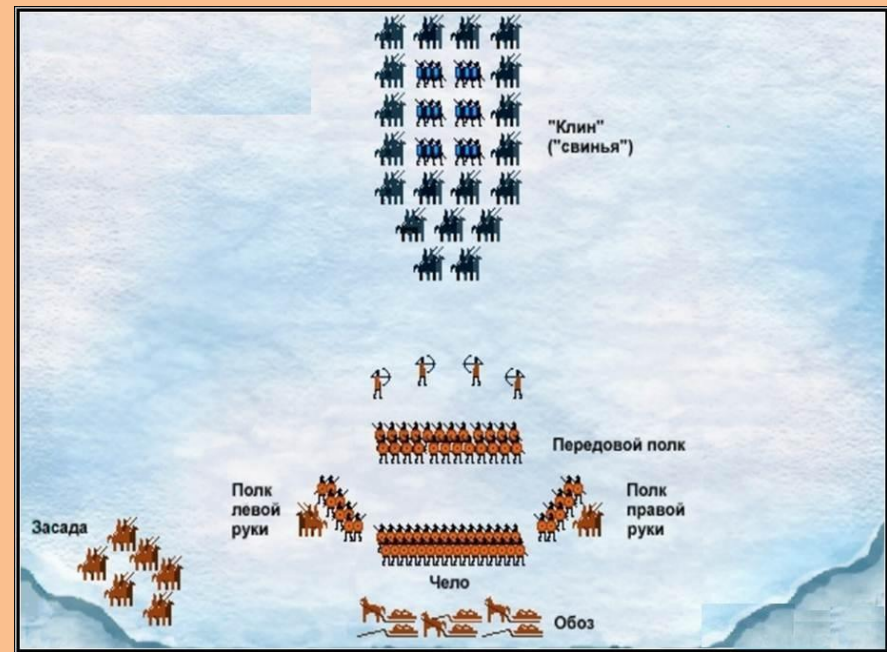
В9. В каком году происходило данное сражение?

В10. Назовите, кто командовал войсками, обозначенными на схеме цифрой 1



Задание 12

В11. Какие суждения, относящиеся к данной схеме, являются верными? Укажите три суждения из шести предложенных.



1. Сражение происходит на Чудском озере
2. На схеме отображено расположение войск русской армии и Золотой орды
3. В сражении союзниками русских войск были половцы
4. В результате данного сражения русские земли отстояли независимость
5. Решающую роль в сражении сыграл засадный полк
6. В ходе сражения русские войска долго преследовали противника

Задание 13

Рассмотрите карту и выполните задания В8-В11

В8. Укажите период (века) заселения Восточно-Европейской равнины славянами
В9. Укажите, к какой ветви славян относятся хорваты



В10. Определите южных соседей восточных славян, название которых значится под цифрой 1

Задание 13

В11. Какие суждения, относящиеся к данной карте, являются верными? Укажите три суждения из шести предложенных.



1. Северяне – самое северное племя восточных славян
2. Чудь, меря, весь – финно-угорские племена
3. Хазарский каганат как государственное объединение сложился в Хв.
4. Волыняне, хорваты, уличи – восточно–славянские племена
5. Восточные славяне – местные (автохтонные) жители Восточно-европейской равнины
6. Славяне принадлежат к индоевропейской языковой семье

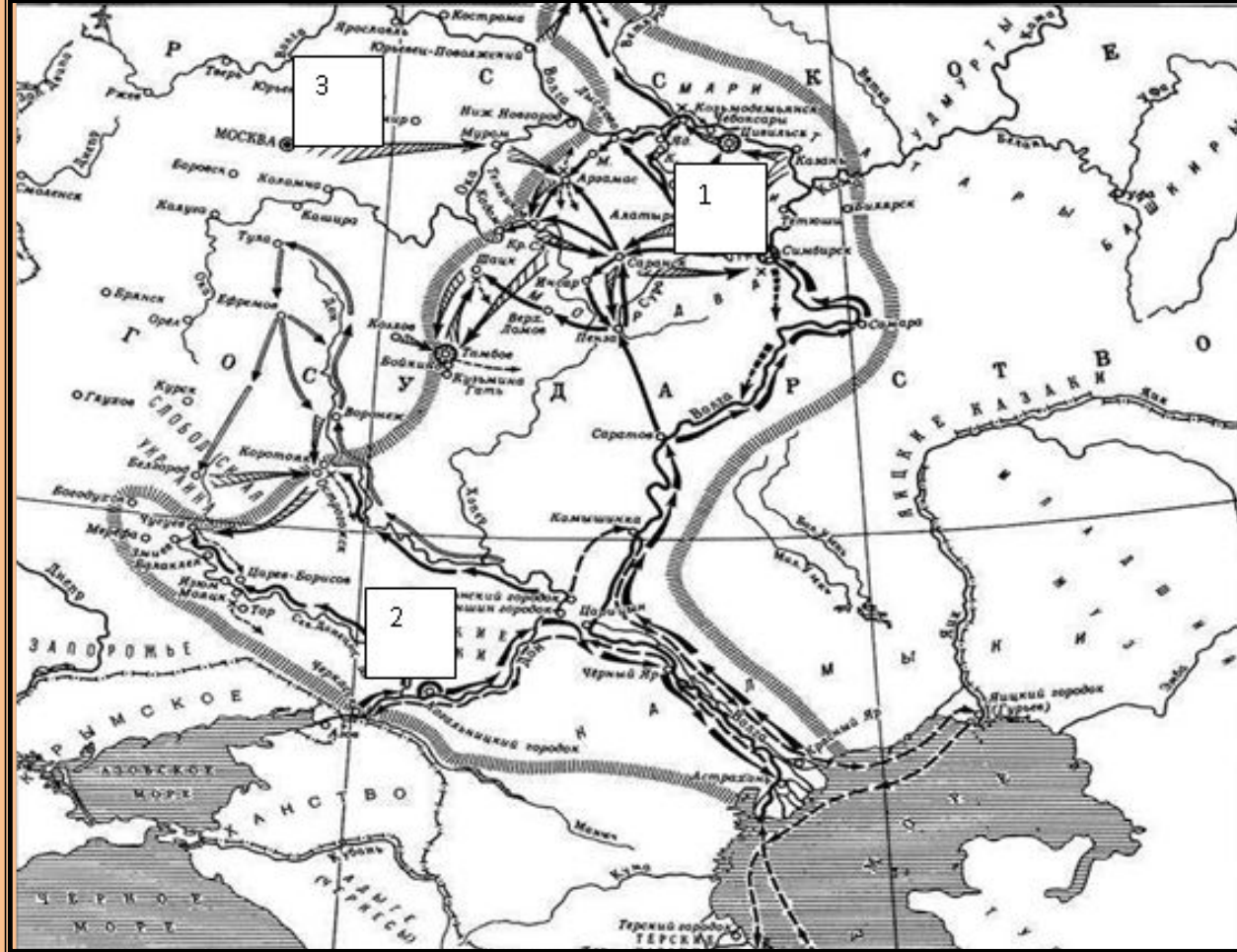
Задание 14

Рассмотрите карту и выполните задания В8-В11

В8. Укажите годы, к которым относятся события, изображенные на карте

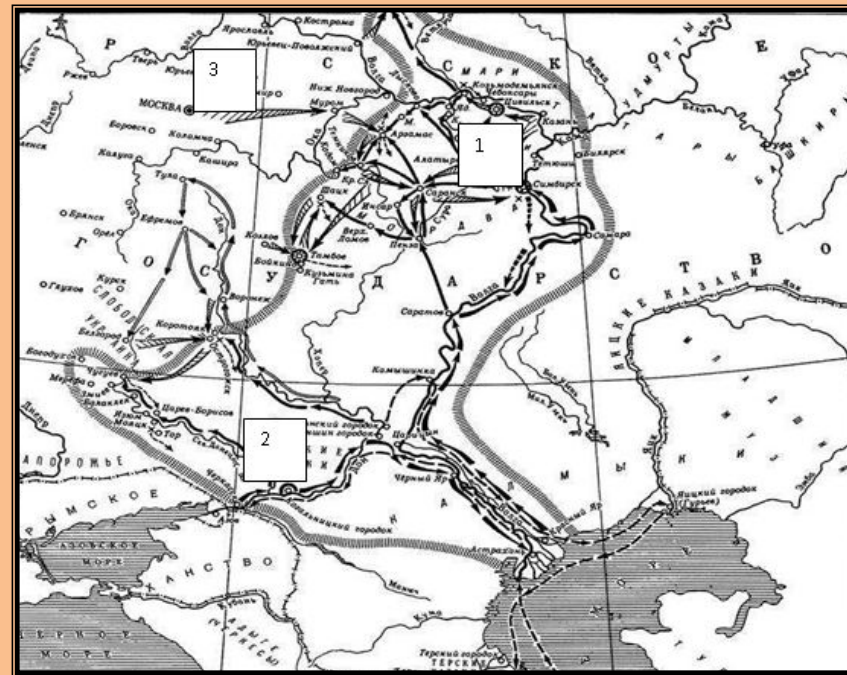
В9. Укажите, какие события, объекты значатся под цифрой 1

В10. Укажите, какие события, объекты значатся под цифрой 2



Задание 14

В11. Какие суждения, относящиеся к данной карте, являются верными? Укажите три суждения из шести предложенных.



1. В пределы русской земли вторглись завоеватели
2. Организатора события поддержали народы Поволжья
3. Полководец, поход которого обозначен на схеме, является основателем государства
4. Ни один из осажденных городов не был повержен
5. Под цифрой 3 указано место казни главного действующего лица событий
6. Указанные события относятся к XVII в.

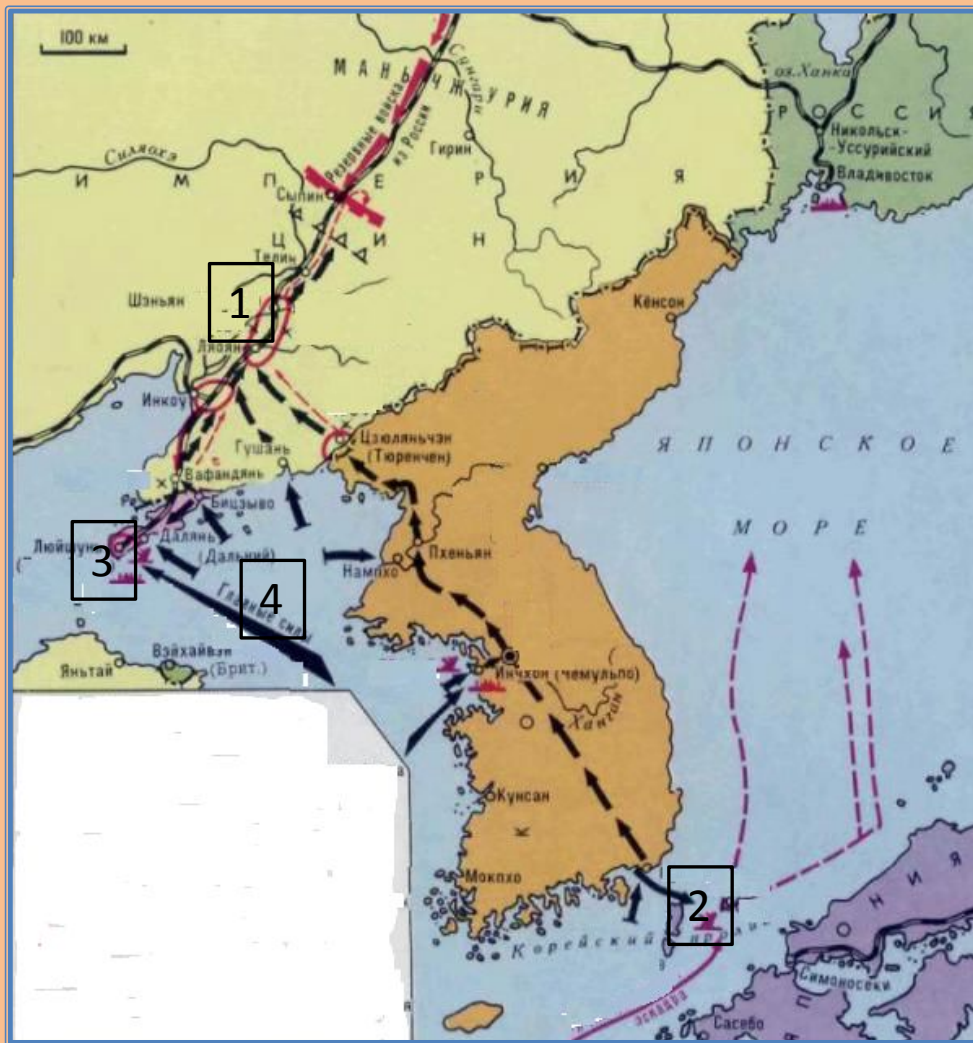
Задание 15

Рассмотрите карту и выполните задания В8-В11

В8. Назовите место военного сражения, обозначенного на карте цифрой 1

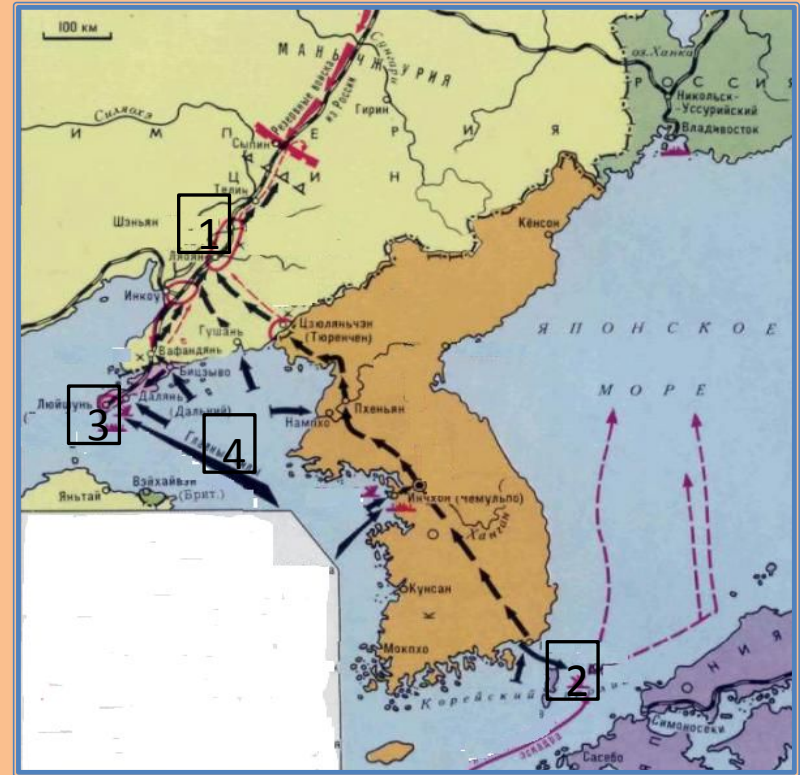
В9. Укажите название острова, обозначенного цифрой 2, где произошло морское сражение

В10. Укажите фамилию командующего дальневосточной эскадры, трагически погибшего в начале военных действий у порта, обозначенного цифрой 3



Задание 15

В11. Какие суждения, относящиеся к данной карте, являются верными? Укажите три суждения из шести предложенных.



1. В событиях, обозначенных на карте, Великобритания и США оказали поддержку России
2. Морские сражения закончились победой российского флота
3. В результате событий, обозначенных на карте, Россия потеряла Южный Сахалин
4. Поход, обозначенный как «главные силы» (цифра 4), был совершен русской армией
5. В сухопутных сражениях русская армия потерпела поражения
6. Одним из итогов войны стал рост революционной борьбы в России

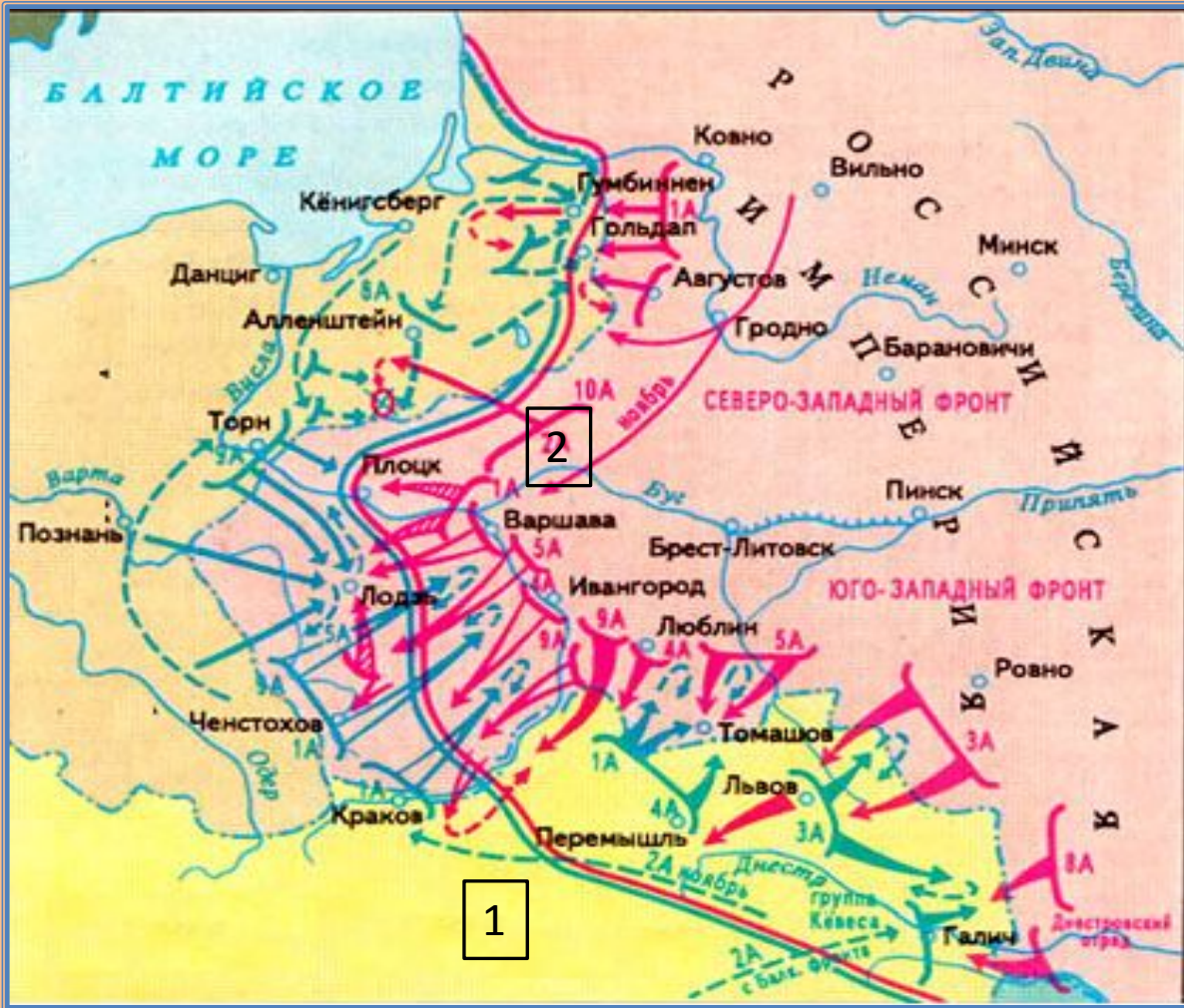
Задание 16

Рассмотрите карту и выполните задания В8-В11

В8. Укажите год событий, обозначенных на карте

В9. Укажите название государства, обозначенного на карте цифрой 1

В10. Напишите фамилию генерала 2-ой русской армии, обозначенной на карте под цифрой 2



Задание 16

В11. Какие суждения, относящиеся к данной карте, являются верными? Укажите три суждения из шести предложенных.

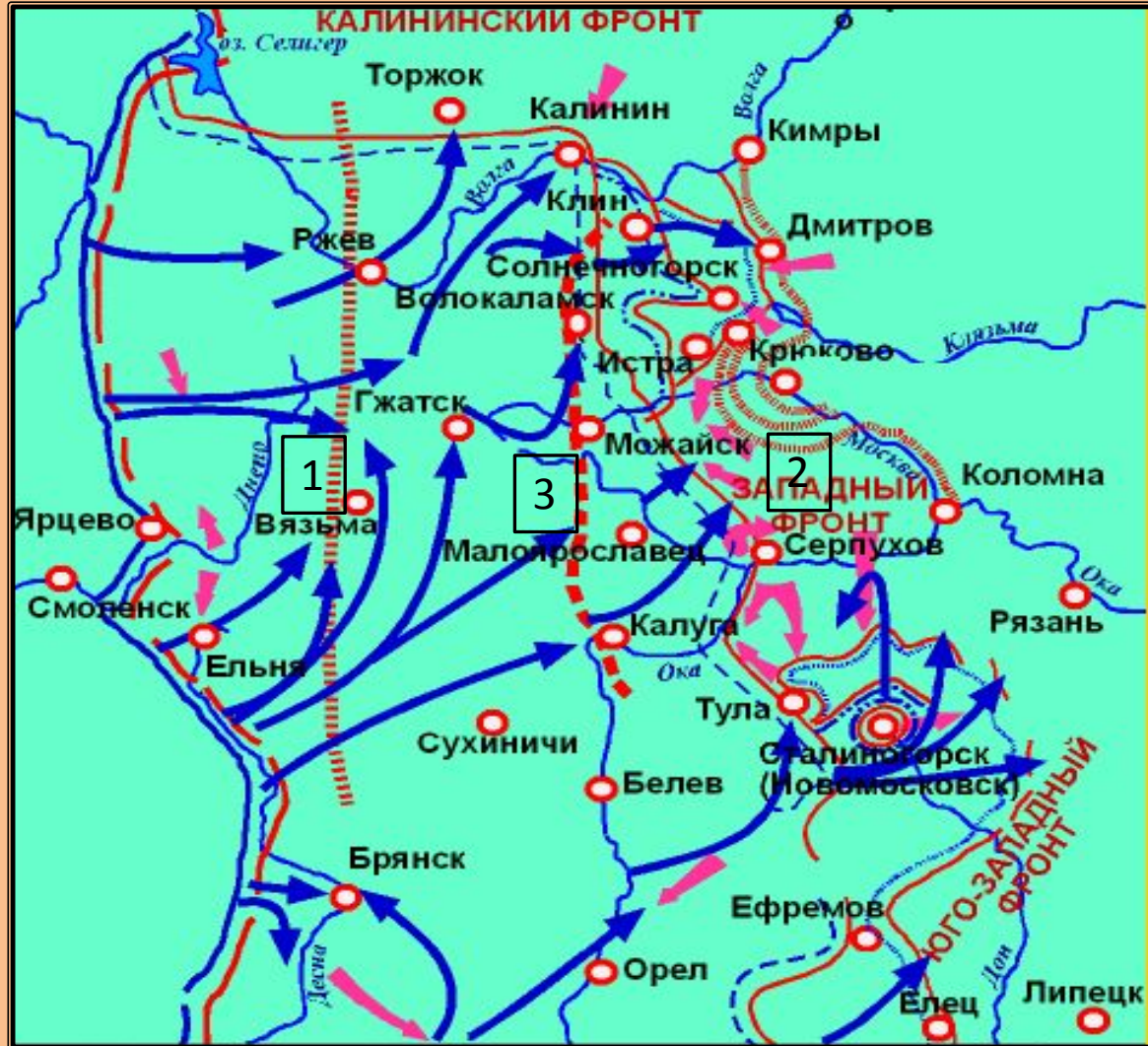


1. В итоге военных событий, обозначенных на карте по данному году, Россия заняла господствующее положение на Черном море
2. Результатом обозначенных на карте событий стала победа франко-английских войск на Марне
3. К следующему году война перешла в позиционную фазу
4. Обозначенные на карте военные операции привели к тому, что русские войска оставили Галицию
5. Восточно-Прусская операция, обозначенная на карте, завершилась отступлением русской армии
6. В год, которому посвящена карта, в войну вступили США

Задание 17

Рассмотрите карту и выполните задания В8-В11

В8. Укажите название линии обороны, обозначенной на карте под цифрой 1

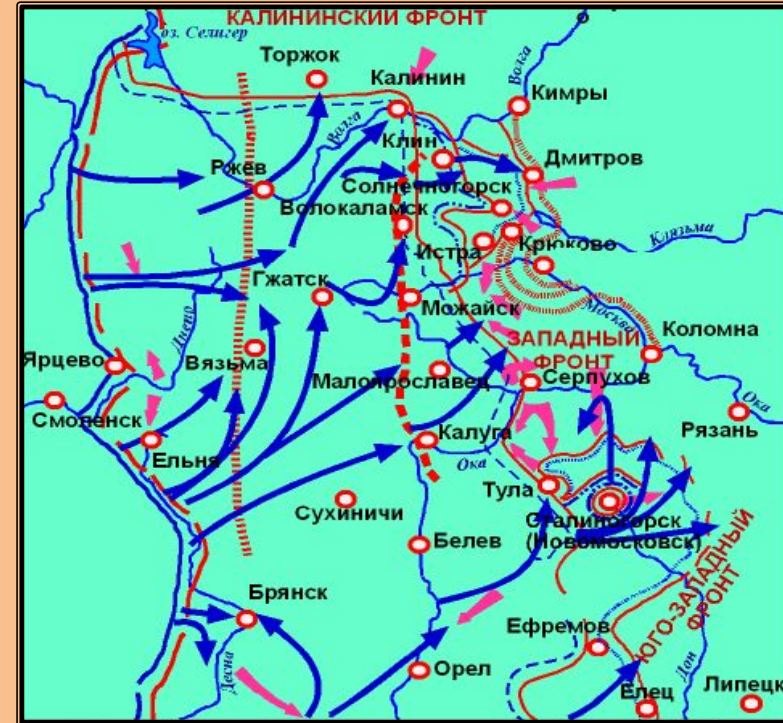


В9. Укажите фамилию командующего фронтом, который обозначен на карте под цифрой 2

В10. Укажите название линии обороны, обозначенной на карте под цифрой 3

Задание 17

В11. Какие суждения, относящиеся к данной карте, являются верными? Укажите три суждения из шести предложенных.



1. На карте показано контрнаступление советских войск под Москвой
2. Карта иллюстрирует оборонительные бои в июле-августе 1941г.
3. На карте показаны оборонительные бои за Москву
4. В ходе показанного на карте второго наступления немецким войскам не удалось взять Тулу
5. В результате боев за столицу, было введено осадное положение
6. В результате событий, обозначенных на карте, советским войскам удалось отстоять Тверь, Калугу

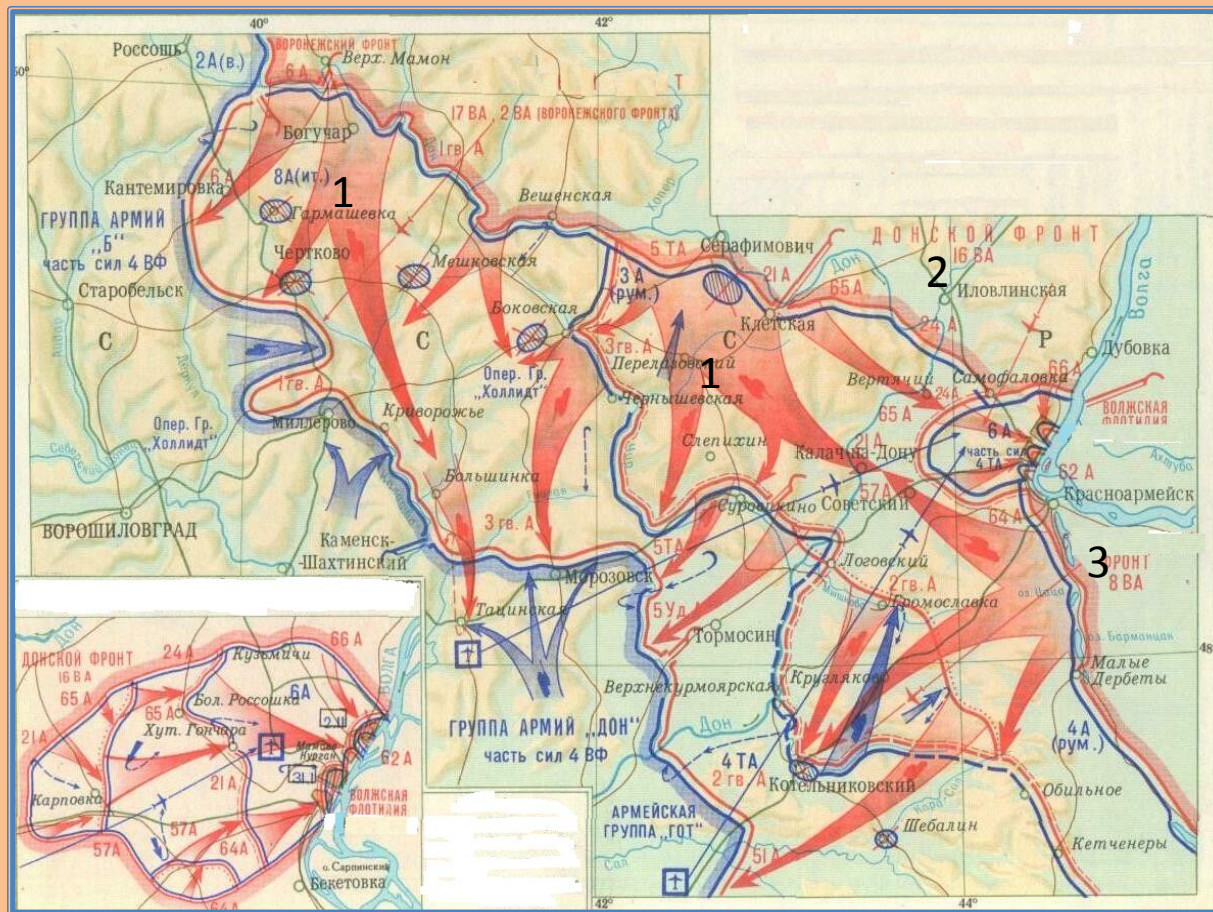
Задание 18

Рассмотрите карту и выполните задания В8-В11

В8. Укажите число, месяц, год наступления, обозначенного на карте стрелками под цифрой 1

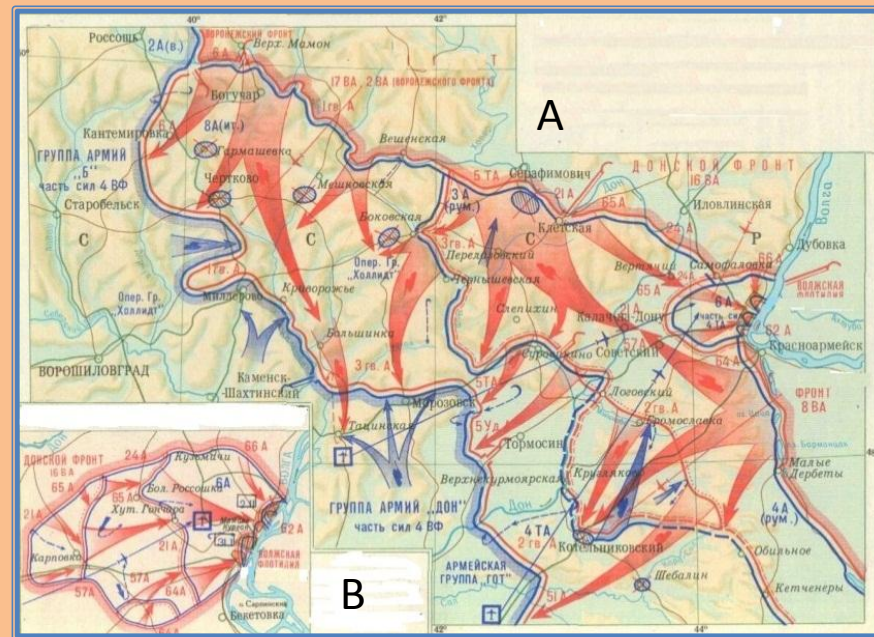
В9. Укажите фамилию полководца, командующего фронтом, обозначенного на карте цифрой 2

В10. Укажите название фронта, который принимал участие в данной военной операции, обозначенного на карте под цифрой 3



Задание 18

В11. Какие суждения, относящиеся к данной карте, являются верными? Укажите три суждения из шести предложенных.

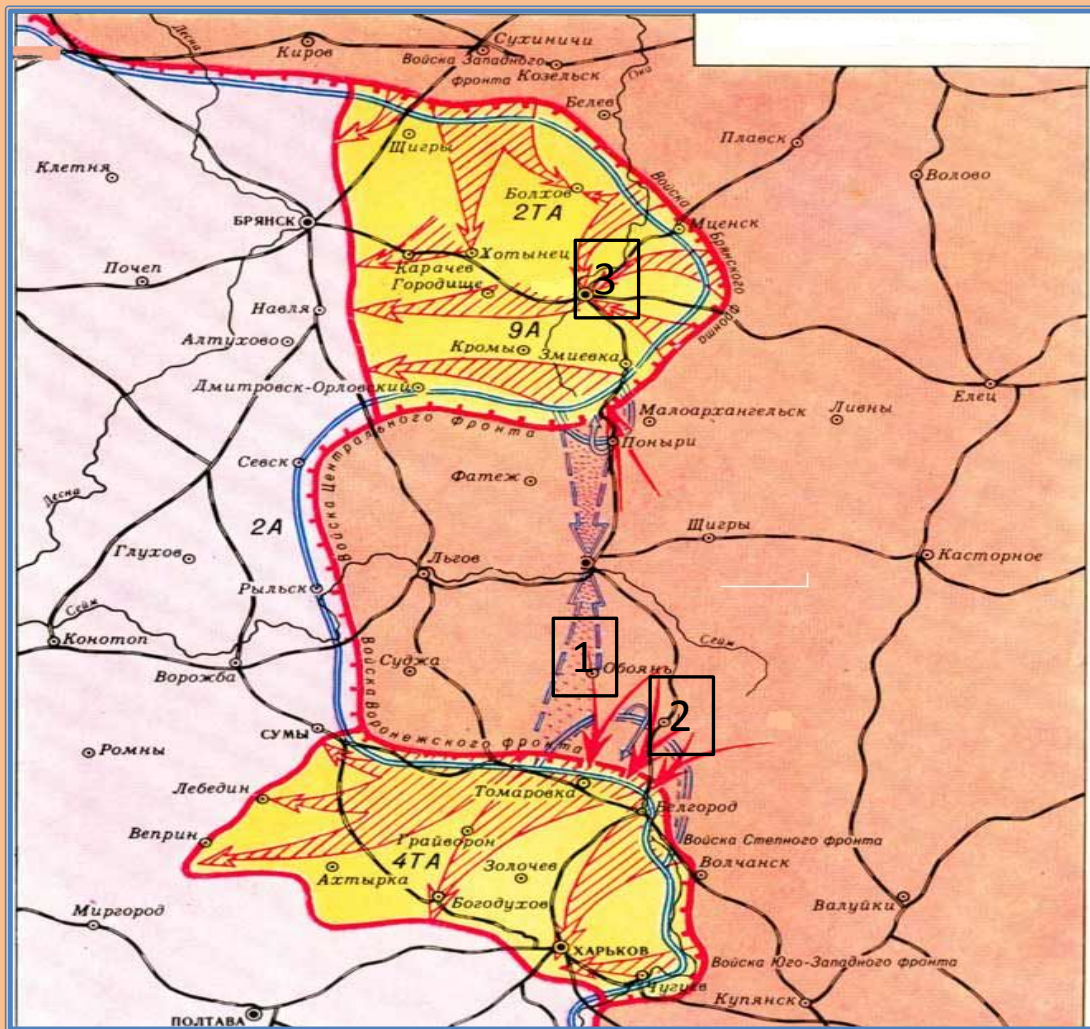


1. На карте В дана схема ликвидации окруженной немецкой группировки
2. В результате военной операции, обозначенной на карте, начался коренной перелом в ходе Великой Отечественной войны
3. На карте А показаны оборонительные сражения на подступах к Сталинграду
4. В результате военной операции, обозначенной на карте В, группе войск генерала Э. Манштейна удалось пробиться к окруженным частям
5. В итоге сражений немецким войскам удалось прорвать оборону советских войск
6. На карте показано контрнаступление советских войск

Задание 19

Рассмотрите карту и выполните задания В8-В11

В8. Укажите кодовое название военной операции, обозначенной на карте под цифрой 1

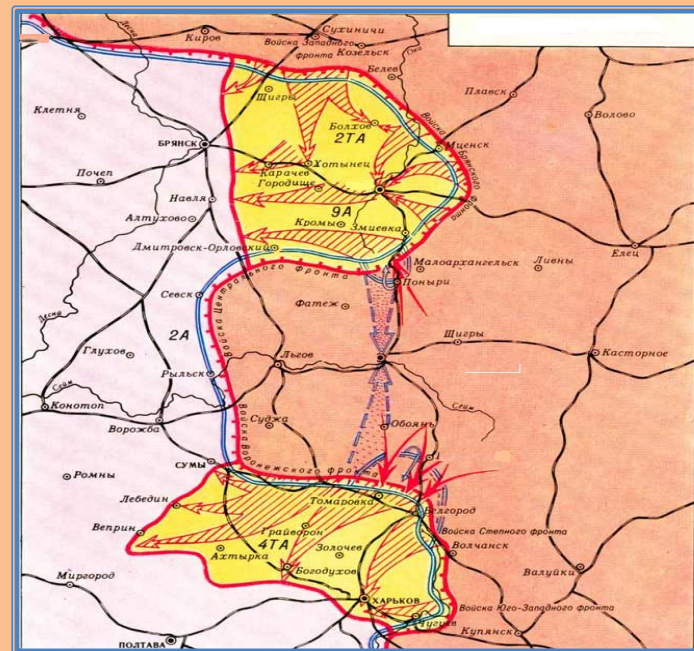


В9. Назовите место сражения, обозначенного на карте под цифрой 2

В10. Укажите кодовое название военной операции по освобождению города, обозначенного на карте, под цифрой 3

Задание 19

В11. Какие суждения, относящиеся к данной карте, являются верными? Укажите три суждения из шести предложенных.

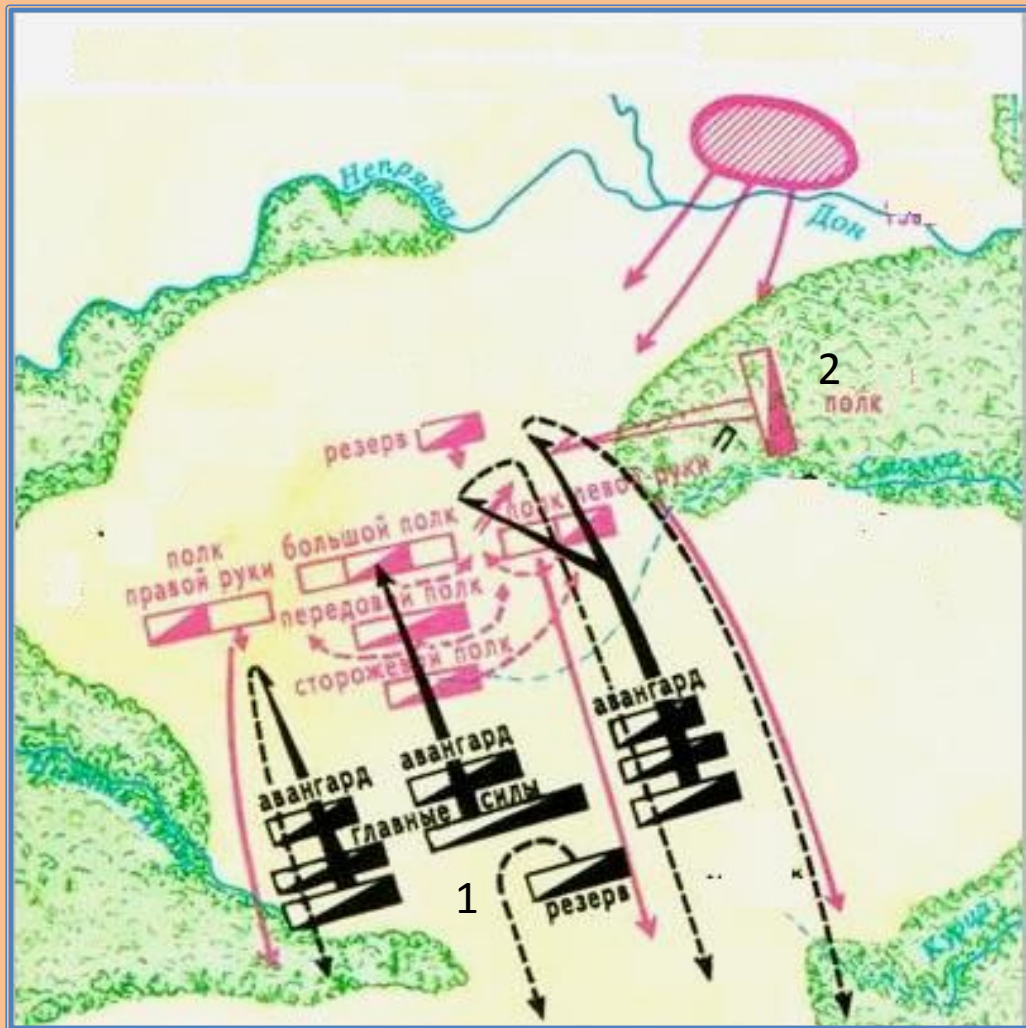


1. На карте показано наступление немецких войск весной-осенью 1942г.
2. В результате военной операции, обозначенной на карте, была освобождена Белоруссия
3. На карте обозначен переход стратегической инициативы к советской армии
4. Военная операция сыграла важную роль в изменении обстановки в мире: капитуляция Италии
5. Дальнейшее развитие военной операции позволило освободить значительную часть территории РСФСР и Украины
6. На карте показана Корсунь-Шевченковская операция

Задание 20

Рассмотрите схему и выполните задания В8-В11

В8. Напишите имя ордынского хана, командующего войсками под цифрой 1

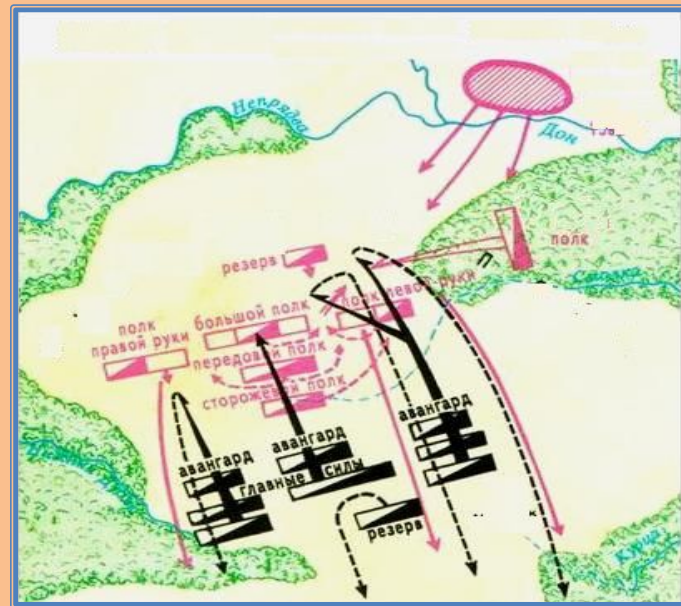


В9. Напишите как назывался полк, обозначенный цифрой 2

В10. Укажите день, месяц, год, когда проходило сражение

Задание 20

В11. Какие суждения, относящиеся к данной схеме, являются верными? Укажите три суждения из шести предложенных.



1. Ордынцев в битве поддержал польский король Казимир IV
2. Ускорился процесс объединения русских земель вокруг Москвы
3. Битва положила конец нашествию ордынцев на русские земли
4. Произошла большая победа над генеральными силами ордынцев
5. В результате битвы русские земли больше не платили дань Орде
6. Союзниками ордынцев в битве были литовский и рязанские князья

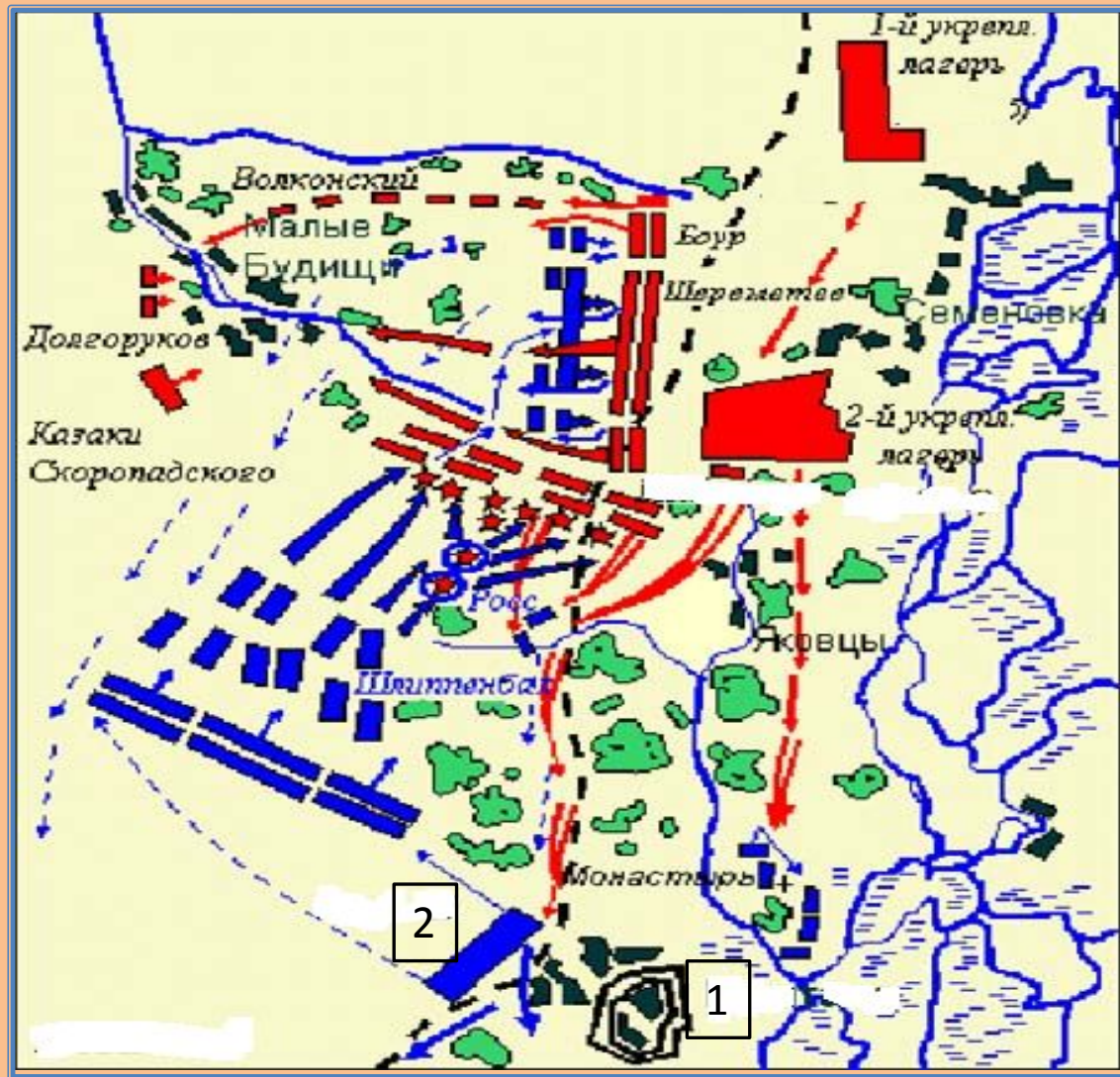
Задание 21

Рассмотрите схему и выполните задания В8-В11

В8. Укажите год, когда произошла битва

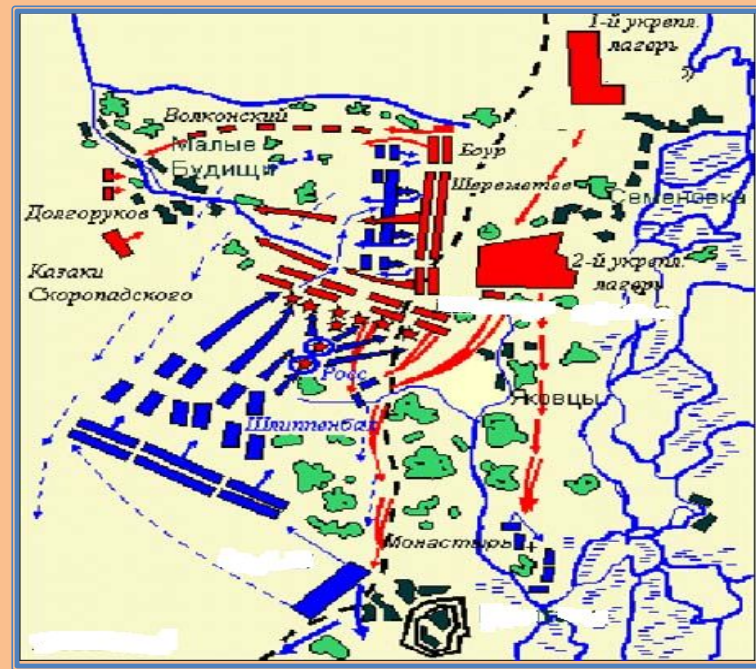
В9. Напишите название города, обозначенного на карте цифрой 1

В10. Напишите имя полководца, командующего войсками, обозначенных на схеме цифрой 2



Задание 21

В11. Какие суждения, относящиеся к данной карте, являются верными? Укажите три суждения из шести предложенных.



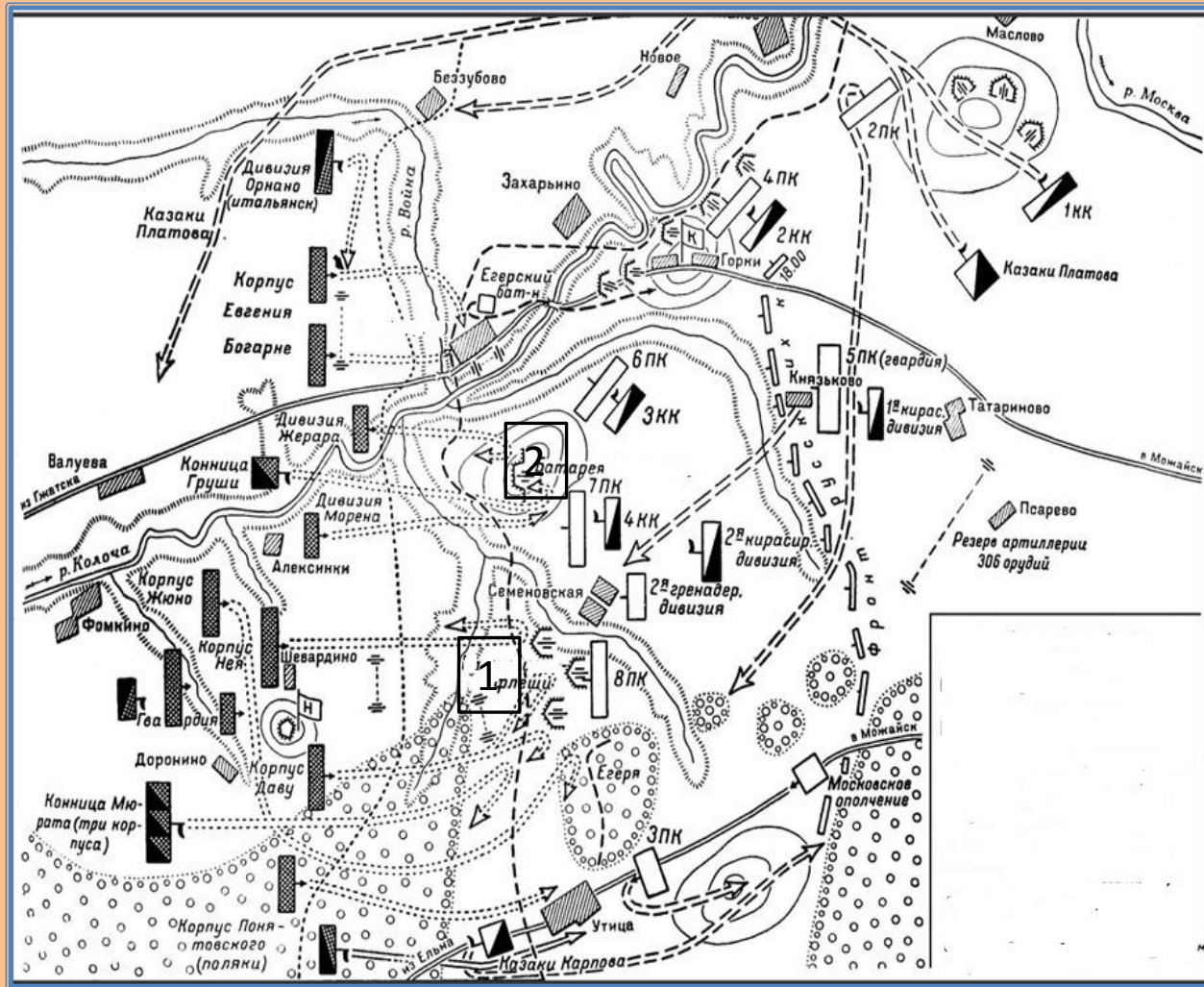
1. Битва ознаменовала коренный перелом в ходе войны
2. Одним из итогов битвы стал распад Северного союза
3. После победы Россия получила передышку для реорганизации армии
4. В результате битвы была ликвидирована опасность вступления Турции в войну против России
5. Победа способствовала восстановлению Северного союза
6. После победы начались мирные переговоры по инициативе шведов

Задание 22

Рассмотрите
схему и
выполните
задания В8-В11

В8. По фамилии какого
полководца были
названы флешы,
обозначенные на
схеме цифрой 1,
принявшие на себя
главный удар
противника

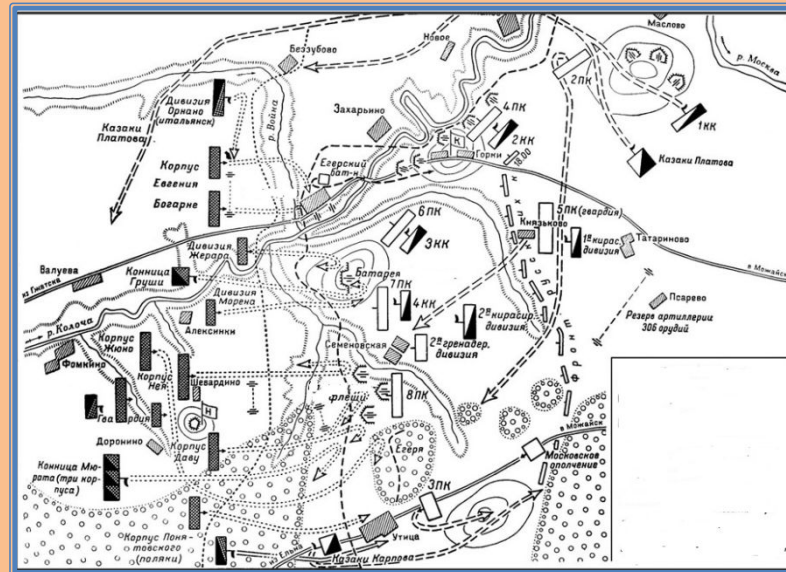
В9. Укажите дату
сражения



В10. Укажите фамилию генерала,
возглавившего батарею,
обозначенную
на схеме цифрой 2

Задание 22

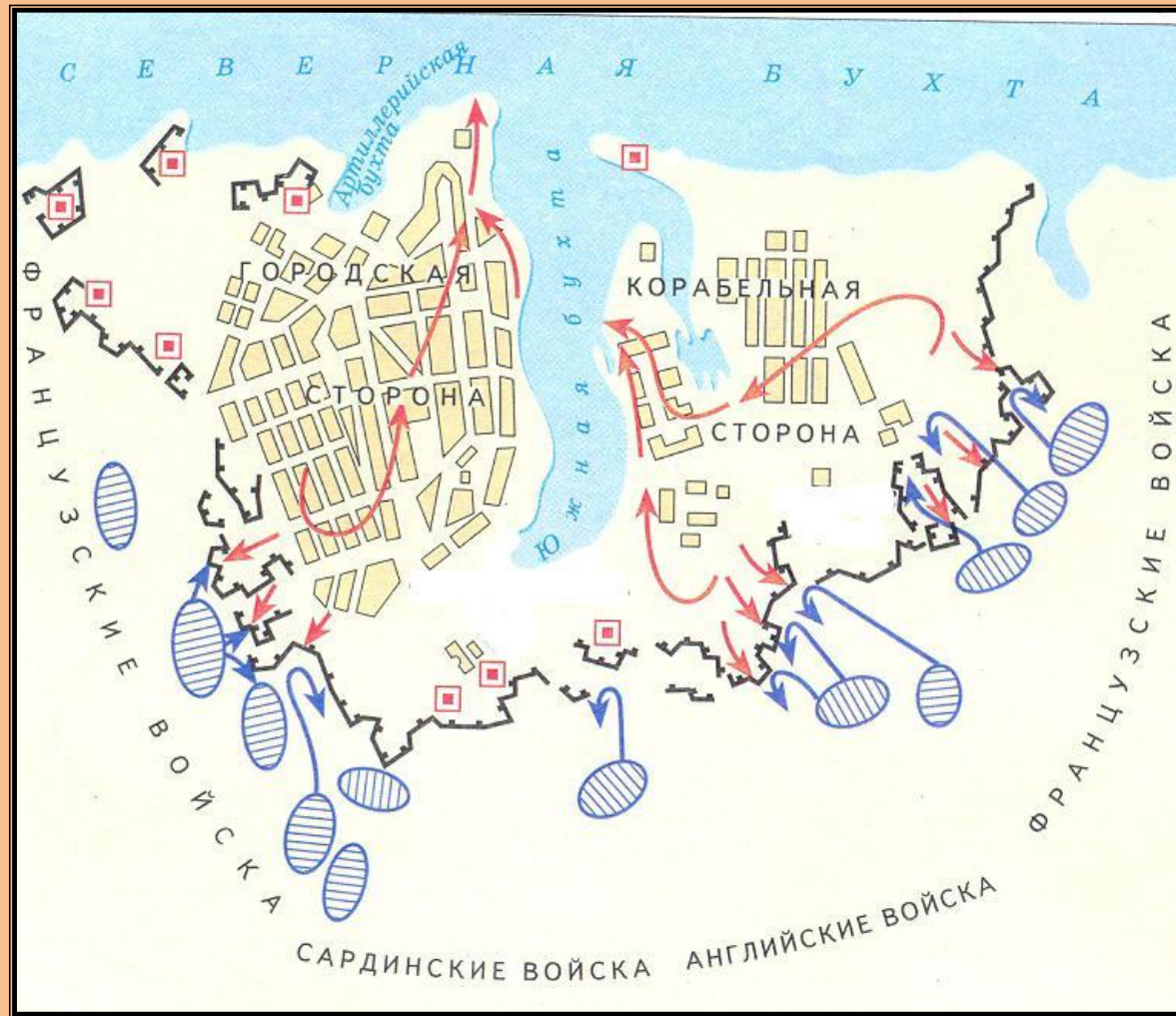
В11. Какие суждения, относящиеся к данной схеме, являются верными? Укажите три суждения из шести предложенных.



1. Французским войскам удалось занять передовые позиции русских войск
2. После сражения был назначен новый командующий русской армией
3. Современные историки считают, что ни одна из сторон не сумела добиться поставленных целей
4. Сражение заставило французов начать отступление
5. После сражения русское командование приняло решение об оставлении Москвы
6. Сражение создало возможности для дальнейшего разгрома русских войск

Задание 23

Рассмотрите схему
и выполните
задания В8-В11



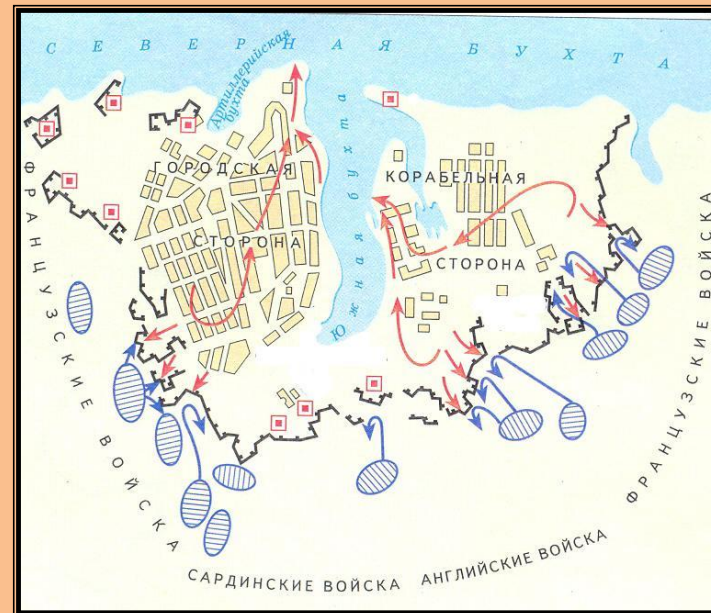
В8. Укажите название
города

В9. Укажите годы обороны
города

В10. Назовите фамилию человека, который возглавил оборону города

Задание 23

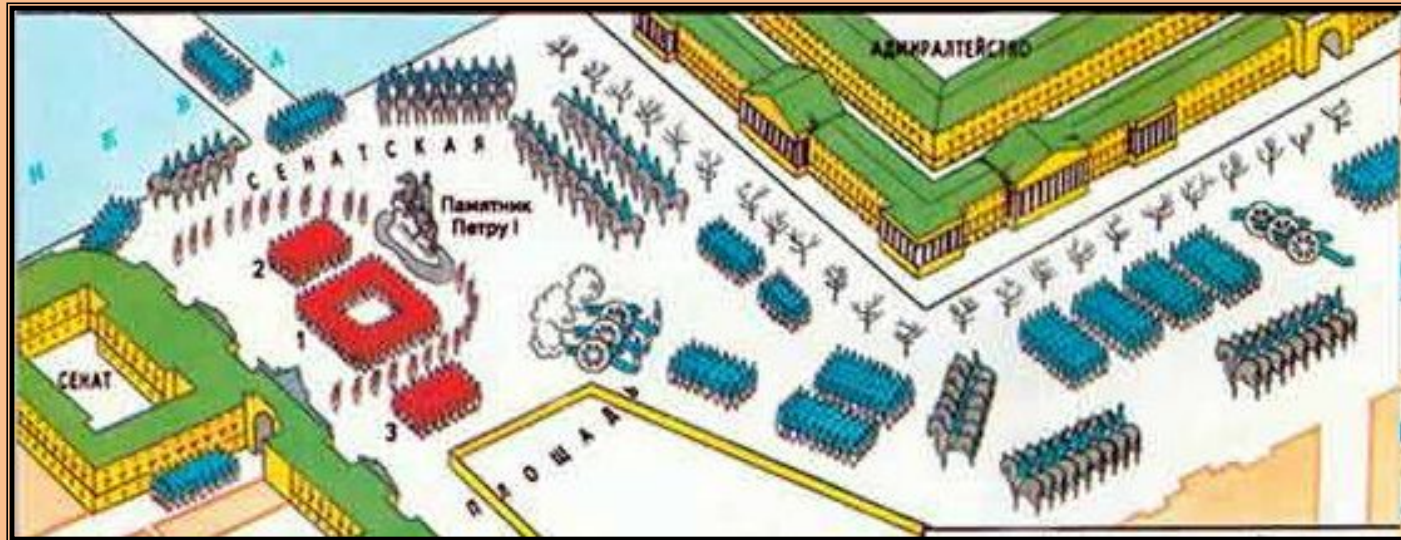
В11. Какие суждения, относящиеся к данной схеме, являются верными? Укажите три суждения из шести предложенных.



1. Оборона города закончилась отходом войск противника
2. Защитники ушли из города, взорвав укрепления
3. В результате поражения России в войне, Черное море было объявлено закрытым для военных кораблей
4. События, изображенные на схеме, описал Л.Н. Толстой в романе «Война и мир»
5. В ходе обороны помощь раненым впервые оказывали сёстры милосердия
6. В России эту войну называли русско-шведской войной

Задание 24

Рассмотрите
схему и
выполните
задания В8-
В11



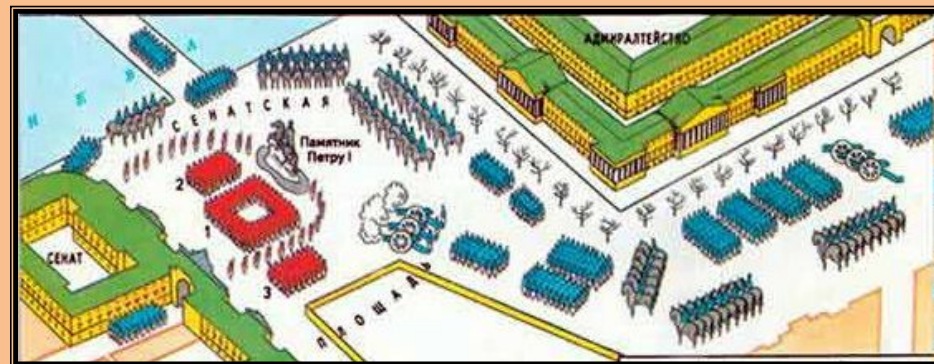
В8. Укажите дату, к которой относится событие, изображенное на схеме

В9. Укажите имя императора, во время правления которого произошло данное событие

В10. Укажите, кто был назначен руководителем данного события

Задание 24

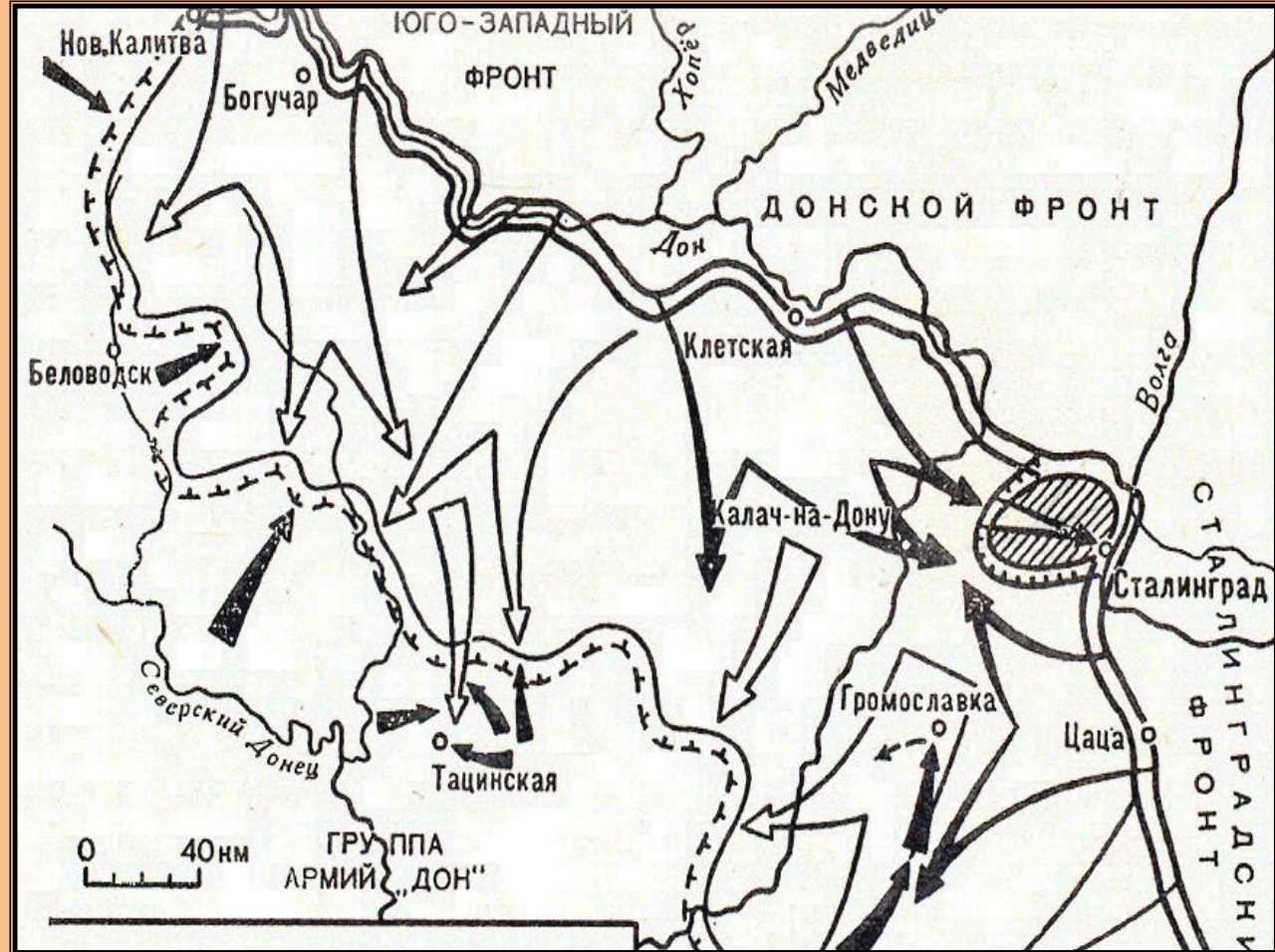
В11. Какие суждения, относящиеся к данной схеме, являются верными? Укажите три суждения из шести предложенных.



1. Основной целью события было ограничение самодержавия в России
2. Одним из последствий событий, изображенных на схеме, стала смена правящей династии
3. Площадь, на которой происходило событие, называется Дворцовой
4. Основные зачинщики данного события были казнены
5. Данное событие не было поддержано народными массами
6. В результате события, изображенного на схеме, были проведены либеральные реформы

Задание 25

Рассмотрите карту и выполните задания В8-В11



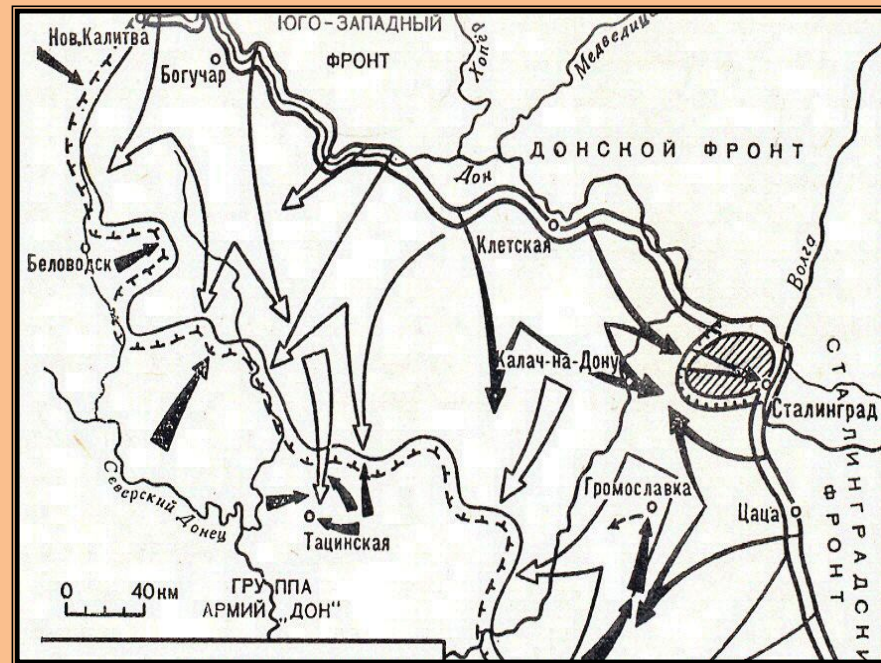
В8. Укажите дату, к которой относится событие, изображенное на карте-схеме

В9. Укажите название этого события

В10. Укажите имя человека, сдавшего в плен по окончании данного события

Задание 25

В11. Какие суждения, относящиеся к данной карте, являются верными? Укажите три суждения из шести предложенных.



1. Самое большое в мировой истории количество окруженных войск противника
2. Одним из последствий события, изображенного на схеме, стала смена политического режима в стране
3. Это событие происходило летом
4. Основные зачинщики данного события были казнены
5. Событие, изображенное на схеме, положило начало коренному изменению в ходе войны
6. Представлен этап контрнаступления

Задание 26

Рассмотрите карту и выполните задания В8-В11



В8. Укажите имя полководца, который осуществил поход, обозначенный под цифрой 1

В9. Назовите место, где произошло сражение, обозначенное под цифрой 2

В10. Укажите год, когда произошло событие, обозначенное под цифрой 3

Задание 26

В11. Какие суждения, относящиеся к данной карте, являются верными? Укажите три суждения из шести предложенных.



1. Поход на Новгород Ивана III, который «привел Великий Новгород во всю волю СВОЮ»
2. Из событий, обозначенных на карте, можно определить, что одной из главных задач внутренней политики Ивана IV Грозного было укрепление единоличной власти
3. В результате событий, обозначенных на карте, сформировалось централизованное государство
4. На карте представлены события, в результате которых Казанское и Астраханское ханства вошли в состав России
5. Поход, обозначенный на карте, из Большой Орды не привел к сражению, и ордынцы, повернув назад, признали свое поражение
6. Поход, обозначенный на карте, из Большой Орды привел к кровопролитному сражению и разгрому основных сил ордынцев