

# ВВЕДЕНИЕ В КУРС ИСТОРИИ ДРЕВНЕГО МИРА

5 класс

ЗАНЯТИЕ 1







**ЗАДАНИЕ: КАКИЕ ИЗ ЭТИХ  
ИСТОРИЧЕСКИХ  
ИСТОЧНИКОВ  
ВЕЩЕСТВЕННЫЕ, А КАКИЕ  
- ПИСЬМЕННЫЕ ?**







Handwritten text in an ancient script, likely Egyptian hieroglyphs, arranged in vertical columns on a narrow strip of material. The script is densely packed and spans the entire length of the strip. The strip is oriented vertically, with the text running from top to bottom. The material appears to be a fragment of papyrus or similar ancient writing surface, showing some wear and discoloration at the edges. The text is written in black ink on a light-colored background. The columns are separated by thin vertical lines, and the overall appearance is that of a well-preserved but narrow fragment of an ancient document.





Handwritten text in a cursive script, likely a form of Arabic or Persian, spanning the top of the page.

Handwritten text in a cursive script, located in the upper middle section of the page.

Handwritten text in a cursive script, located in the upper right section of the page.

Handwritten text in a cursive script, located in the middle left section of the page.

Handwritten text in a cursive script, located in the middle right section of the page.

Handwritten text in a cursive script, located on the left side of the page.



Handwritten text in a cursive script, located in the upper right section of the page.

Handwritten text in a cursive script, located on the left side of the page.


Handwritten text in a cursive script, located in the lower middle section of the page.

Handwritten text in a cursive script, located in the lower middle section of the page.

Handwritten text in a cursive script, located in the lower right section of the page.

Handwritten text in a cursive script, located at the bottom left of the page.

1.















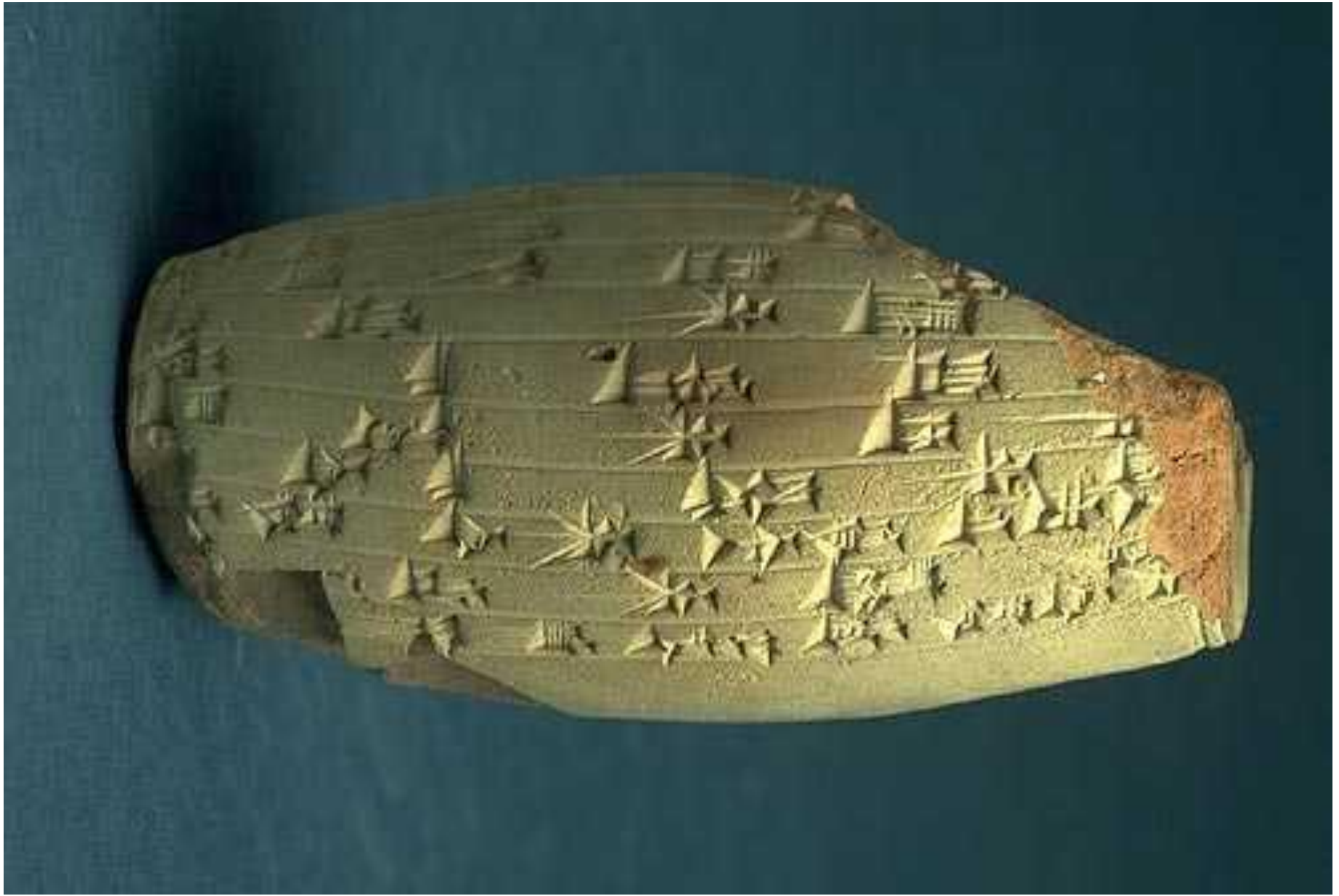
Vertical column of hieroglyphs on the left side of the page.

Horizontal column of hieroglyphs at the bottom of the page.



Vertical column of hieroglyphs on the right side of the page.





**ВОПРОС:**

**ЧЕМ ПИСЬМЕННЫЕ ИСТОЧНИКИ  
ОТЛИЧАЮТСЯ ОТ УСТНЫХ?**

**ЗАДАНИЕ: РАСТРЕДЕЛИТЕ ЭТИ ИСТОРИЧЕСКИЕ ИСТОЧНИКИ ПО ТРЁМ ВИДАМ (ВЕЩЕСТВЕННЫЕ, ПИСЬМЕННЫЕ, УСТНЫЕ):**

- 1. ГРЕЧЕСКАЯ МОНЕТА**
- 2. ЛЕГЕНДА О СОЗВЕЗДИИ МАЛАЯ МЕДВЕДИЦА**
- 3. СКИФСКИЙ МЕЧ (АКИНАК)**
- 4. ГЛИНЯНАЯ ТАБЛИЧКА С ПИСЬМЕНАМИ ИЗ МЕЖДУРЕЧЬЯ**
- 5. МИФЫ НАРОДОВ АФРИКИ**
- 6. ДРЕВНЕЕГИПЕТСКИЙ ПАПИРУС С ИЕРОГЛИФАМИ**
- 7. ДРЕВНЯЯ КРЕПОСТЬ В ИТАЛИИ**
- 8. НАДПИСИ НА КАМНЯХ**
- 9. СКАЗАНИЕ О ГИЛЬГАМЕШЕ**
- 10. ПЕСНИ ДРЕВНИХ ИНДИЙЦЕВ**

# КЛЮЧ (ОТВЕТЫ):

ВЕЩЕСТВЕННЫЕ: **1, 3, 7.**

ПИСЬМЕННЫЕ: **4, 6, 8.**

УСТНЫЕ: **2, 5, 9, 10.**



**ПРИВЕДИТЕ ПРИМЕРЫ  
ПИСЬМЕННЫХ, УСТНЫХ И  
ВЕЩЕСТВЕННЫХ  
ИСТОЧНИКОВ**

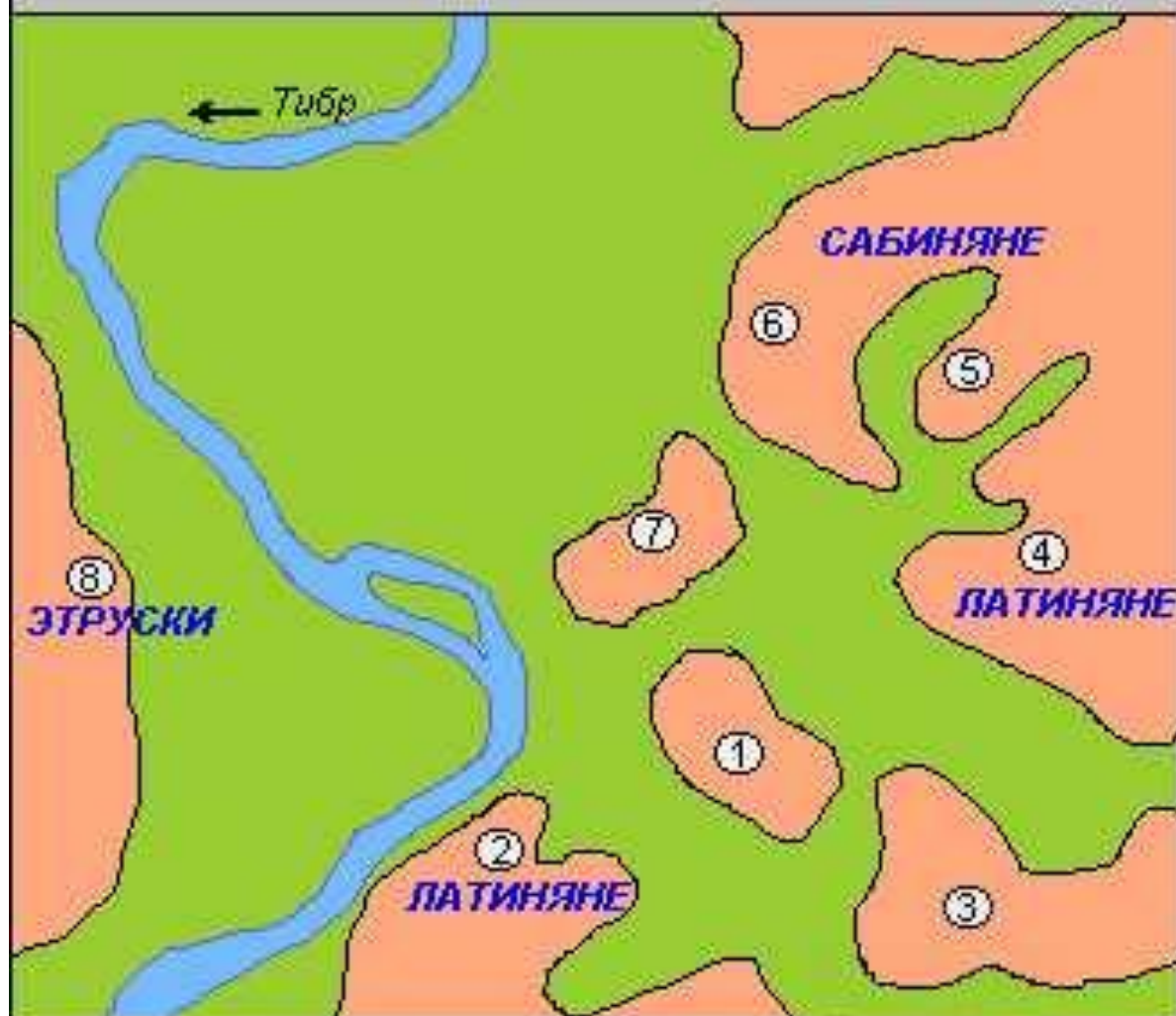
**ИСТОРИЧЕСКАЯ КАРТА – кусок бумаги,  
на котором изображены города, реки,  
места жительства народов, места битв  
и другие условные обозначения.**

Финикийские колонии около 550 до н.э.



берега, колонизированные финикийцами

## РИМСКИЕ ХОЛМЫ



1. Палатин (51м)
2. Авентин (46м)
3. Целий (48м)
4. Эсквилин (58м)

5. Виминал (54)
6. Квиринал (69м)
7. Капитолий (49м)
8. Яникул (85м)



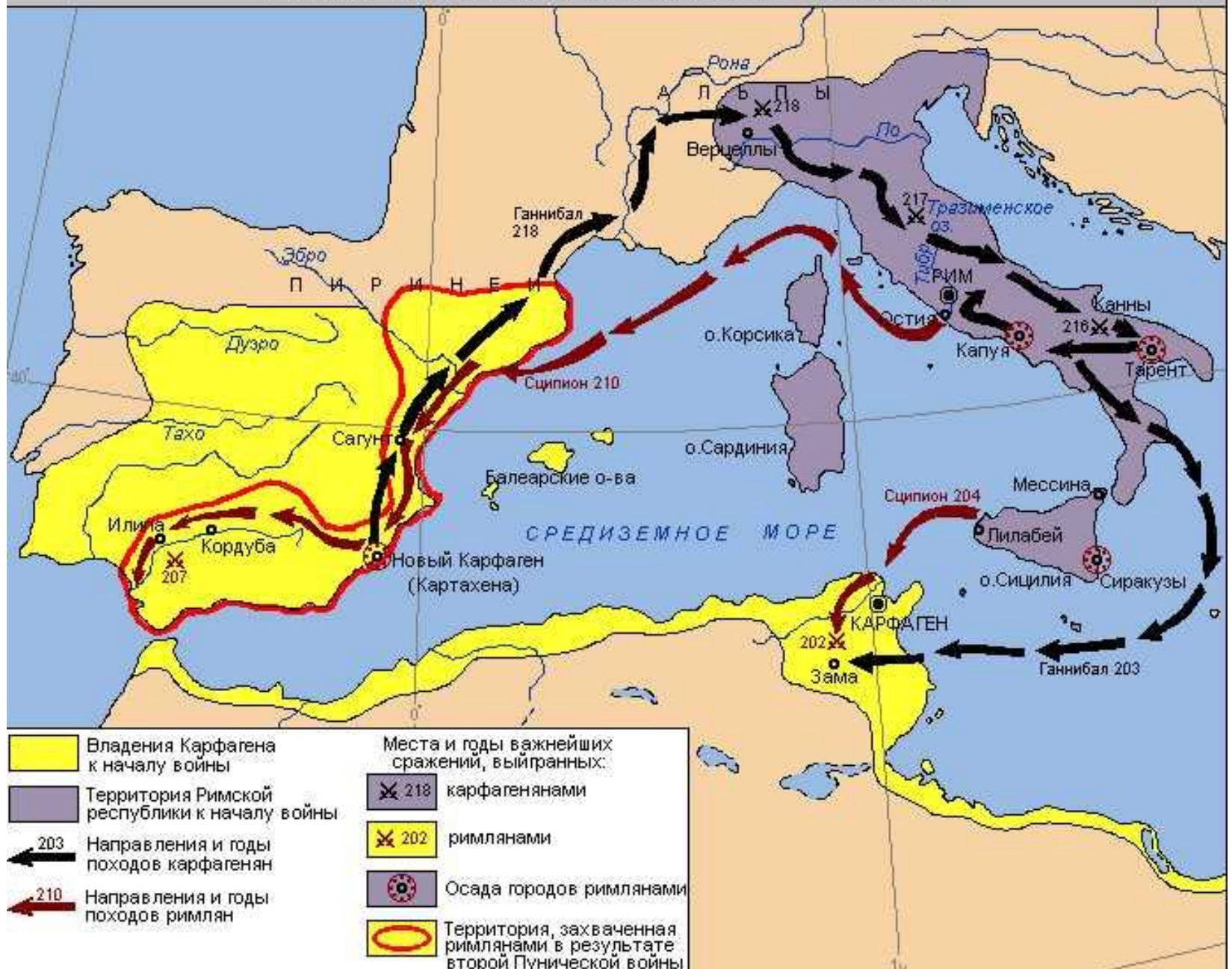
# ORBIS TERRAE COMPENDIOSA DESCRIPTIO

Quaerens Magna Visibili Gerardi Mercatoris Thomae Richardo Guilfo Geographiae ac Geographiae honoris artium magistri ac Antoni Fontanae in artebus mathematicis ac Geographiis ab ingenio Bonifacii Mercatoris fieri curavit. A. M. D. LXVII.

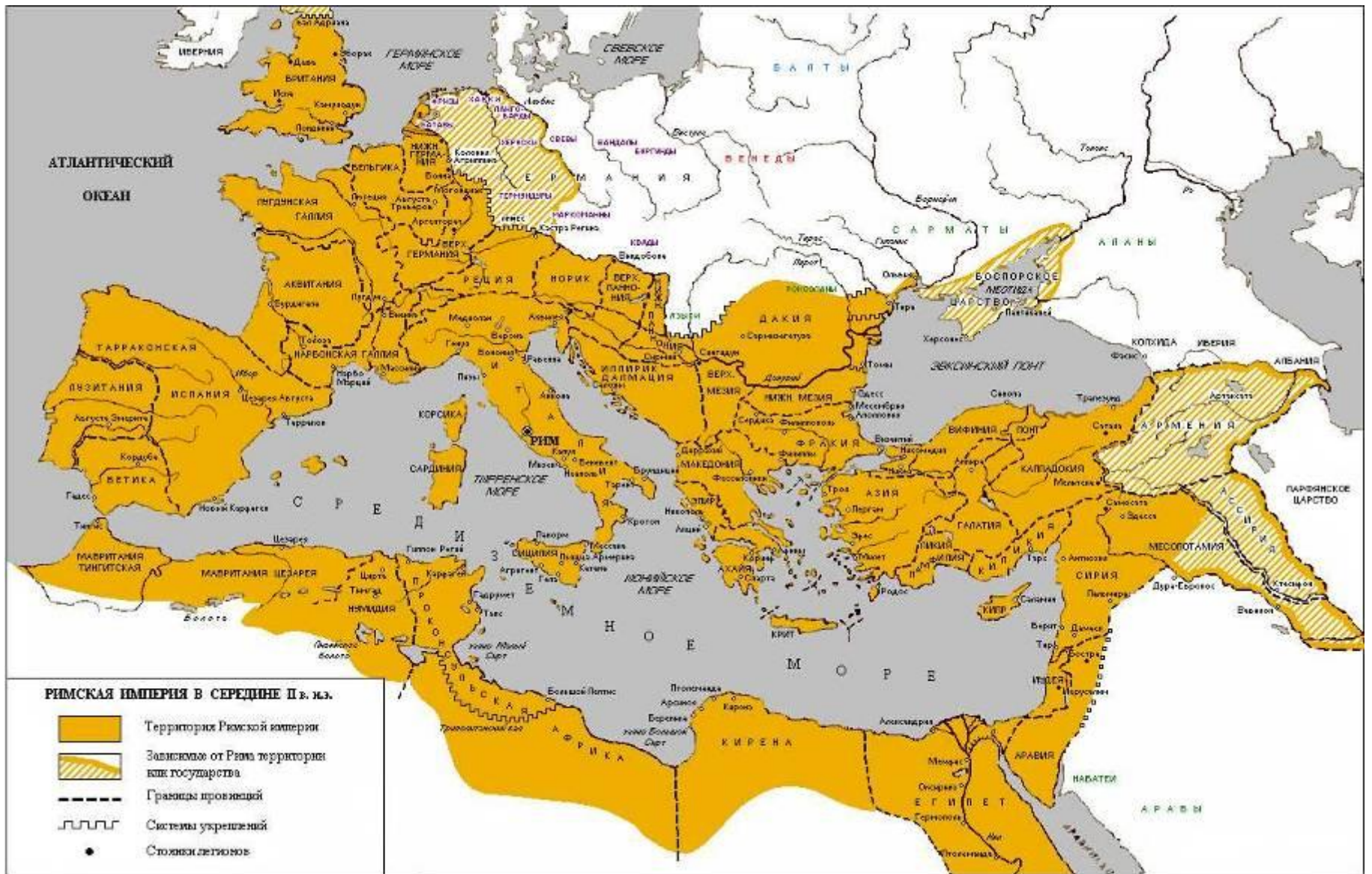




## ВТОРАЯ ПУНИЧЕСКАЯ ВОЙНА 218 - 201 гг. до н.э.







# ДОМАШНЕЕ ЗАДАНИЕ:

ПРОЧЕСТЬ ВВЕДЕНИЕ В УЧЕБНИКЕ

ПРИДУМАТЬ ПО 5 ПРИМЕРОВ  
ВЕЩЕСТВЕННЫХ, ПИСЬМЕННЫХ И  
УСТНЫХ ИСТОЧНИКОВ

ПРИБРЕСТИ АТЛАС ИСТОРИИ  
ДРЕВНЕГО МИРА