

Урок по истории в 5 классе

МИКЕНЫ И ТРОЯ

Учитель истории высшей
категории МОУ «ЛСОШ № 2»

**Зверева Светлана
Владимировна**



Задание № 1.

Какими морями омывается Греция?

- А. Средиземным и Красным;
- Б. Ионическим и Эгейским;
- В. Чёрным и Средиземным.



Задание 2.

Назовите самый большой остров,
бывший частью Греции.

- А. Кипр;
- Б. Крит;
- В. Фера.



Задание 3

Как имя героя, который победил
Минотавра?

А. Персей;

Б. Тесей;

В. Минос.



Задание № 4.

Как звали девушку, которая помогла
выйти из лабиринта?

А. Артемида;

Б. Ариадна;

В. Андромеда.



Задание № 5.

Кто создал лабиринт для
Минотавра?

- А. Дедал;
- Б. Персей;
- В. Икар.



Задание № 6.

На каком острове в 15 веке до н.э. произошло землетрясение, которое привело к гибели Критское царство?

А. Фера;

Б. Кипр;

В. Родос.



ОТВЕТЫ.

1. Б.

2. Б.

3. В.

4. Б.

5. А.

6. А.

Как вы понимаете «нить Ариадны»?



Микены



Почему погиб Икар?



Микены и Троя






Город Микены.

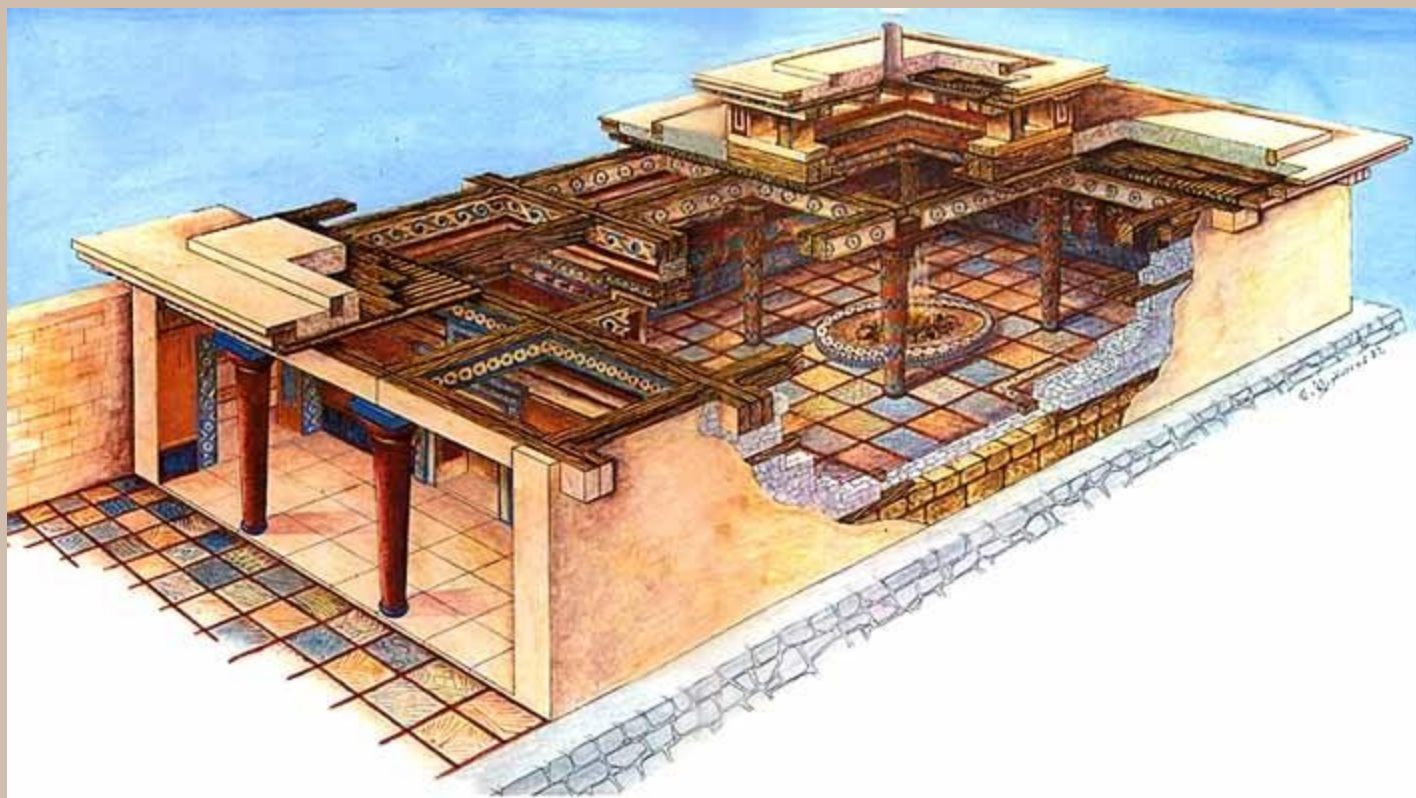
Расположен в Южной Греции
на скалистом холме.



Вход в крепость,
сложенную из каменных
глыб , проходил через
Львиные ворота.





Реконструкция царского дворца в Микенах.



Внутри крепости находился царский дворец, рядом с ним - дома знати.

Гробница Агамемнона.





Гробница царя Агамемнона





По
сохранившимся
золотым маскам
можно
представить
облик микенских
владык.

Маска царя Агамемнона






Кинжал из царской гробницы



Глиняные таблички



Сокровища микенских царей.





При раскопках дворца
найлены глиняные таблички
с надписями.

Эти надписи прочитаны. Во
многих надписях речь идет о
сборах на войну. Микенские
цари предпринимали
далекие походы за добычей.

При раскопках Микен археологи обнаружили акрополь, на котором находился царский дворец, дома знати, некоторые гробницы с золотыми масками погребенных, а также сотни глиняных табличек с надписями – списками рабынь, ремесленников-плотников, кожевников, горшечников, золотых дел мастеров. Кроме того, были найдены панцири и шлемы с рогами.

- Какие выводы о жизни жителей древних Микен можно сделать из этих данных?



Исторический документ.

Надписи из архива Пилосского дворца

а) Списки рабынь и их детей.

Молольщиц (женщин) 7, девочек 10, мальчиков 5.

Чинильщиц (женщин) 12, девочек 16, мальчиков 8.

Прядильщиц (женщин) 37, девочек 26, мальчиков 4

Банщиц (женщин) 38, девочек...

Подсобных работниц (женщин) 4...

Служанок (женщин) 32, девочек 26...

Швей (женщин) 38, девочек 20...

б) Списки сыновей работниц.

В Левитре (название местности).

Сыновей чистильщиц (мужчин) 2, мальчиков 1.

В Пилосе

Сыновей швей (мужчин) 2.

Сыновей банщиц (мужчин) 22, мальчиков 11.

В Евдевере (название местности)


Сыновей белошвеек (мужчин) 4.




-Почему в списках указаны только женщины - рабыни и их дети?

-О чем свидетельствует отдельный список сыновей работниц?










Афина



Гера



Афродита





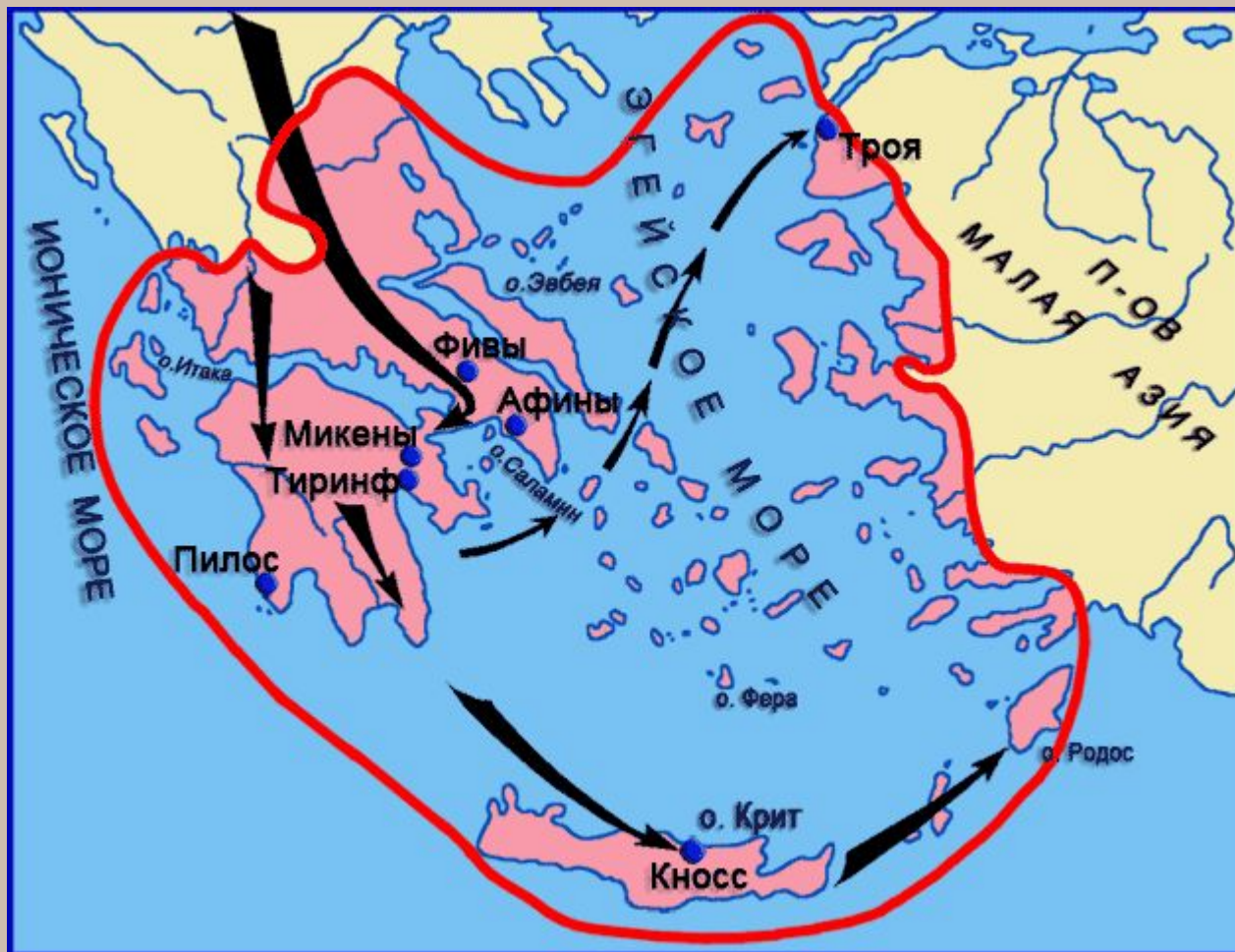
Суд Париса





Выступление войска из древних Микен

Около 1200 г. до н.э.- Троянская война.



Троянская война.



Причины войны:
-стремление греков утвердиться на восточном побережье Эгейского моря.

Около 1200 г. до н.э.- Троянская война.

Карточка № 1

Карточка № 2

Карточка № 3

Карточка № 4

Карточка № 5

Карточка № 6



Домашнее задание

§ 25, выписать, что обозначает
выражение «яблоко раздора»
(воспользуйтесь словарём)

подготовить сообщение о Гомере;
Прочитать § 26. Рабочая тетрадь
№ 3, 4.

