

IV

V

VI

VII

VIII

IX

X

XI

XII

XIII

XIV

XV

XVI

МОНГОЛЬСКИЕ ЗАВОЕВАНИЯ



Образовательная система «Школа 2100».

Данилов Д.Д. и др. Всеобщая история. 6 класс. История Средних веков. § 11

Автор презентации: Казаринова Н.В. (учитель, г. Йошкар-Ола)

© ООО «Баласс», 2013

ОПРЕДЕЛЯЕМ ПРОБЛЕМУ



Надпись на стеле, сооружённой в Китае последователями даосизма в 1219 году, когда их духовный лидер Чан-Чунь был вызван к Чингисхану, чтобы поведать ему тайну бессмертия. Слова Чингисхана:

«Небо устало от надменности и любви к роскоши, достигших в Китае своего предела. Я живу на Севере, где алчности возникнуть не может никогда... Моя одежда и пища - те же лохмотья и еда, что у пастухов и конюхов... Я обращаюсь с простым народом так же сочувственно, как с детьми, а со своими воинами - как с братьями... Принимая участие в битвах, я всегда нахожусь впереди. За семь лет я совершил великое дело, и отныне всё пространство подчинено единому закону».

● **Владельцем каких человеческих качеств предстаёт Чингисхан в этом источнике?**

ОПРЕДЕЛЯЕМ ПРОБЛЕМУ



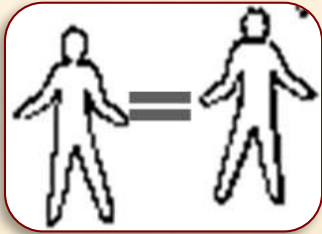
ВАША ФОРМУЛИРОВКА ПРОБЛЕМЫ
МОЖЕТ НЕ СОВПАДАТЬ С АВТОРСКОЙ.
ПОЖАЛУЙСТА, ВЫБЕРИТЕ В КЛАССЕ ТУ
ФОРМУЛИРОВКУ, КОТОРАЯ ВАМ
НАИБОЛЕЕ ИНТЕРЕСНА!





ВСПОМИНАЕМ ТО, ЧТО ЗНАЕМ

Необходимый уровень. При помощи цифр укажи признаки первобытности (1) и цивилизации (2).





ВСПОМИНАЕМ ТО, ЧТО ЗНАЕМ

Понятия	→	Определения
Религия		Крупное государство, объединившее территории с разным населением, хозяйством, различными традициями, но управляемое из одного центра, как правило, одним человеком
		Своей верой и обычаями, которые соблюдаются
Империя		Вера людей в сверхъестественные силы, способные творить чудеса, а также вера в наличие у человека души, продолжающей существование после смерти тела
Племя		Группа людей, возводящих своё происхождение к общему предку
Род		Организация управления обществом, людьми, которые проживают на какой-то определённой территории

Необходимый уровень. С помощью стрелок соедини понятия с их определениями.



ВСПОМИНАЕМ ТО, ЧТО ЗНАЕМ

Необходимый уровень. Вспомни особенности климата, растительного и животного мира степей.





ОТКРЫВАЕМ НОВЫЕ ЗНАНИЯ

1. Великий хан монгольских племён

2. Покорители земли «от моря до моря»

3. «Нельзя управлять Поднебесной сидя на коне»





ВЕЛИКИЙ ХАН МОНГОЛЬСКИХ ПЛЕМЁН

Необходимый уровень. На ленте времени подпиши даты: провозглашение правителем монголов Чингисхана (1); взятие Иерусалима крестоносцами (2).

V	VI	VII	VIII	IX	X	XI	XII	XIII	XIV	XV

Повышенный уровень. Над лентой времени обозначь эпоху крестовых походов (с 1-го до 4-го), под лентой времени обозначь эпоху монгольских завоеваний.



ВЕЛИКИЙ ХАН МОНГОЛЬСКИХ ПЛЕМЁН

Повышенный уровень. Определи, на какой ступени развития стояли монгольские племена до XIII века. Подтверди фактами, укажи те признаки, которые появились при Чингисхане.



ПЕРВОБЫТНОСТЬ

ЦИВИЛИЗАЦИЯ





ВЕЛИКИЙ ХАН МОНГОЛЬСКИХ ПЛЕМЁН

Он отличался высоким крепким телом и «кошачьими глазами» с огненным взглядом.

Однажды воины одного из племён похитили Тэмуджина, шею и руки втиснули в деревянную колодку. Улучив момент, мальчишка стукнул колодкой своего стражника и бежал, спрятавшись от преследователей в телеге с шерстью.



Тэмуджин - Чингисхан.





ПОКОРИТЕЛИ ЗЕМЛИ «ОТ МОРЯ ДО МОРЯ»

Необходимый уровень. Раздели покорённые монголами народы на группы по признаку «цивилизированные - первобытные».

Цивилизованные

Первобытные

Повышенный уровень. Раздели покорённые монголами народы на группы по признаку «разные цивилизации».



ПОКОРИТЕЛИ ЗЕМЛИ «ОТ МОРЯ ДО МОРЯ»

Повышенный уровень. В чём причины успешных завоеваний монголов?



1. _____
2. _____
3. _____
4. _____
- ... _____
- ... _____





«НЕЛЬЗЯ УПРАВЛЯТЬ ПОДНЕБЕСНОЙ СИДЯ НА КОНЕ»

● Почему распалась единая Монгольская империя?

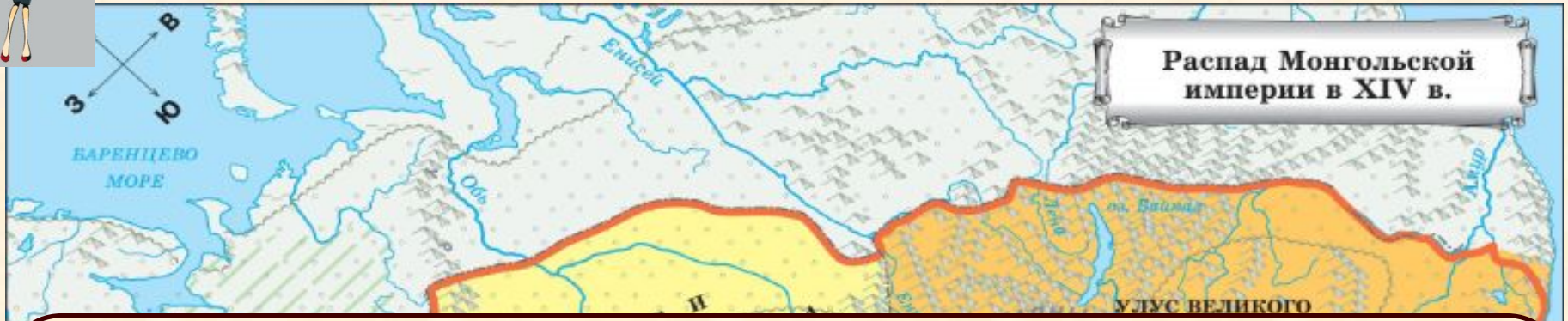


- _____
- _____
- _____
- _____
- _____
- _____





«НЕЛЬЗЯ УПРАВЛЯТЬ ПОДНЕБЕСНОЙ СИДЯ НА КОНЕ»



- На какие государства распалась Монгольская империя?
- пределах каких цивилизаций оказались разные части Монгольской империи?





ОТКРЫВАЕМ НОВЫЕ ЗНАНИЯ

**МОНГОЛЬСКАЯ ДЕРЖАВА,
ПОКОРИВШАЯ МНОГИЕ ОБЛАСТИ
СРЕДНЕВЕКОВЫХ ЦИВИЛИЗАЦИЙ,
РАСПАЛАСЬ К КОНЦУ XIV ВЕКА.**

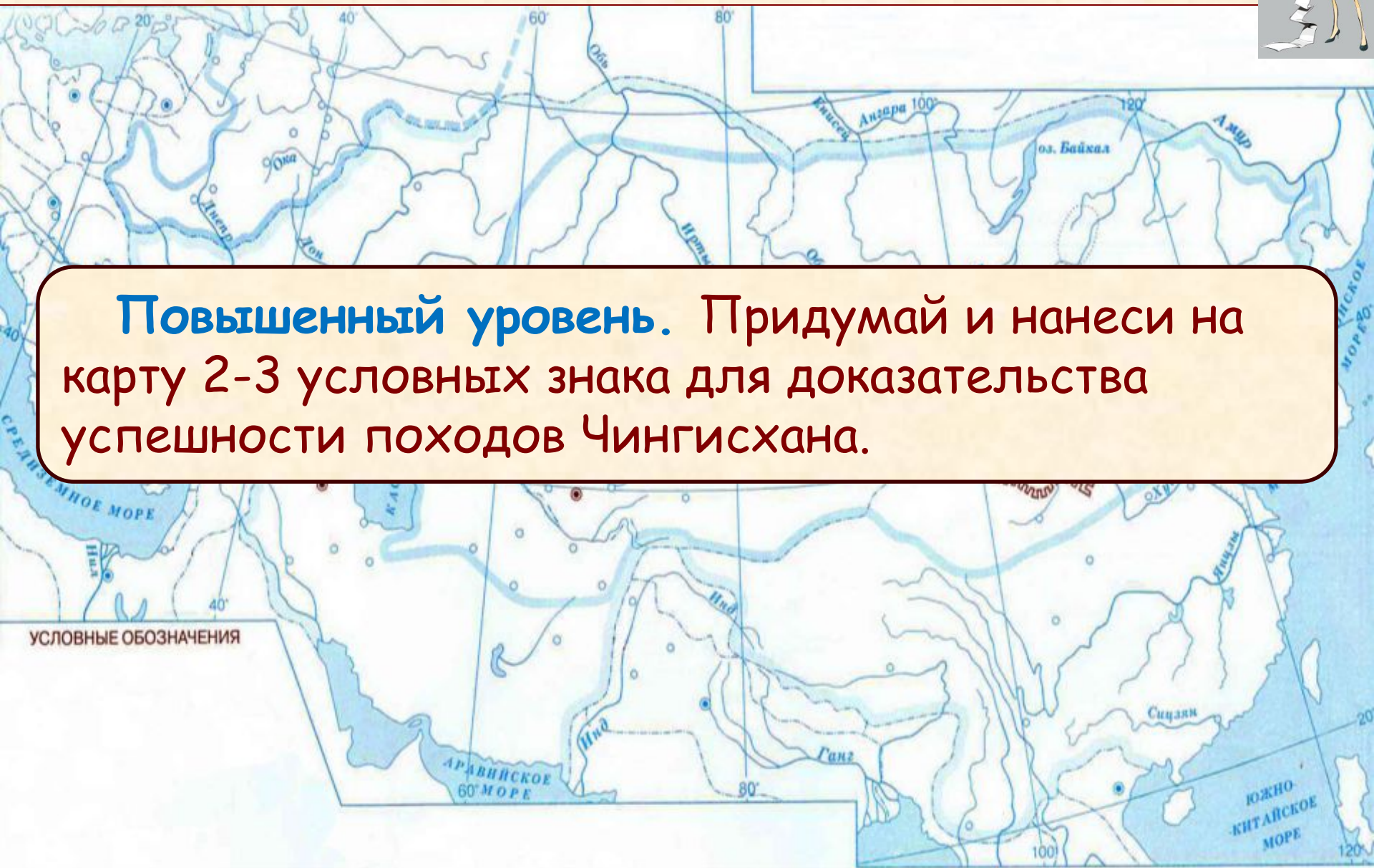


ПРИМЕНЯЕМ НОВЫЕ ЗНАНИЯ

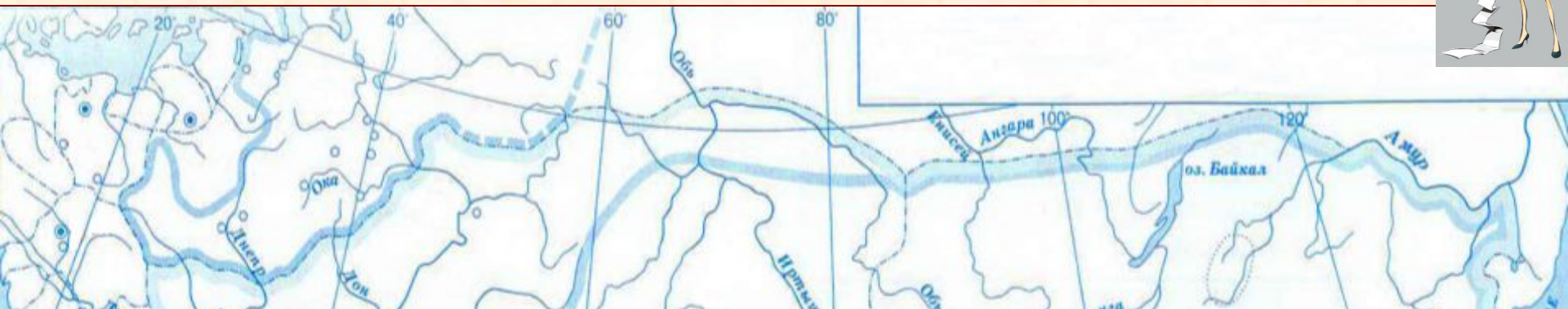


Повышенный уровень. Придумай и нанеси на карту 2-3 условных знака для доказательства успешности походов Чингисхана.

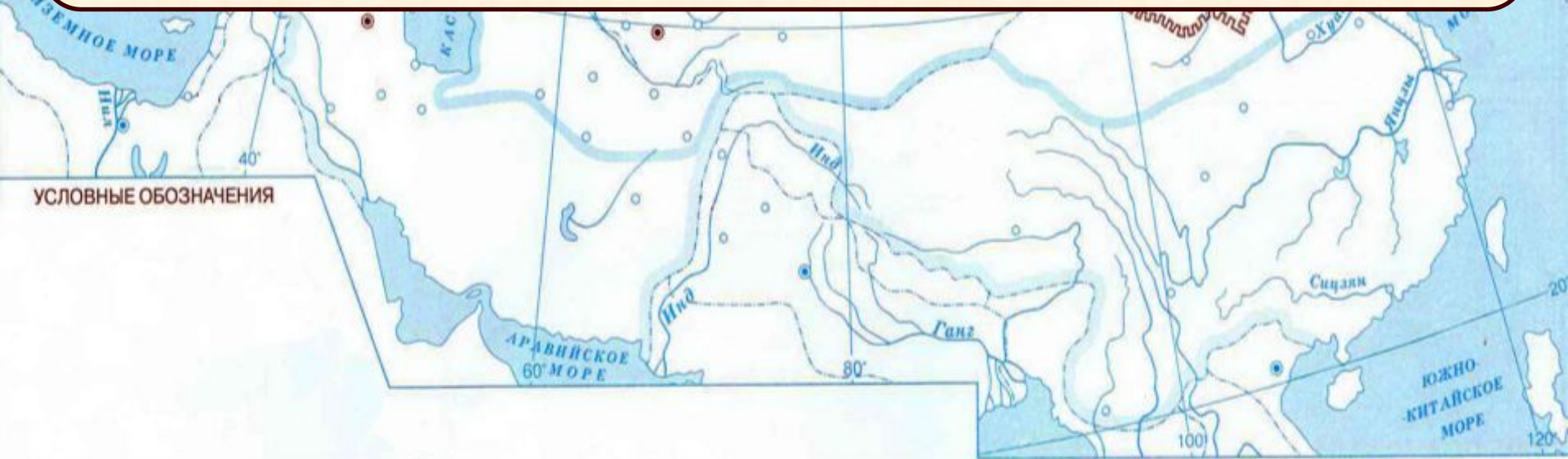
УСЛОВНЫЕ ОБОЗНАЧЕНИЯ



ПРИМЕНЯЕМ НОВЫЕ ЗНАНИЯ



Повышенный уровень. Нанеси на карту условные знаки, показывающие, что монгольские завоевания затронули все цивилизации Старого Света.



УСЛОВНЫЕ ОБОЗНАЧЕНИЯ