

Урок на тему:
«Основание греческих
КОЛОНИЙ»

автор:

учитель истории и обществознания

МОУ-СОШ №33 г. Тулы

Яворовская Анна Эдуардовна



Греция VIII-VI вв.

Подготовь развернутый ответ на вопрос:
«Почему благодаря реформам Солона в
Афинах стала устанавливаться
демократия?»

Для этого вспомни:

1. Кем был Солон?
2. Как он поступил с должниками?
3. Как изменились права демоса?
4. Что такое Народное собрание?
5. Что обозначает понятие «демократия»?

Сделай вывод.

Дайте определения:

Демос –

Реформы –

Граждане –

Демократия –


А существует ли сегодня в нашем
государстве демократия?

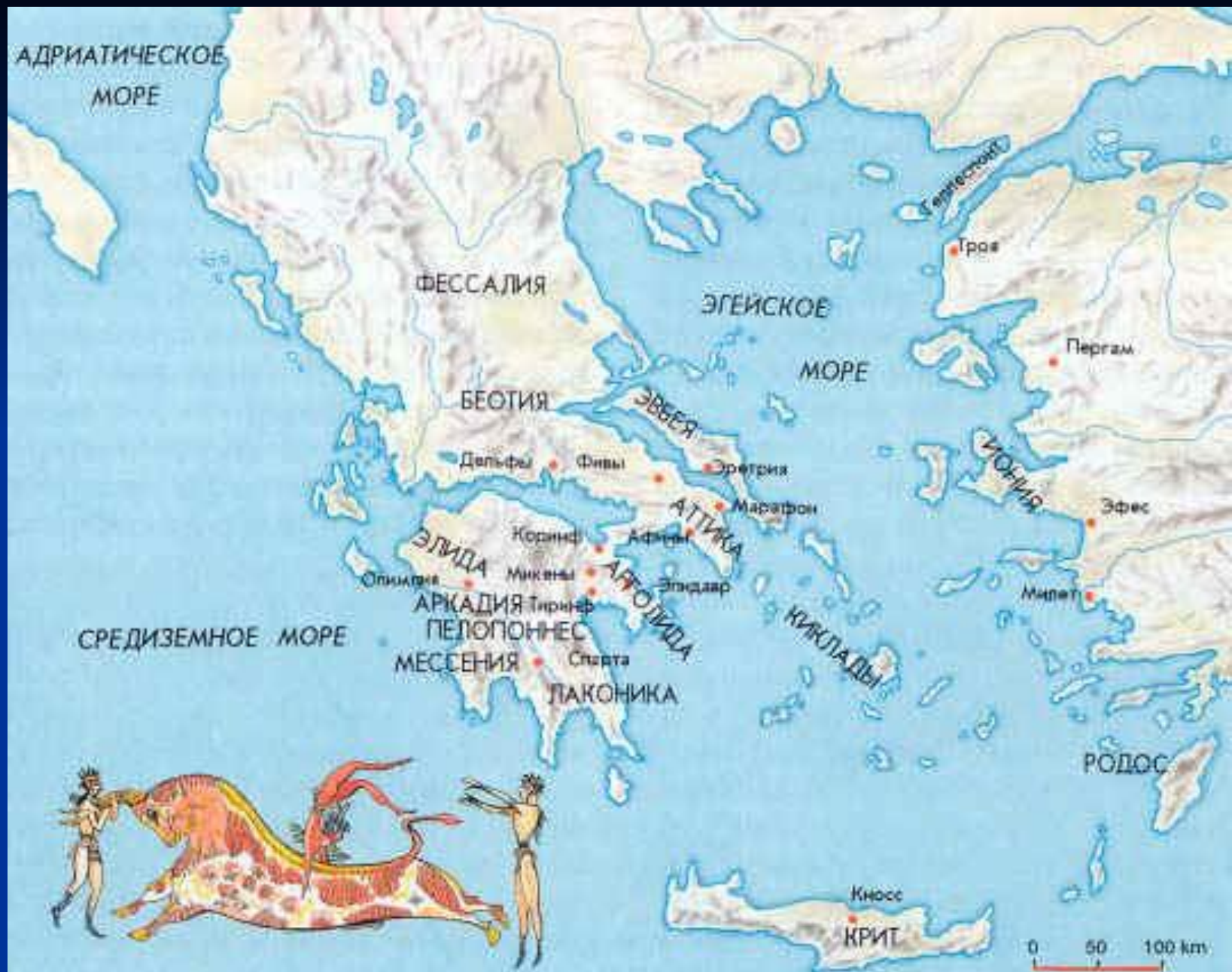
Определите, кому из деятелей афинского государства принадлежат следующие слова:

«Поверьте, мне было нелегко. Все, все были недовольны... Одни корили меня тем, что я забыл о своем происхождении. Другие, правда, ставили мне в заслугу, что я очистил их поля. Да, от камней, лишивших многих сна и покоя...И вообще, лучше бы мне писать стихи, чем пытаться мирить врагов.. Увы упреки были справедливы, но кто осмелится сказать, что я напрасно прожил жизнь ?»

Почему Солон был вынужден покинуть
свое государство на длительный срок?

Основание греческих колоний





Греция VIII-VI вв.

Основание греческих колоний

Итак, мы выяснили, что в VIII-VI вв. до н.э. в Греции существовали города-государства - полисы. Самыми большими из них были Афины и Спарта. Именно в это время тысячи греков навсегда уезжают из страны, чтобы навсегда поселиться в чужих краях.

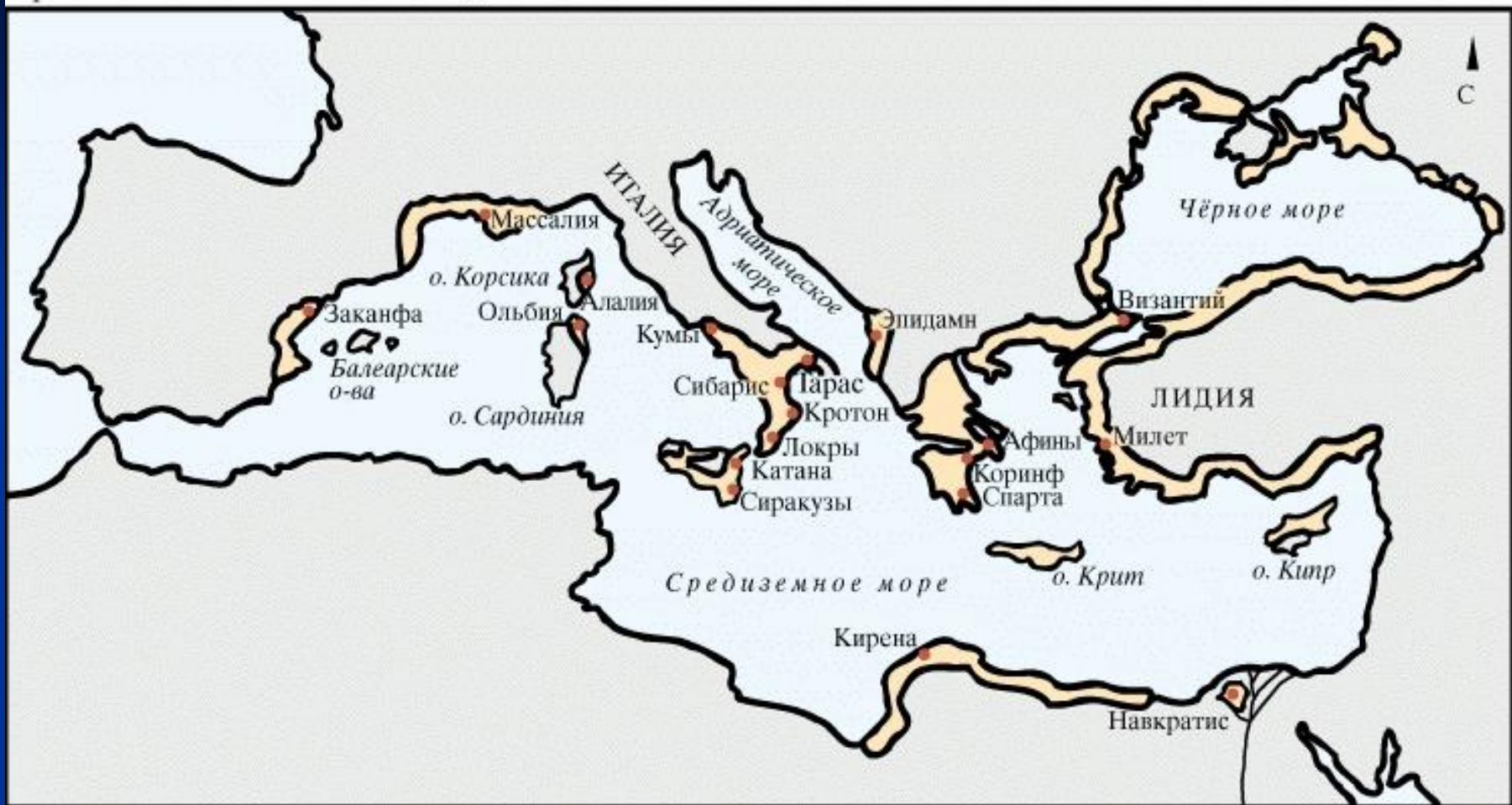
Почему древние греки бросают свой дом и переселяются в дальние неведомые страны?

п.1 параграф 32

Основные причины переселений:

- нехватка земель
- нехватка хлеба
- борьба между демосом и знатью

Греческие колонии около 550 до н.э.



берега, колонизированные греками

© Martin Greenwald Associates, Inc.

Греческие колонии VIII-VI вв. до н.э.



С. 149. Работа с картой.

1. Каким знаком обозначены колонии греков?
2. Что обозначают стрелочки на карте?
3. Назовите колонии греков на Черном море?
4. Назовите места колонизации на Средиземном море.
5. Какие из названных колоний находятся в Северной Африке?

Найдите в тексте параграфа:

- подтверждение тому, что и вдали от Эллады греки не забывали традиций;
- подтверждение их незыблемости на основании свидетельства ревностного отношения к греческим традициям соседских колониям народов.

Домашнее задание:

прочитать параграф 32 и подготовить

развернутый ответ на вопрос:

«Как выглядела греческая колония?»