

Картосхеми

Назви українських губерній у складі Російської імперії напередодні Першої світової війни у відповідності до цифр заштрихованих зон на картосхемі

- 1) Подільська;
- 2) Харківська;
- 3) Катеринославська



Які воєнні події Першої світової війни передували встановленню лінії фронту, позначеної на картосхемі?



**Галицька битва
(серпень–
вересень 1914 р.)**

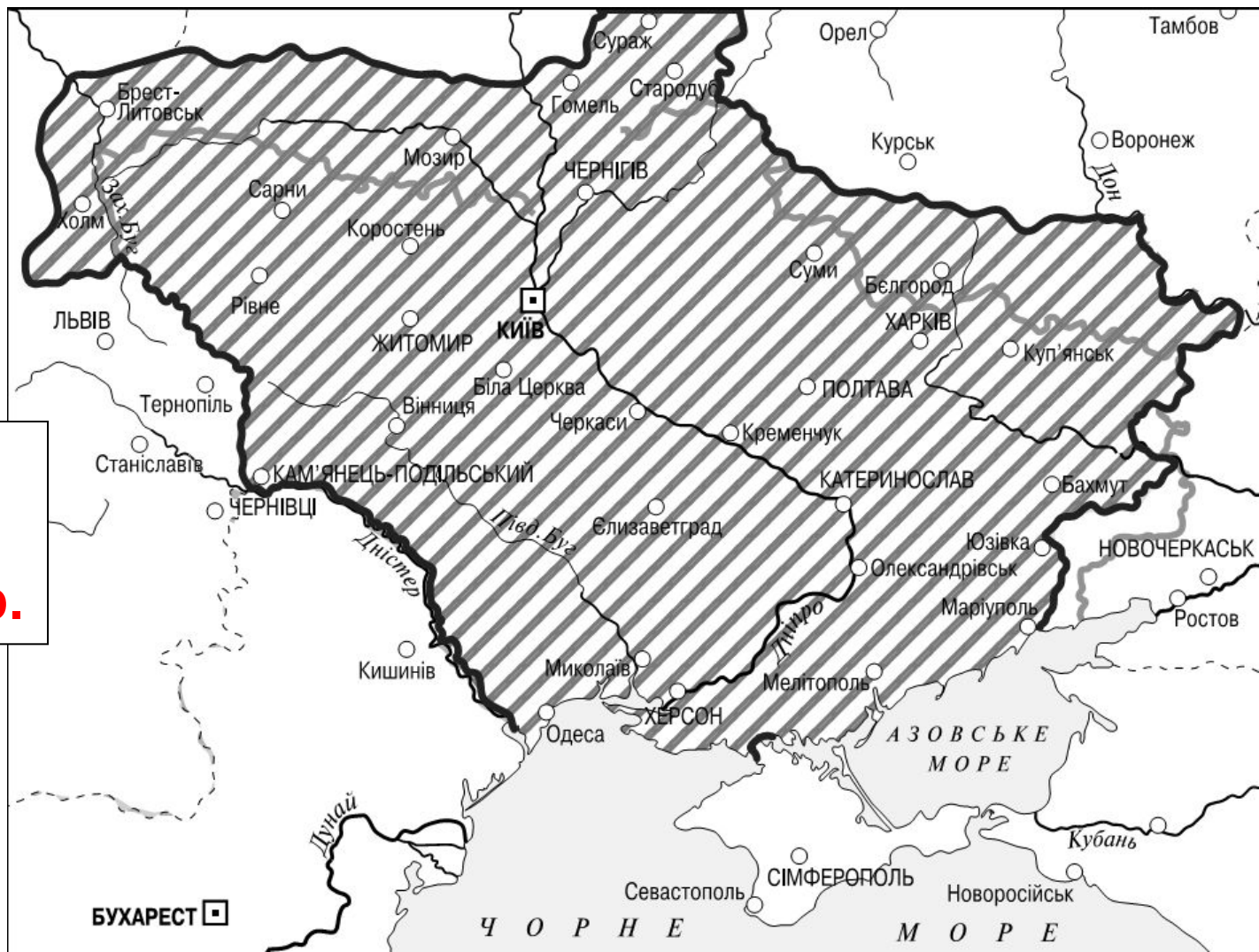
Які території заштриховано на картосхемі?



Автономна Україна в кордонах, окреслених Інструкцією Тимчасового уряду Генеральному Секретаріату від 4 (17) серпня 1917 р.

Територію якого державного утворення заштриховано на карто-схемі?

**Української
Держави
влітку 1918 р.**



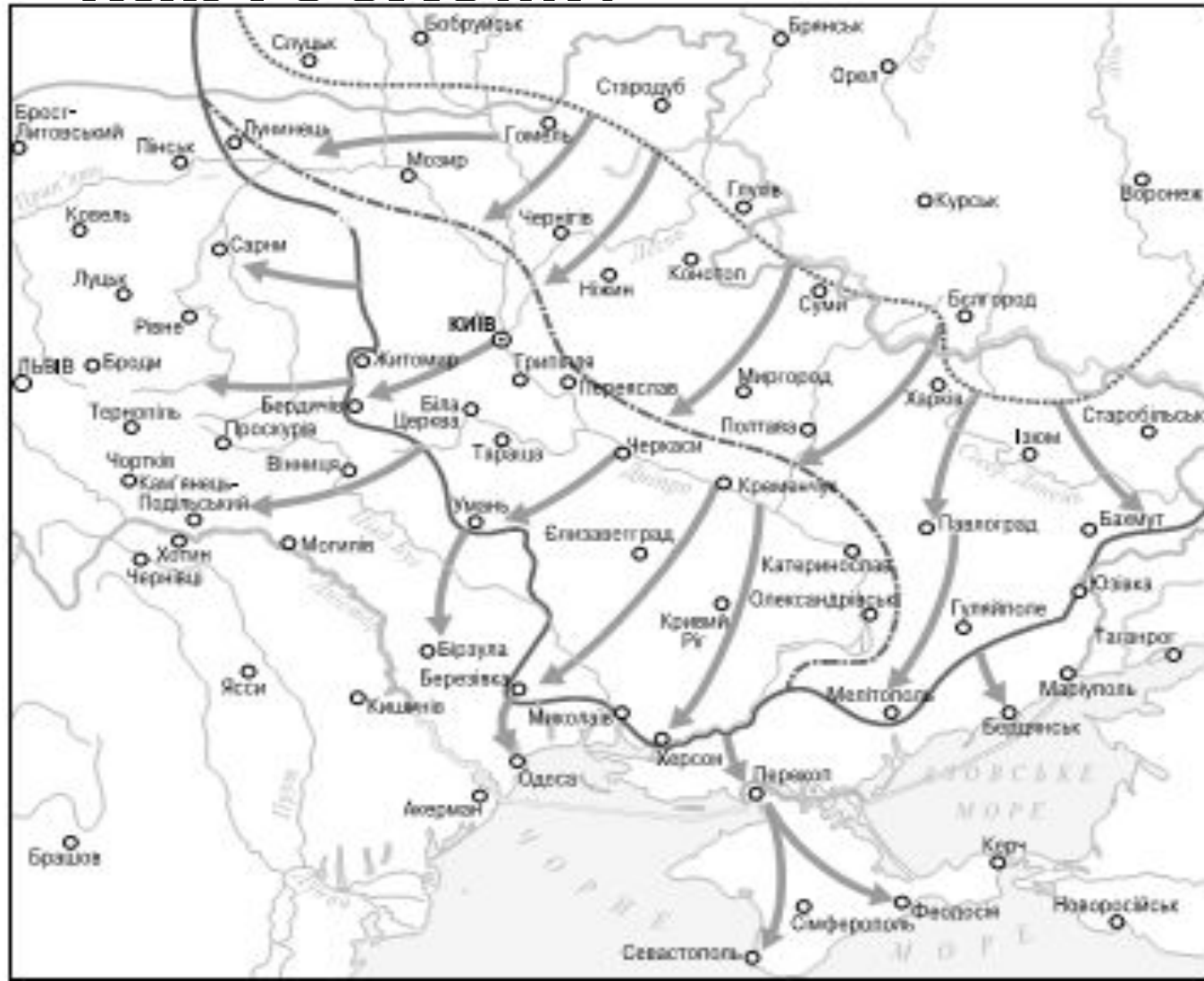
Які воєнні події 1919 р. позначено стрілками на картосхемі?

Наступ Української
галицької армії під час
українсько-польської
війни (Чортківська
офензива)



Які воєнні події 1919 р. позначено стрілками на картосхемі?

**Наступ
Червоної
армії в січні–
травні**

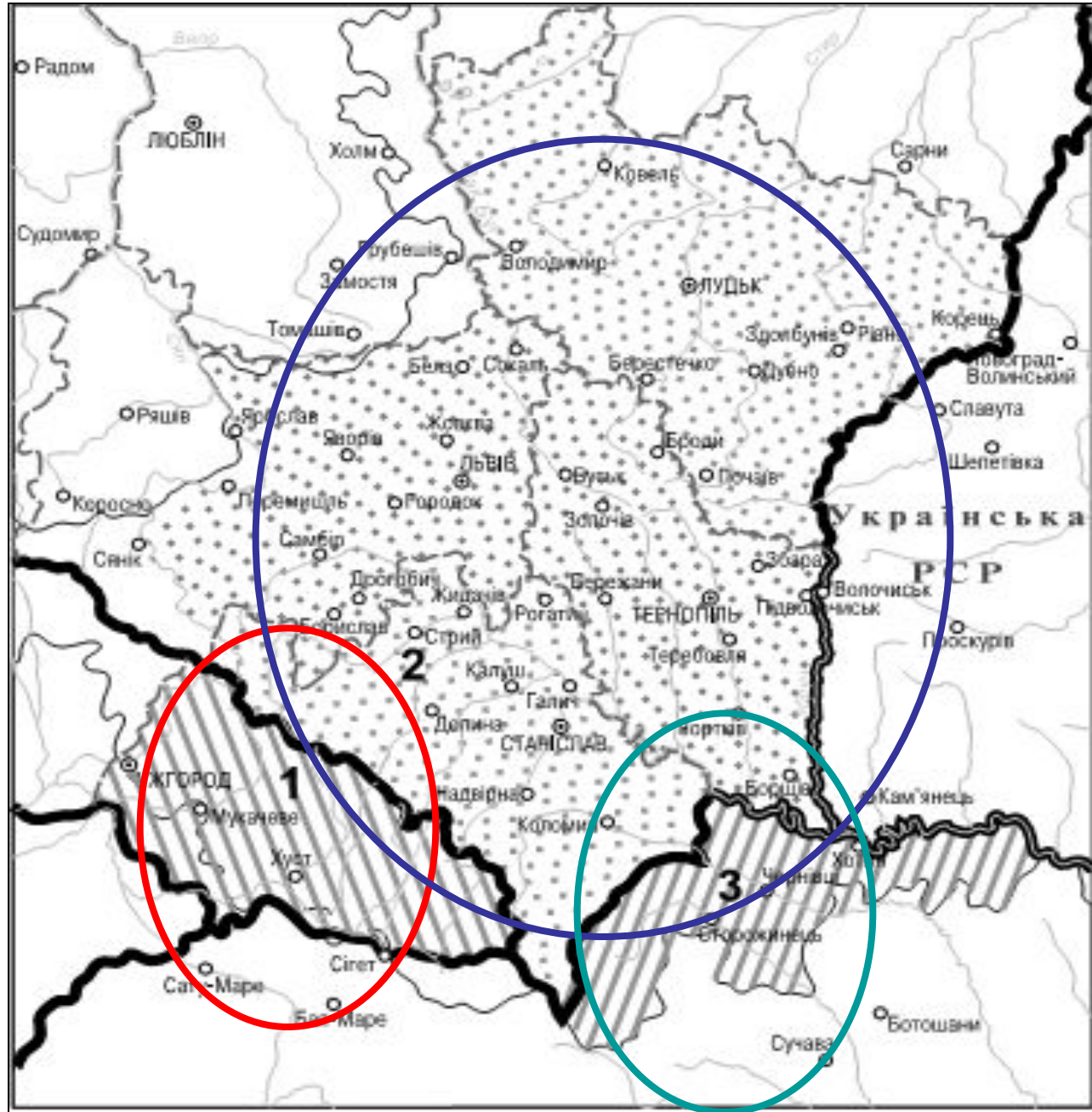


Назви держав, у складі яких перебували західноукраїнс ькі землі в міжвоєнний період:

1) Чехо-Словаччина;

2) Польща;

3) Румунія



Якою цифрою на карті позначено українські землі, де в міжвоєнний період відбулися події, про які йдеться в уривку з листа посла Франції?

«У ході перестрілок з чеськими елементами угорські війська проникли на територію рутенів, у той час, коли уряд Будапешта направив у Прагу ультиматум, вимагаючи негайного виводу чеських військ...»

4



Якими цифрами позначено області УРСР, утворені в 1940 р.?

4, 5

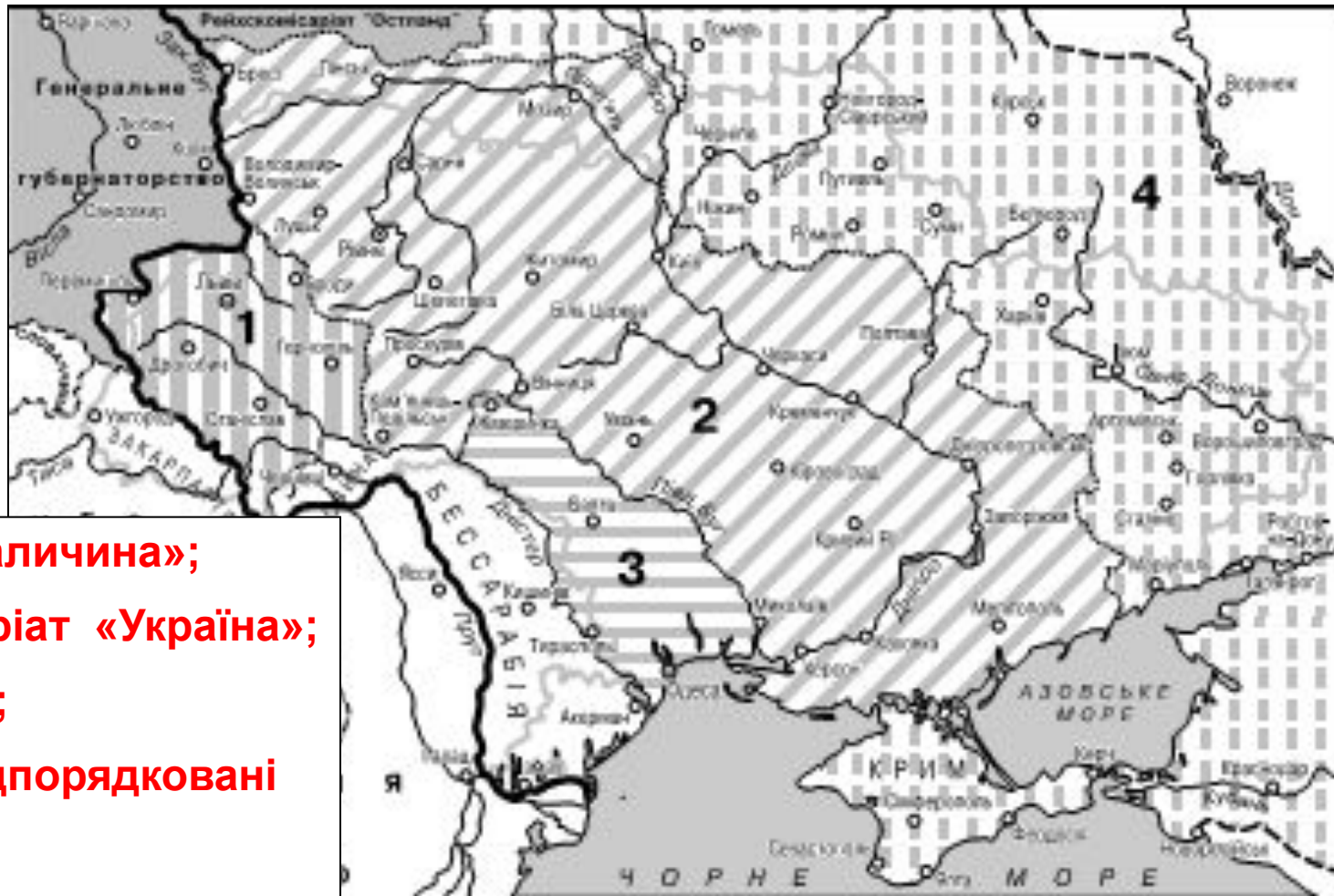


Коли просування Україною військ Німеччини і Румунії сягнуло позначеної лінії фронту?

**10 вересня
1941 р.**



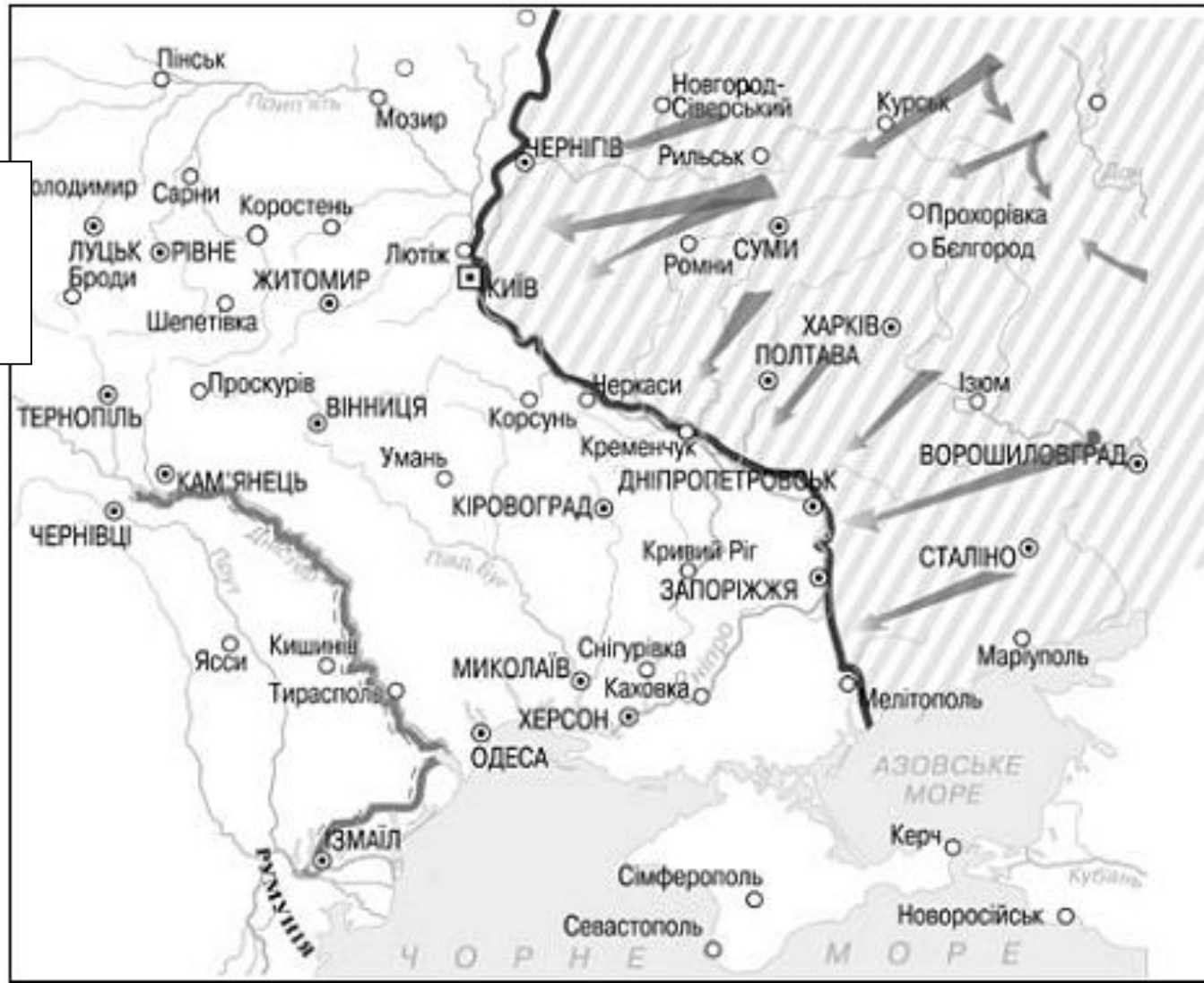
Назви зон нацистської окупації України часів Другої світової війни у відповідності до цифр заштрихованих на картосхемі



- 1) Дистрикт «Галичина»;
- 2) рейхскомісаріат «Україна»;
- 3) Трансністрія;
- 4) території, підпорядковані Вермахту

Коли відбулось звільнення від німецьких та румунських окупантів територій України, заштрихованих на картосхемі?

**30 вересня
1943 р.**



Коли відбулося звільнення від німецьких і румунських окупантів територій України, заштрихованих на картосхемі?



**У жовтні 1943 –
квітні 1944 р.**

Якою цифрою на картосхемі позначено область, що з'явилася на картах адміністративно-територіального устрою УРСР у 1954 р.?

4



Назви областей сучасної України у відповідності до цифр заштрихованих зон на картосхемі

- 1) Сумська;
- 2) Тернопільська;
- 3) Луганська;
- 4) Херсонська

