

Первобытное искусство, искусство Доколумбовой Америки и Месопотамии

Тест по МХК

1. Где находится пирамида Кукулькана?

- 1. Египет.
- 2. Мексика.
- 3. Франция.
- 4. Россия.
- 5. Испания.
- 6. Великобритания.

2. Какой народ изображал человека по канону?

- 1. Ацтеки.
- 2. Египтяне.
- 3. Майя.
- 4. Первобытные люди.
- 5. Греки.
- 6. Римляне.

3. Какому народу принадлежала столица Теночтитлан?

- 1. Ацтекам.
- 2. Египтянам.
- 3. Майя.
- 4. Первобытным людям.
- 5. Грекам.
- 6. Римлянам.

4. Напишите название археологической находки




5. Характерными памятниками ольмекской культуры являются:

1. Огромные каменные "головы";
2. Зиккураты;
3. Статуя Коатликуэ.

6. Одной из причин гибели этой цивилизации стало наличие больших запасов золота, которые привлекали европейцев:

1. инков;
2. ацтеков;
3. майя;
4. ольмеков.

7. Напишите название архитектурного сооружения



8. Напишите название архитектурного сооружения




9. Напишите название архитектурного сооружения




10. Напишите названия археологических находок

1.



2.



3.

11. Найдите соответствие между изображением и названием

1. иероглифическая письменность
2. клинопись

А.



В

.



12. Как назывались первые архитектурные сооружения, носившие культовый характер?

- 1. Сталактиты.
- 2. Сталагмиты.
- 3. Мегалиты.
- 4. Менгиры.
- 5. Дольмены.
- 6. Кромлехи.

13. Дайте определения:

- Кипу
- Клинопись
- Шеду
- Зиккурат
- Одорант

14. Напишите название архитектурного сооружения



15. Напишите название архитектурного сооружения



16. Напишите название архитектурного сооружения



17. Укажите название и автора:



18. Напишите название архитектурного сооружения

