

Правление Владимира Святославича. Принятие христианства.

**Д/З: § 5, читать, вопросы 1,2,4,
пересказ, Р/Т № 3,4.**



Вопросы к фильму:

- Как распределил Святослав сыновей?
- Что произошло после смерти Святослава?
- Как Владимир оказался у власти?

Владимир

The map shows the region of Eastern Europe, including parts of modern-day Russia, Ukraine, and Belarus. It features major rivers like the Volga, Dnieper, and Dniestr, and lakes like Lake Ladoga and Lake Onega. Red arrows indicate territorial movements or conquests, with labels such as 'Святослав 967', 'Святослав 965', and 'Святослав 957'. A dashed red line represents a boundary. Three sunburst symbols are placed on the map: one near Novgorod, one near Kiev, and one near the Dnieper river. The text 'Владимир' is written in large yellow letters with a red outline at the top. Below it, 'Новгород' is in a blue box. 'Олег' is in large yellow letters in the center, with 'Искоростень' in a blue box below it. 'Киев' is in a blue box, and 'Ярополк' is in large orange letters at the bottom right. The map also shows various tribal names like 'Полоцк', 'Смоленск', 'Муром', 'Мордва', and 'Хазарск'.

Новгород

Олег

Искоростень

Киев

Ярополк



Владимир (980-1015 гг.)





Р/Т страница 12, № 1.

Дата	Событие	Результат
?	Правление князя Владимира	?
981-982 годы	Походы на ?	?
981 год	Война с польским королем за города ?	?
984 год	Походы на ?	?
985 год	Поход на ?	?

Укрепление обороны Руси


Создание на южных границах 4 линий оборонительных рубежей

Оборонительные рубежи

крепости

валы

сигнальные
вышки




Богатырская застава






Опишите устройство укреплений:



Попытки религиозной реформы






Вопросы к фильму:

- К какой мысли пришел Владимир?
- Как была выбрана религия?

Крещение Владимира



A topographical map of Europe and the Mediterranean region. The map shows the Alps, the Italian Peninsula, the Balkans, and the Middle East. Large, bold, orange-to-yellow gradient text labels are overlaid on the map. The labels are: 'РУСЬ' (Rus) in the north, 'РИМ' (Rome) on the Italian Peninsula, 'ВИЗАНТИЯ' (Byzantium) in the Balkans, 'ИУДЕИ' (Jews) in the Middle East, and 'КАЛИФАТ' (Caliphate) in the south. A small black box with white text 'СХЕМА' (Scheme) is in the bottom right corner.

РУСЬ

ИУДЕИ

РИМ

ВИЗАНТИЯ

КАЛИФАТ

СХЕМА



Р/Т № 2, страница 13

Причины принятия
христианства

?????????

**Стремление сплотить
племена, укрепить
власть князя.**

Международные

?????????????



Восстание язычников



Русская православная церковь



**Киевский митрополит
(из Константинополя)**

Епископы

Духовенство

«белое»

**священники
в городе и
селе**

«черное»

**В
монастырях**





Р/Т страница 14, № 4.

Политическое значение	
Международное значение	
Нравственное значение	
Духовное значение	



Сделайте выводы:

