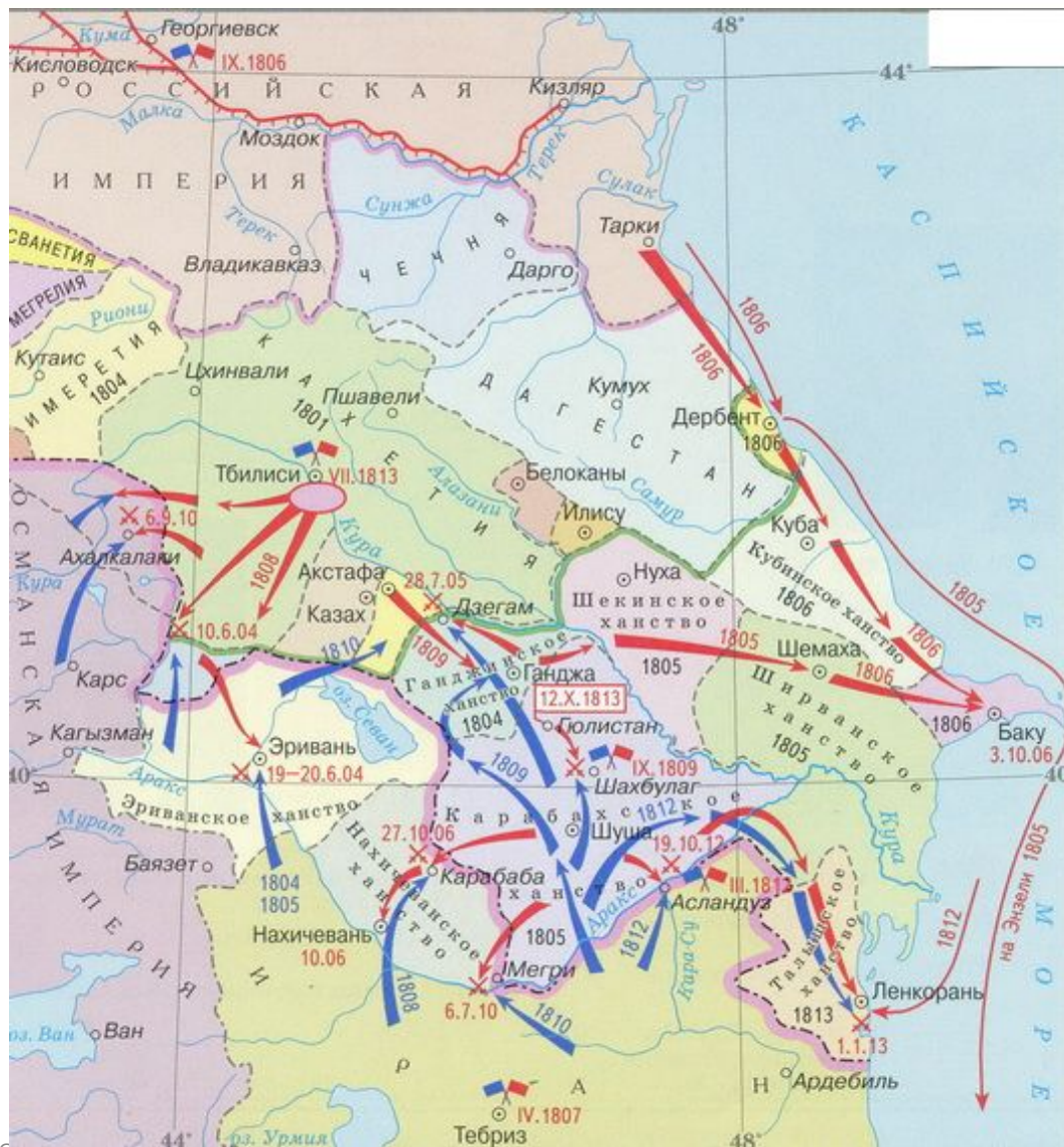




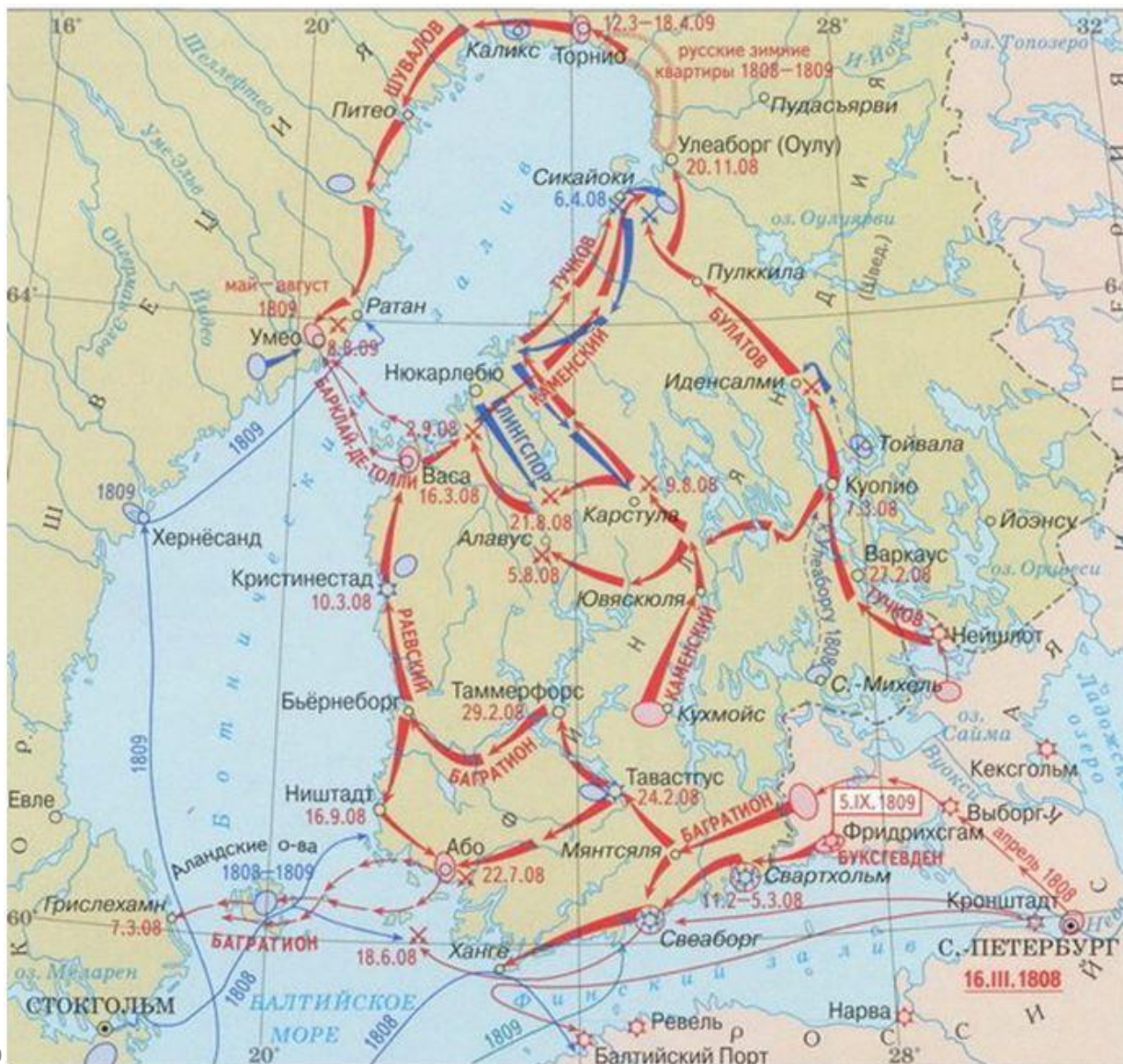
Работа с исторической картой: задания 13-16 (XIX в.)

1. Работа с легендой карты.
2. Работа с «маркерами»:
 - а) Топонимы:
 - государства,
 - отдельные земли/княжества/области,
 - города,
 - водные объекты (реки, озёра, моря).
 - б) Имена,
 - в) Даты,
 - г) Действующие силы и движения и т. п.

1804-1813 РУССКО-ИРАНСКАЯ



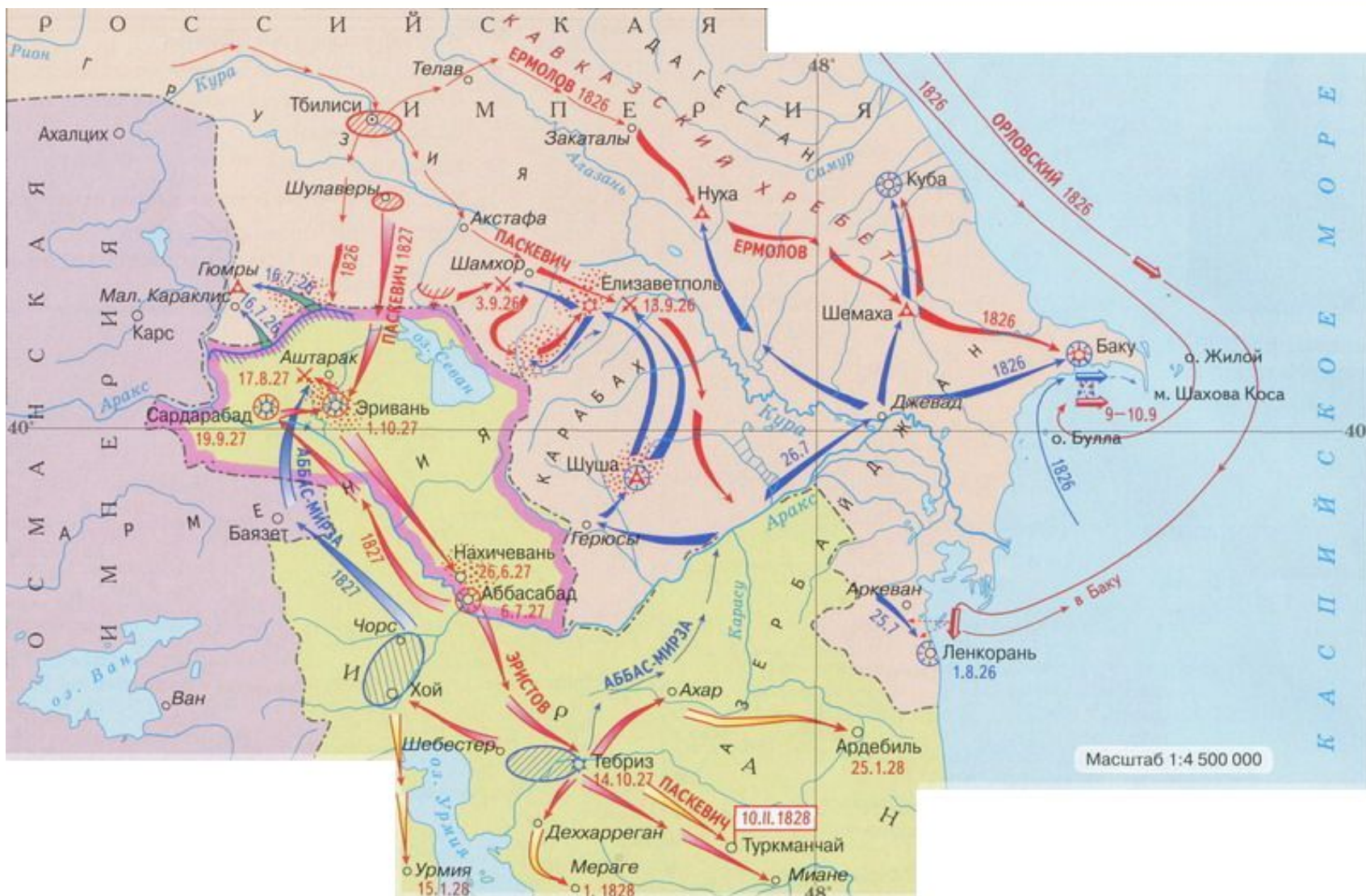
1808-1809 РУССКО-ШВЕДСКАЯ



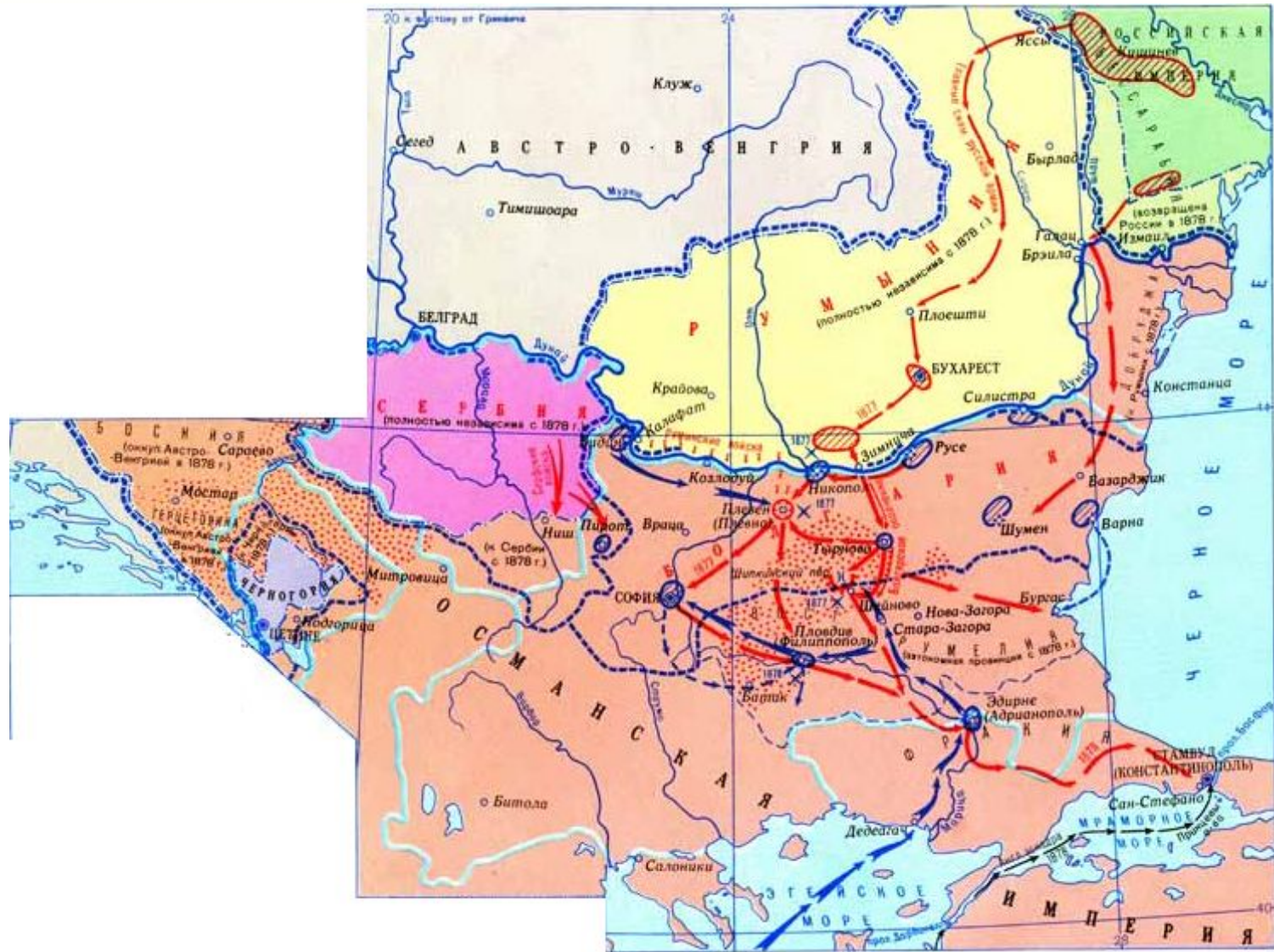
1813-1814 ЗАГРАНИЧНЫЕ ПОХОДЫ РУССКОЙ АРМИИ



1826-1828 РУССКО-ИРАНСКАЯ



1877-1878 РУССКО-ТУРЕЦКАЯ



Даты	Война	Полководцы	Причины	Мирный договор	Итоги
1804-1813	Русско-иранская	П. Д. Цицианов И. В. Гудович А. П. Торماسов П. С. Котляревский	Присоединение Восточной Грузии к России	Гюлистанский	Персия признала вхождение в состав Российской империи Восточной Грузии, Северного Азербайджана, Имеретии, Гурии, Менгрелии и Абхазии

Даты	Война	Полководцы	Причины	Мирный договор	Итоги
1805-1807	3-я и 4-я антинаполеоновские коалиции	М. И. Кутузов Л. Л. Беннигсен	Остановить дальнейшее распространение французской экспансии в Европе и защитить права Пруссии, Швейцарии, Голландии и Италии	Тильзитский	Образование Герцогства Варшавского под протекторатом Франции. Присоединение России к континентальной блокаде Англии

Даты	Война	Полководцы	Причины	Мирный договор	Итоги
1806-1812	Русско-турецкая	И. И. Михельсон А. А. Прозоровский П. И. Багратион Н. М. Каменский М. И. Кутузов И. В. Гудович	По настоянию французской дипломатии султан закрыл черноморские проливы для российских судов и сместил прорусское руководство Молдавии и Валахии	Бухарестский	Бессарабия отошла к России. Взамен Турции отошла часть земель в Молдавии и Валахии, но Турция вышла из союза с наполеоновской Францией

Даты	Война	Полководцы	Причины	Мирный договор	Итоги
1808-1809	Русско-шведская	А. А. Аракчеев Ф. Ф. Буксгевден П. И. Багратион Б. Кнорринг М. Б. Барклай-де-Толли	Политика Великих Европейских держав - Тильзитский мир, Англо-датская война	Фридрихсгамский	Финляндия отошла к России на правах Великого княжества Финляндского

Внешняя политика России в XIX в.

Даты	Война	Полководцы	Причины	Мирный договор	Итоги
1812	Отечественная	М. И. Кутузов П. И. Багратион М. Б. Барклай-де-Толли П. Х. Витгенштейн А. П. Тормасов П. В. Чичагов	Отказ России активно поддерживать континентальную блокаду, в которой Наполеон видел главное оружие против Великобритании. Политика Наполеона в отношении европейских государств, проводившаяся без учёта интересов России	Парижский трактат, Заключительный акт Венского конгресса	Франция потеряла все земли в Европе, которые она захватила. Поражение Наполеона. Переход к России основной части Герцогства Варшавского
1813-1814	Заграничные походы русской армии	М. И. Кутузов М. Б. Барклай-де-Толли П. Х. Витгенштейн			

Даты	Война	Полководцы	Причины	Мирный договор	Итоги
1826-1828	Русско-иранская	А. П. Ермолов И. Ф. Паскевич В. Г. Мадатов А. И. Красовский	Намерение Ирана вернуть земли, утраченные по Гюлистанскому договору	Туркманчайский	Российская империя включила в свой состав Эриванское и Нахичеванское ханства

Даты	Война	Полководцы	Причины	Мирный договор	Итоги
1828-1829	Русско-турецкая	П. Х. Витгенштейн И. Ф. Паскевич И. И. Дибич	Порта после Наваринского сражения (октябрь 1827 г.) закрыла пролив Босфор. Следствие борьбы между великими державами, вызванной греческой войной за независимость (1821—1830) от Османской империи	Адрианопольский	Турция признала присоединение к России Грузии и Восточной Армении

Даты	Война	Полководцы	Причины	Мирный договор	Итоги
1817-1864	Кавказская	А. П. Ермолов И. Ф. Паскевич М. С. Воронцов А. Барятинский Н. Евдокимов	Присоединение горных районов Северного Кавказа к России, противостояние с Северо-Кавказским имаматом		Вхождение в состав России Северо-Западного и Северо-Восточного Кавказа

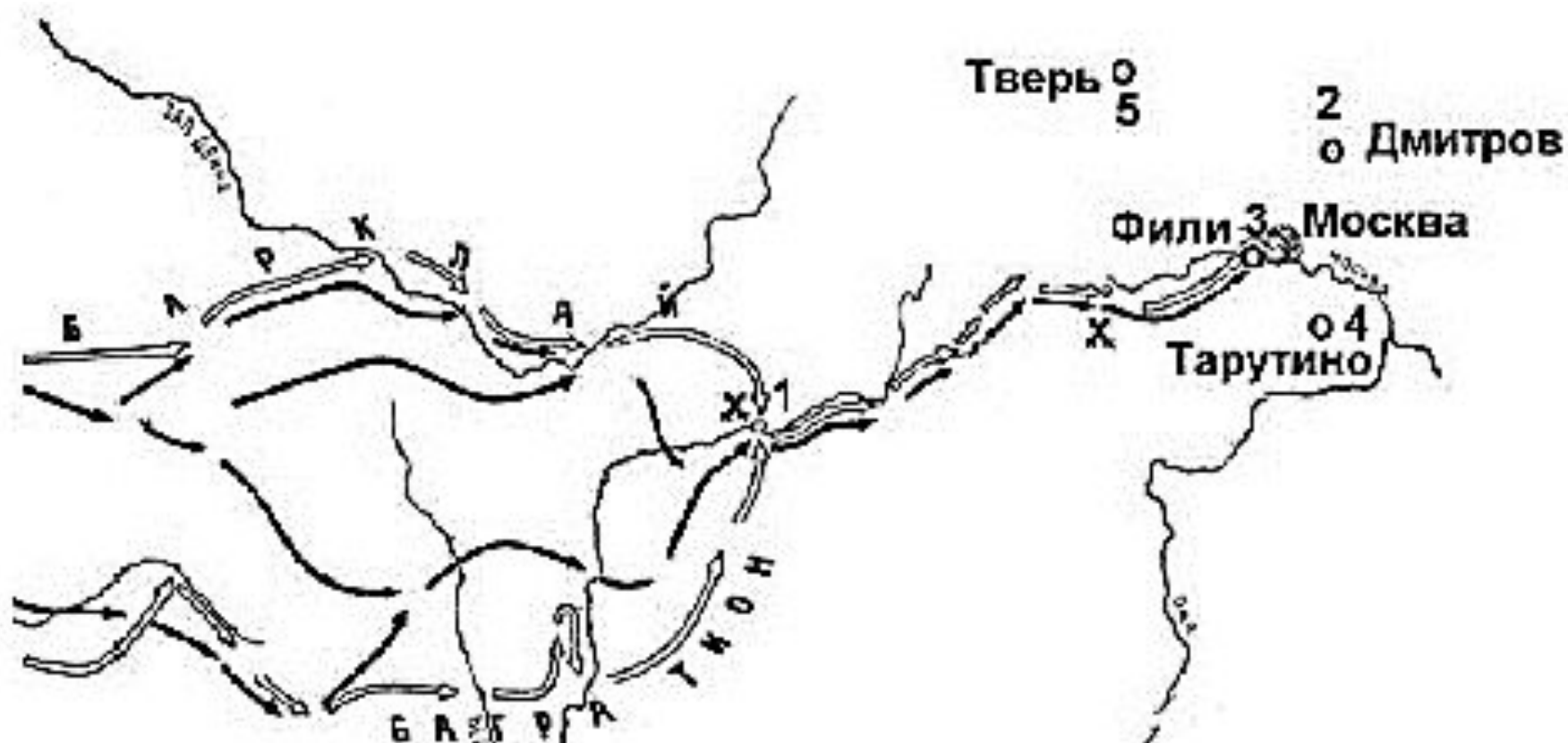
Внешняя политика России в XIX в.

Даты	Война	Полководцы	Причины	Мирный договор	Итоги
1853-1856	Крымская (Восточная)	И. Ф. Паскевич М. Д. Горчаков А. С. Меншиков В. А. Корнилов П. С. Нахимов В. И. Истомин Э. И. Тотлебен М. С. Воронцов	В ходе дипломатического конфликта с Францией по вопросу контроля над церковью Рождества Христова в Вифлееме Россия, с целью оказать давление на Турцию, оккупировала Молдавию и Валахию, находившиеся под протекторатом России по условиям Адрианопольского мирного договора	Парижский	«Нейтрализация» Черного моря, Россия потеряла право держать там военный флот и иметь крепости

Даты	Война	Полководцы	Причины	Мирный договор	Итоги
1877-1878	Русско-турецкая	Д. Милютин А. Непокойчицкий Э. И. Тотлебен М. Скобелев Ф. Радецкий Н. Святополк-Мирский И. Гурко М. Драгомиров М. Т. Лорис-Меликов	Подъём национального самосознания на Балканах	Сан-Стефанский, Берлинский трактат	Получение независимости Румынией, Сербией, Черногорией. Болгария разделена на две части: северная стала вассальным княжеством, южная осталась провинцией Турции

Задания 13-16 на работу с исторической картой

13. Напишите имя полководца, вторжение войск которого в Россию показано на схеме.



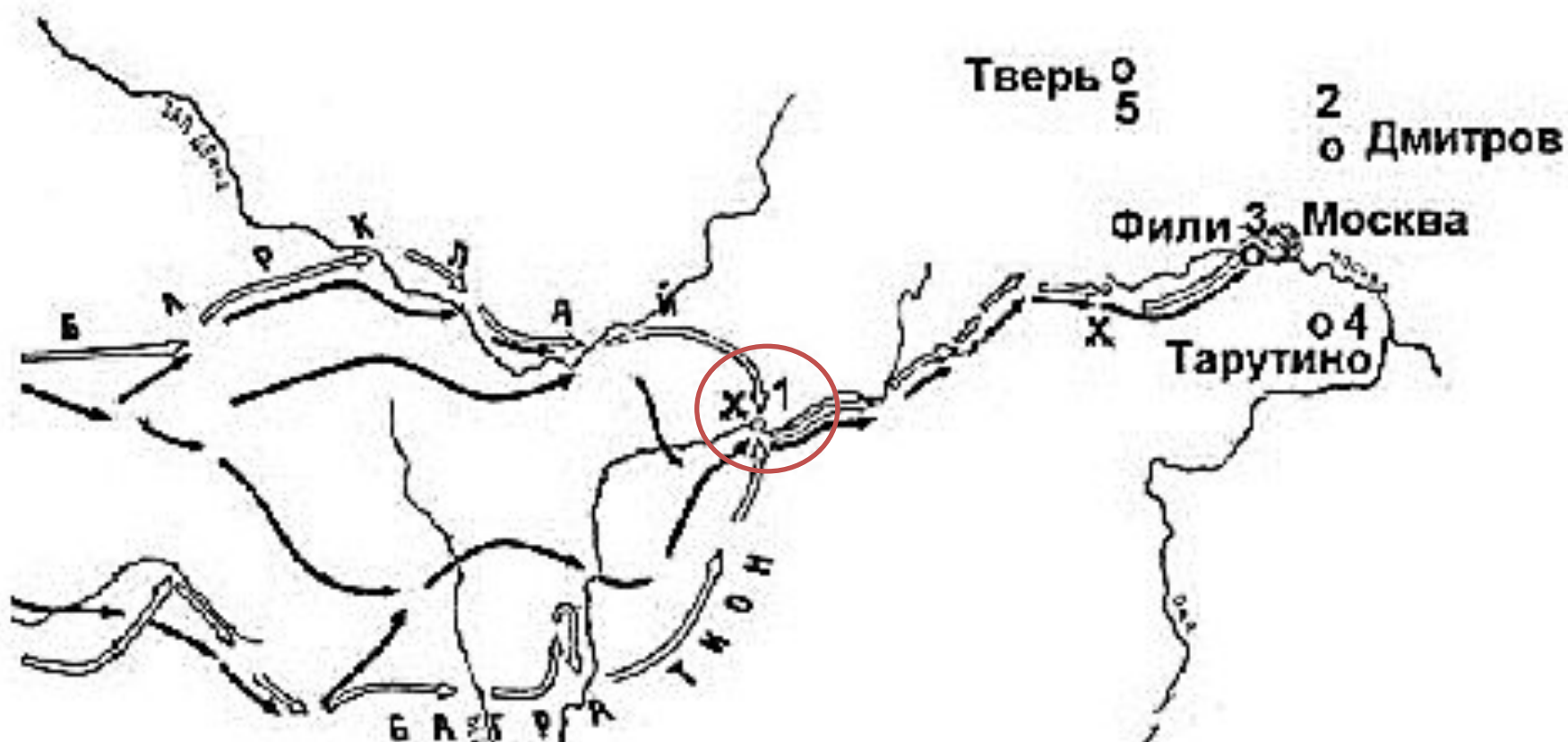
Задания 13-16 на работу с исторической картой

13. Напишите имя полководца, вторжение войск которого в Россию показано на схеме.



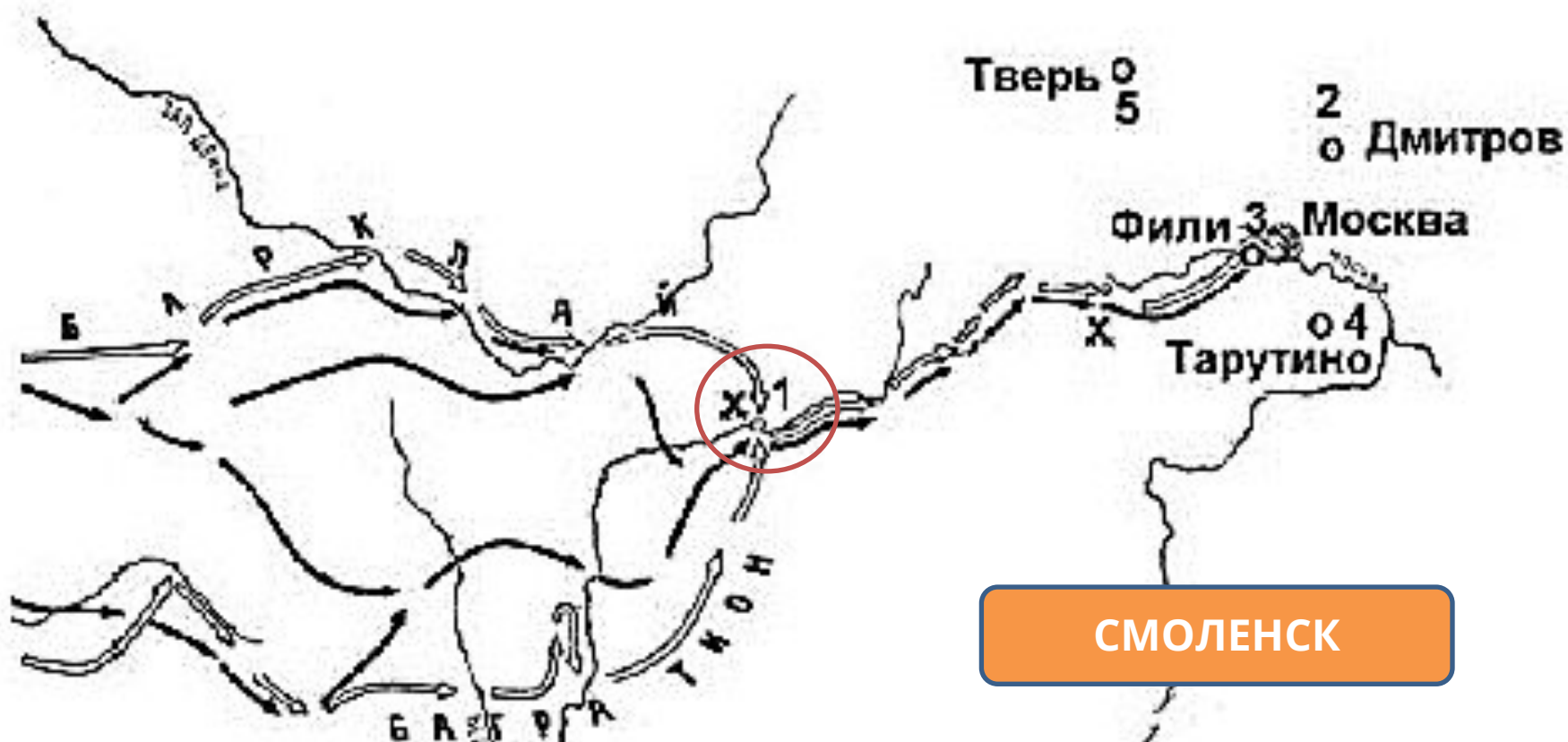
Задания 13-16 на работу с исторической картой

14. Напишите название города, обозначенного на схеме цифрой «1».



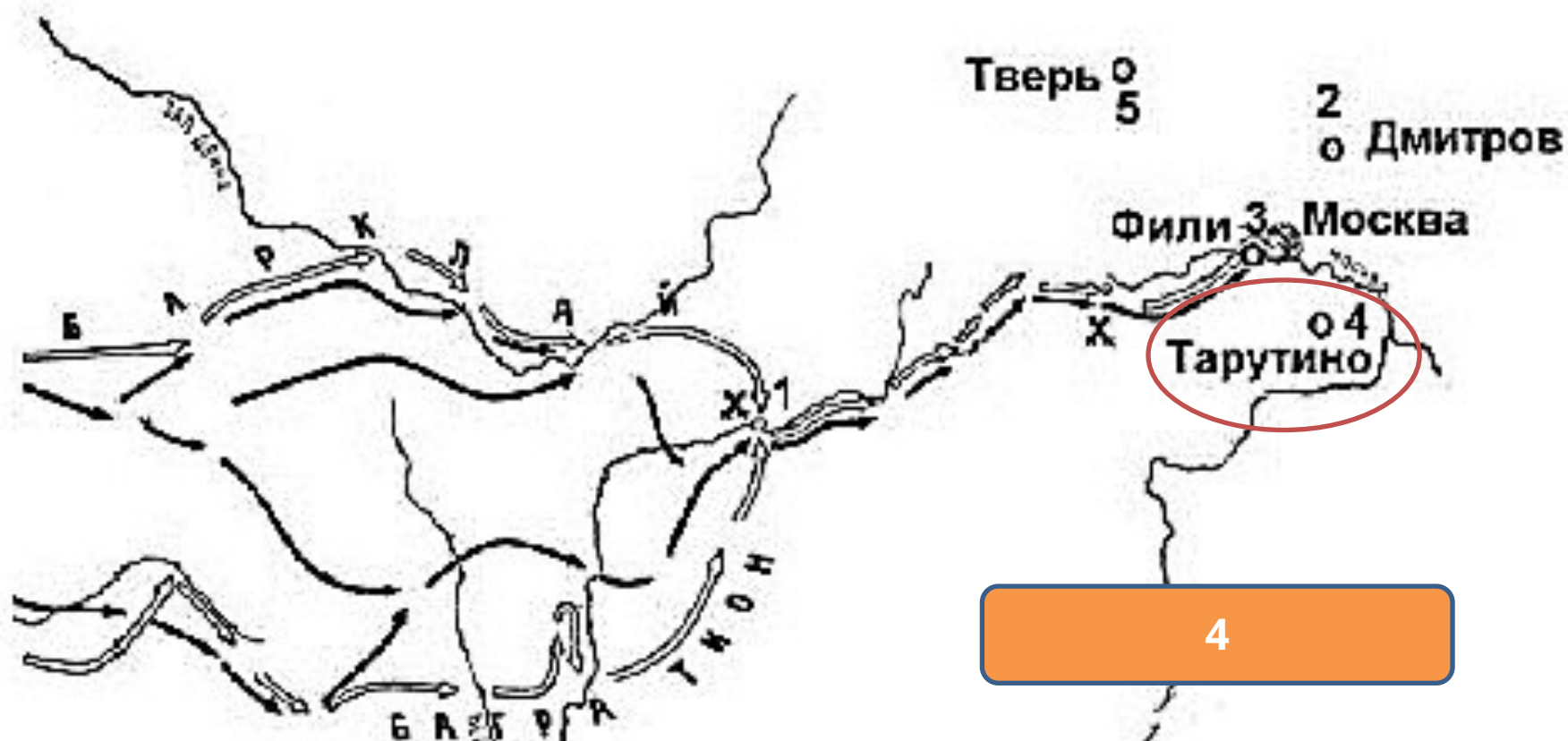
Задания 13-16 на работу с исторической картой

14. Напишите название города, обозначенного на схеме цифрой «1».



Задания 13-16 на работу с исторической картой

15. Напишите цифру, обозначающую населённый пункт, в котором русские войска встали лагерем после оставления Москвы



Задания 13-16 на работу с исторической картой

16. Какие суждения, относящиеся к событиям, обозначенным на схеме, являются верными? Выберите три суждения из шести предложенных. Запишите в таблицу цифры, под которыми они указаны.

1) С начала изоб... карте военных действий русские войска преследовал...
246



2) В ходе данно... войска возглавил М. И. Кутузов.



3) Самое кровопролитное сражение этой войны произошло под Вязьмой.



4) В ходе событий, указанных на схеме, в России развернулась народная война против неприятеля.



5) Указанные на схеме военные действия длились больше года.

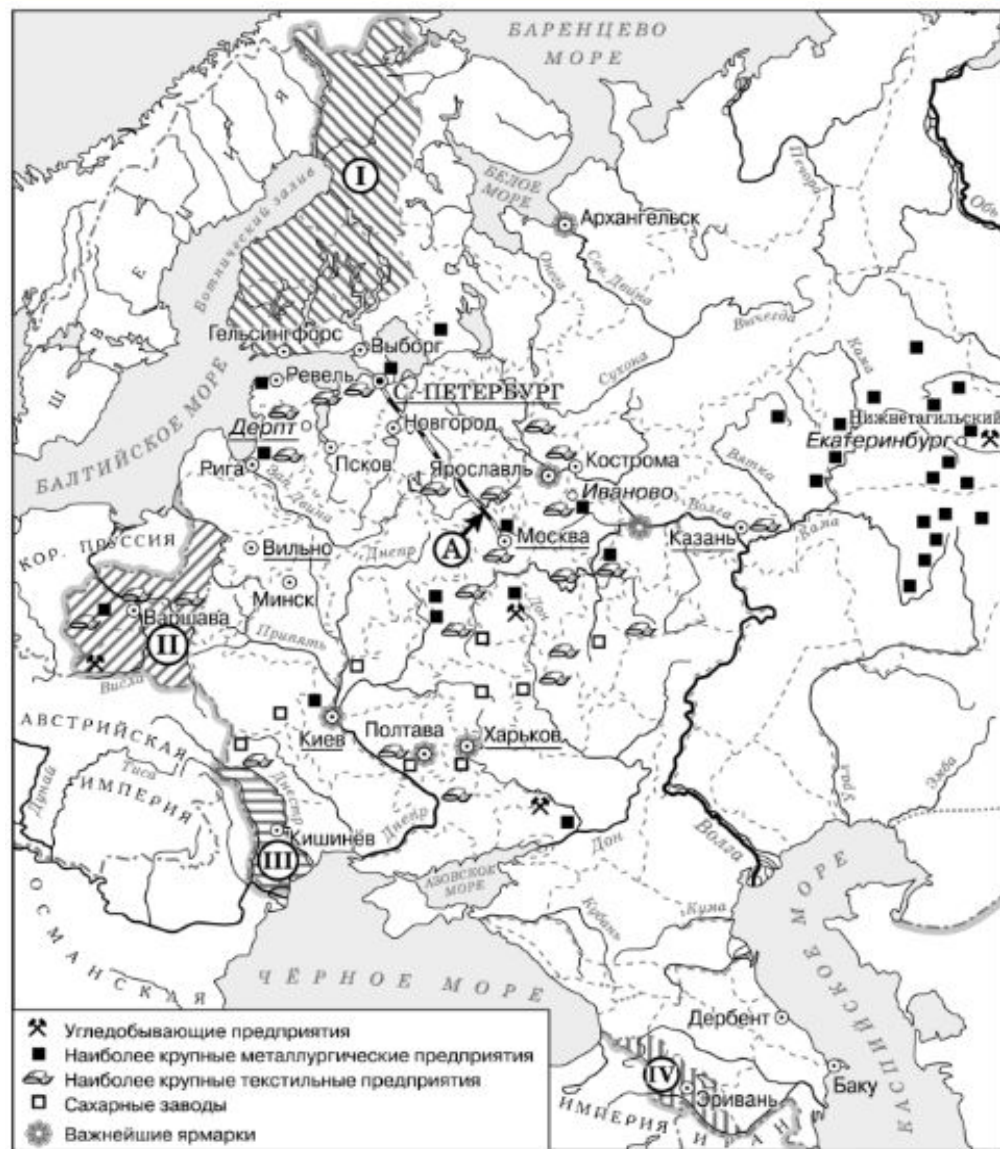


6. Вторгшаяся в Россию неприятельская армия получила в истории название «Великая армия».




Задания 13-16 на работу с исторической картой

13. Напишите название города, где состоялся конгресс, по решению которого в состав Российской империи вошла территория, обозначенная цифрой «II»



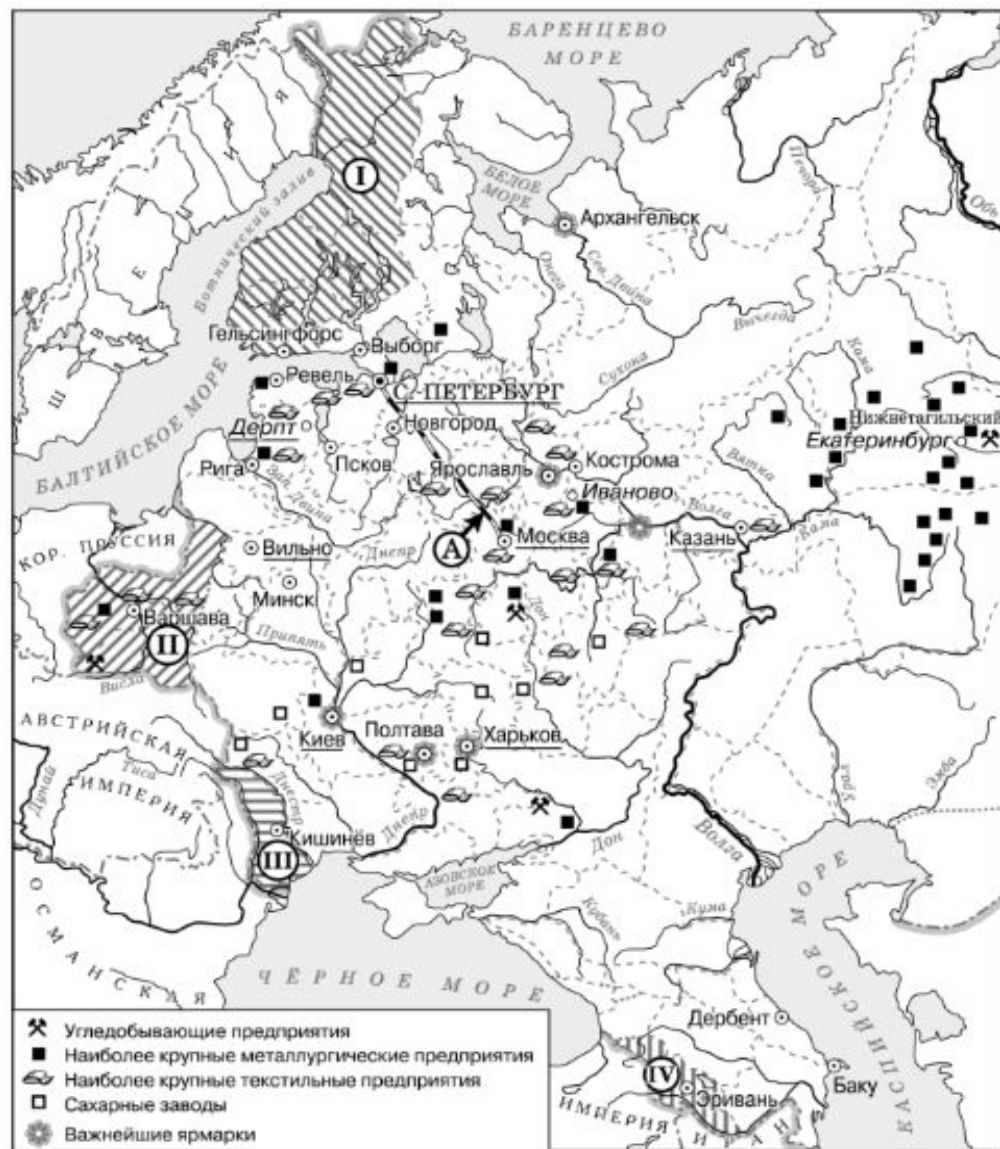
ВЕНСКИЙ КОНГРЕСС 1814-1815 ГГ.



Задания 13-16 на работу с исторической картой

13. Напишите название города, где состоялся конгресс, по решению которого в состав Российской империи вошла территория, обозначенная цифрой «II»

ВЕНА



Задания 13-16 на работу с исторической картой

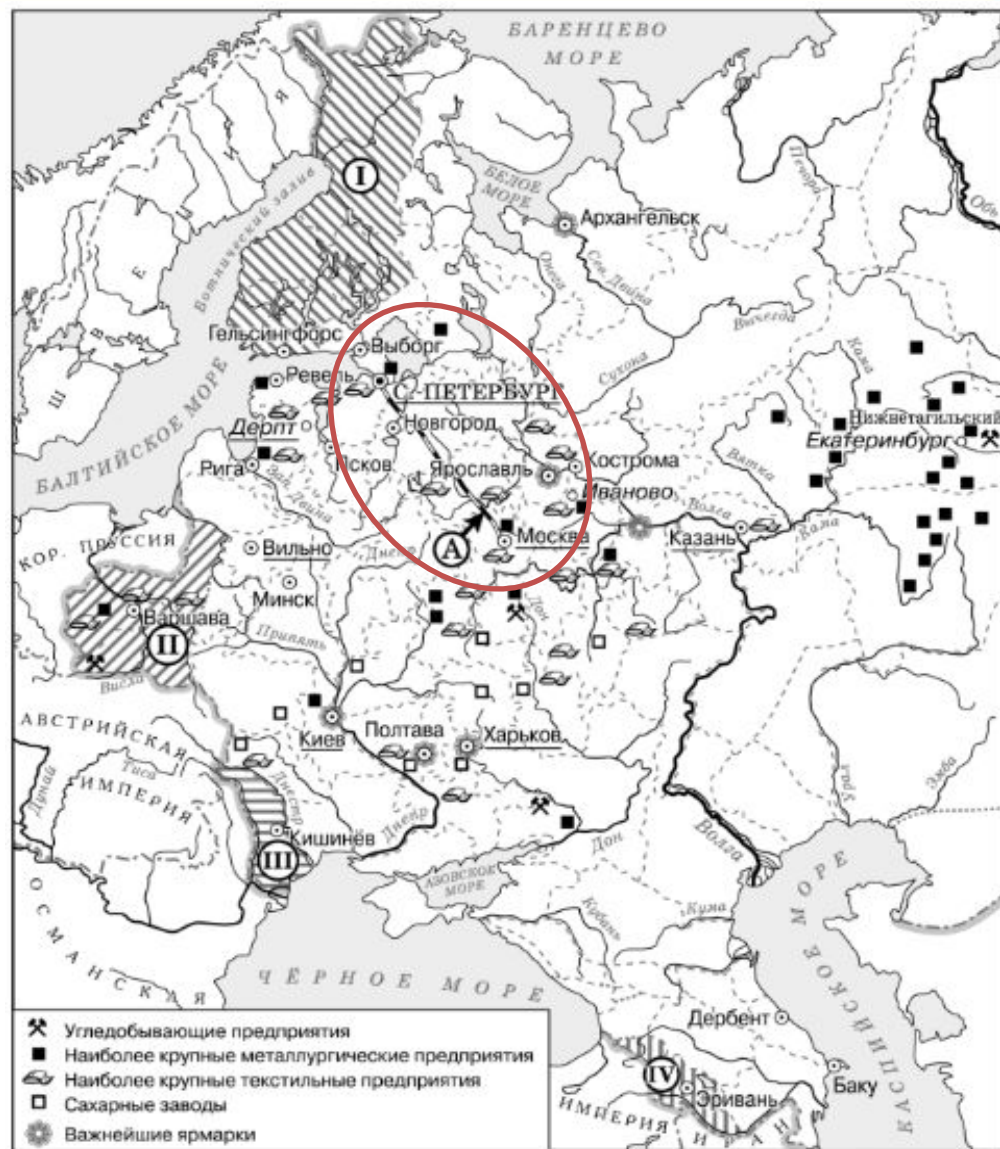
14. Назовите императора, в годы правления которого в состав Российской империи вошла территория, обозначенная на схеме цифрой «I».



АЛЕКСАНДР ПЕРВЫЙ

Задания 13-16 на работу с исторической картой

15. Назовите императора, в годы правления которого был построен объект, обозначенный на схеме буквой «А».



Задания 13-16 на работу с исторической картой

15. Назовите императора, в годы правления которого был построен объект, обозначенный на схеме буквой «А».





Если в одном задании спрашивают правителей, это всегда разные правители. Одинаковых ответов в этом блоке заданий быть не может.

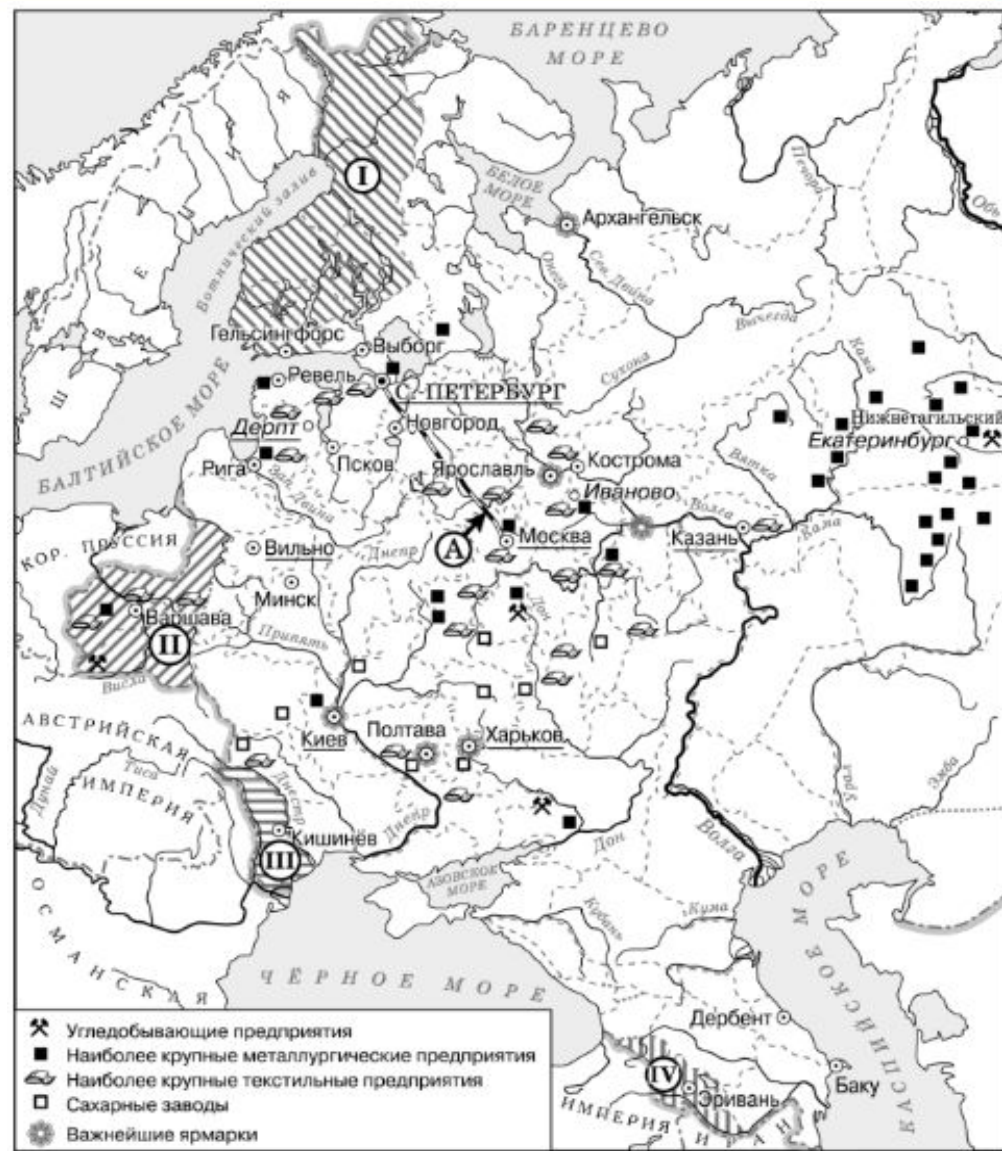


Задания 13-16 на работу с исторической картой

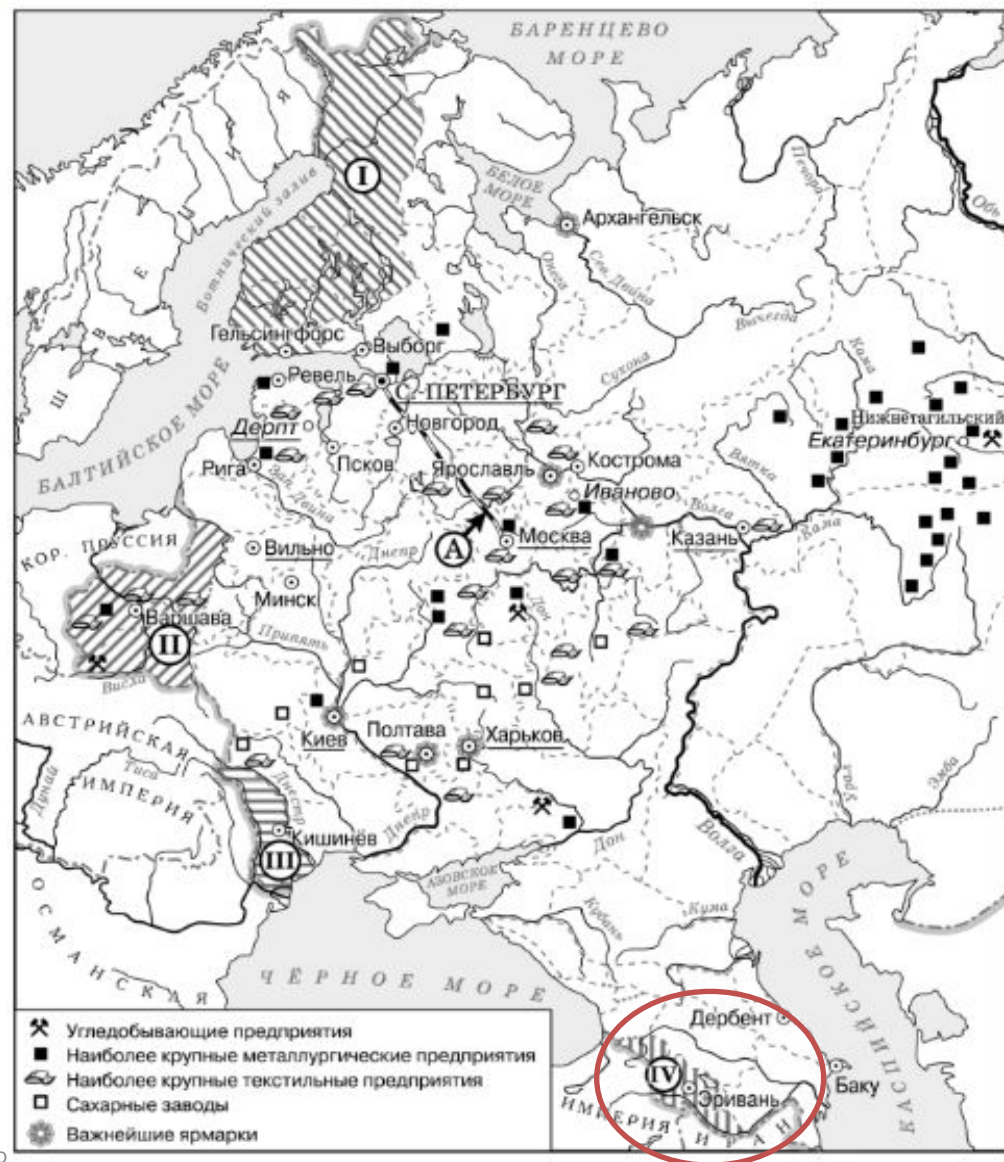
16. Какие суждения, относящиеся к событиям, обозначенным на схеме, являются верными? Выберите три суждения из шести предложенных. Запишите в таблицу цифры, под которыми они указаны.

1. В подготовке и подписании мирного договора, по которому в состав Российской империи вошла территория, обозначенная на схеме цифрой «IV», участвовал А. С. Грибоедов.

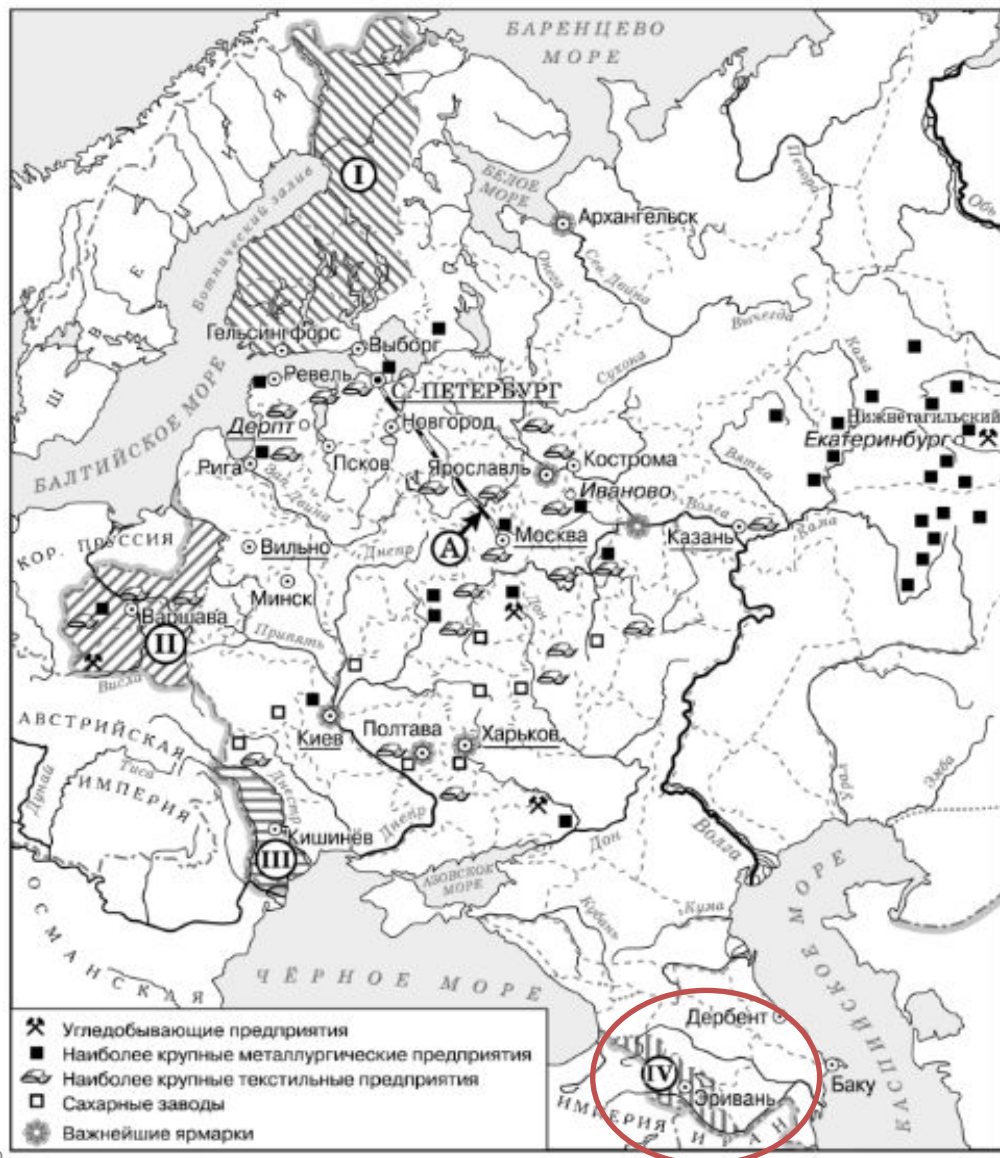
Задания 13-16 на работу с исторической картой



Задания 13-16 на работу с исторической картой



Задания 13-16 на работу с исторической картой



Задания 13-16 на работу с исторической картой

16. Какие суждения, относящиеся к событиям, обозначенным на схеме, являются верными? Выберите три суждения из шести предложенных. Запишите в таблицу цифры, под которыми они указаны.

1. В подготовке и подписании мирного договора, по которому в состав Российской империи вошла территория, обозначенная на схеме цифрой «IV», участвовал А. С. Грибоедов.

Задания 13-16 на работу с исторической картой


16. Какие суждения, относящиеся к событиям, обозначенным на схеме, являются верными? Выберите три суждения из шести предложенных. Запишите в таблицу цифры, под которыми они указаны.

1. В подготовке и подписании мирного договора, по которому в состав Российской империи вошла территория, обозначенная на схеме цифрой «IV», участвовал А. С. Грибоедов.



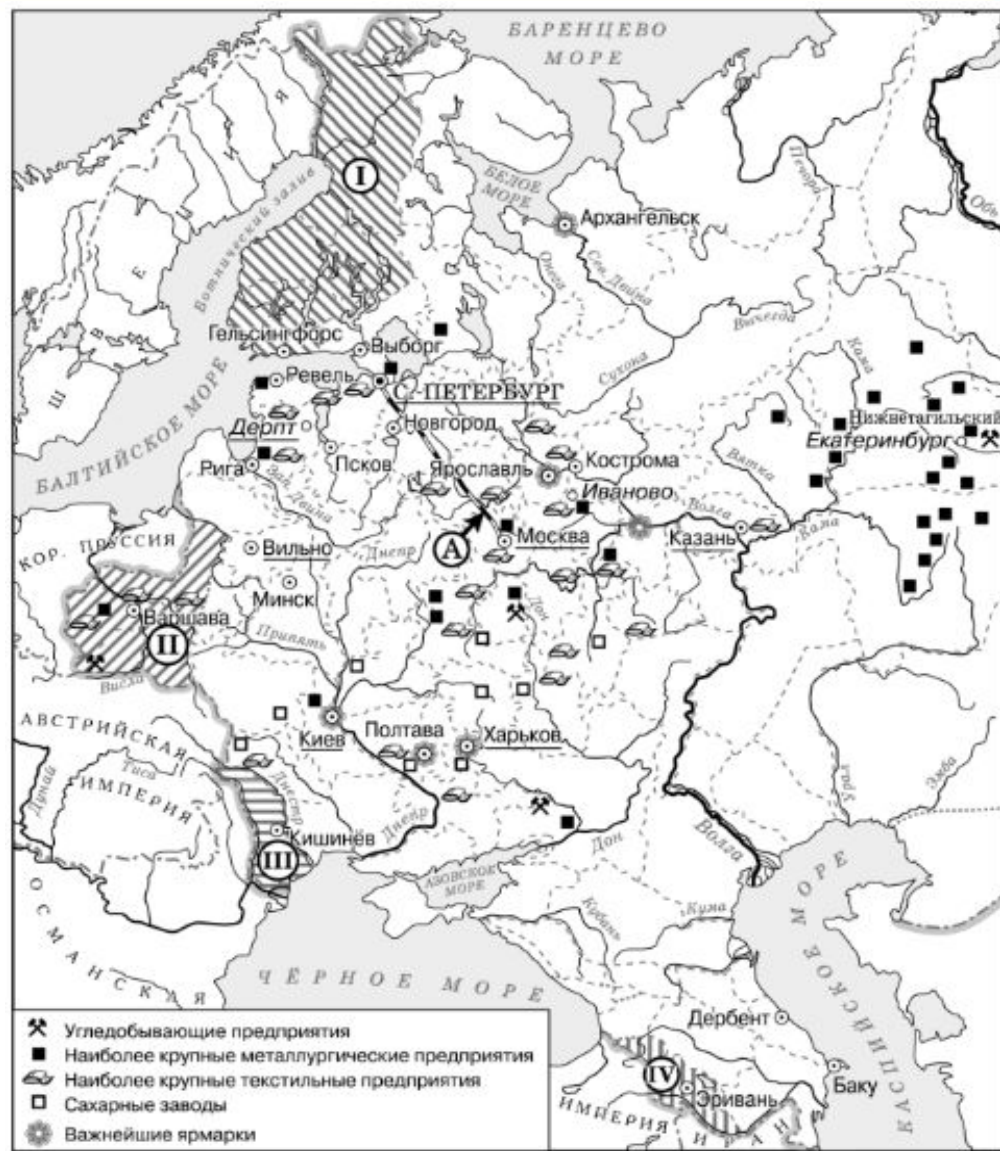
Задания 13-16 на работу с исторической картой

16. Какие суждения, относящиеся к событиям, обозначенным на схеме, являются верными? Выберите три суждения из шести предложенных. Запишите в таблицу цифры, под которыми они указаны.

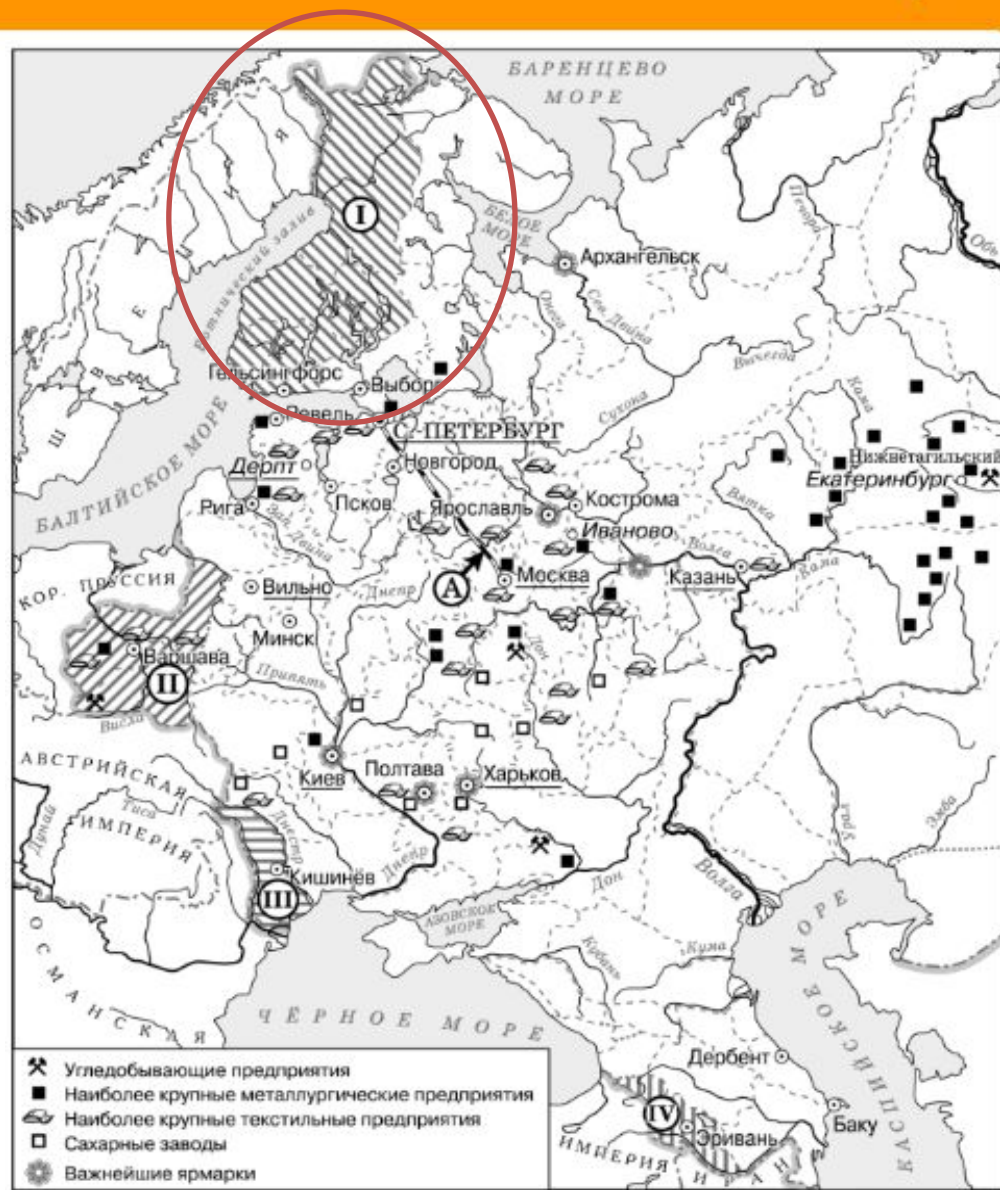
1. В подготовке и подписании мирного договора, по которому в состав Российской империи вошла территория, обозначенная на схеме цифрой «IV», участвовал А. С. Грибоедов. 

2. Территория, обозначенная на схеме цифрой «I», была присоединена к России в результате русско-шведской войны.

Задания 13-16 на работу с исторической картой





Задания 13-16 на работу с исторической картой



Задания 13-16 на работу с исторической картой


16. Какие суждения, относящиеся к событиям, обозначенным на схеме, являются верными? Выберите три суждения из шести предложенных. Запишите в таблицу цифры, под которыми они указаны.


1. В подготовке и подписании мирного договора, по которому в состав Российской империи вошла территория, обозначенная на схеме цифрой «IV», участвовал А. С. Грибоедов. 

2. Территория, обозначенная на схеме цифрой «I», была присоединена к России в результате русско-шведской войны. 

Задания 13-16 на работу с исторической картой

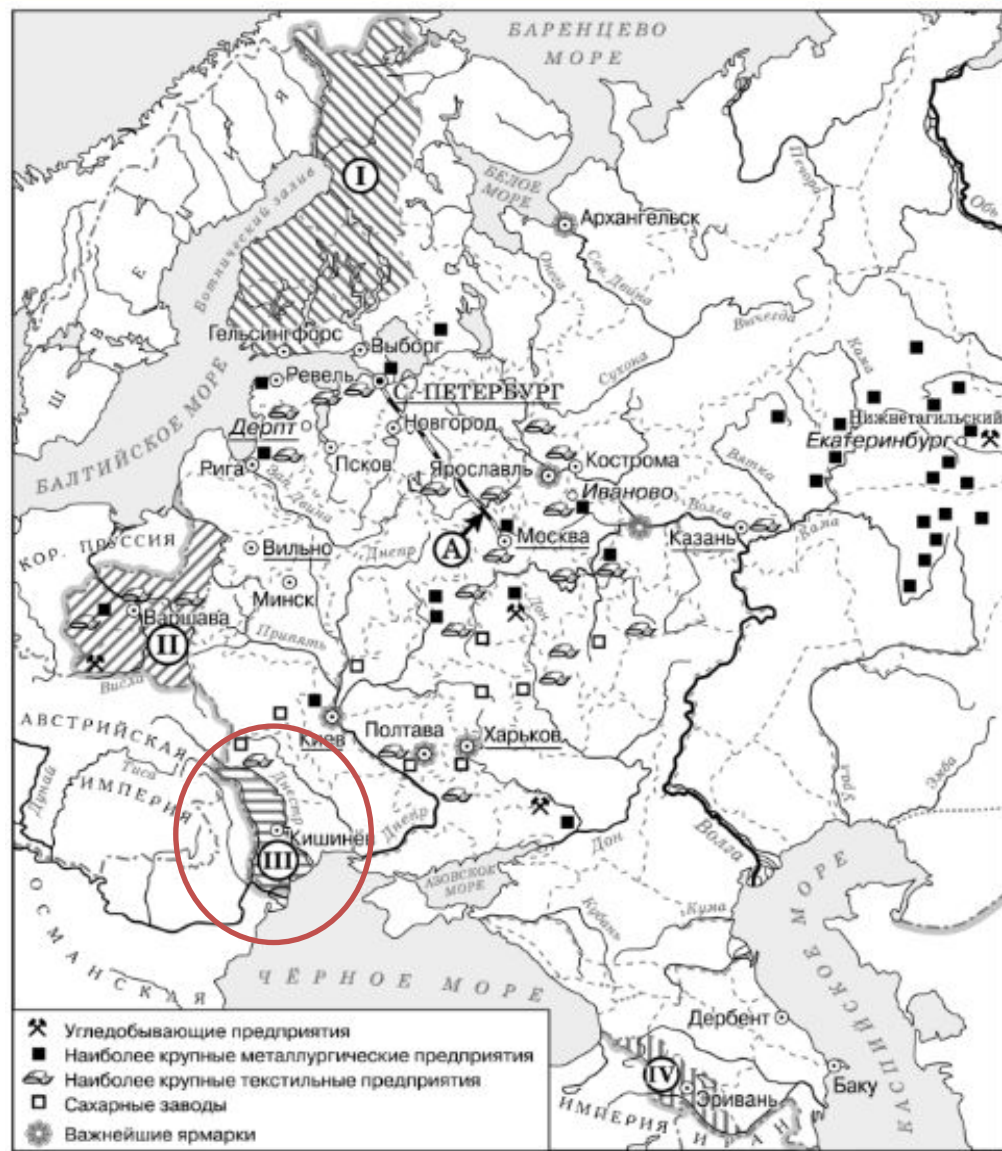
16. Какие суждения, относящиеся к событиям, обозначенным на схеме, являются верными? Выберите три суждения из шести предложенных. Запишите в таблицу цифры, под которыми они указаны.

1. В подготовке и подписании мирного договора, по которому в состав Российской империи вошла территория, обозначенная на схеме цифрой «IV», участвовал А. С. Грибоедов. 

2. Территория, обозначенная на схеме цифрой «I», была присоединена к России в результате русско-шведской войны. 


3. Присоединение территории, обозначенной на схеме цифрой «III», произошло в 1829 г.


Задания 13-16 на работу с исторической картой




Задания 13-16 на работу с исторической картой

16. Какие суждения, относящиеся к событиям, обозначенным на схеме, являются верными? Выберите три суждения из шести предложенных. Запишите в таблицу цифры, под которыми они указаны.


1. В подготовке и подписании мирного договора, по которому в состав Российской империи вошла территория, обозначенная на схеме цифрой «IV», участвовал А. С. Грибоедов. 


2. Территория, обозначенная на схеме цифрой «I», была присоединена к России в результате русско-шведской войны. 


3. Присоединение территории, обозначенной на схеме цифрой «III», произошло в 1829 г. 

Задания 13-16 на работу с исторической картой

16. Какие суждения, относящиеся к событиям, обозначенным на схеме, являются верными? Выберите три суждения из шести предложенных. Запишите в таблицу цифры, под которыми они указаны.

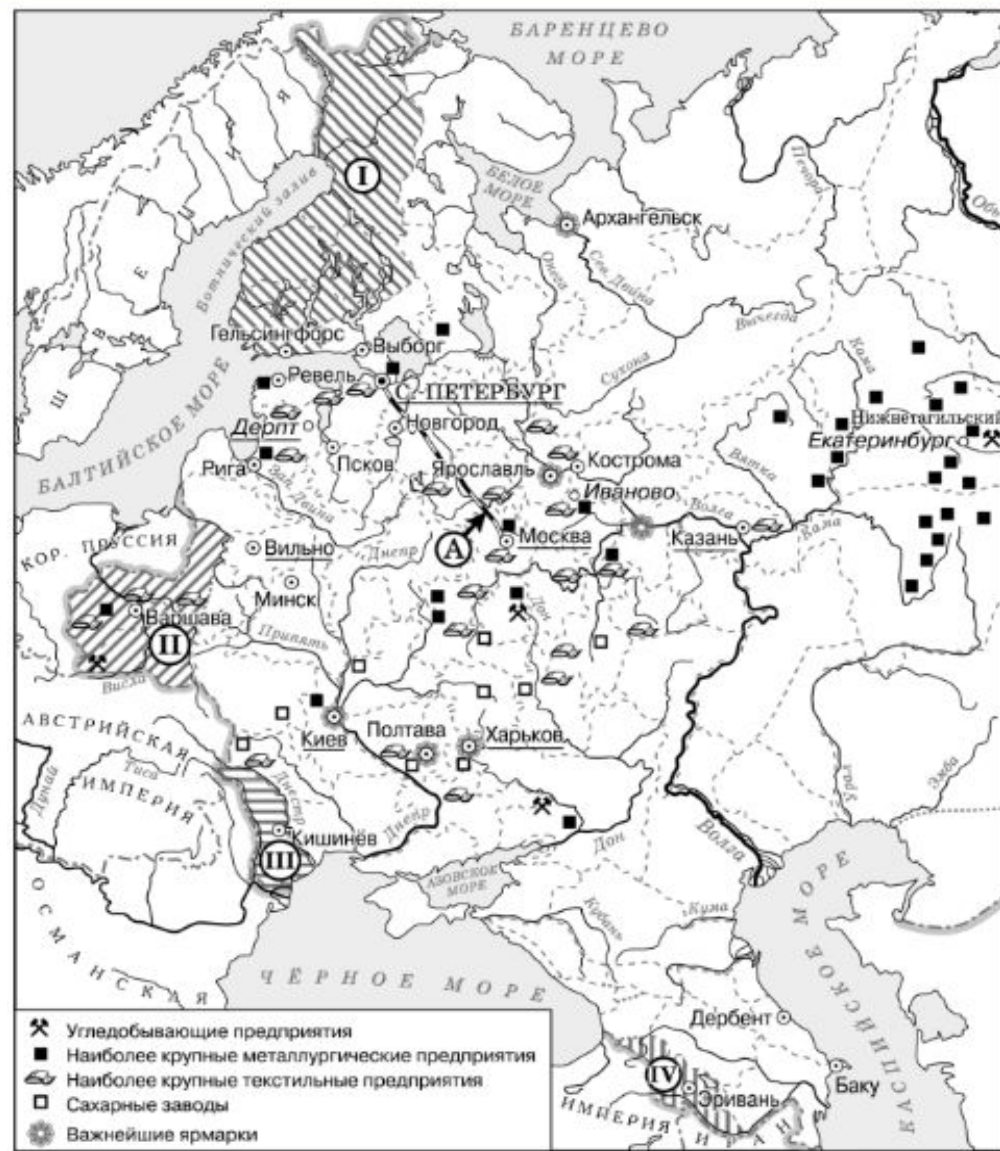
1. В подготовке и подписании мирного договора, по которому в состав Российской империи вошла территория, обозначенная на схеме цифрой «IV», участвовал А. С. Грибоедов. 

2. Территория, обозначенная на схеме цифрой «I», была присоединена к России в результате русско-шведской войны. 

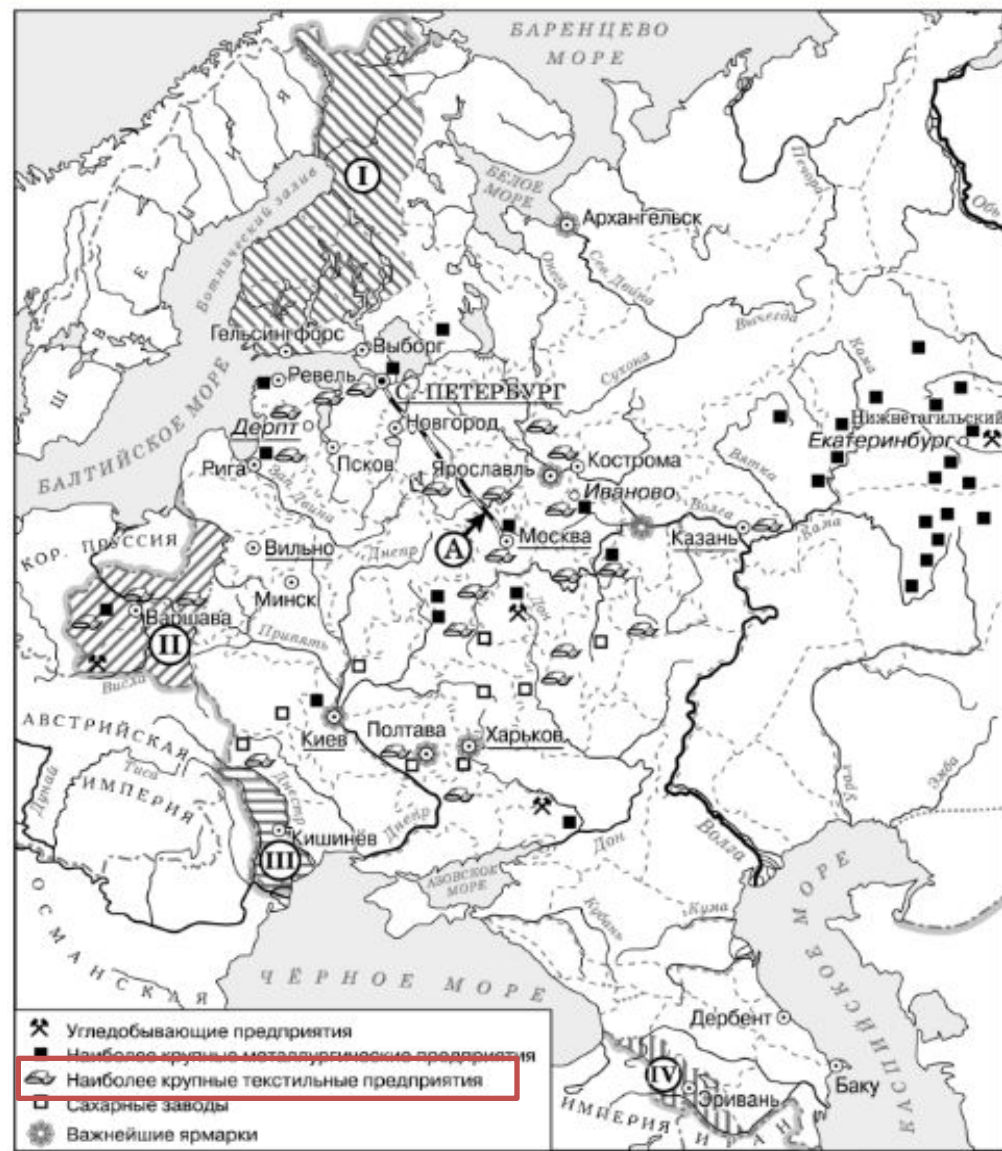
3. Присоединение территории, обозначенной на схеме цифрой «III», произошло в 1829 г. 

4. Большинство текстильных предприятий, согласно схеме, находилось в центральном районе страны.

Задания 13-16 на работу с исторической картой





Задания 13-16 на работу с исторической картой




Задания 13-16 на работу с исторической картой

16. Какие суждения, относящиеся к событиям, обозначенным на схеме, являются верными? Выберите три суждения из шести предложенных. Запишите в таблицу цифры, под которыми они указаны.

1. В подготовке и подписании мирного договора, по которому в состав Российской империи вошла территория, обозначенная на схеме цифрой «IV», участвовал А. С. Грибоедов. 

2. Территория, обозначенная на схеме цифрой «I», была присоединена к России в результате русско-шведской войны. 

3. Присоединение территории, обозначенной на схеме цифрой «III», произошло в 1829 г. 

4. Большинство текстильных предприятий, согласно схеме, находилось в центральном районе страны.