

© Казаков А.В. Учитель истории МОБУ СОШ №6
г. Гаврилов-Яма Ярославской области



РОССИЯ НА РУБЕЖЕ XVI-XVII ВЕКОВ

СМУТНОЕ ВРЕМЯ

1. Кто это?



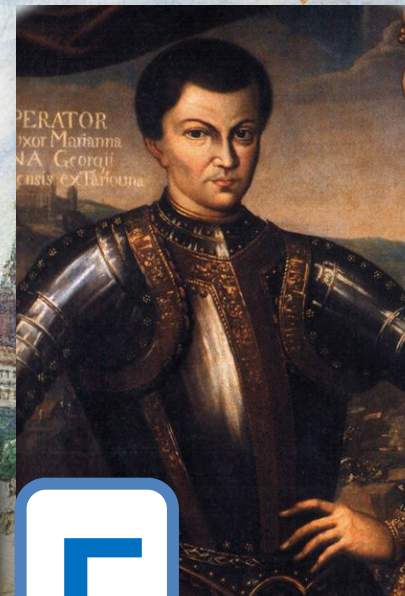
А



Б



В



Г



2. Соотнесите даты и события.


| | Дата | | Событие |
|----------|------|----------|---|
| А | 1597 | 1 | Утверждение патриаршества |
| Б | 1589 | 2 | Лжедмитрий I вступает в Москву |
| В | 1605 | 3 | Подавление восстания И. Болотникова |
| Г | 1607 | 4 | Указ об урочных летах |
| Д | 1610 | 5 | «Земский собор» избирает царем Михаила Романова |
| Е | 1612 | 6 | Освобождение Москвы от поляков |
| Ж | 1613 | 7 | Начало «Семибоярщины» |

3. Расположите правителей Руси по порядку их правления

- 1. Борис Годунов**
- 2. Иван IV**
- 3. Лжедмитрий II**
- 4. Василий Шуйский**
- 5. Михаил Романов**
- 6. Лжедмитрий I**
- 7. Фёдор I**


**4. Царская династия
Рюриковичей прервалась
со смертью:**

- А) Ивана IV**
- Б) Фёдора I**
- В) Царевича Дмитрия**
- Г) Бориса Годунова**



5. Царевич Дмитрий погиб в:

- А) Ростове
- Б) Ярославле
- В) Москве
- Г) Угличе



**6. В 1601-1603 годах в
России:**

А) была эпидемия чумы

Б) было наводнение


В) был голод

Г) было землетрясение



7. Настоящее имя Лжедмитрия I было:

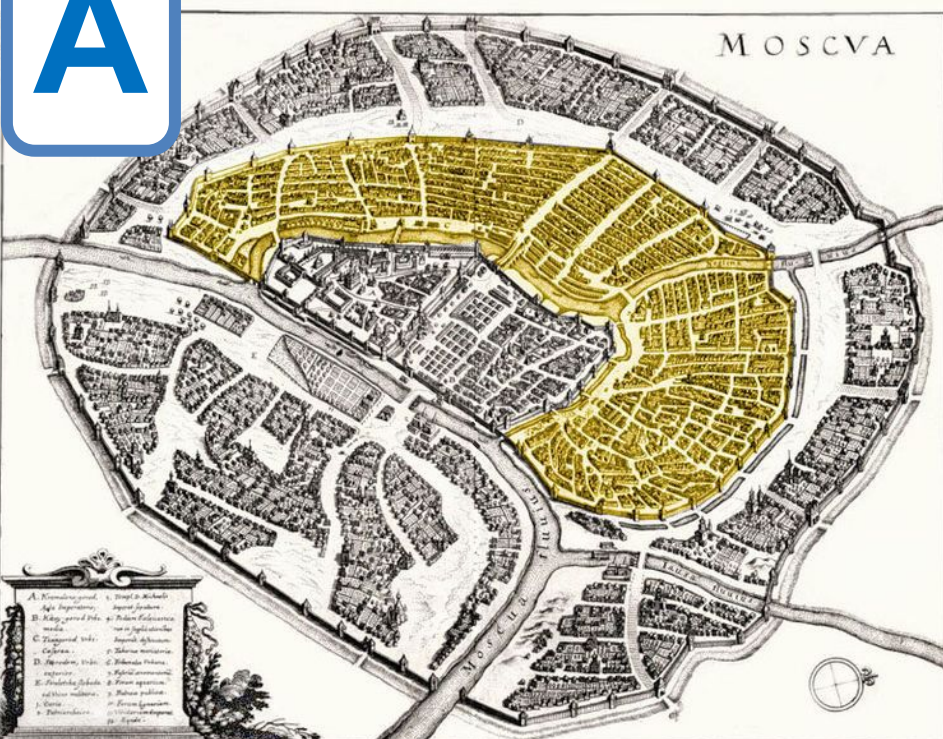
- А) Иван Басманов**
- Б) Ежи Мнишек**
- В) Григорий Отрепьев**
- Г) Иван Заруцкий**



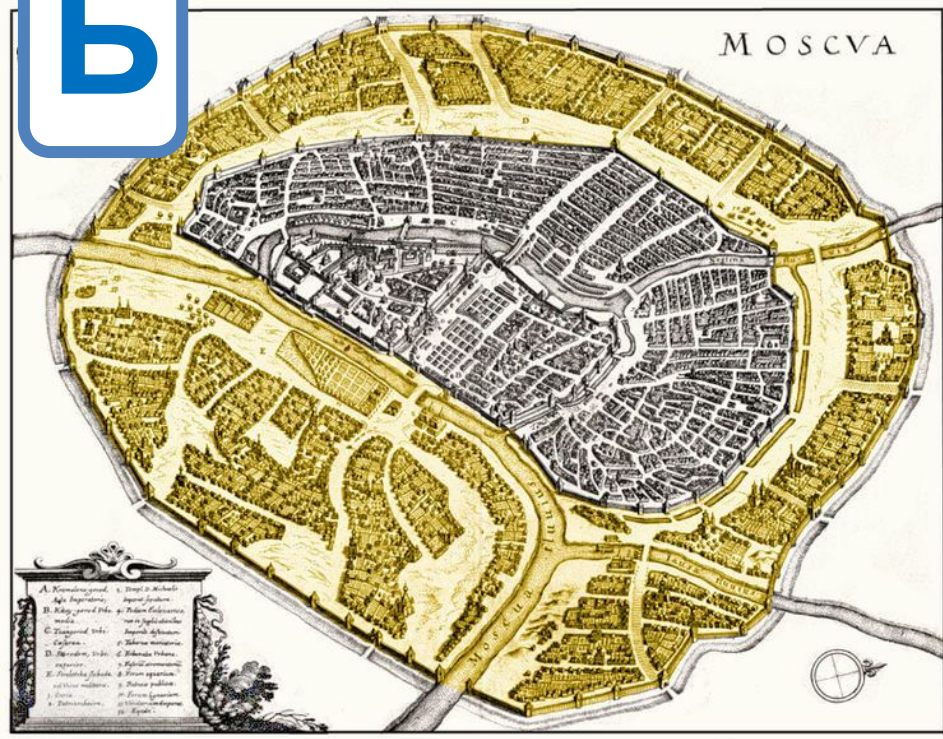
8. Как называются эти части Москвы?



А



Б



9. Второе ополчение в период Смутного времени было создано под руководством:

- А) К. Минина и Д. Пожарского**
- Б) П. Ляпунова и Д. Трубецкого**
- В) Б. Хмельницкого и В.**


Голицына

Г) И. Болотникова и И. Заруцкого



10. Семибоярщина связана с именем:

- А) патриарха Филарета
- Б) М. Шеина
- В) Ф.И. Мстиславского
- Г) М. Скопина-Шуйского



11. «» Где формировалось второе ополчение?

- А) в Москве
- Б) в Тушино
- В) в Нижнем Новгороде
- Г) в Ярославле
- Д) в Смоленске

**12. Собрание представителей
различных слоёв населения для
обсуждения политических,
экономических и
административных вопросов
называется:**

- А) Правительство**
- Б) Избранная рада**
- В) Земский собор**
- Г) Народное вече**

**13. «»Новым царем в 1613
году был избран:**

- А) Кузьма Минин**
- Б) Дмитрий Пожарский**
- В) Михаил Романов**
- Г) Василий Шуйский**
- Д) королевич Владислав**

14. Чей подвиг изображен на этой картине?



15. Кому поставлен этот памятник?

