

IV

V

VI

VII

VIII

IX

X

XI


XII

XIII

XIV

XV

XVI



РУБЕЖ ДРЕВНОСТИ И СРЕДНЕВЕКОВЬЯ

Образовательная система «Школа 2100»

Данилов Д.Д. и др. Всеобщая история. 6 класс. История Средних веков

Автор презентации: Казаринова Н.В. (учитель, г. Йошкар-Ола)

© ООО «Баласс», 2012

ОПРЕДЕЛЯЕМ ПРОБЛЕМУ



По ленте времени
на с. 10-11
определи, на какое
время, по мнению
европейских
учёных,
приходится рубеж
Древности и
Средневековья.



Для китайских
учёных рубежом в
истории считается
II век - время
падения империи
Хань. Для
мусульман начало
новой эпохи - это
VII век, когда
Мухаммед начал
проповедь ислама.

●равни представления китайцев и мусульман со
сложившимся делением всемирной истории. В чём
несовпадение?

ОПРЕДЕЛЯЕМ ПРОБЛЕМУ



ВАША ФОРМУЛИРОВКА ПРОБЛЕМЫ
МОЖЕТ НЕ СОВПАДАТЬ С АВТОРСКОЙ.
ПОЖАЛУЙСТА, ВЫБЕРИТЕ В КЛАССЕ ТУ
ФОРМУЛИРОВКУ, КОТОРАЯ ВАМ
НАИБОЛЕЕ ИНТЕРЕСНА!





ВСПОМИНАЕМ ТО, ЧТО ЗНАЕМ


Понятия	Определения
Христианство	
Буддизм	
Необходимый уровень. Заполни таблицу, указав значения понятий.	
Цивилизация	
Первобытное общество	
Язычество	
Империя	



ВСПОМИНАЕМ ТО, ЧТО ЗНАЕМ

Необходимый уровень. Отметь на ленте времени рубеж первого и второго тысячелетий. Заполни пустые ячейки.

До нашей эры			Наша эра								
III	II	I	I	II		IV			VII	VIII	IX



Наша эра											
X	XI	XII	XIII		XV	XVI	XVII	XVIII	XIX	XX	XIX

Повышенный уровень. Отметь на ленте времени начало Средневековья согласно трём различным точкам зрения историков. Что общего в их представлениях?







ВСПОМИНАЕМ ТО, ЧТО ЗНАЕМ

Необходимый уровень. Расставь события и явления в правильной последовательности.

Повышенный уровень. Процесс гибели или основания империи здесь представлен? Приведи одно-два доказательства своей точки зрения.

1. Разделение Римской империи на Западную и Восточную.
2. Захват Рима готами.
3. Гражданские войны в Риме.
4. Император Константин переносит столицу империи в Константинополь.





ОТКРЫВАЕМ НОВЫЕ ЗНАНИЯ

1. «Царство кесаря» и «Царство Божие»

2. Смена миров

3. «Все дороги ведут в Рим»

4. Новая картина мира





«ЦАРСТВО КЕСАРЯ» И «ЦАРСТВО БОЖИЕ»

Необходимый уровень. С помощью текста на с. 13-14 определи, чем античный взгляд на мир отличается от христианского.

ВНИМАНИЕ!

Для выполнения этого и многих подобных заданий тебе необходимо владеть продуктивным чтением. На примере этого текста вспомни (или изучи) порядок работы.





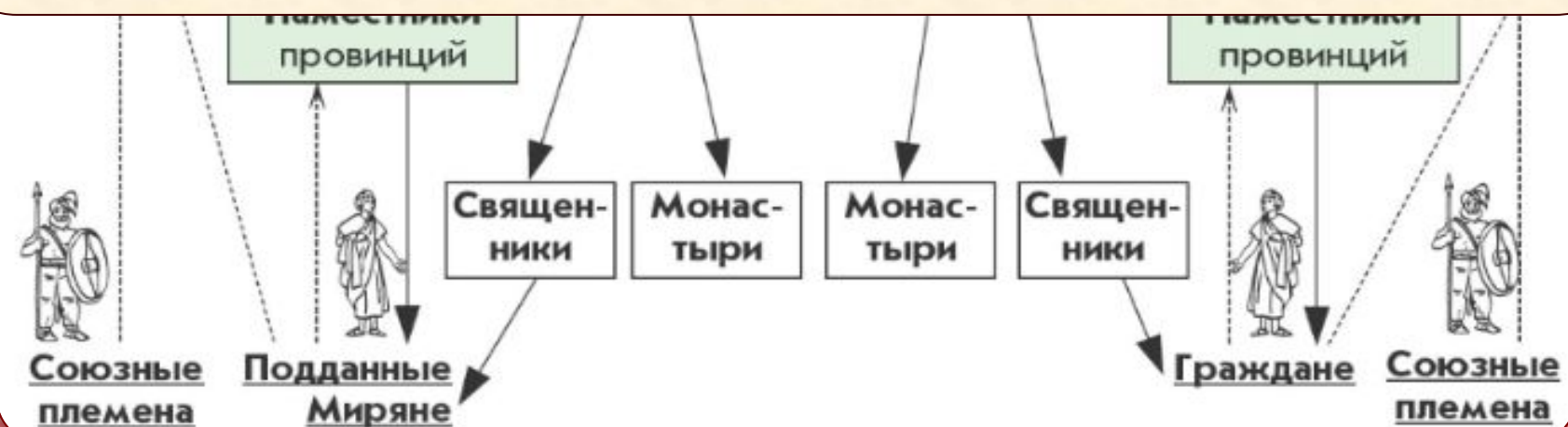
СМЕНА МИРОВ

Римская империя
к концу IV века



Повышенный уровень. Используя словарные определения, докажи, что Западная и Восточная Римская империи были централизованным государством.

Что связывало Запад и Восток?





«ВСЕ ДОРОГИ ВЕДУТ В РИМ»




● На твой взгляд, чем общество германских варваров было слабее, а чем, может быть, сильнее античной цивилизации позднего Рима?





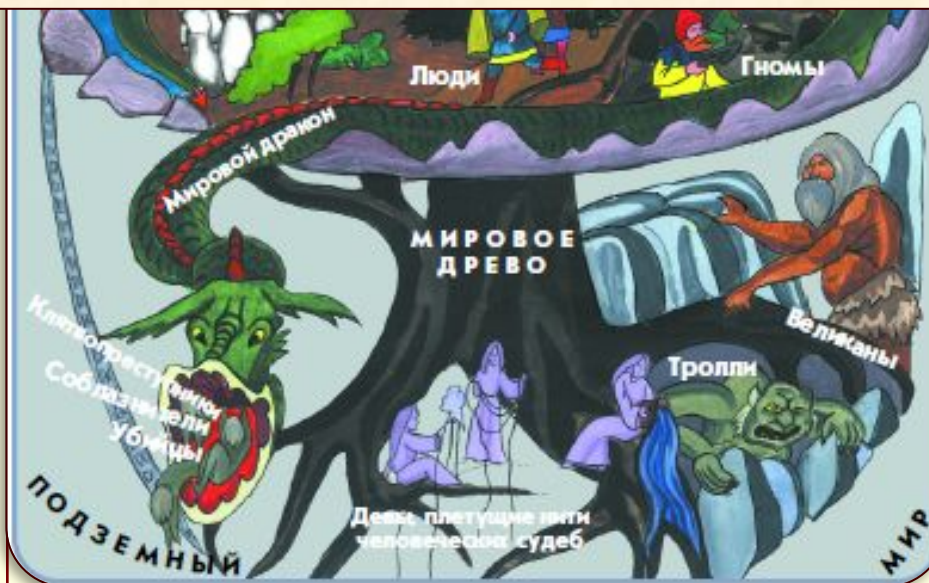
«ВСЕ ДОРОГИ ВЕДУТ В РИМ»

Черты
язычества



Доказатель-
ства

Повышенный уровень. По рисунку докажи, что германские варвары были язычниками.





«ВСЕ ДОРОГИ ВЕДУТ В РИМ»

ПЕРЕСЕЛЕНИЕ НАРОДОВ

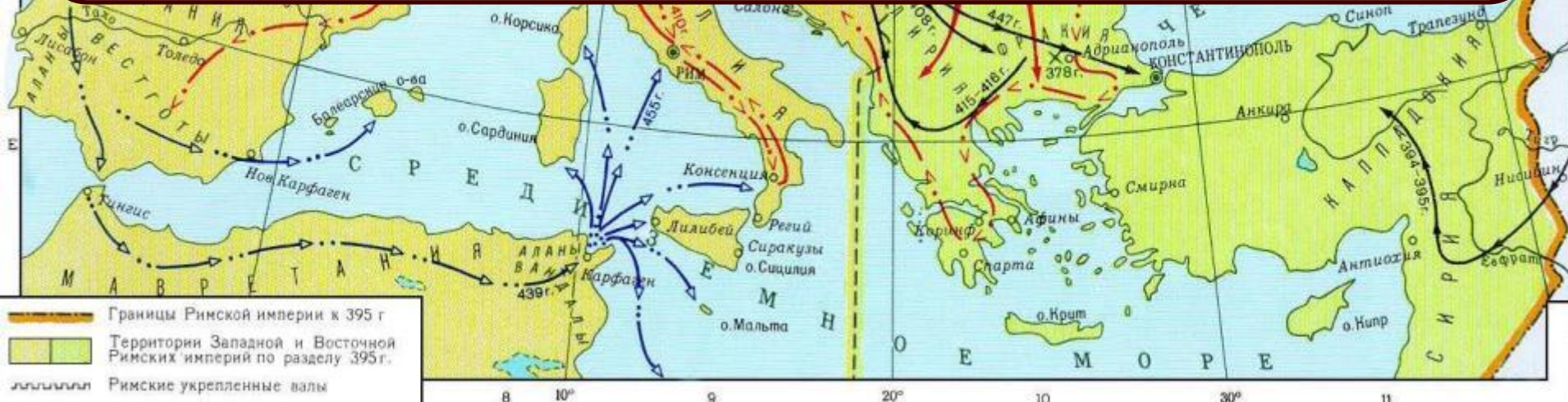
- Основные направления движения племён
- гуннов
 - остготовов
 - вестготовов
 - англов, саксов и ютов
 - франков
 - вандалов и аланов
 - бургундов
 - бриттов



ГОСУДАРСТВЕННЫЕ ОБРАЗОВАНИЯ в ЕВРОПЕ в 7 в.

- Цифрами на карте обозначены:
- 1 Королевства англо-саксов
 - 2 Княжество Само
 - 3 Аварский каганат
 - 4 Болгарское царство
 - 5 Государство лангобардов

Необходимый уровень. Назови, в каких римских провинциях какие варварские племена создали свои «королевства».




- Границы Римской империи к 395 г
- Территории Западной и Восточной Римских империй по разделу 395 г.
- Римские укрепленные валы



НОВАЯ КАРТИНА МИРА



Необходимый уровень. По рисунку определи: из каких частей, с точки зрения римского христианина, состоял мир (пространство); как представляли христиане течение времени (историю), чего ожидали в будущем?





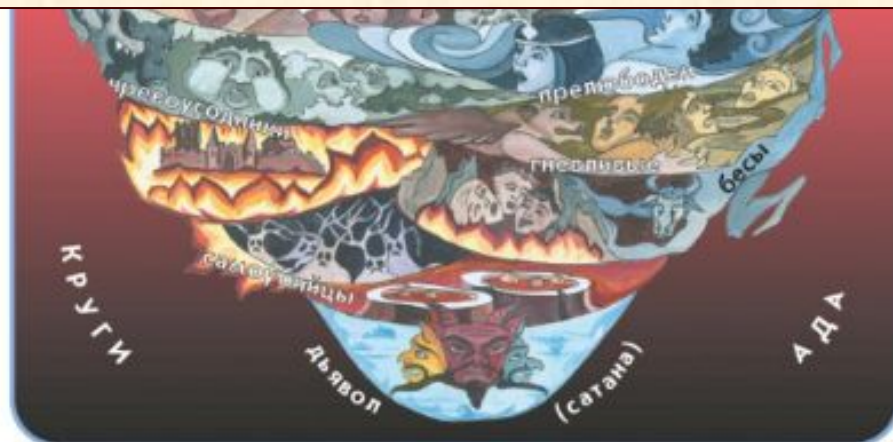
НОВАЯ КАРТИНА МИРА

Черты
язычества



Черты
раннего
христианства

Необходимый уровень. Что, на твой взгляд, в средневековой европейской картине мира можно считать наследием раннего христианства, что - античности, а что - варварского язычества?



ОТКРЫВАЕМ НОВЫЕ ЗНАНИЯ



**В НАЧАЛЕ СРЕДНЕВЕКОВЬЯ
СКЛАДЫВАЕТСЯ
ХРИСТИАНСКИЙ
МИР ЕВРОПЫ**



ПРИМЕНЯЕМ НОВЫЕ ЗНАНИЯ



Необходимый уровень. Выдели главные переменные, произошедшие в античном мире к концу IV века.



1. ХОЗЯЙСТВО ...
2. ВЛАСТЬ ...
3. ОБЩЕСТВО ...
4. КУЛЬТУРА ...

ПРИМЕНЯЕМ НОВЫЕ ЗНАНИЯ



Необходимый уровень. Вставь в текст пропущенные слова.

Повышенный уровень. Составь и запиши свой текст, используя понятия: античная цивилизация, Великое переселение народов, варварские племена.

В ____ веке в результате ослабления Западная Римская империя рухнула. Закончилась эпоха Древнего мира, и началась _____.
Готы, вандалы, бургунды размещались на лучших землях, объявляя римским гражданам, что они их повелители. Эти государственные образования называют _____.

ПРИМЕНЯЕМ НОВЫЕ ЗНАНИЯ



Необходимый уровень. Что потеряли римляне с приходом варваров?



Вилла знатного римлянина IV века

ПРИМЕНЯЕМ НОВЫЕ ЗНАНИЯ



используя дополнительные источники информации, составь список современных народов, названия которых появились именно в период Великого переселения.

