

# ***1. Какое из перечисленных событий произошло в 1915 г.:***

- 1) Брусиловский прорыв***
- 2) русская армия оставила Польшу и Галицию***
- 3) поражение русских войск в Восточной Пруссии***
- 4) вступление в войну США***



**2. Соотнесите военные  
блоки и государства, в них  
вошедшие:**

**А. Антанта**

**Б. Тройственный  
союз**

- 1. Россия;**
- 2. Турция;**
- 3. Румыния;**
- 4. Германия;**
- 5. Франция**

### **3. Напишите исторический термин:**

**Война с преобладанием военных действий на сплошных стабильных, хорошо укрепленных фронтах большой протяженности называется \_\_\_\_\_**



## **4. Укажите, о ком идет речь:**

**«родился в семье потомственных военных, окончил Петербургскую Офицерскую кавалеристскую школу, дослужился до чина генерала-адъютанта, его армия отличилась в Галицкой битве, в 1916 г. был назначен командующим юго-западным фронтом, его именем названа наступательная операция»**

**5. Расположите события в хронологической последовательности:**

- 1) «Верденская мясорубка»**
- 2) «выстрел в Сараево»**
- 3) Компьенское перемирие**
- 4) сражение под Сарыкамышем**

**6. Укажите, какой партии принадлежит отрывок из манифеста:**

**«с точки зрения рабочего класса и трудящихся масс всех народов России наименьшим злом было бы поражение царской монархии, самого реакционного и варварского правительства»**



**7. Напишите исторический термин:**

**Возможность навязывания в течение длительного времени противнику своей воли в ходе военных действий - это**

---

**8. Определите политическую партию в Россию, выразившую свое отношение к войне:**

**«каково бы ни было наше отношение к внутренней политике правительства, наш прямой долг сохранить родину единой и неделимой, а значит надо продолжить войну до победного конца для сохранения России и монархии. Только победа позволит нам думать о конституции»**





**9. Какие два суждения о данной карикатуре являются верными?**

- 1) Инициатором I Мировой войны стала империи, которой посвящена данная карикатура.**
- 2) Россия никогда не подписывала международных договоров с империей, которой посвящена карикатура.**
- 3) Указанная империя, входила в Антанту.**
- 4) Во время Первой мировой войны русской армии удалось временно захватить часть территории империи, которой посвящена карикатура.**





**10. Укажите название наступательной операции, изображенной на схеме**



The background of the image is a painting of a park scene. In the foreground, a large, light-colored statue of a man in a long coat stands on a pedestal. To the left, another smaller statue is visible. In the background, there is a large, classical-style building with a balcony and several tall, dark, conical trees. The sky is overcast. The overall color palette is muted, with a lot of greys and browns.


# Версальско- Вашингтонская система

*система миропорядка, установленная государствами-победителями после I Мировой войны на Версальской и Вашингтонской конференциях, рассчитанная на закрепление послевоенного передела мира и направлена экономическую и политическую гегемонию победителей в послевоенном мире*




# **Версальский мир (1919 г.) представители 27 государств**

**Ж. Клемансо  
(Франция)**



**лидеры**

**Л. Джордж  
(Великобритания)**




**В. Вильсон  
(США)**

- не допустить чрезмерного ослабления Германии, которая будет конкурентом Франции**
- максимально ослабить Германию**
- разделить германские колонии**
- получить все германские колонии**
- вернуть Эльзас и Лотарингию**

# *Версальский мир (1919 г.)*

## *представители 27 государств*

### *лидеры*



*В. Вильсон  
(США)*

*«14 пунктов  
Вудро Вильсона»*

*Стр. 40 («Версальская система»)*

- Отметьте, чьи цели были реализованы*
- Что такое «русский вопрос» и как он был решен?*
- Как был решен колониальный вопрос?*
- Что такое «мандатная система»?*
- Какие страны были «обижены» в Версале?*
- Почему США не ратифицировали Версальский договор и не вошли в Лигу Наций?*



# **Вашингтонская конференция 1921 - 1922 г.**

**«Договор пяти» держав - уравнил тоннаж военных флотов Великобритании и США, т.е. Великобритания уже не мировой лидер**



**«Договор десяти» - гарантировал территориальную целостность Китая - Какое государство оказалось обиженным этим договором?**



# Страны Запада в 1920-е гг.

к 1925 г. мир покончил с последствиями войны.

## Франция

подъем экономики, т. к. "Мы получили все, что требовали, и даже больше!" Ж. Клемансо  
-Что же это?

## США

увеличение объема производства на 20%,  
увеличение золотого запаса за счет возврата военных кредитов  
\$ - мировой эквивалент

## Англия

вернулась к довоенному уровню, т.к. для возвращения военных кредитов отдала США часть золотого запаса («фунт» перестал быть фунтом)

## Япония

увеличение национального богатства на 20% за счет ресурсов приобретенных колоний

# ***Домашнее задание***

- ***П. 4 – 5 всемирной истории***
- ***вопрос 3, 4 стр. 57***
- ***термины***