

## **Контрольно-обобщающий урок**

Подготовила учитель истории


МОУ «СОШ р.п. Духовницкое»

*Чиликова Тамара Васильевна*

# **«ЦИВИЛИЗАЦИЯ ДРЕВНЕГО ЕГИПТА»**

# Цель урока:

- ◎ систематизация и контроль качества знаний обучающихся по теме «Цивилизация Древнего Египта»



# Ход урока

- ◎ **Организационный момент (2 м.)**
- ◎ **Инструкция по использованию инструкционной карты (3 м.)**
- ◎ **Выполнение заданий по вариантам**
- ◎ **Домашнее задание:** зад.№40 и41 в раб. тетрадях (2 м.)

# 1 вариант

## 1. Заполни контурную карту «Древний Египет»

А) Надпиши название реки, протекающей через Египет, и обозначь на ней 1-й порог.

Б) Надпиши названия двух морей, ближайших к Египту.

В) Обозначь древнюю столицу Египта и надпиши ее название.

## 2. Нарисуйте линию времени и отметьте на ней год, когда произошло объединение Древнего Египта и год постройки пирамиды Хеопса. Какое из указанных событий произошло раньше? На сколько раньше? Вычисления делайте письменно.

## 3. Выполните тесты:

1. Где берет свое начало река Нил?

А) в Центральной Африке

Б) в Центральной Азии

В) в северо-восточной Африке.

2. С какой целью фараоны организовывали военные походы в другие страны?

А) с целью личного обогащения;

Б) с целью обогащения своих воинов и вельмож

В) с целью знакомства с другими странами

3. Кого, по представлениям древних египтян, Осирис пропускал в «царство мертвых»?

А) только фараонов Б) только жрецов В) всех, кто при жизни творил добро.

## 4. Внимательно рассмотри изображения и ответь на вопрос: под каким номером находится изображение, принадлежащее древнеегипетскому автору? Почему ты так думаешь?

# 2 вариант

## 1. Заполни контурную карту «Древний Египет»

- А) Обозначь стрелками направления завоевательных походов фараонов Египта
- Б) Обведи границы Египетского государства около 1500 года до н.э.
- В) Надпиши название столицы Египта во времена фараона Тутмоса.

## 2. Нарисуйте линию времени и отметьте на ней год, когда произошло объединение Древнего Египта и год, когда были сделаны завоевания фараона Тутмоса.

Какое из указанных событий произошло позже? На сколько позже? Вычисления делайте письменно.

## 3. Выполните тесты:

1. В какой части Египта находится дельта Нила?

- А) в центральной Б) в северной В) в северо-западной

2. Кто набирался в армию в Древнем Египте?

- А) каждый десятый юноша-египтянин

- Б) каждый второй раб

- В) все вельможи

3. С каким явлением природы древние египтяне связывали смерть Осириса?

- А) с засухой

- Б) с разливом Нила


- В) с землетрясениями.

## 4. Внимательно рассмотри изображения и ответь на вопрос: под каким номером находится изображение, принадлежащее древнеегипетскому автору? Почему ты так думаешь?


# 3 вариант

- 1. Заполни контурную карту «Древний Египет»:
  - А) Надпиши на карте названия стран и полуострова, завоеванных фараонами Египта
- 2. Нарисуйте линию времени и отметьте на ней год постройки пирамиды Хеопса. Сколько лет исполнится этому сооружению в 2009 году? Вычисления делайте письменно.
- 3. Выполните тесты:
  - 1. Где находится Египет?
    - А) в Центральной Африке
    - Б) в Центральной Азии
    - В) в северо-восточной Африке.
  - 2. Кто служил колесничим в армии Древнего Египта?
    - А) вельможи
    - Б) жрецы
    - В) рабы.
  - 3. Мифический царь Египта, научивший египтян выращивать зерно и виноград, печь хлеб:
    - А) Осирис
    - Б) Амон-Ра
    - В) Тутанхамон
- 4. Внимательно рассмотри изображения и ответь на вопрос: под каким номером находится изображение, принадлежащее древнеегипетскому автору? Почему ты так думаешь?


4. Внимательно рассмотри изображения и ответь на вопрос: под каким номером находится изображение, принадлежащее древнеегипетскому автору? Почему ты так думаешь?



1.



2.



3.



Выполни в рабочей тетради на печатной основе  
**зад. № 40 и зад. №41** (кресворды)

## Домашнее задание

