

3. Роль Пирея в развитии торговли Афинского государства.



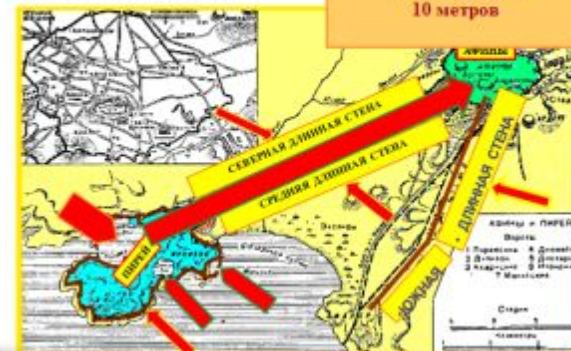
Самая большая гавань Пирей была торговой. В Греции ее называли «Ротом Африки». Как вы думаете, оправдано ли это? Почему?



Дорога соединявшая его с горами, была очень узкой и имела длину около 10 километров.

Порт Пирей находился в 5 км от Афин.

Высотой около 10 метров



В гаванях афинского порта Пирей.

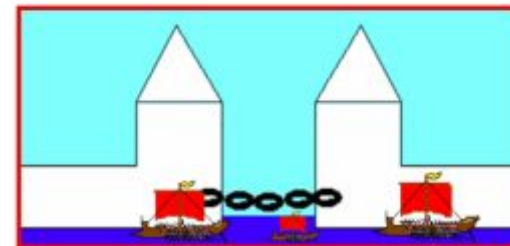
4. Работоторговля.

Глядя на иллюстрации перечислите некоторые из работ, выполнявшихся рабами...



2. Военные гавани порта.

В военных гаванях находилось более 400 судов. Вход в них надежно защищался цепями или смоляными канатами.



План урока.

1. Порт Пирей

2. Военные гавани порта.

**3. Роль Пирея в развитии торговли
Афинского государства.**

4. Продажа рабов.

Задание на урок.

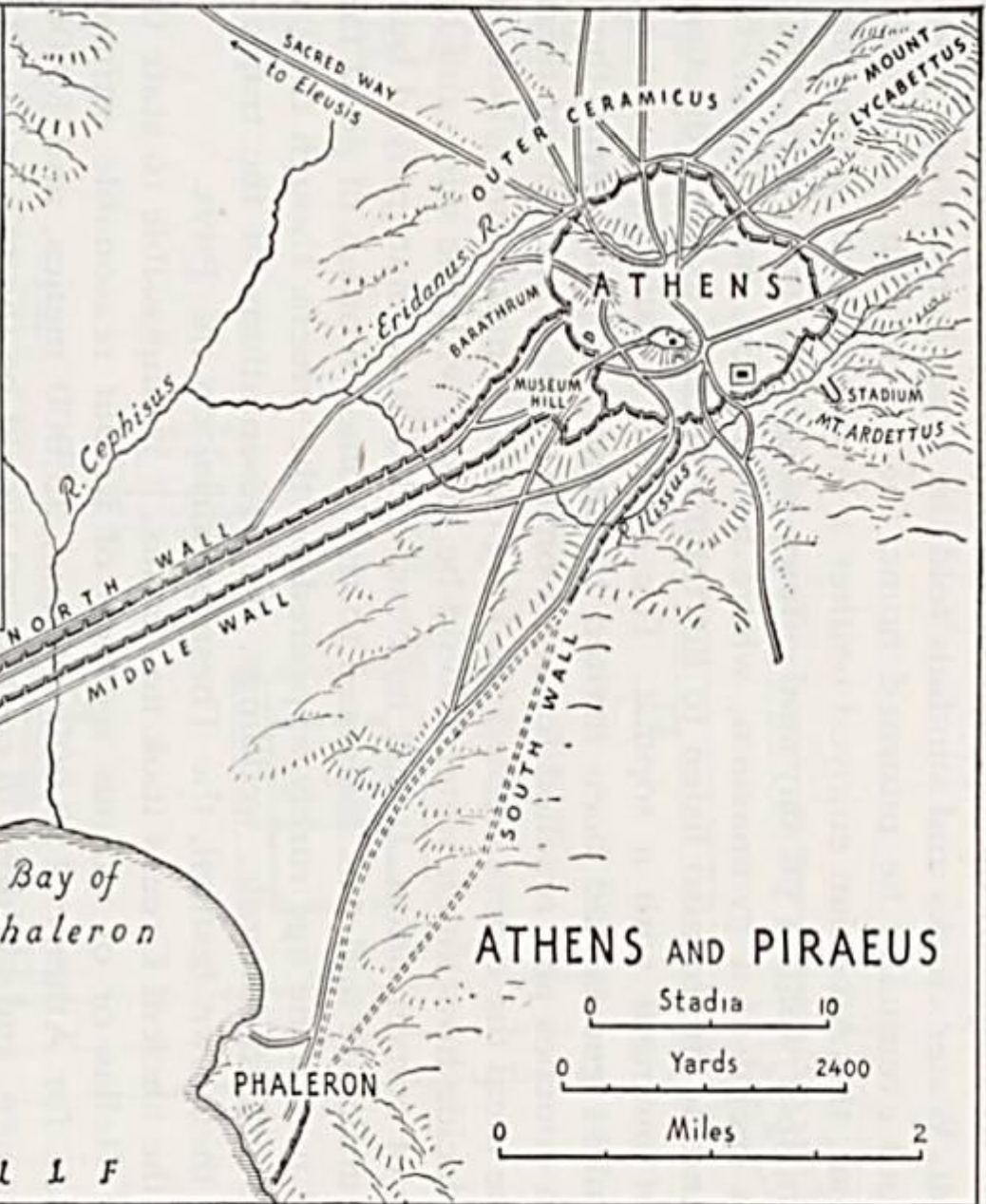
**В Древней Греции Афины называли
«Морской страной».**

**Подберите факты , которые
доказывают эту характеристику?**

Пирей (греч. Πειραιάς) — город в Греции, на Эгейском море, административный центр нома Аттики; входит в состав Больших Афин. Главный внешнеторговый порт Греции.



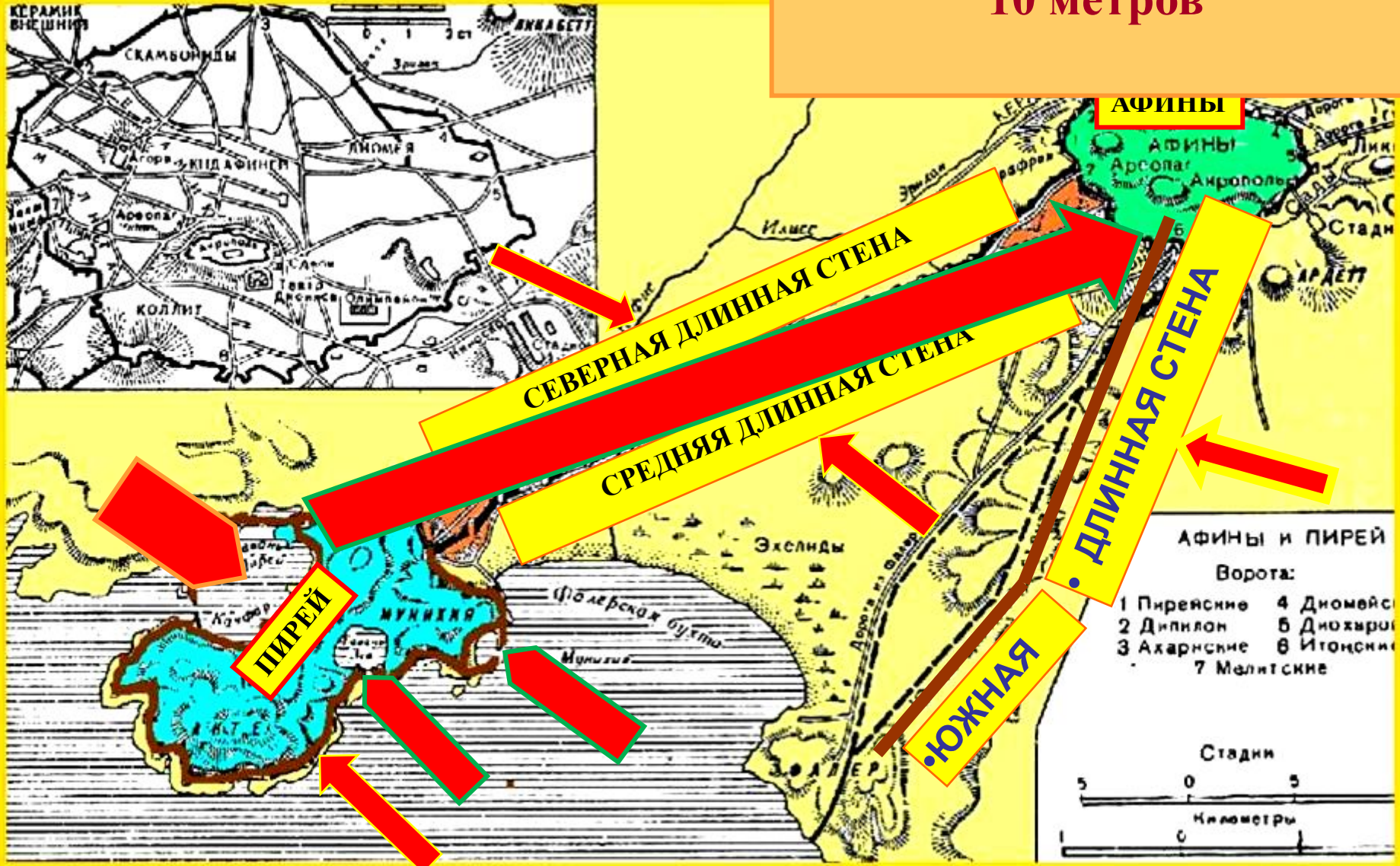
Название, вероятно, связано с др.-греч. глаголом περῶ - переплывать, проходить, переходить через что-то, переправлять



Дорога соединявшая его с городом была защищена длинными стенами.

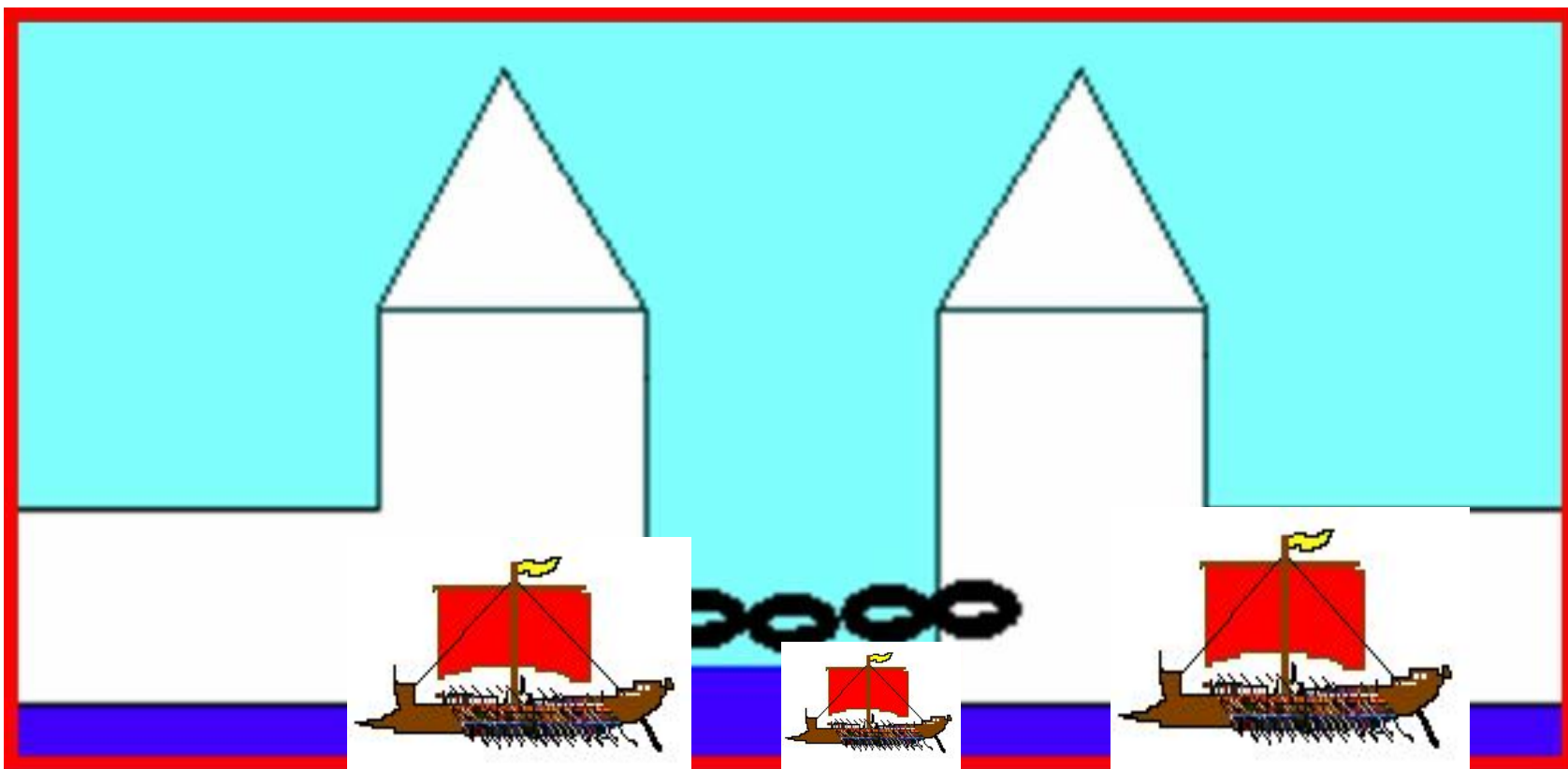
Порт Пирей находился в 5 км от Афин.

ВЫСОТОЙ ОКОЛО
10 метров



2. Военные гавани порта.

В военных гаванях находилось более 400 судов.
Вход в них надежно защищался цепями или
смоляными канатами.





3. Роль Пирея в развитии торговли Афинского государства.



**Самая большая гавань Пирея была торговой. В Греции ее называли «Ртом Афин».
? Как вы думаете, справедливо ли это? Почему?**

4. Работорговля.

Глядя на иллюстрации перечислите некоторые из работ, выполнявшихся рабами...



4.Работорговля.

Изучите документ

? Все ли свободные афиняне владели рабами?

Как оплачивали труд свободных афинян в древности-

- **За один день работы платили: каменотесам — одну драхму, морякам — треть драхмы, судьям—треть драхмы.**
- **Известно, что афинская семья из 3— 4 человек тратила на питание не менее половины драхмы в день.**

Цены на рабов и скот в Афинах 5-го века до н. э.-

- **Погонщик ослов—140 драхм. Прислужник за столом — 215 драхм. Золотых дел мастер — 360 драхм. Бык—50 драхм. Свинья—3 драхмы.**

4.Работорговля.

Рассмотрите схему управления Афинами.
? Кого кроме рабов нельзя назвать гражданами Афин?
Как вы думаете почему?



Дома: § 36 с. 167

Ответить на вопросы с 170.

Продолжить выполнение заданий в рабочей тетради по теме «Древнейшая Греция»