

ВИЗАНТИЯ **при Юстиниане**

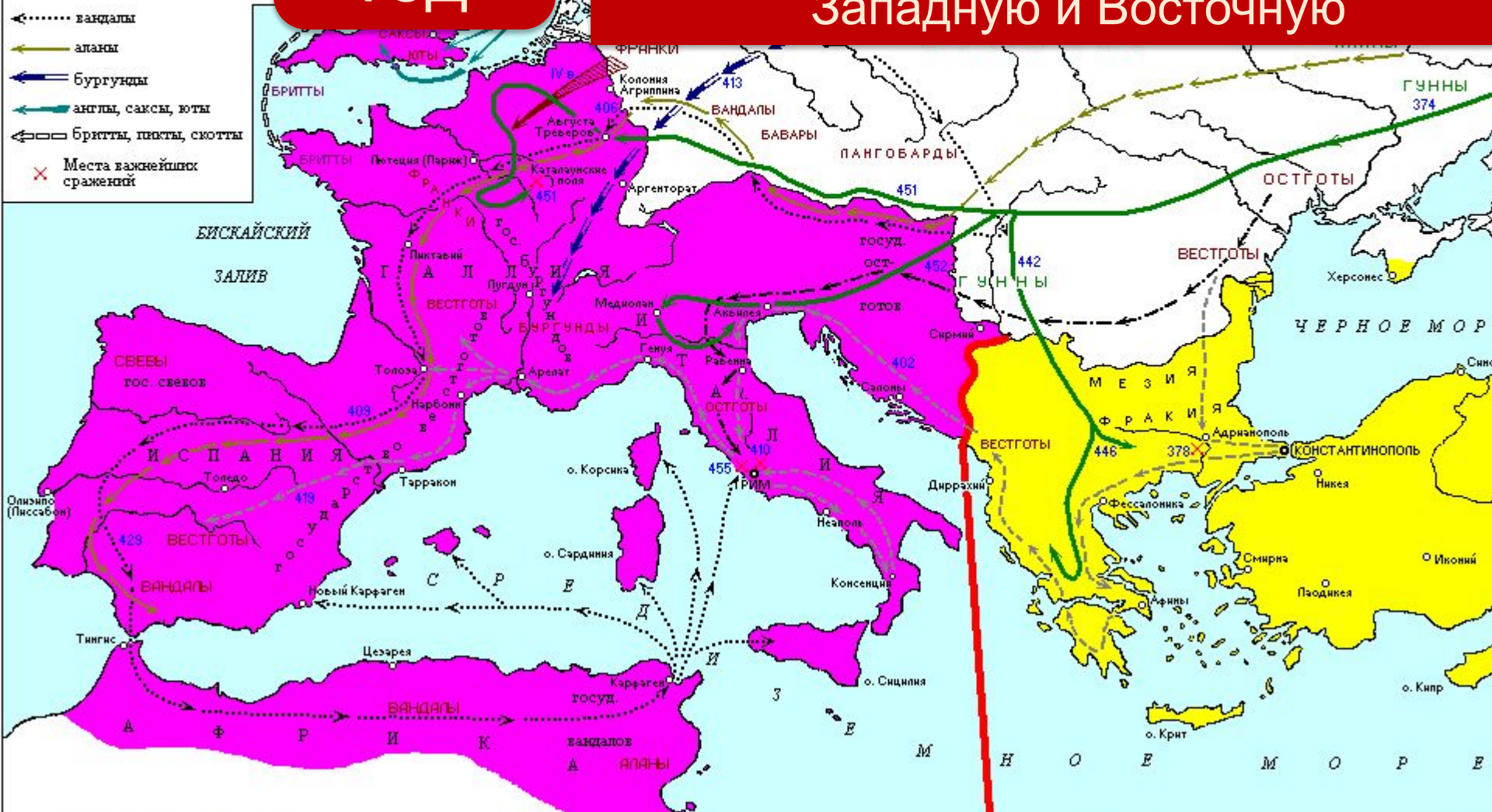
Борьба империи с внешними врагами



Разделение империи на два государства

395
ГОД

Император Феодосий разделил империю между двумя сыновьями на Западную и Восточную



476 год принято считать датой падения ЗАПАДНОЙ РИМСКОЙ ИМПЕРИИ

Если Рим пал под натиском варварских племён в 476 году, то Византия просуществовала до **1453** г., когда Константинополь был захвачен турками –

Где находится
османская
ВИЗАНТИЯ?



Особенности развития Византии

Самостоятельная работа с учебником: §6, вступление и пункт 1.

- почему Восточная Римская империя называлась Византией;
- показать и назвать территории, входившие в состав Византийской империи;
- Что значит понятие «евразийское» государство?
- Покажите на карте и назовите византийские города;
- в чём заключалось преимущество расположения Константинополя;
- Как называли империю сами жители Византии?

Особенности Византии

Устояла под натиском варварских племён

Евразийское государство

Развитые ремесла

Просуществовала как единое государство около 1000 лет

Включала в себя богатые территории

Крупные города

Сохранялась сильная власть правителя

Удобное расположение

Великая культура



- Граница Римской империи в к. IV в.
- - - Раздел Римской империи в 395 г.
- Направления вторжений:**
- - -▶ гуннов в IV-V вв.
- ▶ германских племен в IV-V вв.
- ▶ славянских племен в к. VI-VII вв.

АТЛАНТИЧЕСКИЙ ОКЕАН

СЕВЕРНОЕ МОРЕ

ГОС. СВЕВОВ

ГОС. ВЕСТГОТОВ

ГОС. ФРАНКОВ

ГОС. ВАНДАЛОВ

ГОС. ВАНДАЛОВ

ГОС. ВАНДАЛОВ

ВОСТОЧНАЯ-РИМСКАЯ ИМПЕРИЯ

СИРИЯ

ПАЛЕСТИНА

ЕГИПЕТ

СРЕДНЕЕ МОРЕ

ЧЕРНОЕ МОРЕ

БЕЛГИЯ

Париж

Ахен

Регенсбург

Тулуза

Генуя

Равена

Рим

Неаполь

Мессина

Фессалоника

Афины

Константинополь

Антиохия

Александрия

Трапезунд

о. Кипр

о. Крит

Писсабон

Тоledo

БРИТАНИЯ

САКСЫ

САКСЫ

ЭЛБИГЫ

ВАНДАЛЫ

РЕЙН

По

Вандалы

Вандалы

Вандалы

Вандалы

Дунай

Дунай

Дунай

Дунай

Дунай

Дунай

Дунай

Дунай

Дунай

Дунай

Дунай

Дунай

Дунай

Дунай

Дунай

Дунай

Дунай

Дунай

Дунай

Дунай

Дунай

Дунай

Дунай

Дунай

Дунай

Дунай

Дунай


Дунай

Дунай

Дунай

Дунай

Западные источники на протяжении большей части византийской истории именовали Византию «империей греков» из-за преобладания в ней греческого языка, эллинизированного населения и культуры. В Древней Руси Византию обычно называли «Греческим царством», а её столицу —



Государственное устройство Византии


- Форма правление – монархия
- Император (монарх)
 - **ВАСИЛЕВО МОГ:**
 - Конфисковать их имущество
 - Смещать и назначать на должность
 - Издавать законы;
 - Быть высшим судьей
 - Руководить армией
 - Определять внешнюю политику страны



Государственное устройство Византии

- Власть императора не была наследственной
- Избранника поднимали по римскому обычаю на щите.
- Позже родилась традиция венчания на царство патриархом.
- Часто императорский трон захватывался

переворотом. **Византийский император**
с 1 августа 527 и до своей смерти в
565 году Сам Юстиниан в указах
называл себя *Цезарем Флавием*
Юстинианом Аламанским, Готским,
Франкским, Германским, Антским,
Аланским, Вандальским,
Африканским



Юстиниан

мозаика
в церкви в
Равенне



**Прокопий
Кесарийский**

**« Юстиниан мог
тихим и ровным
голосом приказать
перебить десятки
ни в чём не
повинных людей»**

**Как это высказывание
характеризует
Юстиниана?**

Дайте характеристику личности Юстиниана



Юстиниан
(527-565)

**Пользуясь учебником
ответьте на вопросы:**

- ***Цели, которые ставил перед собой Юстиниан***
- ***Наиболее важные факты деятельности***
- ***Ваша оценка данного исторического***

Византия



Войны Юстиниана

Век	Противники Византии	Чем закончилось столкновение
	Славяне	
	Вестготы в Испании	
	Вандалы в Северной Африке	
	Остготы в Италии	
Середина IX в.	Северное Причерноморье	Возвращение берега Крыма
	Персы в Иране	

Домашнее задание



Византийская империя в VI—XI вв.



Определите, на какой карте показана территория империи в середине VI в., в середине IX в., в середине XI в.

- Параграф 6 - устно
- Прочтите пункт 5 параграфа и выполните задание к картам ПИСЬМЕННО.
- Укажите – почему вы сделали такой ВЫВОД.