

ВВЕДЕНИЕ В КУРС ИСТОРИИ ДРЕВНЕГО МИРА

5 класс

ЗАНЯТИЕ 1



**ИСТОРИЧЕСКИ
Е
ИСТОЧНИКИ**

?

?

?

```
graph TD; A[ИСТОРИЧЕСКИЕ ИСТОЧНИКИ] --- B[ВЕЩЕСТВЕННЫЕ]; A --- C[ПИСЬМЕННЫЕ]; A --- D[УСТНЫЕ];
```

**ИСТОРИЧЕСКИ
Е
ИСТОЧНИКИ**

**ВЕЩЕСТ-
ВЕННЫЕ**

ПИСЬМЕННЫЕ

УСТНЫЕ

**ЗАДАНИЕ: КАКИЕ ИЗ ЭТИХ
ИСТОРИЧЕСКИХ
ИСТОЧНИКОВ
ВЕЩЕСТВЕННЫЕ, А КАКИЕ
- ПИСЬМЕННЫЕ ?**





Handwritten text in an ancient script, likely Egyptian hieroglyphs, arranged in vertical columns on a narrow strip of material. The script is densely packed and spans the entire length of the strip. The strip is oriented vertically, with the text running from top to bottom. The material appears to be a fragment of a larger document, possibly a scroll or a tablet, with some wear and tear visible at the edges. The background is a plain, light color, which makes the dark, stylized characters of the script stand out. The columns are separated by thin, dark lines, suggesting a structured layout of the text. The overall appearance is that of a well-preserved but narrow fragment of an ancient manuscript.



Handwritten text in an ancient script, possibly Sumerian or Akkadian, located at the top of the tablet.

Handwritten text in an ancient script, located in the upper middle section of the tablet.

Handwritten text in an ancient script, located in the upper right section of the tablet.

Handwritten text in an ancient script, located in the middle left section of the tablet.

Handwritten text in an ancient script, located in the middle right section of the tablet.

Handwritten text in an ancient script, located on the left side of the tablet.



Handwritten text in an ancient script, located in the upper right section of the tablet.

Handwritten text in an ancient script, located on the left side of the tablet.


Handwritten text in an ancient script, located in the lower middle section of the tablet.

Handwritten text in an ancient script, located in the lower middle section of the tablet.

Handwritten text in an ancient script, located in the lower right section of the tablet.

Handwritten text in an ancient script, located at the bottom left of the tablet.

1.





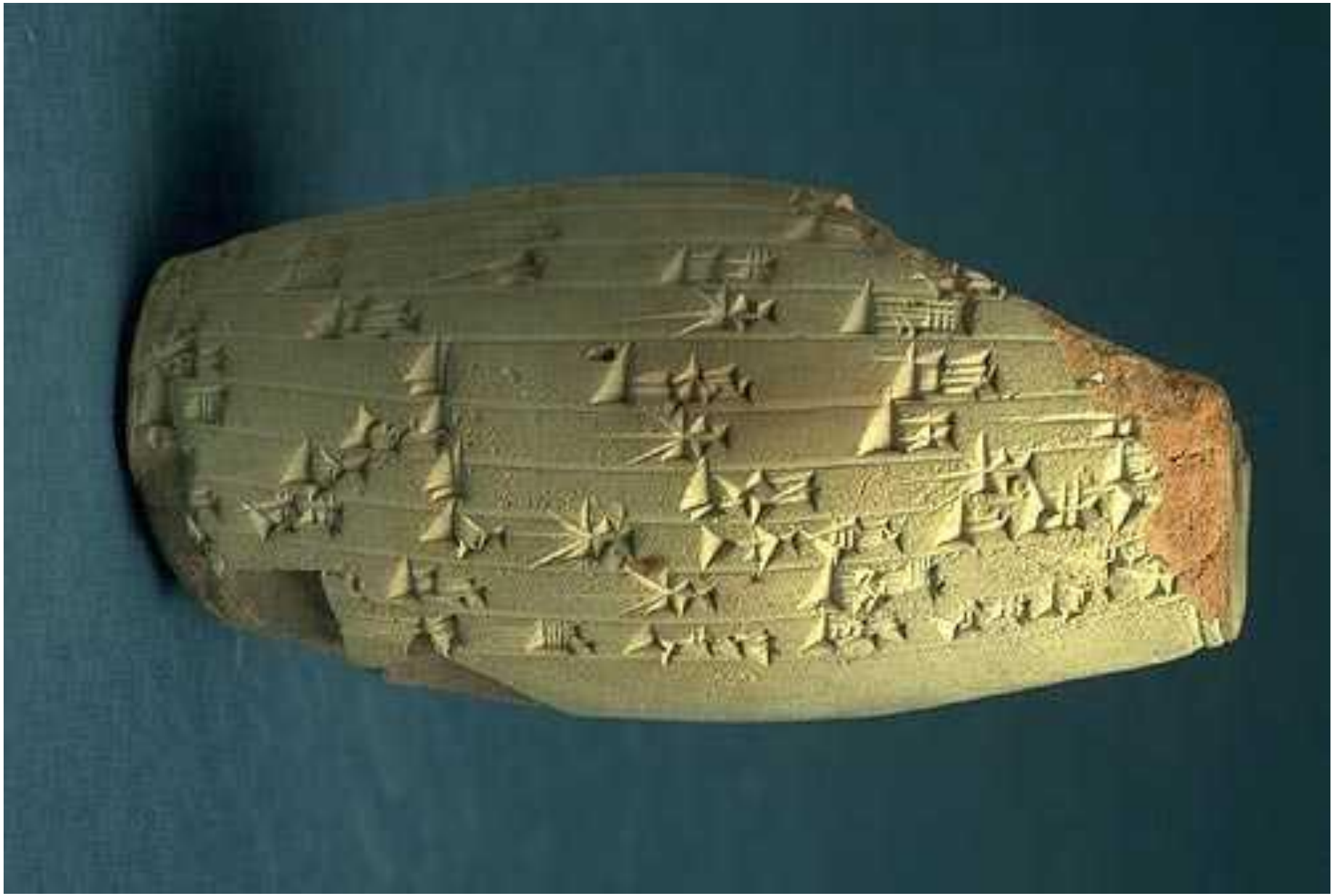


Vertical column of hieroglyphs on the left side of the page.

Horizontal column of hieroglyphs located below the illustration.



Vertical column of hieroglyphs on the right side of the page.



ВОПРОС:

**ЧЕМ ПИСЬМЕННЫЕ ИСТОЧНИКИ
ОТЛИЧАЮТСЯ ОТ УСТНЫХ?**

ЗАДАНИЕ: РАСТРЕДЕЛИТЕ ЭТИ ИСТОРИЧЕСКИЕ ИСТОЧНИКИ ПО ТРЁМ ВИДАМ (ВЕЩЕСТВЕННЫЕ, ПИСЬМЕННЫЕ, УСТНЫЕ):

- 1. ГРЕЧЕСКАЯ МОНЕТА**
- 2. ЛЕГЕНДА О СОЗВЕЗДИИ МАЛАЯ МЕДВЕДИЦА**
- 3. СКИФСКИЙ МЕЧ (АКИНАК)**
- 4. ГЛИНЯНАЯ ТАБЛИЧКА С ПИСЬМЕНАМИ ИЗ МЕЖДУРЕЧЬЯ**
- 5. МИФЫ НАРОДОВ АФРИКИ**
- 6. ДРЕВНЕЕГИПЕТСКИЙ ПАПИРУС С ИЕРОГЛИФАМИ**
- 7. ДРЕВНЯЯ КРЕПОСТЬ В ИТАЛИИ**
- 8. НАДПИСИ НА КАМНЯХ**
- 9. СКАЗАНИЕ О ГИЛЬГАМЕШЕ**
- 10. ПЕСНИ ДРЕВНИХ ИНДИЙЦЕВ**

КЛЮЧ (ОТВЕТЫ):

ВЕЩЕСТВЕННЫЕ: **1, 3, 7.**

ПИСЬМЕННЫЕ: **4, 6, 8.**

УСТНЫЕ: **2, 5, 9, 10.**

**ПРИВЕДИТЕ ПРИМЕРЫ
ПИСЬМЕННЫХ, УСТНЫХ И
ВЕЩЕСТВЕННЫХ
ИСТОЧНИКОВ**

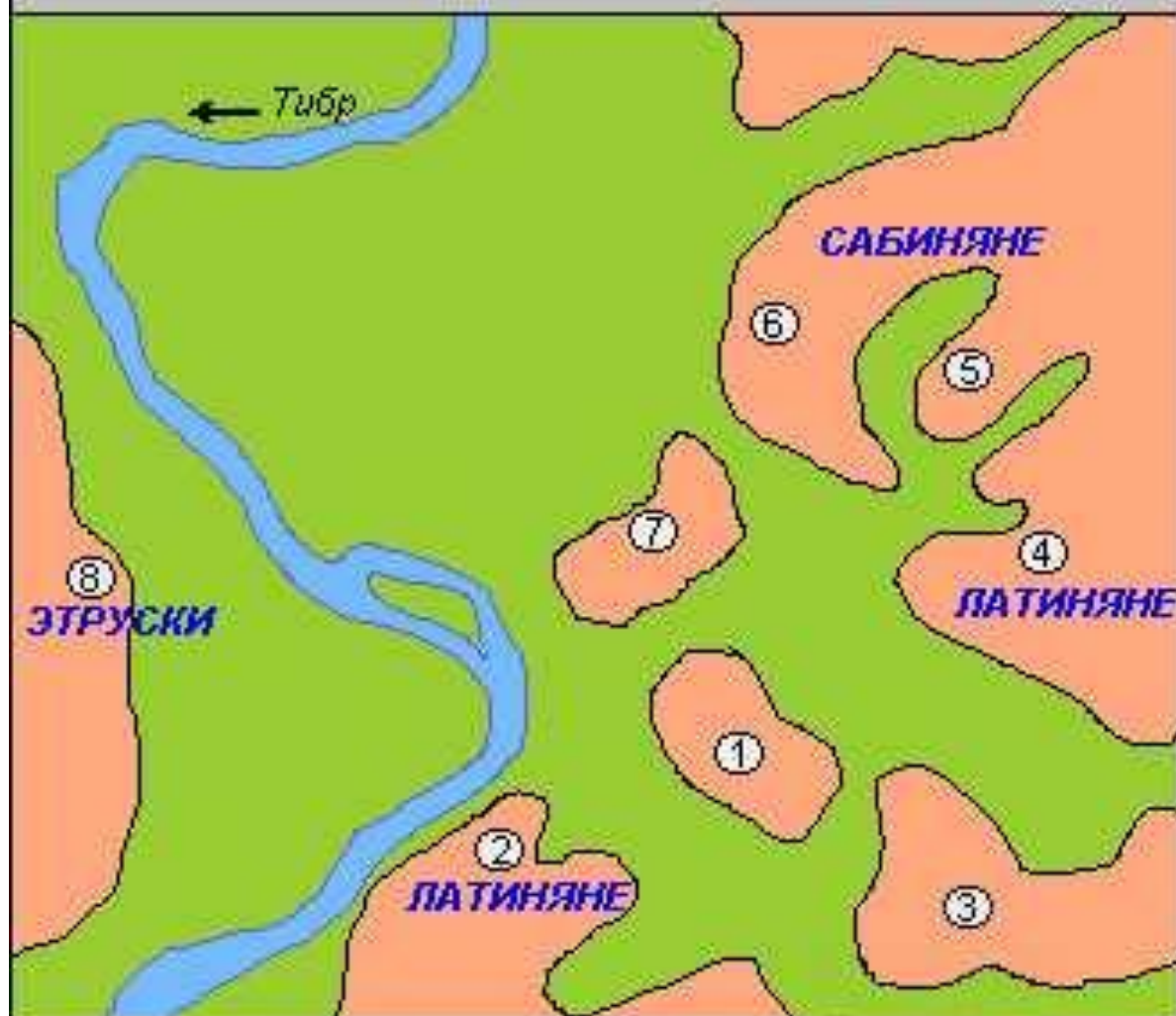
**ИСТОРИЧЕСКАЯ КАРТА – кусок бумаги,
на котором изображены города, реки,
места жительства народов, места битв
и другие условные обозначения.**

Финикийские колонии около 550 до н.э.



берега, колонизированные финикийцами

РИМСКИЕ ХОЛМЫ



1. Палатин (51м)
2. Авентин (46м)
3. Целий (48м)
4. Эсквилин (58м)

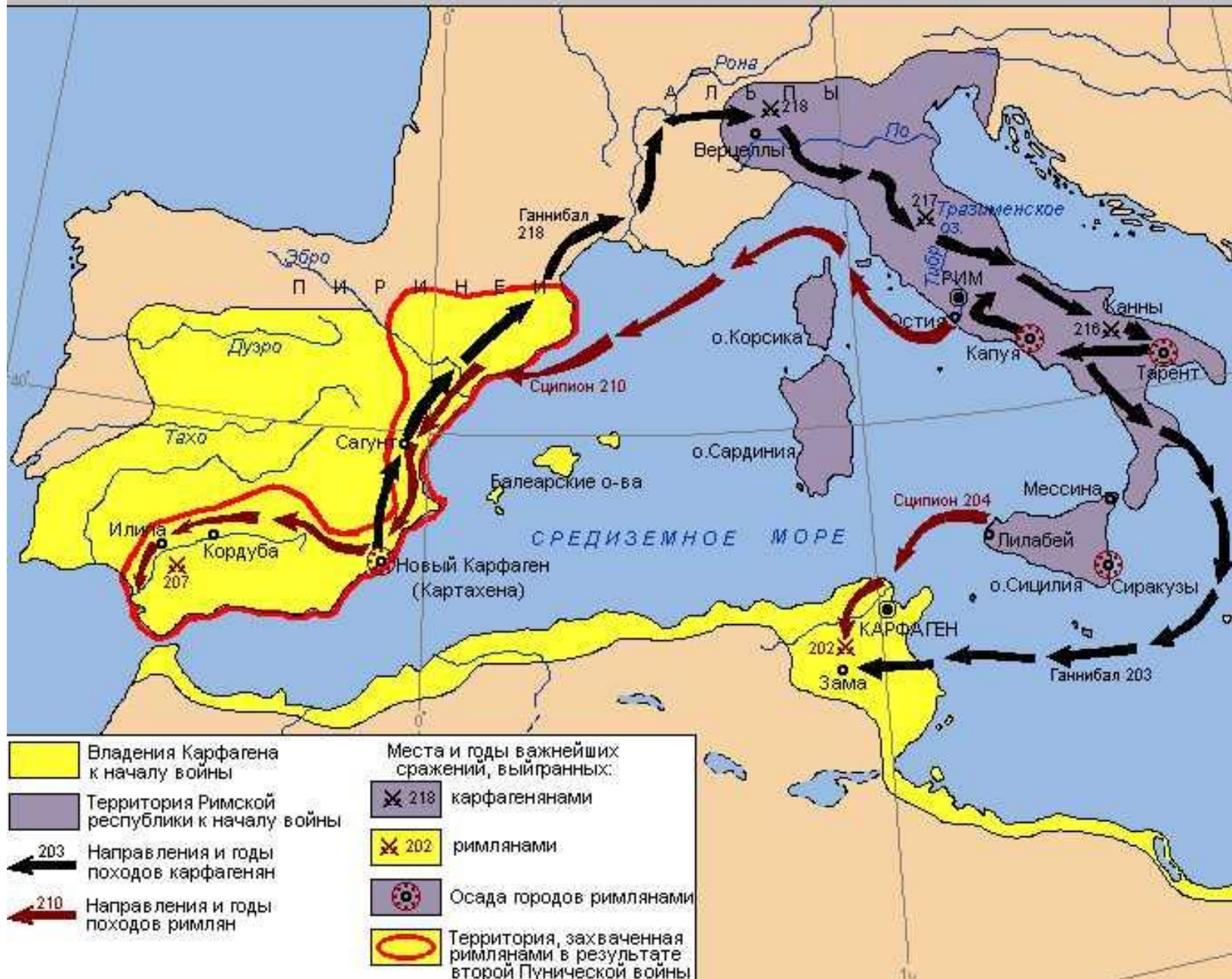
5. Виминал (54)
6. Квиринал (69м)
7. Капитолий (49м)
8. Яникул (85м)

ORBIS TERRAE COMPENDIOSA DESCRIPTIO

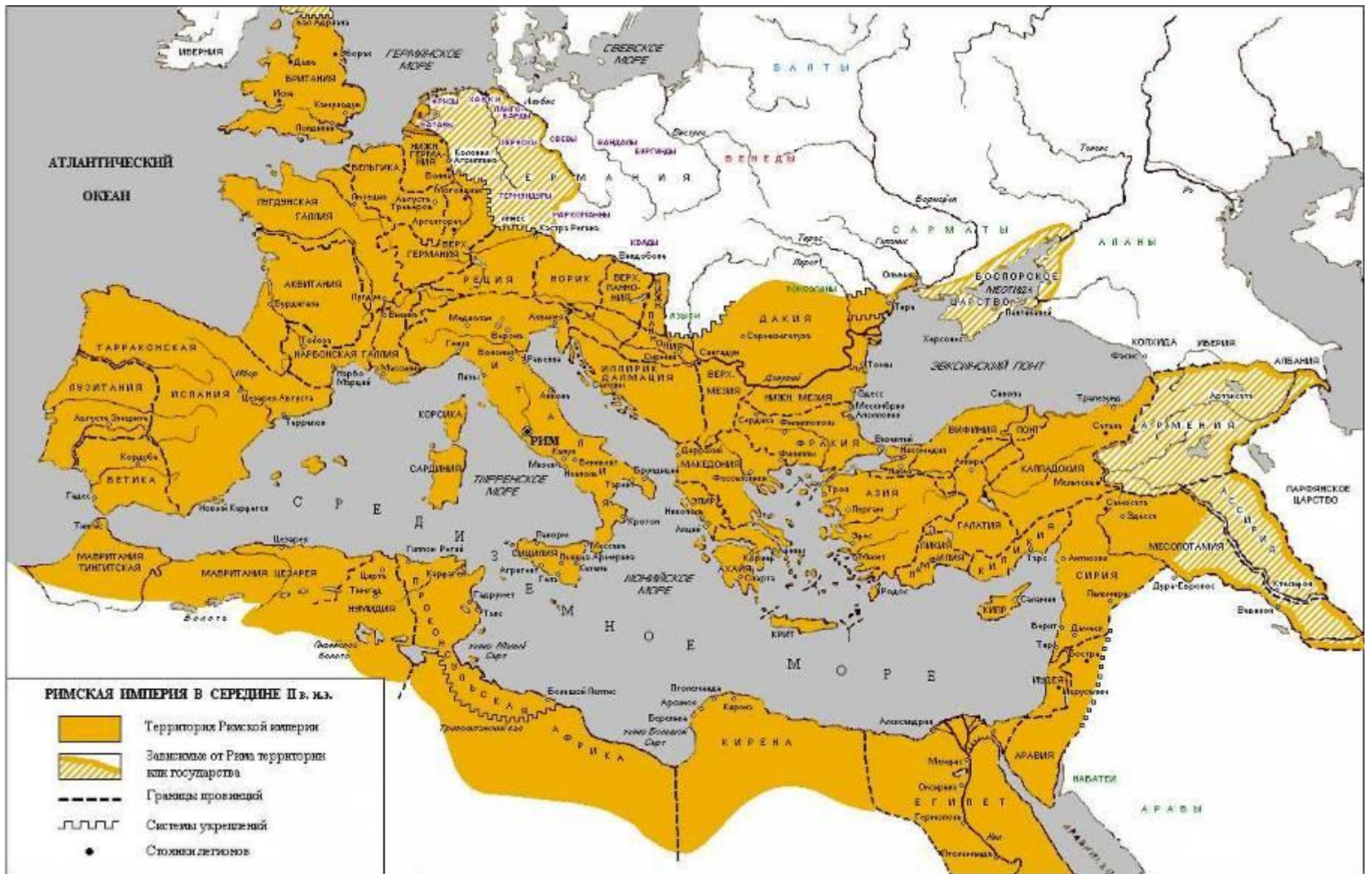
Quaerens Magna Visibili Gerardi Mercatoris Thomae Richardo Gualtero Geographiae ac Cosmographiae honorario artium magistro ac Antonio Vallerio, in artebus mathematicis ac Cosmographicis ingenio et Bonifacio Mercatore filio curavit. A. M. D. LXVII.



ВТОРАЯ ПУНИЧЕСКАЯ ВОЙНА 218 - 201 гг. до н.э.



- | | |
|---|---|
| <ul style="list-style-type: none"> Владения Карфагена к началу войны Территория Римской республики к началу войны 203 Направления и годы походов карфагенян 210 Направления и годы походов римлян | <p>Места и годы важнейших сражений, выигранных:</p> <ul style="list-style-type: none"> X 218 карфагенянами X 202 римлянами X Осада городов римлянами O Территория, захваченная римлянами в результате второй Пунической войны |
|---|---|



ДОМАШНЕЕ ЗАДАНИЕ:

ПРОЧЕСТЬ ВВЕДЕНИЕ В УЧЕБНИКЕ

ПРИДУМАТЬ ПО 5 ПРИМЕРОВ
ВЕЩЕСТВЕННЫХ, ПИСЬМЕННЫХ И
УСТНЫХ ИСТОЧНИКОВ

ПРИБРЕСТИ АТЛАС ИСТОРИИ
ДРЕВНЕГО МИРА