

Буквы ф, Ф, обозначающие согласные звуки.

Учитель начальных классов
Коренева Елена Викторовна

Говори наоборот

- Весёлый –
- Быстрый -
- Трудолюбивый -
- Тяжелый -
- Белый-
- День -
- Радость -

скороговорка

**У филина Фили
Два филинёнка —
Филька и
Филимонка.**

**проговорить таинственной
интонацией,
шёпотом,
заяц-хвастун**

Знакомство с буквой ф.

Филин в книжку залетев,
Притворился буквой Ф.

Федя ходит руки в боки.
Значит, выучил уроки.



То




Флот плывет к родной земле.
Флаг на каждом корабле.

Чтение слогов и слов.

фа	фар	раф	филин	фармацевт
фо	фор	роф	фиалка	фокусник
фу	фир	риф	факир	фрикадельки
фе	фур	руф	флаги	форель
фи	фыр	рыф	ферма	фотограф
фы	Фёдор	Фатима	Фарида	Федот

Φ φ



Сарафан - это



Шкаф - это



Запись предложений.

На каждом корабле есть флаг.

Русский флот ходит под Андреевским флагом.



Словарные слова.



факел

фонарь

фонтан

асфальт

фабрика

фанера

конфета

картофель

фигура

Спасибо за урок!



Прочитай слоги

Па – по – пу – пы – пэ

Пя - пё – пю – пи – пе

Та – то – ту – ты – тэ

Тя – тё – тю – ти - те

Прочитай слова с мягким знаком

- **Польза, царь, колыбель,
кольцо, Мальвина, борьба,
соль**

Прочитай слова без мягкого знака

**Полза, цар, колыбел,
колцо, Малвина, борба,
сол**

Прочитайте слова

- **Пальчик, друзья, крыльцо, отъезд, подъем, осенью**

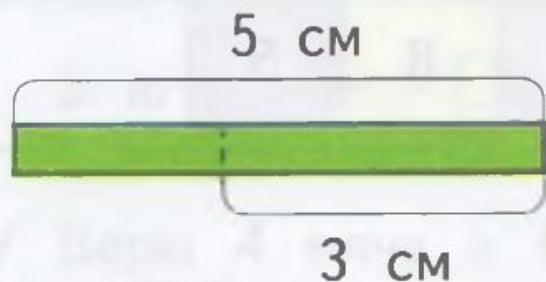
Какие слова вызвали затруднения при чтении?

Гномики красят дорожку в разные цвета. Измерь в сантиметрах длину каждого участка дорожки. Узнай длину всей дорожки.

$$\square \text{ см} + \square \text{ см} + \square \text{ см} = \square \text{ см}$$




- 2 От бумажной полоски длиной 5 см девочка отрезала кусок 3 см. Найди длину оставшейся части полоски.



$$\square \text{ см} - \square \text{ см} = \square \text{ см}$$

- 3 К бумажной полоске длиной 5 см девочка приклеила кусок длиной 3 см. Найди длину получившейся полоски.




$$\square \text{ см} + \square \text{ см} = \square \text{ см}$$

У клоуна 5 колец, 3 мяча и 9 булав.

1. На сколько больше колец, чем мячей?
2. На сколько меньше мячей, чем булав?
3. На сколько меньше колец, чем булав?

6 Найди массу каждого бочонка с мёдом.



$$\square \text{ кг} + \square \text{ кг} - \square \text{ кг} = \square \text{ кг}$$



$$\square \text{ кг} + \square \text{ кг} + \square \text{ кг} - \square \text{ кг} = \square \text{ кг}$$

- Я знаю ...
- Я запомнил/запомнила ...
- Я смог/смогла ...