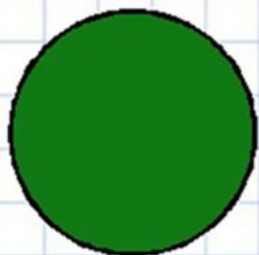


Проверочная работа № 1 по  
теме: «Сравнение предметов и  
групп предметов.

Пространственные и  
временные представления» 1  
класс

Цель работы – выявление умения  
решать простые учебные и  
практические задачи по математике с  
опорой на полученные знания и  
умения:


Задания будем оценивать так:



***Мне все понятно.  
Я молодец!***



***У меня не всё  
получилось, но я  
старался!***



***Мне надо быть  
внимательнее!***



1. Нарисуйте рядом столько же кругов.



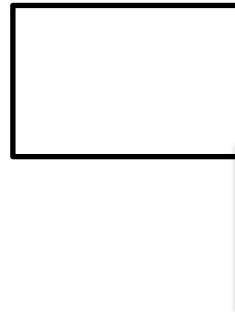

2. Нарисуйте рядом треугольников на 1 меньше, чем медведей.



3. Нарисуйте рядом квадратов на 1 больше, чем зайчиков.



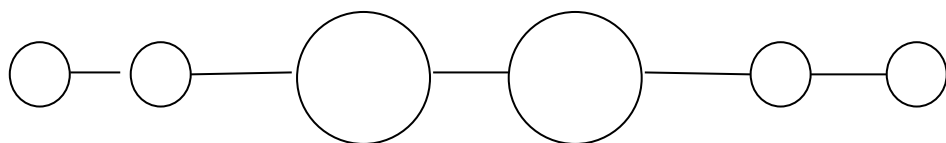
4. Раскрасьте флажок, который  
направлен вправо:



5. Кого больше: рыбок или котят? (При выполнении данного задания дети соединяют стрелочками пару: рыбка - кот, а «лишний» предмет обводят кружком.)




6. Продолжите рисунок, соблюдая правило:







Задание № 7 Здесь нарисовано  
семь чашек.



Задание № 8 Елка растёт с  
правой стороны от домика.



Задание № 9 Предметы, которых больше,  
раскрась красным цветом.



Задание № 10 Нарисуй столько снежков, чтобы их было меньше, чем снежинок.



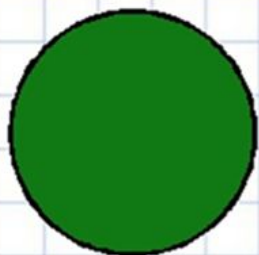
Задание № 11 Одна ягода земляники ещё зелёная, а остальные уже красные.  
Раскрась ягоды.




# Итог урока

- – Что особенно понравилось?
- – Что бы вы хотели выполнить ещё?
- - Оцените свою работу.


# Рефлексия



**Мне все понятно.  
Я молодец!**



**У меня не всё  
получилось, но я  
старался!**



**Мне надо быть  
внимательнее!**

