

**Математика**

**1- В класс**

**Увеличилось**

---

**или**

---

**уменьшилось?**



---

0



---

$$0 + 3 = 3$$



$$3 + 2 = 5$$



$$5 - 1 = 4$$

Увеличить

прибавить, +

Уменьшить

вычесть, -

Что нужно сделать, чтобы на каждой ёлке стало **6** игрушек?

The image shows three Christmas trees on a green background. The first tree on the left is decorated with 8 yellow stars. Below it is a box containing 4 red circles and 2 blue circles. The second tree in the middle is decorated with 3 blue hearts and 3 yellow hearts. The third tree on the right is decorated with 10 orange stars.



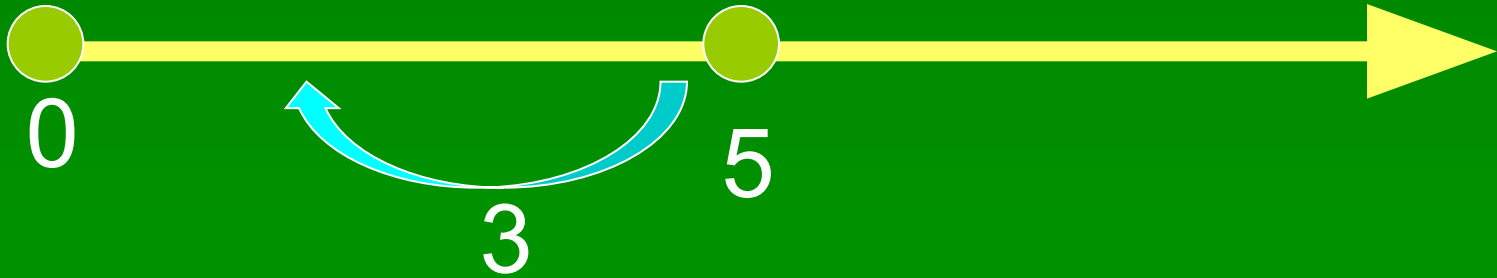

$8 - 2 = 6$

$4 + 2 = 6$

$3 + 3 = 6$

$10 - 4 = 6$





Увеличить

прибавить, +

Уменьшить

вычесть, -



**физминутка для**

**глаз**



Сова поставила на стол 6 красных чашек и 2 жёлтых.



- Какая схема подходит?



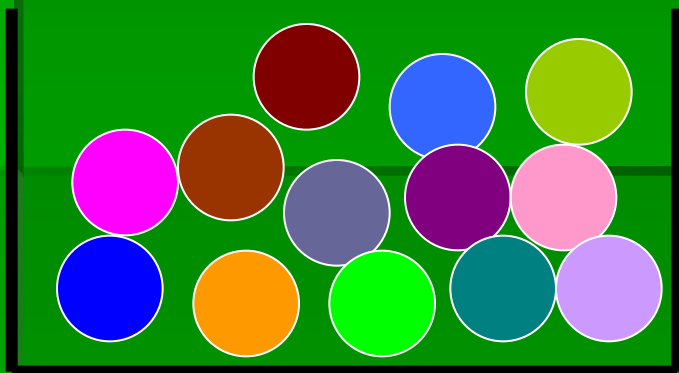
Сова вымыла 8 чашек, но 2 из них разбила. Увеличилось или уменьшилось количество чашек?



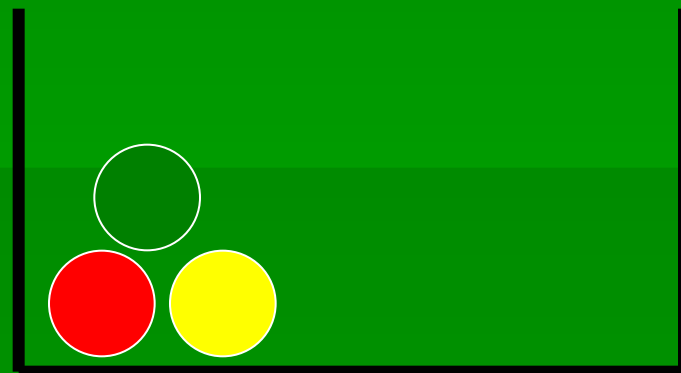
- Какая схема подходит?



**«Разложи» мячи так, чтобы в каждой коробке было 8 мячей.**



$$13 - 5 = 8$$



$$3 + 5 = 8$$

*Подведём итоги:*



**Я  
УМЕЮ!**



**Я  
УМЕЮ.**



**Я  
УМЕЮ?**



**М**

**О**

**Л**

**О**

**Д**

**Ц**

**Ы**

**!**

