



Автор: Носкова Марина
Александровна
Учитель начальных классов
МБОУ СОШ № 2
города Верещагино


$$7+5= 12$$

$$14-7= 7$$

$$12-6= 6$$


$$8+8= 16$$

$$5+9= 14$$

$$11-5= 6$$

$$9+9= 18$$

$$14-9= 5$$



Миша прочитал 15 книг, а Юра – 8 книг. На сколько больше книг прочитал Миша, чем Юра?


Задача.

$$15 - 8 = 7(\text{к.})$$

Ответ: на 7 книг

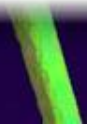
физминутка





Начерти отрезок длиной 8
сантиметров.

Второй отрезок начерти
на 3 сантиметра
меньше.





9


$$(16-7)+4= 13$$

6

$$10+(11-5)= 16$$

5

$$14-(12-7)= 9$$



На одной ветке сидело 8 синиц, а на другой ветке на 3 синички меньше.

Придумай вопрос, чтобы задача решалась в 2 действия
Сколько всего синиц сидело на ветках?

Задача.

$$(8-3)+8=13(\text{с})$$

Ответ: 13 с.

$$1) 8-3=5(\text{с})$$

$$2) 8+5=13(\text{с})$$

