

Математика 1 класс

Кимүче. Киметүче. Аерма.

Нургалиева Раушания Мирхәтим кызы
Баулы районы Татар Кандызы урта мәктәбе
башлангыч сыйныф укытучысы

$$5 - 1 =$$



Кайсы рәсемгә туры
килә

$$5 - 2 =$$



$$5 - 3 =$$



$$5 - 4 =$$



Бүлмэлэрне тутыр



5	
	2
3	
	4
1	





4	
3	
2	
	4







3	
	2
1	

9 булсын өчен һәр юлга ничэ рәсем өстэргэ ?




« < », « > » яки « = » тамгалары куй





Бу мисаллар кайсы
рәсемгә туры килә



$7-1=$

$4+2=$

$1+5=$

$6+1=$


$6-1=$

$3+4=$

$7-4=$


$7-5=$

$2+5=$






$$5 - 3 = 2$$



КИМУЧЕ



КИМЕТУЧЕ



АЕРМА

Кимүче 9

Киметүче 4

Аерма ?

$$9 - 4 = 5$$



$$6 - 4 = 2$$

$$6 - 2 = 4$$



«+» яки «-» тамгалары куй

$$10 \ominus 2 \oplus 1 = 9$$



$$5 \oplus 4 \ominus 9 = 10$$



$$9 \oplus 1 \ominus 3 = 5$$




$$\oplus 2 \ominus 1 = 10$$



$$7 \oplus 3 \ominus 1 = 9$$



$$5 - 3 = 2$$



КИМУЧЕ



КИМЕТУЧЕ



АЕРМА



Игътибарыгыз өчен РӘХМӘТ!

