


УСТНЫЙ СЧЕТ

В

1 классе

Составила работу
учитель начальной школы
Пронина Любовь Алексеевна





Ребята, помогите
сосчитать
девочек.





Сосчитай
от 2 до 10.

Сосчитай
от 3 до 9

Сосчитай
от 10 до 4.





1 2 3 5 8 9 10

1 3 4 6 8 10

1 2 5 8 10






$$2+3=5 \quad 3+5=8$$

$$6-4=2 \quad 5-4=1$$

$$7+2=9 \quad 9-5=4$$




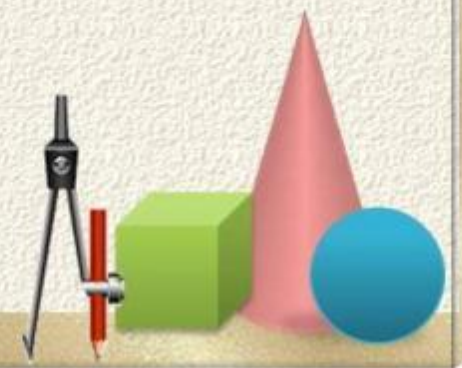
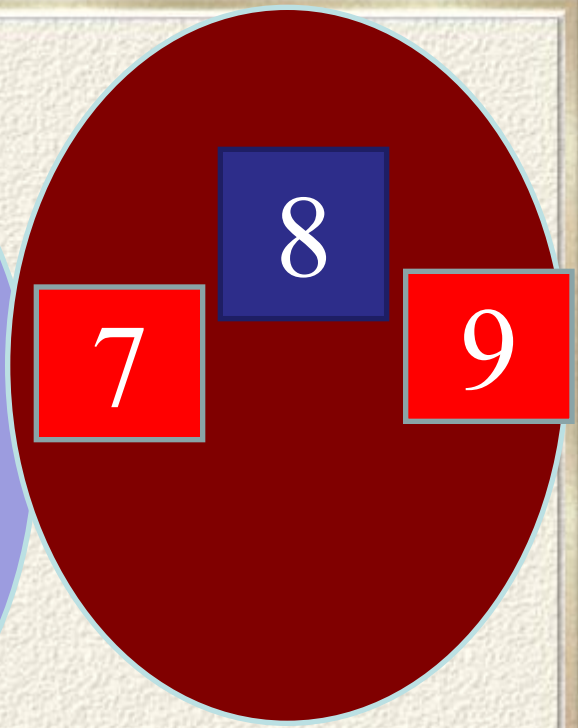
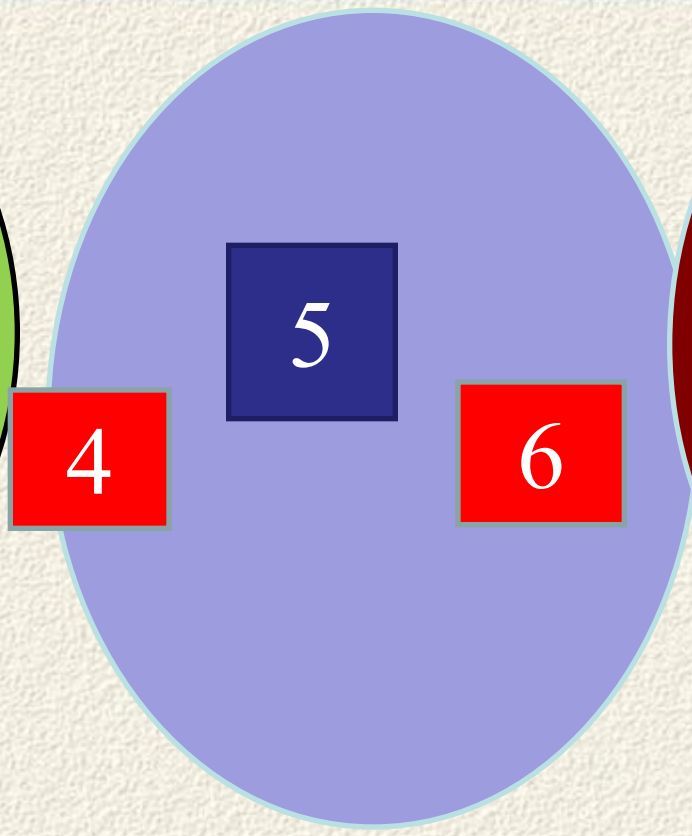
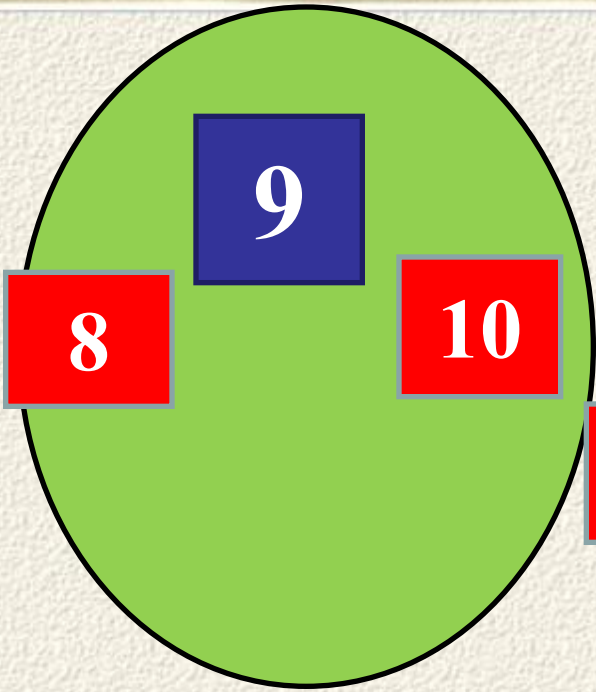
Устав групповой работы:

- **Уважай своего товарища.**
- **Умей каждого выслушать.**
- **Не согласен – предлагай.**

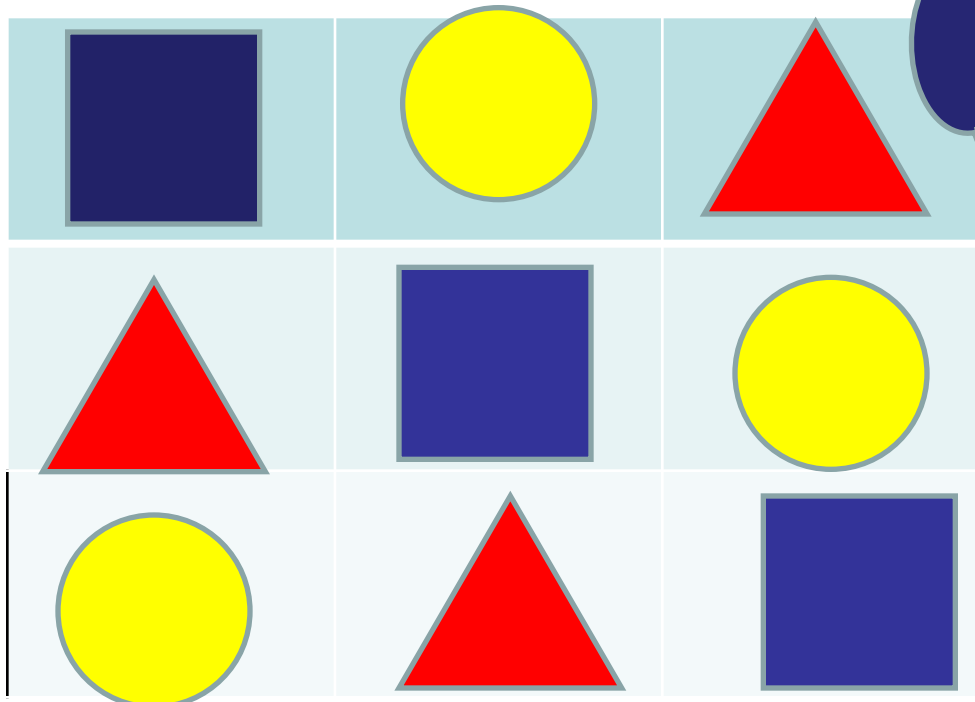


1 2 4 5 8 9





Каких
фигур
мне не
хватает?





FRAME BABY

**Мы делили апельсин.
Много нас, а он один.
Эта долька – для ежа,
Эта долька – для чижа,
Эта долька – для утят,
Эта долька – для котят,
Эта долька – для бобра,
А для волка – кожура!**



Сколько долек?






Нулевой километр – во многих странах мира особый знак в центре столицы, символизирующий начальную точку отсчёта дорожных расстояний.




$$a+0=a$$




$$0 + a = a$$



$$a-0=a$$



$$a - a = 0$$




$$a+0=a$$

$$0+a=a$$

$$a-0=a$$


$$a-a=0$$



Ж И А Р Ф



Ж И Р А Ф



НОЛС



СЛОН



ЛОВК



ВОЛК



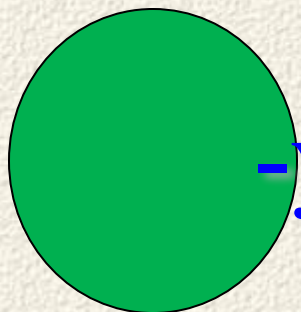
ЛОТС



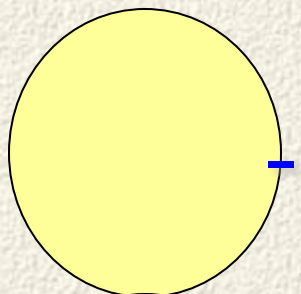
СТОЛ



Оцени свою работу на уроке



- у меня всё получилось



- я испытываю затруднения



- я ничего не понял





Вы молодцы!
Желаю удачи
вам!

