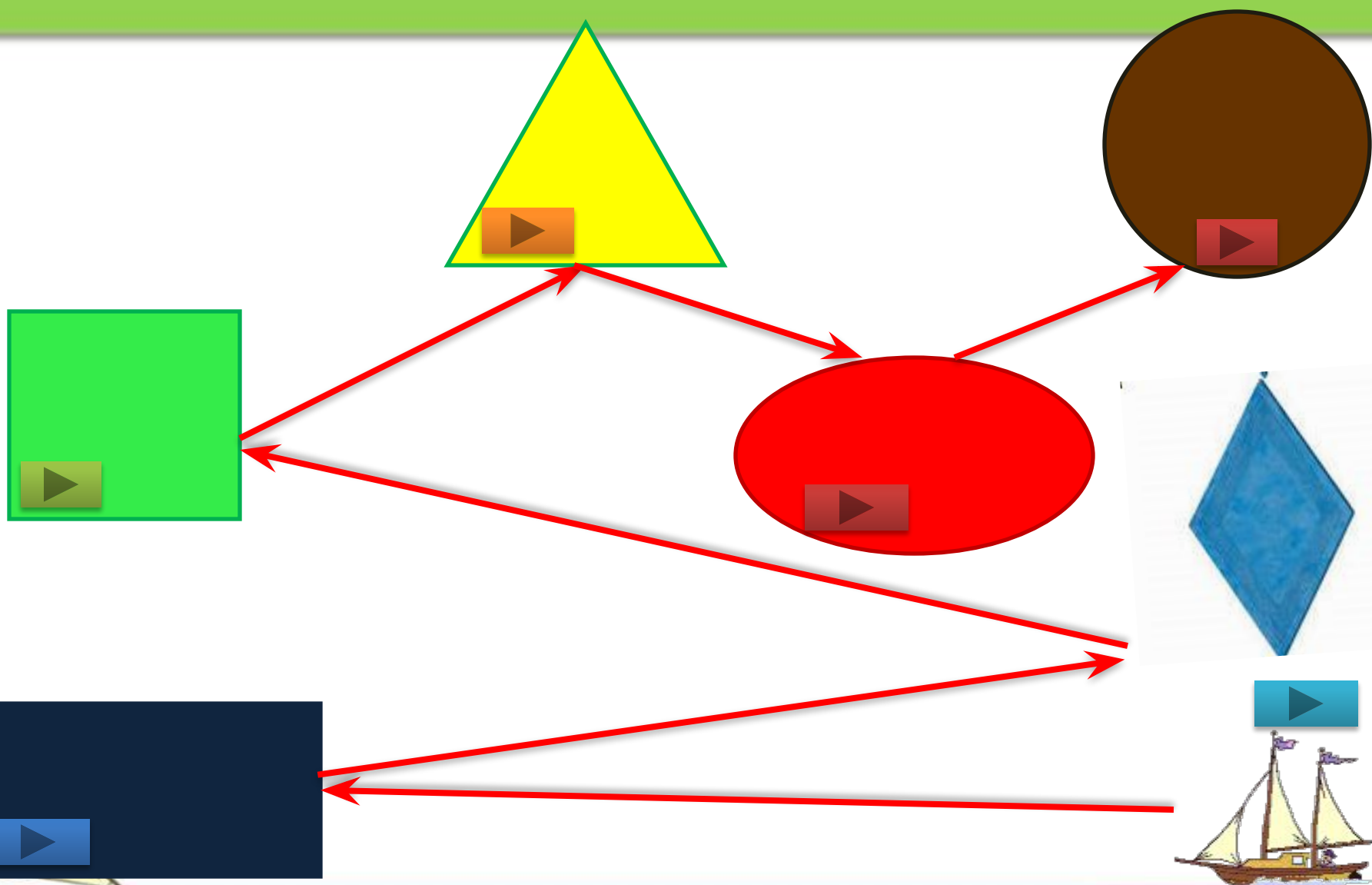




**Путешествие
в страну
«Математика»**



Карта страны «МАТЕМАТИКА»



Составь задачу



$$3 + 2 = 5$$

Р 1 а

Род

П О



под

и на

40



1 000

вал












сор

ст

Найди недостающие кораблики





Выбери правильный

7 воробьев ответ спустились на
грядки,
Скачут и что - то клюют без
оглядки.

Котик - хитрюга внезапно
подкрался,
Мигом схватил одного и умчался.

Вот как опасно клевать, без
оглядки!

Сколько теперь их осталось в
грядке?



0

6

5

Выбери правильный

ответ

Дед, баба, внучка, Жучка, кошка и мышка тянули-тянули репку и, наконец, вытянули. Сколько глаз смотрело на репку?

10

12

8





Найди правильный ответ

 $3 + 2 = 3$

$4 - 1 = 9$

$7 + 2 = 7$

$10 - 3 = 5$ 

Что больше ?

>

9

>

7

<

1

<

5

10

>

4

2

<

6





Найди соседей числа



0

8

2

1

5

3

4

2


6

7

1

9





СПАСИБО!

