

Урок математики


1 класс

Тема урока: « $\blacksquare + 4, \blacksquare - 4.$
Приёмы вычислений»

Учебник «Математика», часть 2.
Страница 8

Автор: Давидович Светлана Адамовна
учитель начальных классов
ГБОУ СШ № 3 им. С.П.Королева
города Байконур

Сравни



Чем похожи? Чем отличаются? Что можно сказать о количестве фигур?

Запиши число, которое на 1 меньше 5.

Запиши число, которое на 2 меньше, чем 3.

Запиши число, которое на 4 больше 3.

Запишите число, которое на 3 меньше, чем 6.

Запишите число, которое на 1 меньше 7.

Запишите число, которое получится, если сложить 3 и 3.

Запишите число, которое получится, если сложить 7 и 2.

Запишите число, которое получится, если сложить 6 и 2.

Запишите число, которое получится, если 4 увеличить на 3.

Запишите число, которое получится, если 6 увеличить на 3.

4, 1, 7, 3, 6, 6, 9, 8, 7, 9.

Реши задачи.

1. Галя нарисовала 5 бабочек, а Таня на 3 бабочки меньше. Сколько бабочек нарисовала Таня?

$$5 - 3 = 2$$

2. Во дворе гуляла Таня. К ней пришли 2 мальчика и 3 девочки. Сколько девочек стало во дворе?

$$1 + 3 = 4$$

3. На ветке 9 птичек. 6 птичек улетели. Сколько птичек осталось сидеть на ветке?

$$9 - 6 = 3$$

4. Мама купила 4 шара двух цветов. Красных шаров было больше, чем голубых. Сколько шаров каждого цвета купила мама?

3 красных и 1 голубой



Проверка индивидуальных заданий

Изучение нового материала



$$4 = 2 + 2$$

$$4 = 3 + 1$$

$$4 = 1 + 3$$



Мама приготовила котлеты. 6 котлет уже жарятся на сковороде, а 4 ещё лежат на дощечке. Объясните, как можно к 6 прибавить 4.



$$6 + 4 = 10$$

$$\underline{6 + 2 + 2} = 10$$


$$6 + 4 = 10$$

$$\underline{6 + 3 + 1} = 10$$

$$6 + 4 = 10$$

$$\underline{6 + 1 + 3} = 10$$

В вазочке было 10 конфет. 4 конфеты съели.
Объясните, как из 10 можно вычесть 4.



$$\frac{10 - 4 = 6}{}$$

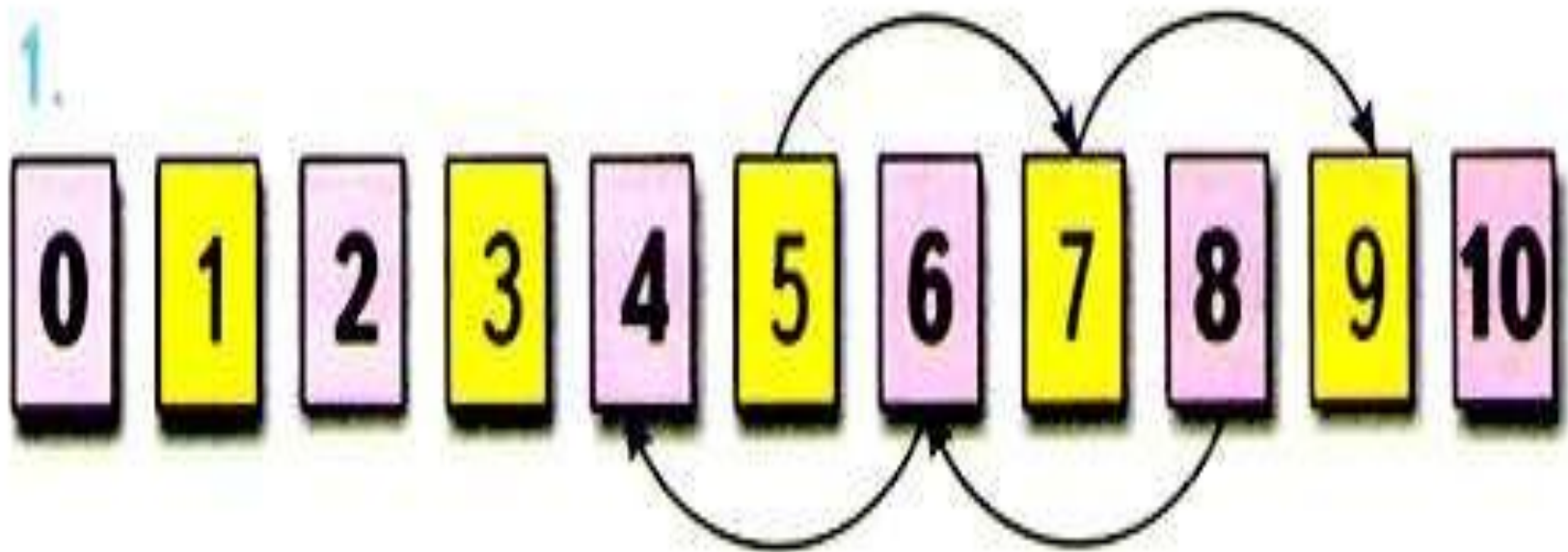
$$10 - 2 - 2 = 6$$

$$\frac{10 - 4 = 6}{}$$

$$10 - 3 - 1 = 6$$

$$\frac{10 - 4 = 6}{}$$

$$10 - 1 - 3 = 6$$



$$5 + 4 = 9$$

$$5 + 2 + \boxed{2} = 9$$

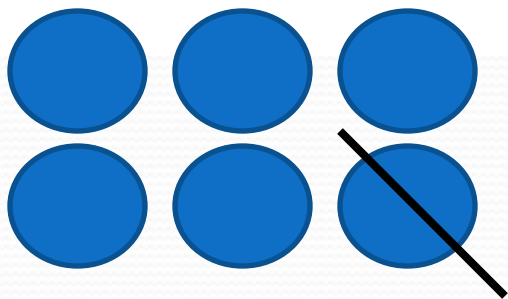
$$8 - 4 = 4$$

$$8 - 2 - \boxed{2} = 4$$

$$4 + 4 = 8$$

$$4 + 2 + \boxed{2} = 8$$

2. Мама положила в салат 3 яйца, а в тесто на 1 яйцо меньше. Сколько яиц мама положила в тесто?



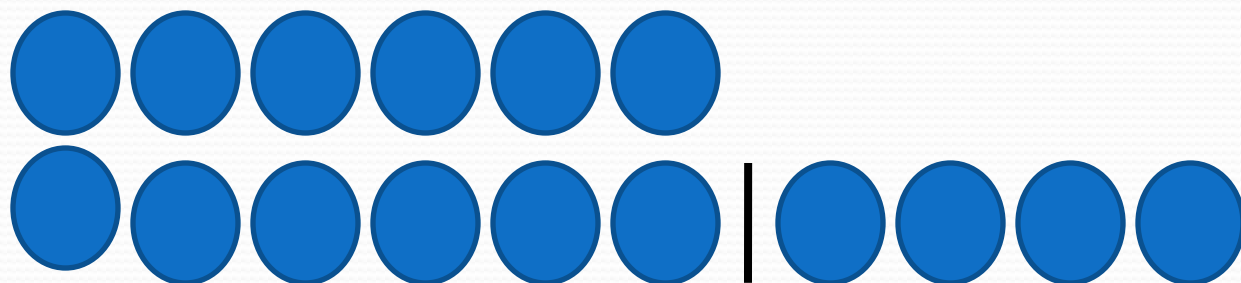
В салат – 3 яйц.

В тесто - ?, на 1 яйц. меньше

$$3 - 1 = 2 \text{ (яйц.)}$$

Ответ: 2 яйца.

3. Ане 6 лет, а Вера на 4 года старше.
Сколько лет Вере?



$$6 + 4 = 10 \text{ (л.)}$$

Ответ: 10 лет.