




5




7




3



$$12 : 3 = 4 \text{ (CM)}$$



$$12 : 6 = 2 \text{ (CM)}$$




$$12 : 3 * 2 = 8 \text{ (CM)}$$





- В книге 96 страниц.
Маша прочитала $\frac{3}{8}$
книги. Сколько страниц
прочитала Маша?

- В книге 96 страниц.
Маша прочитала $\frac{3}{8}$
книги. Сколько страниц
осталось прочитать Маше?



- 1). $96 : 8 * 3 = 36$ (с.) – прочитала
 - 2). $96 - 36 = 60$ (с.) – осталось прочитать Маше.
- Ответ: 60 страниц.**



3





Участок прямоугольной формы имеет длину 8м и ширину 3м. $\frac{3}{6}$ площади его засажена смородиной. Какая площадь участка засажена смородиной?

5



7



3



8 | 3



8 | 3