

Йолдызлы сәгатъ





1 тур



● 1. Л. Эйлер
кайсы илдә
туган?

1. Англия
2. Германия
3. Индия
4. Россия
5. Франция
6. Швейцария

2. Л. Эйлер үзенең эшчәнлеген кайсы илнең академиясендә башлап җибәргән?

1. Англия
2. Германия
3. Индия
4. Россия
5. Франция
6. Швейцария



3. Кайсы ил Эйлерга күп тапкыр премия биргән?

1. Англия
2. Германия
3. Индия
4. Россия
5. Франция
6. Швейцария



4.Эйлер 25 ел буюу кайсы илнең академиясендә эшләгән?

1. Англия
2. Германия
3. Индия
4. Россия
5. Франция
6. Швейцария



5. Леонард Эйлерның каберлеге кайсы илдә?

1. Англия
2. Германия
3. Индия
4. Россия
5. Франция
6. Швейцария




- 2 тур

- 1. Л. Эйлер ничәнче елда туган?



- 1. 1741
- 2. 1783.
- 3. 1707
- 4. 1727
- 5. 1733
- 6. 2007

2. Л. Эйлер Россиягә кайсы елда килгән?



1. 1741
2. 1783.
3. 1707
4. 1727
5. 1733
6. 2007


3. Эйлер ничэнче елда өйлэнгэн?



- 1.1741
- 2.1783.
- 3.1707
- 4. 1727
- 5.1733
- 6. 2007

4. Эйлэр Россиядэн ничэнче елда киткэн?

- 1.1741
- 2.1783.
- 3.1707
- 4. 1727
- 5.1733
- 6. 2007



5. Л. Эйлерның тууына кайчан 300 ел булды?




- 1.1741
- 2.1783.
- 3.1707
- 4. 1727
- 5.1733
- 6. 2007




6. Эйлер ничэнче елда үлө?



- 1.1741
- 2.1783.
- 3.1707
- 4. 1727
- 5.1733
- 6. 2007




3 тур

- 1. Эйлерның портретты қайсы?
1; 2; 3






2. 3 яшендә телдән ис
математик?



3. Казан дәүләт университетының беренче ректоры?



4. Мәктәптә кем геометриясе өйрәнелә?



5. "Математика фәннәр патшасы, ә арифметика математика патшасы" дигән сүзләрне кем әйткән?

4 тур

1. Эйлер фәннәр академиясенең

премиясе белән ничә тапкыр бүләкләнгән?


1.12

2.72

3.600

4.880

5.3000



2. Эйлер ниччә пар дус саннар тапкан?



- 1. 12
- 2. 72
- 3. 59
- 4. 880
- 5. 3000
- 6. 600



3. Эйлерның хезмәтләре ничә томда басылган?



1.12
2.72
3.600
4.880
5.3000

4. *Һәр томы ничә битле?*

1.12

2.72

3.600

4.880

5.3000



5. Эйлер ничэ фәнни хезмэт язган?




1.12

2.72


3.600

4.880

5.3000



6.Эйлердан соң ничә фәнни
хат калган?




1.12

2.72

3.600

4.880

5.3000



5 тур



*1 минут өчендә иң күп
математик терминнар
язырга*



Финал



*“Тригонометрия”
сүзөндөгө хэрэфлэрдэн
сүзлэр төзөргө*