

5+++

**ЖАС
МАТЕМАТИКТЕ
Р!!!**



Сайысымыздың негізгі

мақсаты:

**Оқушыларға әртүрлі
математикалық ойын
тапсырмаларды орындату
арқылы білімдерін, одан әрі
тереңдету.**



Кезеңдері:

I.

• Таныстыру

II.

• Тапқырлық сайысы

III.

• Сөзжұмбақ сайысы

IV.

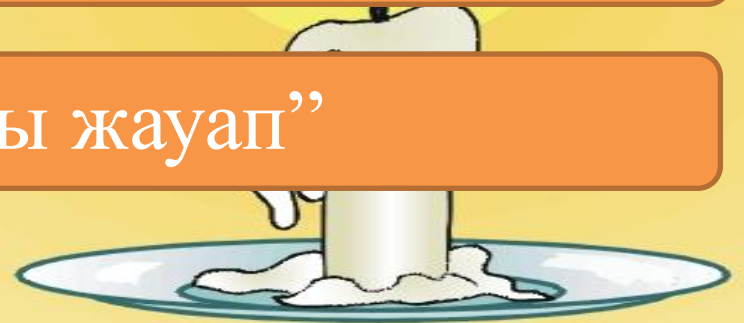
• Үй тапсырмасы “Математикалық көрініс”

V.


• Аудио сұрақ “Ертегі есеп”

VI.

• “Ұшқыр ойдан-ұтымды жауап”



I - кезең
Танысты
ру



II - кезең

**Тапқырлар сайысы
“Логикалық
сұрақтар”**



**1-
ТОП**

**1-
сұрақ**

**Егер тырна бір
аяғымен тұрса 3 кг
болады, ал екі аяғымен
тұрса оның салмағы
қанша?**

Жауабы



3 кг



**2-
сұрақ**

**Асханаға 100 кг пияз
және одан 3 есе артық
картоп әкелінді.
Асханаға неше кг
картоп әкелінді?**

Жауабы



300 КГ



**3-
сұрақ**

**Ең алғашқы әйел
математик**

Жауабы



С.Ковалевская



**4-
сұрақ**

**Төрт қойдың
неше аяғы бар?**

Жауабы



16
аяк



**5-
сұрақ**

**Ағаш үстінде 100 торғай
қонып отырған. Аңшы 10
торғайды атып алды.
Торғайдың қаншасы
қалды?**

Жауабы



**10 торғай,
себебі қалған
торғайлар
ұшып кетеді**



**II -
ТОП**

1-

сұрақ

**Бөлменің төрт бұрышында
бір-бір мысықтан отыр. Әр
мысықтың алдында үш
мысықтан отыр. Бөлмеде
барлығы қанша мысық бар?**

Жауабы



4

МЫСЫҚ



**2-
сұрақ**

**Үстел беті төртбұрышты
оның бір бұрышын арамен
кесіп алсақ, неше бұрыш
қалады?**

Жауабы



5

бұрыш



**3-
сұрақ**

**Бір жанұяның бес ер баласы
және олардың
әрқайсысының
қарындастары бар.
Жанұяның қанша баласы
бар?**

Жауабы



6 бала



**4-
сұрақ**

**Үш түйекұс ұшып келе жатты.
Аңшы олардың бірін атып
алды. Олардың қаншасы
қалды?**

Жауабы



**Түйеқұстар
үшпайды**



5-

сұрақ

**Қосарланып жегілген үш
бір сағаттың ішінде 12 км
жол жүрді. Осы уақыттың
ішінде бір ат қанша жол
жүрген?**

Жауабы




12 KM



III - кезең

Сөзжұмбақ сайысы





1. Бір нүктеден таралған екі сәуледен құралған фигура
2. Қандай түзулер қиылыспайды?
3. Шеңбердің центрінен оның бойында жатқан нүктеге дейінгі қашықтық
4. Өзі бір қарыс, бойында жатыр 25 арыс
5. 180^0 -қа тең бұрыш



ҮІ - кезең

**Үй тапсырмасы
“Математикалық
көрініс”**



Ү - кезең

Аудио сұрақ

Ертегі есеп:

“Ұрылар мен кемпір”





Сұрақ



Жауабы:

ҮІ - кезең

“Ұшқыр

ойдан-

ұтымды

жауап”





I-тапсырма

II-тапсырма

III-тапсырма

ҮІ-тапсырма



Сұрақ



Жауабы:





Сұрақ



Жауабы:





Сұрақ



Жауабы:





Сұрақ



Жауабы:



Назарларыңы

зға

Рахмет!!!

