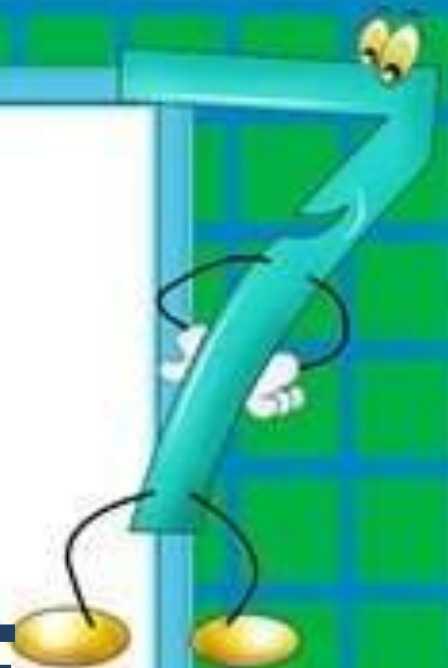


КВН

ПО

МАТЕМАТИКЕ

3 КЛАСС



Математика-
царица наук,
арифметика-
царица
математики.
К. Гаусс



ПРИВЕТСТВИЕ

КОНКУРС «РАЗМИНКА»

КОНКУРС «РЕБУСЫ»

КОНКУРС «РЕШИ ЗАДАЧКУ»



КОНКУРС КАПИТАНОВ КОМАНД

КОНКУРС «ГЕОМЕТРИЧЕСКИЙ ТУРНИР»

КОНКУРС «ЛОГОГРИФЫ»

КОНКУРС «ЧИСЛА В ПОСЛОВИЦАХ
И ПОГОВОРКАХ»

КОНКУРС « МАТЕМАТИЧЕСКИЕ ЗАГАДКИ»

ПОДВЕДЕНИЕ ИТОГОВ



1 команда

**ДВЕ САРДЕЛЬКИ ВАРЯТСЯ 6 МИНУТ.
СКОЛЬКО ВРЕМЕНИ ВАРЯТСЯ
8 ТАКИХ САРДЕЛЕК?**


ОТВЕТ



2 команда

ШЛА ДЕВОЧКА В МОСКВУ И ПОВСТРЕЧАЛА ТРЁХ МАЛЬЧИКОВ. КАЖДЫЙ ИЗ НИХ НЁС ПО МЕШКУ, В КАЖДОМ МЕШКЕ ПО КОТУ. СКОЛЬКО СУЩЕСТВ НАПРАВЛЯЛОСЬ В МОСКВУ?

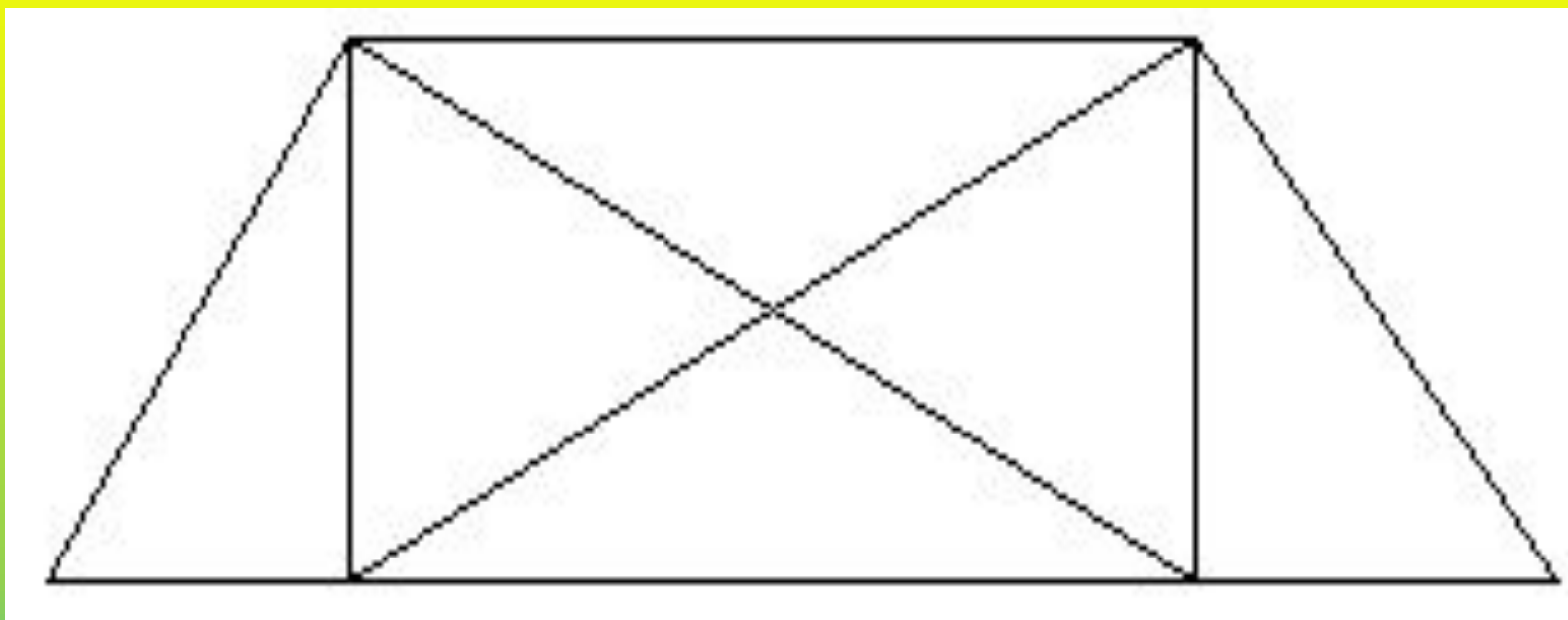
ОТВЕТ



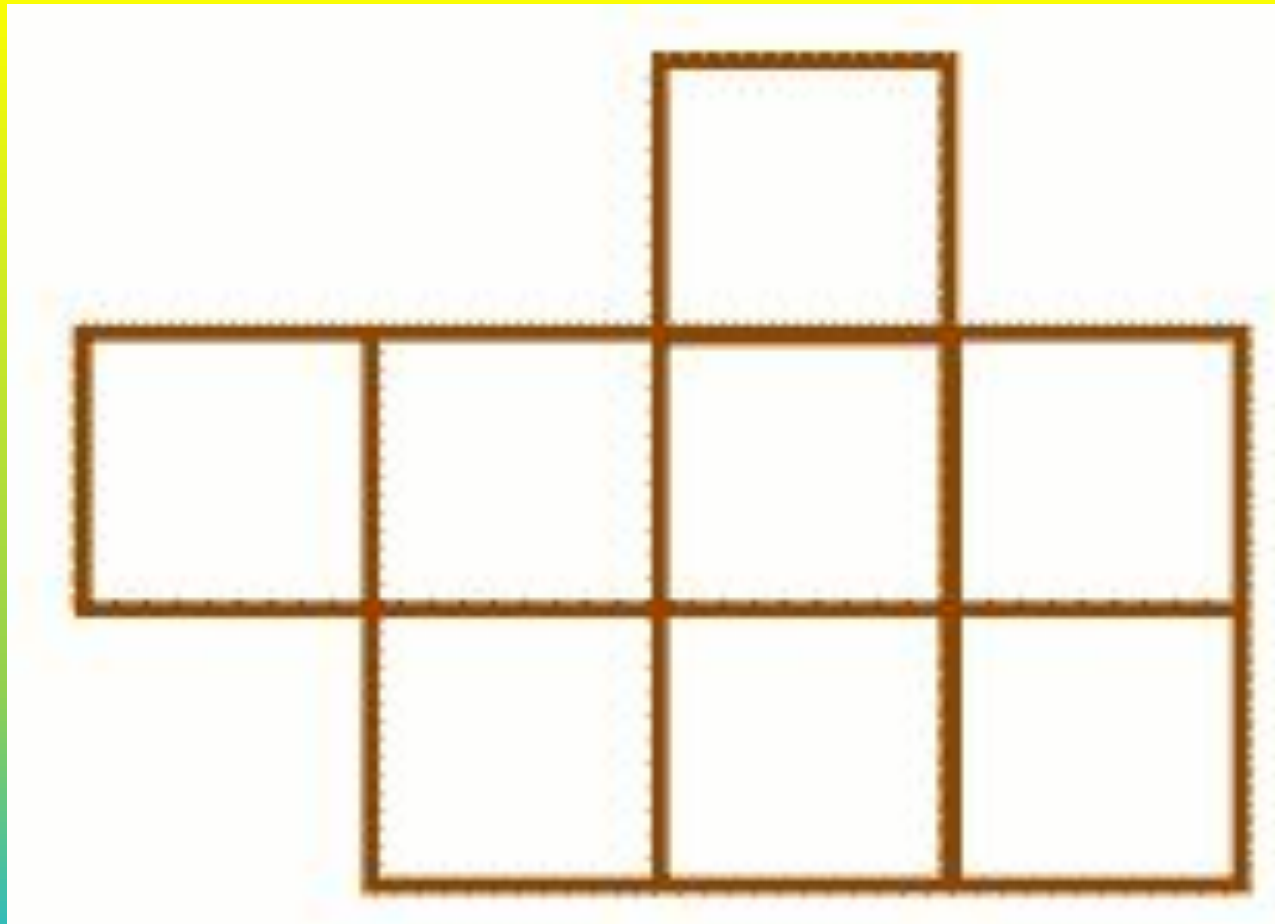
3 команда

1. Росло 4 березы. На каждой березе по 4 большие ветки. На каждой большой ветке по 4 маленькие. На каждой маленькой ветке по 4 шишки. Сколько всего шишек?

Сосчитай треугольники



Разделить фигуру на две
равные части



1 команда

ПРЕ 100 Л

ОТВЕТ

АК 3 СА

ОТВЕТ

2 команда

100 ЛИЦА

ОТВЕТ

ПА 3 ОТ

ОТВЕТ

3 команда

КИС .

ОТВЕТ

100 ЛБ

ОТВЕТ



Молодцы!

