

МАТЕМАТИК
А


ВОССТАНОВИ ЧИСЛОВОЙ РЯД

1 2 3 4 5 6 7 8 9 10



В КАКОМ ПРИМЕРЕ ОТВЕТ БУДЕТ САМЫМ БОЛЬШИМ?

$6+1$	$8-2$	$10-2$
$6-3$	$8-3$	$9-2$
$6+2$	$8-1$	$8-2$



ПОСТАВЬТЕ ЗНАКИ < > =

1  10

6  9

1  7

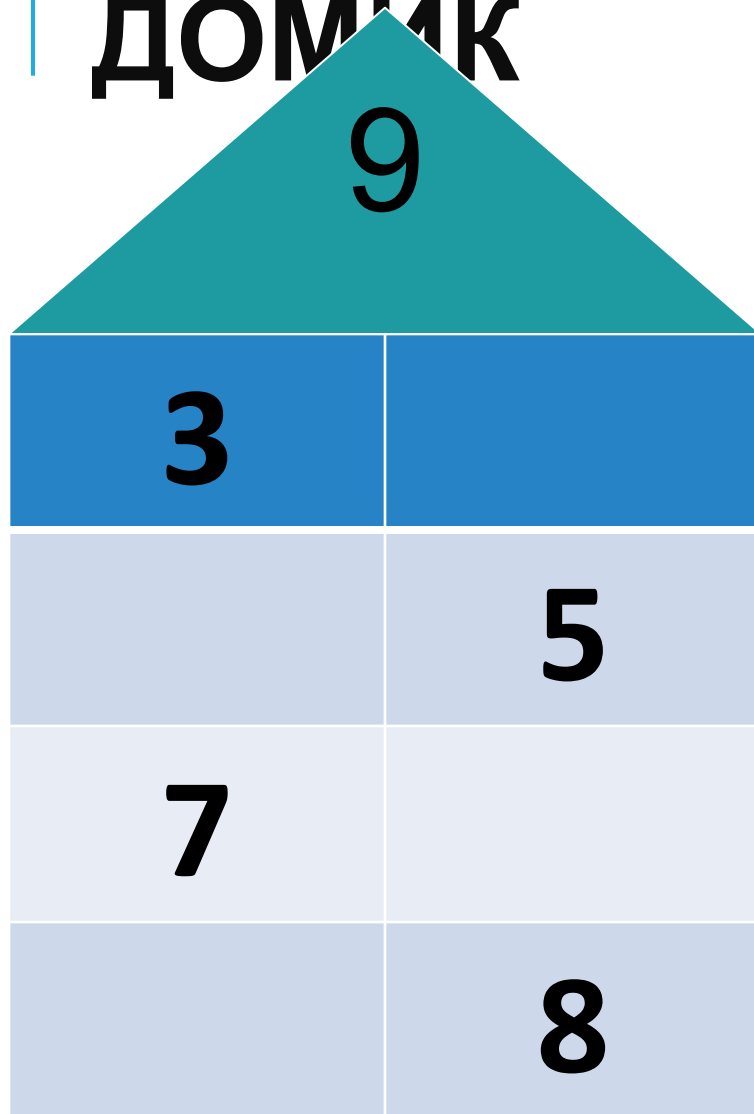
1 < 10

7 > 2

10 > 7



ПОМОГИ ЗАСЕЛИТЬ ДОМИК



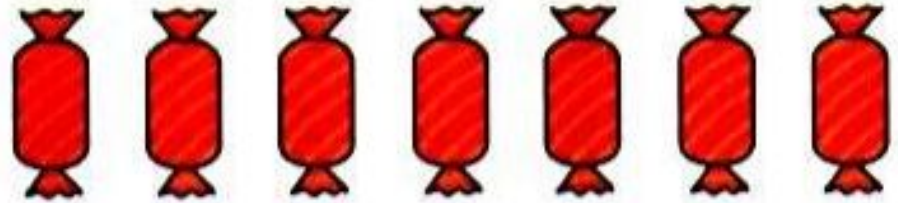
СТРАНИЧКИ ДЛЯ ЛЮБОЗНАТЕЛЬНЫХ

1. Через 7 лет Косте будет столько же лет, сколько Максиму сейчас. Догадайся, кто из мальчиков старше и на сколько лет старше.
2. На катке было 8 девочек и 5 мальчиков. Семь детей ушли с катка. Осталась ли на катке хотя бы одна девочка?



5. 1) У Даши и Люды было по 7 конфет. Даша отдала Люде 1 конфету. На сколько меньше конфет стало у Даши, чем у Люды?

У Даши



У Люды



- 2) У Даши и Люды было по 7 конфет. Сколько конфет Даша отдала Люде, если у Люды стало на 4 конфеты больше, чем у Даши?



5. У Васи было 10 р. После того как он купил блокнот, денег у него стало на 3 р. меньше. Сколько рублей теперь у Васи?
6. Проверь, правильно ли решены примеры.

$$6 + 3 = 10$$

$$7 + 2 = 9$$

$$8 - 3 = 5$$

$$9 - 2 = 6$$

$$0 + 3 = 3$$

$$1 + 0 = 10$$


Исправь ошибки и запиши верно.







12. Сейчас Диме 9 лет, а когда он поступил в школу, ему было на 2 года меньше. Сколько лет было Диме, когда он поступил в школу?



**СКОЛЬКО ИЗОБРАЖЕНО
ПРЯМОУГОЛЬНИКОВ?**



КАКОЙ ТРЕУГОЛЬНИК
ЛИШНИЙ?



**СПАСИБО
ЗА УРОК!**





ДАННАЯ ПРЕЗЕНТАЦИЯ
СОЗДАНА УЧИТЕЛЕМ
НАЧАЛЬНЫХ КЛАССОВ
ГБОУ ШКОЛЫ 1347
ЕФРЕМОВОЙ Ю.Е.