


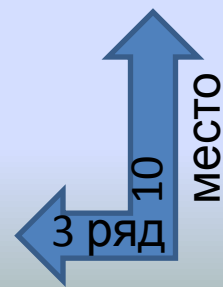
Чтобы правильно занять свое место в кинотеатре, нужно знать две координаты – **ряд** и **место**



ЭКРАН



Кинотеатр



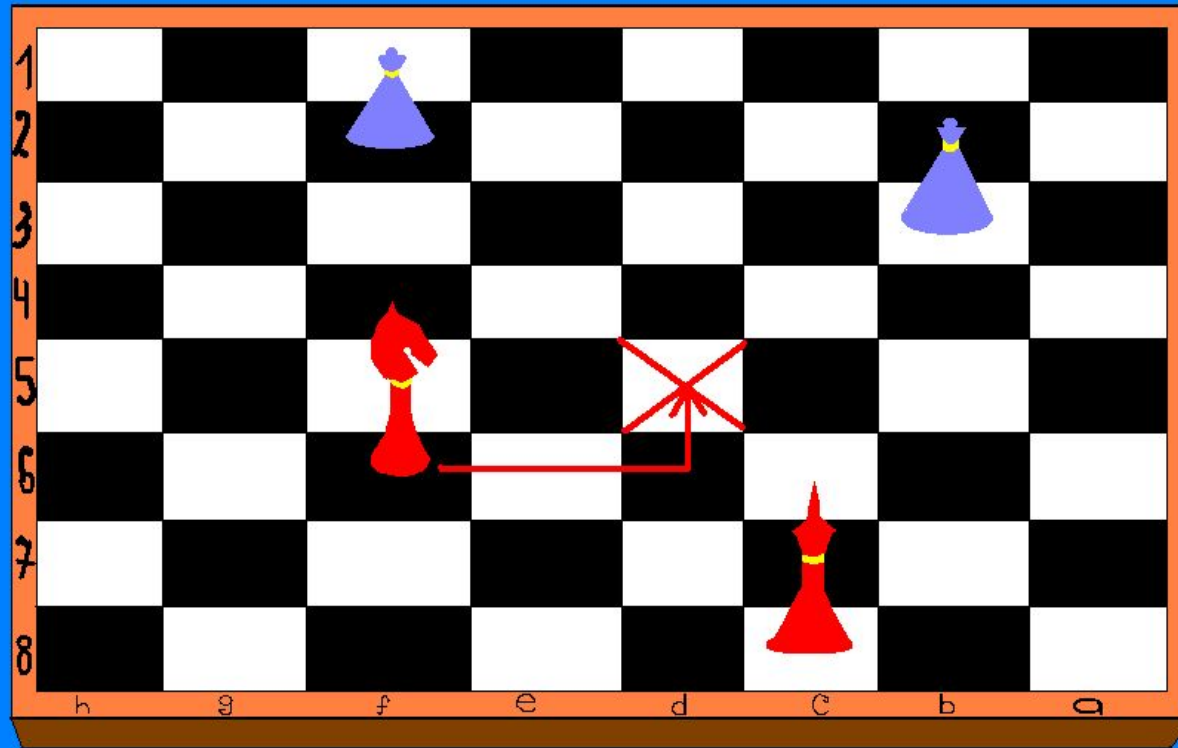
Морской бой

	А	Б	В	Г	Д	Е	Ж	З	И	К
1										
2										
3		×	×	×						
4		•								
5							•	×	•	×
6								•		
7		•								
8										
9										
10										

Г 5



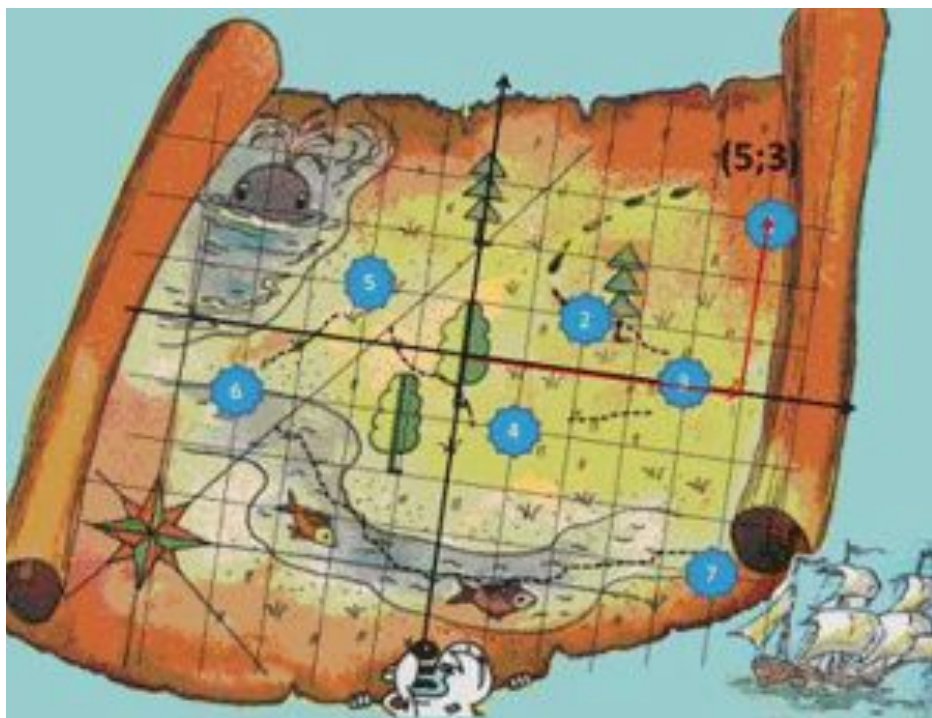
Шахматы



f6 → d5

С помощью координатной сетки летчики, моряки определяют местоположение объектов.





6 класс



**ПРЯМОУГОЛЬНАЯ (ДЕКАРТОВА)
СИСТЕМА КООРДИНАТ**

**начало
координат**

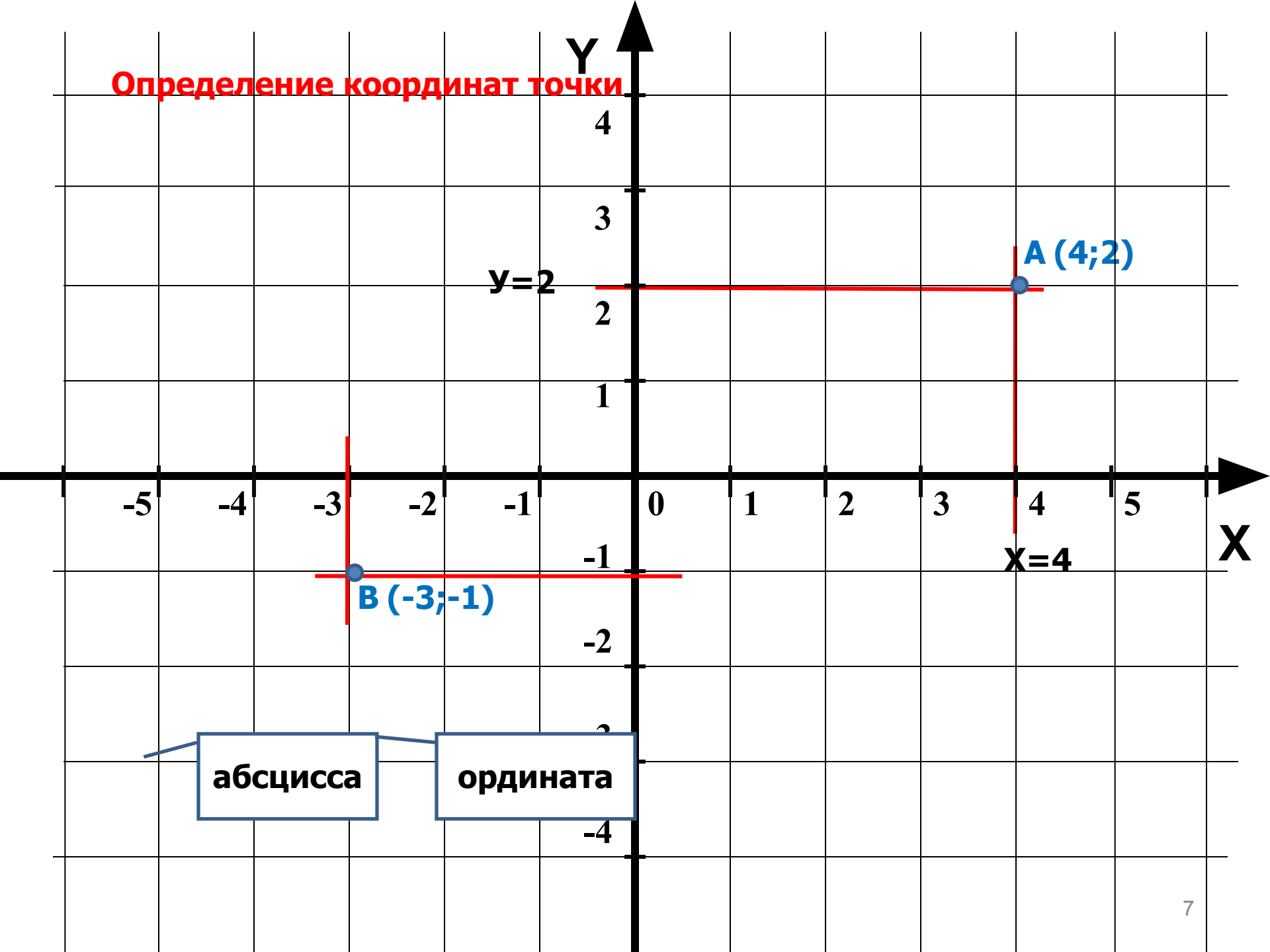
ось абсцисс

0

X

ось ординат

Определение координат точки



абсцисса

ордината

Определите координаты точек

Y

4

3

2

1

-1

-2

-3

-4

X

C (-5;0)

B (-4;3)

A (2;2)

D (-3;-2)

E (0;-2)

F (4;-1)

Построить фигуру, последовательно соединяя точки

- 1) $(-8; 1),$
 $(-6; 2),$
 $(-2; 0),$
 $(1; 2),$
 $(5; 1),$
 $(7; -4),$
 $(9; -3).$

- 2) $(-2; 6),$
 $(0; 8),$
 $(3; 7),$
 $(5; 5),$
 $(7; 7).$

- 3) $(1; 2),$
 $(3; 9),$
 $(4; 8),$
 $(5; 8),$
 $(6; 9),$
 $(6; 10),$
 $(5; 11),$
 $(4; 11),$
 $(3; 10),$
 $(3; 9).$

